


Jagoran Malamai

Lissafi

Aji2



Jagoran Malamai
Lissafi



Rights and Permission

These materials were created under the Partnership for Learning for All in Nigeria (PLANE) project, funded by UK aid. These materials were adapted from materials developed under three previous UK aid funded programmes in Nigeria - the Education Sector Support Programme in Nigeria (ESSPIN), the Teacher Development Programme (TDP) as well as the Reading and Numeracy Activity (RANA) as part of the Girls' Education Project Phase 3 (GEP3) – and materials from the USAID Addressing Education in Northern Nigeria (AENN) activity. Content from these sources were streamlined into a single materials package and revised to align with the Nigerian National Curriculum and endorsed by the Kano, Kaduna and Jigawa State Governments. These materials are licensed under the Creative Commons Attribution 4.0 International license.

Mallaka da Samarwa

An wallafa waɗannan kayan aiki ne a karkashin shirin haɗaka don samar da ilmi ga kowa da kowa, wato 'PLANE' da tallafi daga hukumar bayar da tallafi ta kasar Ingila, wato (UK aid). An samar da waɗannan kayan aiki ne ta hanyar 'yan sauye-sauye daga kayan aiki uku da hukumar bayar da tallafi ta kasar Ingila (UK aid) ta tallafa wajen aiwatar da su a Nijeriya a baya wato, tallafi ga bangaren ilimi a Nijeriya (ESSPIN) da shirin inganta malami a Nijeriya (TDP) da kuma shirin inganta karatu da lissafi (RANA) wanda aka gudanar karkashin shirin inganta ilimin 'ya'ya mata na 3 (GEP 3), sai kuma kayan aiki na shirin bunkasa ilimi a arewacin Najeriya (AENN) wanda hukumar bayar da tallafi ta kasar Amurka ta yi wato, USAID. An dai tattara bayanan da aka samo daga kayayyakin aiki dabam daban da aka ambata a sama zuwa cikin wannan kundin guda ɗaya na kayan aiki wanda masana a fagen ilmi suka tabbatar da dacewarsa da tsarin manhajar koyon karatu da karantarwa ta Nijeriya sannan kuma da amincewar Gwamnatoцин Jihohin Kano da Kaduna da Jigawa. Kayan aikin na da lasisi ne a karkashin tsarin bai ɗaya na mallaka mai lamba 4.0 na kasa da kasa.

Wadanda Suka Bayar da Gudunmuwa (List of Contributors)

Suna - Name	Wurin Aiki - Organisation
Federal Partners	
Nafi' u Adamu	Federal Ministry of Education, Abuja
Dr. Aminu Saidu	Nigerian Educational Research & Development Council
Abdurrazak Shehu	Universal Basic Education Board, Abuja
Bala M. Tatama	National Commission for Mass Literacy, Adult & Non-Formal Education
Auwalu Hamza	Partnership to Engage Reform and Learn (PERL), Kano
Kaduna	
Dr. Yahuza Salmanu	Federal College of Education, Zaria
Najmuddeen Alhassan	Federal College of Education, Zaria
Mercy B. Kude	Ministry of Education, Kaduna
Tanko S M Aliyu	State Universal Basic Education Board, Kaduna
Abubakar Umar	State Universal Basic Education Board, Kaduna
Pikawi Iliya Dauda	Kaduna State College of Education, Gidan Waya
Hauwa Maidala	Kaduna State Quality Assurance Authority
Garba Mohammed	LGEA Primary School, Unguwar Dankande, Igabi LGA, Kaduna
Kano	
Dr. Miswaru Bello	Sa'adatu Rimi College of Education, Kano
Zuwaira Yahaya	Sa'adatu Rimi College of Education, Kano
Muhammad Bello Gaya	State Universal Basic Education Board, Kano
Mohammed Yahaya	Kano Educationa Resource Department
Salisu Idris	Ministry of Education, Kano
Amina Umar	State Universal Basic Education Board, Kano
Munzali Mustapha	State Universal Basic Education Board, Kano
Dr. Kabir Hamisu Kura	Community Development Initiative, Kano
Wasila S. Jauro	Hotoro South, Special Primary School, Kano
Umar Shariff Ibrahim	State Universal Basic Education Board, Kano
Ibrahim L. Abdul	Aminu Kano College of Islamic and Legal Studies, Kano
Nuruddeen Dahiru	State Universal Basic Education Board, Kano
Dr. Atika Bala	Aminu Kano College of Islamic and Legal Studies
Dr. Auwalu Halilu	Civil Society Coalition on Education for All (CSAFECA), Kano
Baffa Sale	State Universal Basic Education Board, Kano
Tijjani Haladu B	School Based Management Committee, Kano
Jigawa	
Hamisu Iliya	State Universal Basic Education Board, Jigawa
Abdu Ahmed Ciroma	State Universal Basic Education Board, Jigawa
Dr. Sani Abdullahi	College of Education, Gumel
Dr. Binta U. Umar	College of Education, Gumel
Murtala Bala Sule	Roni Primary School, Roni
Habu Musa Lawal	Ministry of Education, Jigawa
Babangida Haruna	State Universal Basic Education Board, Jigawa
Arma Mohammad	Nasaro Primary School, Gumel
Consultants	
Dahiru Yalwa	Consultant Translator, College of Education, Azare
Dr. Naziru Ibrahim Abbas	Consultant Translator, Usmanu Danfodio University, Sokoto
Adamu Ago Saleh	Consultant Translator, Amadu Bello University, Zaria

Godwin Ondoma	Consultant Graphic Designer
Aliyu Sani Rafindadi	Consultant Graphic Designer
John Norj Akanbi	Consultant Illustrator
Lisa Walker	Curriculum Writer
Bethany Davidson-Widby	Curriculum Writer
PLANE Staff	
Dr. Grace Bila	Inclusion Advisor, PLANE
Hadiza Umar	Gender Equality and Social Inclusion Specialist, PLANE
Lawan Ali Bukar	Technical Officer, Materials Development, PLANE Kaduna
Nura Garba Bakori	Technical Officer, Teacher Professional Development, PLANE Kaduna
Abubakar Umar	Technical Officer, Materials Development, PLANE Kano
Shu'aibu Mohammed Dabo	Technical Officer, Teacher Professional Development, PLANE Kano
Phoebe Mshelia	Technical Officer, Materials Development, PLANE Jigawa
Sulaiman Muhammad Bakori	Technical Officer, Teacher Professional Development, PLANE Jigawa.
Gabriel Yakubu	Maths Officer, PLANE Abuja
Zahra Abubakar Maishanu	Literacy Officer, PLANE Abuja
Innocent Chukwu	Monitoring and Evaluation Specialist, PLANE Abuja
Zainab Isah Arah	State Technical Advisor, Kano
Awal Mohammed	State Technical Advisor, Jigawa
Salim Sadiq	State Technical Advisor, Kaduna
Mustapha B Ahmad	State Team Lead, PLANE Jigawa
Lawan Umar	State Team Lead, PLANE Kano
Diana Agabi	State Team Lead, PLANE Kaduna
Caitlin Downs	HQ Technical Officer, Education
Edward Ishaku	Education Coordinator/ Interim Output 1 lead, PLANE
Emily Koester	HQ Technical Advisor, PLANE

Gabatarwa

An samar da wannan Jagoran Malamin ne tare da tallafin Shirin hadaka domin bunkasa ilmi ga kowa da kowa (PLANE), da Ofishin kula da bayar da tallafi da ci gaba na Kasar Birtaniya (FCDO). Jihohin da a yanzu za a bai wa fifiko su ne jihohin Kano da kaduna da kuma jihar Jigawa. Har wa yau, wannan Jagorar Malamin ya samu sanya albarkar masu fada- a-ji a harkar ilmi tun daga matakin Gwamnatin Tarayya da na jihohi. Hukumomi kamar Majalisar gudanar da bincke da ci gaban ilmi NERDC da Hukumar lura da shirin bayar da ilmi na bai daya ta kasa UBEC da Ma'aikatun kula da ilimi na jihohi da kuma hukumomin bayar da ilmi na bai daya da ke jihohin Kano da Kaduna da Jigawa duk sun sanya wa Jogorar albarka.

Yadda za a yi amfani da Jagoran Malamai

Wannan Jagoran Malamin na dauke ne da tsarin gabatar da darussan lissafi a kowacce rana. Bugu da kari, tsarin karantar da darasin lissafi da ke cikin Jagoran ya yi daidai da tsarin manhajar karantarwa da Majalisar gudanar da bincke da ci gaban ilmi ta kasa wato, NERDC ta amince da shi. Tsarin gabatar da darussan karatu kamar dai yadda yake kunshe a cikin Jagoran, yana dauke da tsarin darussan ne na tsawon makwanni talatin da shida (36). Haka kuma, an rarraba waɗannan darussan ne zuwa zango uku na shekarar karatu. Kowanne mako na dauke da adadin yawan darussa biyar. Darussan da za a gabatar a mako na shida da mako na goma sha biyu na kowanne zangon karatu sun kunshi waiwaye ne a kan darussan da aka gabatar a baya da kuma auna fahimtar dalibai.

Shi dai tsarin gudanar da darasin yana dauke ne da sassaukar hanyar koyarwa da ta kunshi Fara darasi da yin waka da Koyo da Bayyanawa da Aikin Gida. Wannan tsarin yana saukaka koyo da koyarwa sannan ya samar da yanayin maimaici mai sauki ga dalibai.

- **Fara darasi:** Fara darasi da motsa jiki ko rera waka wata dabara ce ko salo na janyo hankalin dalibai kafin a fara aiwatar da darasin wannan rana. Irin wannan dabara ko salo kan kunshi rera waka ko wasan kacici-kaci da kuma duba aikin gidan da aka bai wa dalibai su yi a gida.
- **Koyo:** Ita dai wannan dabara tana taimaka wa dalibai ne wajan fahimtar wasu sababbin dabarun koyon karatu. Wannan tsarin koyon, malami ne ke jan linzamin gabatar da sabuwar dabarar koyon.
- **Gwaji:** Wannan salo na nuna kwarewa da fahimtar dalibai kan abin da aka koyar. Kuma yakan ba daliban dama ta musamman domin su kwakwayi aiwatar da wannan sabuwar hanyar koyo kamar dai yadda malamin nasu ya/ta kwatanta musu. Salon gwajin yakan kunshi dalibai ne ke tafiyar da komai a yayin da Malami zai/za ta sanya ido ya/tana ganin abin da kowa ke yi.
- **Bayyanawa:** Wannan salon na bai wa dalibai damar bayyana abin da suka koya daga darasin da malami ya koyar. Hakan, zai ba Malaman zarafin gane ko daliban sun fahimci darasin da aka yi ko a'a.
- **Aikin Gida:** Wani salo ne da Malami kan bai wa dalibai aiki su yi a gida. Yana da matuƙar muhimmanci Malamai su riƙa karfafa wa dalibansu gwiwa da su riƙa yin aikin gidan da aka ba su saboda ci gaban ilmin yara yakan ta'allaka ne ga irin karin nazari da koyo da daliban kan yi bayan a tashi daga makaranta.

Muna fata wannan Jagora zai taimaka wa Malamai su riƙa gabatar da darussa nagartattu da zai ba yara damar bayar da gudumawarsu a lokacin koyar da darussa. Har wa yau, ana buƙatar Malamai su yi amfani da hikima da basirarsu don kara saukaka wa dalibai fahimtar abin da suke koyar da su.

Muhimman Bangarorin Lissafi

Bangare	Ma'ana	Misalai
Fahimtar Lambobi	Fahimta da nuna kwarewa wajen iya tantancewa da kuma iya amfani lambobi daban daban.	<ul style="list-style-type: none"> • Karanta sunayen lambobi da kuma rubuta su. • Kirga lambobin zuwa gaba da baya • A san muhimmanci da kimar kowace lamba
Matakan yin lissafi.	Nuna kwarewa wajen iya bin matakan lissafi daban daban.	<ul style="list-style-type: none"> • Tarawa • Debewa • Rabawa • Sau/Ninkawa
Ilmin sanin zubi da tsarin da'irori/siffofi	Nuna fahimta da kwarewa wajen iya tantance zubi da tsarin da'irori/siffofi daban daban	<ul style="list-style-type: none"> • Nuna fahimta da iya tantance da'irori • Iya zana da'irori • Iya kwatantawa da banbance da'irori • Iya auna tsawo ko faɗin da'irori/siffofi
Ilmin iya sanin awo ko yawan adadin wani abu	Nuna fahimta da kwarewa wajen iya sanin girma ko yawan adadin wani abu	<ul style="list-style-type: none"> • Kudi • Lokaci • Tsayi • Faɗi • Girma/Nagarta • Karbowwa da tantance yawan alkaluman da za a iya amincewa da su.
Tantance zubi da tsarin lambobi daban daban.	Ilmin iya fahimta da tantance zubi da tsarin da kuma dangantakar da ke tsakanin lambobi daban daban.	<ul style="list-style-type: none"> • Kirkira da maimaita matakan lambobi da zana da'irori/siffofi • Kintatatar lambar da za ta biyo bayan wadda ake magana a kai. • Cike gibin lambobin da ba a sanya ba.

Nagartacciyar Hanyar Karantar da darasin Lissafi

- **Hanyoyi ko dabarun daban daban na gabatar lissafi:** Yana da matuƙar muhimmanci ɗalibai su san hanyoyi ko dabarun koyon lissafi daban daban domin su samu ƙarin gogewa a bangaren na lissafi. Alal-misali, ɗalibai kan iya wakiltar lamba ko fasalin lissafi ta hanyar hotuna da taswira da wani abu a zahiri ko kuma labari.
 - **Wadataccen lokacin yin gwaji:** Yin nazari ko bita a- kai-a-kai na taimaka wa ɗalibai wajen kara kwarewa a fannoni daban daban na koyon lissafi. Yana da kyau ɗalibai su fuskanci iya warware wasu matsalolin tarawa ko debewa ko rabawa da makamantansu a lokacin da suke makaranta ko idan sun dawo gida.

Alakanta lissafi da rayuwar ɗalibai: Yana da matuƙar muhimmanci malamai su nuna wa ɗalibansu yadda za su rika yin amfani da salo daban daban wajen koyon darasin lissafi har ya zama jiki a gare su. Kafan daga cikin ire-iren waɗannan salo sun haɗa da koyon sanin adadin kaya da za a saya ko kudi da za a kai wa wani a kasuwa ko kuma ɗalibi ya iya sanin yawan adadin takawar da ya/ta yi daga gida zuwa makarantarsu.

Dokoki na bai-ɗaya don shigar da dukkan dalibai a cikin darasi

1. A riƙa kiran ɗalibai da sunayensu a yayin da za su amsa tambaya ko domin su gwada yin wasan kwaikwayo na wani labari.
2. A lokacin da ake gabatar da wasan kwaikwayon labarin a gaban aji, a tabbatar kowane rukunin ɗalibai sun sami dama domin su ma su gwada (kamar maza da mata da ɗalibai masu bukata ta musamman).
3. A duk lokacin da ɗalibai ke aiki a cikin kananan rukunoni a aji, a riƙa sauya ɗaliban da suke jagorancinsu lokaci zuwa lokaci (wani lokaci namiji, wani lokaci mace, wani lokacin daga cikin ɗalibai masu bukata ta musamman).
 - A tabbatar da cewa ana bai wa ɗalibai masu bukata ta musamman damar aikin rarrabawa ɗalibai littafai ko abubuwan kiɗaya da sauran kayan aikin da ake bukata wajen gudanar da darasi.
4. A lokacin da ake zazzagayawa a cikin aji domin tallafawa ɗalibai da auna fahimtorsu, a tabbata ana sauya ɗaliban da ake tambaya a kowace rana domin a bai wa kowa dama ya faɗi amsarsa.
5. Idan ɗalibai suna shan walaha wajen fahimtar darasi, yi amfani da wasu dabarun koyarwar da za su saukaƙa fahimta, a kuma riƙa yabawa ɗalibai akai- akai.

Kai ɗauki ga buƙatun Dalibai

1. *Idan dalibai suna da matsalar gani (ido). Sai...*

- A sauya masu wurin zama zuwa gaban aji.
- A haɗa su da wani/wata ɗalibi/ɗaliba a matsayin aboki/kawa a cikin karamin rukuninsu, wanda za su riƙa tallafa masu wajen fahimtar aikin da aka bayar kafin su fara aiwatar da aikinsu na su kaɗai.
- A kama hannayen ɗalibai masu matsalar gani domin tallafa masu. Misali a nuna masu yadda za su yi amfani da yatsun hannu wajen kiɗaya, a darasin lissafi.
- A tabbatar ɗalibai suna amfani da layin lambobi da kuma jadawalin lambobi na ɗaya zuwa ɗari da ke cikin littafin ɗalibai domin ya taimaka masu wajen fahimtar abin da aka rubuta a allo.

2. *Idan dalibai suna fama da matsalar saurare (ji) a lokacin aka ke magana da su, sai..*

- A tabbata ana kallon ɗalibai a lokacin da ake rera waƙoƙi, kuma a daina ba su baya.
- Umurci ɗalibai su kalli bakinka/ki a lokacin da ka/kike furta kalmomin da ke cikin waƙar.
- A nuna hoton da ke jikin waƙar domin taimaka wa ɗalibai su fahimci abin da waƙar ta kunsu.

3. *Idan dalibai suna buƙatar karin taimako da zai sa su kewaye a cikin aji don nemo abubuwan kiɗaya ko kuma zuwa wajen aji. Sai...*

- A taƙaita neman kayan aikin a muhallin da ɗalibai suke.
 - Dalibai za su iya jagorantar rera waƙa a lokacin da aikin ke gudana daga kowane ɓangare na aji. Daliban da ke jagorantar waƙar za su tsaya a rukuninsu yayin da sauran ɗaliban aji za su juya fuskokinsu gare su.
 - A riƙa zagayawa a cikin aji a lokacin da ake koyarwa. Duk da cewa Allo yana gaɓan aji, ba tilas bane kowane gwaji da malami zai yi sai ya kasance a gaban allo ba. Misali a

darasin kidaya za a iya zuwa kowane ɓangare na aji, a nemi wani rukunin ɗalibai da su tashi domin kirga adadinsu.

- A wakilta wasu daga cikin ɗalibai su zama masu bayar da tallafi a kowane rukunin ɗalibai.
 - Ɗalibai masu tallafawa za su taimaka wa sauran ɗalibai wajen tattara littafansu ko su jagoranci sauran ɗaliban zuwa wani ɓangare na aji domin gudanar da wani aiki da aka ba su. A karfafa aikin haɗaka tsakanin ɗalibai da ba su damar gudanarwar a tsakaninsu.
- A ba wa ɗalibai ayyuka na musamman a rukuninsu da zai ba kowannesu damar shiga a ciki, ba tare da bukatar sai an fita wajen aji ba.
 - A lokacin da ake tattara guntayen itatuwa domin samar da ɗaurin goma-goma. Za a iya ba wa ɗaliban aikin kidaya kowane ɗauri su tabbaatar da itatuwan sun cika daidai, su ɗaure, su kuma yabawa sauran ɗaliban da aka ba wa aikin tsintar itatuwan.
 - Maimakon a umurci dukkan ɗalibai su fita waje domin nemo surorin abubuwa kamar da'ira ko akwati, za a iya ba su damar gudanar da wasan '**Na gani**' a cikin aji. Ɗalibai su duba duk wani abu da suke iya samowa a cikin aji, masu siffofi daban-daban su zana su a cikin littafansu na rubutu.

4. Idan ɗalibai suna bukatar karin tallafi domin mayar da hankali ga aikin da aka basu. Sai...

- A jawo hankalinsu zuwa ga allo, a kan duk wani zane ko hoton da zai tallafawa darasin.
 - A lokacin rera waƙa, nuna kowace kalma ko hoto da ke da alaƙa da waƙar, musamman a yayin rera sabuwar waƙa a karon farko.
 - A lokacin da ake nuna abubuwa daban-daban a kan allo, nemi ɗalibai su karanta bayan ka karanta.
 - A bai wa ɗaliban da ba sa mayar da hankali wani aiki na musamman a cikin aji ko a rukuninsu domin karfafarsu su mayar da hankali a kan aikin aji.
 - A karfafa haɗa ɗalibai kanana da manya wuri ɗaya, domin su tallafa masu shiga a cikin aikin da aka ba su.

5. Idan ɗalibai suna bukatar karin tallafi a kan kidayar lambobi. Sai...

- A ba su dama su fara yin kidayar da abokansu a cikin rukuninsu, kafin su yi su kaɗai.
- A samar da wani abu na zahiri kamar itatuwa ko duwatsu ko murfin kwalabe da sauransu da zai ba wa ɗalibai damar tabawa su lissafa da kansu domin karfafa fahimta a kan lambobi.
- Umurci ɗalibai su yi amfani da hannayensu da wasu sassan jikinsu ko adadin ɗalibai da ke rukuninsu wajen aikin kirge.
- A madadin saka ɗalibai su yi kidaya da takun kafa, za a iya ba su umurni su kirga adadin kiftawar idanunsu ko tafi ko tsalle gwargadon abin da za su iya.

6. Idan ɗalibai suna neman karin tallafi a aikin rubuta lambobi, Sai....

- A saukaƙa matakan rubutun.
 - Da farko, a nuna wa ɗalibai yadda ya kamata a riƙe fensiri.
 - Daga nan, sai a zana dogon layi a allo. Umurci ɗalibai su lura da yadda a ke zanen.
 - Maimaita zana wani layi mai lankwasa a kasa.
 - A kowane rukuni, rabawa ɗalibai takarda mai ɗauke da waɗannan layuka, domin tallafawa ɗalibai masu bukata ta musamman. A umurci ɗalibai su kwatanta zana layukan a littafansu na rubutu ta la'akari da takarda da aka ajiye a rukuninsu domin ta yi masu jagora.

7. Idan dalibai suna bukatar karin tallafi a kan aikin tarawa, sai...

- A karfafa masu yin amfani da layin lambobi da ke cikin littafin dalibai akai- akai. Su nuna kowace lamba a lokacin da suke lissafin, daga 1 zuwa 100.
 - Umurci dalibai su yi amfani da layin lambobi a duk lokacin da suke gabatar da aikin tarawa, har sai sun kware da matakan da ake bi wajen aikin tarawar.
- Nuna wa dalibai hanyoyi mabanbanta da za su iya gudanar da aikin tarawa. Kamar amfani da abubuwan da za su iya tabawa ko hotuna ko ta hanyar labari.
- A saka alamar digo a katin nune, da ke nuna adadin lambar da aka rubuta a jikin katin, domin taimaka wa dalibai saukin fahimtar adadin da lambar ke wakilta.

8. Idan dalibai suna bukatar karin taimako a aikin debewa, sai...

- A karfafa masu yin amfani da layin lambobi da ke cikin littafin dalibai, tare da nuna lambobin daga gaba zuwa baya (100 – 1) a lokacin da suke aikin lissafin.
 - Umurci dalibai su yi amfani da layin lambobi a duk lokacin da za su yi lissafin debewa, har sai sun kware da matakan da ake bi wajen aikin debewa.
- Nuna wa dalibai hanyoyi mabanbanta da za su iya gudanar da aikin debewa. Kamar amfani da abubuwan da za su iya tabawa ko hotuna ko ta hanyar labari.
- A saka alamar digo a katin nune, da ke nuna adadin lambar da aka rubuta a jikin katin, domin taimakawa daliba saukin fahimtar adadin da lambar ke wakilta.

9. Idan dalibai suna bukatar tallafi wurin amfani da hannayensu da tafukansu. Sai...

- A gudanar da 'wasan 'Dankali mai zafi' a cikin da'ira, ta amfani da kwallon takarda domin yin lissafin tsallaken lambobi. Idan yin amfani da kwallon takarda zai yi wahala, dalibai zasu iya kiran sunan wanda zai cigaba da lissafin a cikin wasan a madadin jefa kwallon.
- A wurin aikin auna tsawo da fadi, a yi amfani da mabanbantan kayan awo.
 - A maimakon yin amfani da hannu ko tafin kafa wajen awo, a nemi dalibai su yi amfani da abubuwan da za a iya samu a cikin aji, kamar littafi ko fensiri ko takarda da sauransu.

Manufofi: Dalibai za su iya kirgen ɗaya zuwa 100 ta amfani da abubuwan kirge da kuma Jadawalin lambobi 1-100.

Kayan Aiki: Jadawalin lambobi 1-100

Lokaci: Minti 35

Fara Darasi

Wasan Kirge (minti 5)

- A yi wa dalibai bayanin cewa za a fadi wata lamba. Da zarar an fadi lambar, sai su fara kirge daga lambar da sauri. Alal misali, idan aka ce “7,” dalibai sai su fara fadin “8, 9 10, 11...”
- Bayan ‘yan dakikai kadan, sai a ce “su tsaya.” Daga nan sai a sake maimaita wannan tsarin da wata sabuwar lamba.

Koyo

Kirge zuwa 100 (minti 10)

- **Ka/ki ce:** A yau za mu koyi yadda ake kirge daga 1-100.
- A yi kirge daga 1 zuwa 100 daga jadawalin lambobi na 1-100, tare da nuna kowace lamba a lokacin da ake fadin ta. A nemi dalibai su yi kirgen tare da malami.
- A sa daliban ajin su taimaka wajen kirga yawan daliban da suke cikin ajin.

1	2	3	4	5	6	7	8	9	10
11	12	13	14	15	16	17	18	19	20
21	22	23	24	25	26	27	28	29	30
31	32	33	34	35	36	37	38	39	40
41	42	43	44	45	46	47	48	49	50
51	52	53	54	55	56	57	58	59	60
61	62	63	64	65	66	67	68	69	70
71	72	73	74	75	76	77	78	79	80
81	82	83	84	85	86	87	88	89	90
91	92	93	94	95	96	97	98	99	100

Gwaji

Aikin karamin rukuni: Kirga abubuwa daga 1-100 (minti 15)

- A sa dalibai a kananan rukunoni.
- A sa dalibai su fita waje su nemo wasu abubuwan kirge guda 100. Alal misali; suna iya zagazagawa su nemo kara 100 (ko duwatsu, idan babu kara a wurin).
- Da zarar sun sami kara 100, za su fara gwajin kirge daga 1-100, suna nuna kowane ɗaya daga cikin karan, daidai da lambar da ta dace da shi lokacin da suke kirgen.
- A zaga ana lura da dalibai. A yayin zagawar, a duba ko sun ba da amsa daidai, a kuma taimaka musu idan akwai bukatar hakan.

Bayyanawa

Auna fahimta nan-take (minti 5)

- A nuna wata lamba ba bisa tsari ba a kan Jadawalin Lambobin 1-100 sai a ce dalibai su fadɗe ta.

Aikin gida

A nemi dalibai su yi gwajin yin kirge daga 1-100.

Manufofi: Dalibai za su iya kirgen bibbiyu da biyar-biyar zuwa 100 ta amfani da abubuwan kirge da kuma Jadawalin lambobi 1-100

Kayan Aiki: Jadawalin lambobi 1-100 da kara 200 da katunan lamba 1-100

Lokaci: Minti 35

Fara Darasi

Wasan Kirge (minti 3)

- A yi wa dalibai bayanin cewa za a fadi wata lamba. Da zarar an fadi lambar, sai su fara kirgawa da bibbiyu da sauri. Alal misali, idan aka ce "62," dalibai sai su fara fadin "64, 66 68, 70..."
- Bayan 'yan dikakai kadan, sai a ce "su tsaya." Daga nan sai a sake maimaita wannan tsarin da wata sabuwar lamba.

Duba aikin gida (minti 2)

- Gaggauta duba aikin gida. A fada wa dalibai sakamakonsu sannan a karfafa masu gwiwa.

Koyo

Kirgen bibbiyu zuwa 100 (minti 5)

- **Ka/ki ce:** *A yau za mu koyi yadda ake kirgen bibbiyu da biyar-biyar zuwa 100.*
- A yi kirgen tsallaken lamba da bibbiyu a fara daga 2 zuwa 100 yayin da ake nuna lamba daga Jadawalin 1 zuwa 100. A nemi dalibai su yi kirgen tare da malami. A tambayi dalibai ko sun lura da wani tsari?
- **Ka/ki ce:** *Duk lokacin da kuka yi kirgen tsallaken lamba da bibbiyu kuka fara daga 2, lambar ko dai ta kare da 0 ko 2 ko 4 ko 6 ko kuma 8.*

1	2	3	4	5	6	7	8	9	10
11	12	13	14	15	16	17	18	19	20
21	22	23	24	25	26	27	28	29	30
31	32	33	34	35	36	37	38	39	40
41	42	43	44	45	46	47	48	49	50
51	52	53	54	55	56	57	58	59	60
61	62	63	64	65	66	67	68	69	70
71	72	73	74	75	76	77	78	79	80
81	82	83	84	85	86	87	88	89	90
91	92	93	94	95	96	97	98	99	100

Kirgen biyar-biyar zuwa 100 (minti 5)

- A yi kirgen tsallaken lamba da biyar-biyar a fara daga 5 zuwa 100 yayin da ake nuna lambar da ake kirgawa a kan Jadawalin Lambobi 1-100. Malami ya nemi dalibai su yi kirgen tare. A tambayi dalibai ko sun lura da wani tsari?
- **Ka/ki ce:** *Duk lokacin da muka yi kirgen tsallaken lamba da biyar-biyar muka fara da 5, lambar za ta kare ko da da 5 ko kuma 0.*

Gwaji

Aikin karamin rukuni: Kirgen abubuwa da bibbiyu da kuma biyar-biyar zuwa 100 (minti 15)

- A raba aji zuwarukuni 2. A ba kowane rukuni kara guda 100.
- A daga katunan lamba masu lambobi bibbiyu sai a fadi lambar a bayyane.
- A sa dalibai su kirga lambar da ta yi daidai da yawan kara, sannan su raba su a cikin rukunoni biyu.
- Bayan wani dan lokaci, a daga katunan lamba masu lambobi biyar-biyar sai a fadi lambar a bayyane. A nemi dalibai su kirga lambar da ta yi daidai da ita da yawan kara sannan su raba su a cikin rukunoni biyar.
- A zagaya ana lura da dalibai. A yayin zagayawar, a tambayi dalibai yadda suka samo amsarsu, a kuma tabbatar idan daidai suke.

Bayyanawa

Auna fahimta nan-take (minti 5)

- A zana katin lamba mai dauke da lamba ta bibbiyu ko ta biyar-biyar ba kan tsari ba.
- A kira wani dalibi daya gaban aji ya nuna lambar ta yi daidai da lambar katin a kan Jadawalin Lambobi 1-100. Idan akwai lokaci, a maimaita haka da wata lambar.

Aikin Gida

A nemi dalibai su yi gwajin kirge da bibbiyu da kuma biyar-biyar zuwa 100 a gida.

Manufa: Dalibai za su yi kirge da goma-goma zuwa 100 ta amfani da damin kara da kuma Jadawalin lambobi 1-100.

Kayan Aiki: Jadawalin lambobi 1-100 da kara da robar dauri

Lokaci: Minti 35

Fara Darasi

Kirge daga 1-100 (minti 3)

- A yi kirge daga 1-100 daga Jadawalin Lambobi 1-100, a nuna kowace lamba lokacin fadinta. Malami/malama ya/ta nemi dalibai su yi kirgen tare.

Duba aikin gida (minti 2)

- Gaggauta duba aikin gida. A faɗa wa dalibai sakamaku, sannan a karfafa masu gwiwa.

Koyo

Kirgen goma-goma zuwa 100 (minti 8)

- **Ka/ki ce:** *A yau za mu koyi yadda ake kirgen goma-goma zuwa 100.*
- A nemi dalibai goma su zo gaban aji.
- **Ka/ki ce:** *Yatsu nawa kuke da su?*
- Umurci dalibai su daga hannayensu, ta yadda duk 'yan ajin za su ga yatsun nasu.
- **Ka/ki ce:** *Kirga yatsun daya bayan daya yana da tsaiko sosai. Saboda muna da yatsu guda goma ne, muna iya yin kirge da goma-goma har mu kai 100.*
- A nuna wa dalibai yadda ake yin kirge zuwa 100 ta amfani da yatsunsu a matsayin misali.
- Malami ya nuna wa dalibai yadda ake yin kirgen goma-goma a kan jadawalin lambobi 1-100. Lokacin da malami yake kirgen, ya nuna kowace lamba da ya fadi sannan ya sa dalibai su maimaita lambar bayan ya fadi.

1	2	3	4	5	6	7	8	9	10
11	12	13	14	15	16	17	18	19	20
21	22	23	24	25	26	27	28	29	30
31	32	33	34	35	36	37	38	39	40
41	42	43	44	45	46	47	48	49	50
51	52	53	54	55	56	57	58	59	60
61	62	63	64	65	66	67	68	69	70
71	72	73	74	75	76	77	78	79	80
81	82	83	84	85	86	87	88	89	90
91	92	93	94	95	96	97	98	99	100

Gwaji

Aikin karamin rukuni: Samar da damin goma-goma (minti 20)

- Umurci dalibai su zauna cikin kananan rukunoni.
- A naɗa jagora a kowane rukuni da zai taimaka wajen rarraba dukkan karan da aka tattara a wannan makon.
- A nuna yadda ake kirgen kara goma da kuma daure su a cikin dami guda da robar dauri.
- **Ka/ki ce:** *Wannan tarin na rukunin kara guda goma ana iya kiransa daurin goma.*
- A yi wa dalibai bayanin cewa su yi kokarin samar da daurin kara goma gwargwadon yawan yadda za su iya yi.
- A zagaya ana lura da aikin dalibai. A yayin zagayawar, a kula ko suna yin aikin daidai, a kuma taimaka musu idan akwai bukatar hakan.

Bayyanawa

Auna fahimta nan-take (minti 2)

- A nuna wata lamba (10, 20, 30, 40, 50, 60, 70, 80, 90, ko 100) ba bisa wani tsari ba a kan Jadawalin Lambobi 1-100 sai a nemi dalibai su karanta lambar.

Aikin Gida

A nemi dalibai su yi gwajin kirgen goma-goma zuwa 100 a gida.

Manufa: Dalibai za su cike lambobin da babu tsakanin lamba 1-100.

Kayan Aiki: Katin lambobi da Jadawalin Lambobi 1-100

Lokaci: Minti 35

Fara Darasi

Duba aikin gida (minti 2)

- Gaggauta duba aikin gida. A fada wa dalibai sakamaku sanna a karfafa masu gwiwa.

Ni wace lamba ce? (minti 5)

- A karanta kowane daga cikin wadannan jawaban. A nemi dalibai su ba da amsa tare da fadin lambar a bayyane. Idan daliban sun ba da amsa daidai, a nuna lambar da suka karanta a kan jadawalin lambobi 1-100.
- **Ka/ki ce:** *Da 1 na fi 99. Wace lamba nake?*
- **Ka/ki ce:** *Da 5 na fi 25. Wace lamba nake? A ci gaba da wasu misalai.*

Koyo

Gabatar da lambobin da babu (minti 8)

- **Ka/ki ce:** *A yau za mu nemo lambobin da babu.*
- A sa dalibai 10 su zo gaban aji. Kowannensu ya dauki katin lamba guda sanna sai su jera kansu bisa tsari daga 1 zuwa 10. Za su daga katin lambobinsu sama ta yadda dukkan sauran daliban aji za su gane su.
- **Ka/ki ce:** Muna da dalibai 10, masu lambobi 1-10.
- A sa dalibin da yake dauke da lamba ta 2, ya duka ya boye katin lambar sa.
- **Ka/ki ce:** *Yanzu dole mu yi tunanin, wace lamba ce ta bata? Wace lamba ce ke zuwa bayan 1 ko kuma kafin 3?*
- A maimaita aikin da wasu dalibai daban, su duka, domin nuna wasu lambobi daban-daban da babu.

Gwaji

Aikin a cikin karamin rukuni: Wasan gyara-tsari (minti 10)

- A umurci dalibai su zauna cikin kanana rukunoni da ba su wuce dalibai 4 ba. Kowane rukuni su zabi jagora daya.
- **Ka/ki ce:** *Wani lokaci tsarin lambobi na iya tsallake kirge da bibbiyu ko biyar-biyar ko kuma goma-goma.*
- A rubuta lambobin “80 da 82 da 84, ____, 86 da 88” a kan allo.
- **Ka/ki ce:** *Wace lamba ce babu a tsarin?*
- A sa dalibai su yi aiki tare domin su gano lambar da babu. Daliban su rubuta amsarsu a cikin littafansu na rubutu.
- A gayyota rukuni 1 ko 2 su fadi amsoshinsu, su kuma yi bayanin idan sun yi kirgen ne da daidai ko bibbiyu ko biyar-biyar ko kuma goma-goma.
- A maimaita aikin da wasu misalan kirgen tsarin lambobi na daidai ko bibbiyu ko biyar-biyar ko kuma goma-goma.

Bayyanawa

Gwajin aikin gida (minti 10)

- A buɗe littafin dalibai shafi na 5 sanna a karanta umurnin ciki.
- A yi aiki na farko tare da dalibai a aji. Dalibai su juyi aikin a cikin littafan rubutu.

Aikin Gida

A sa dalibai su kammala sauran aikin da ke Shafi na 5 a cikin littafin rubutunsu.

Manufofi: Dalibai za su yi bita da gwajin abin da suka koya a cikin wannan makon.

Kayan Aiki: Jadawalin Lambobi 1-100

Lokaci: Minti 35

Fara Darasi

Duba aikin gida (minti 2)

- Gaggauta duba aikin gida. A fada wa dalibai sakamakonsu sannan a karfafa masugwiwa.

Kirge daga 1-100 (minti 5)

- A yi kirgen 1-100 a kan jadawalin lambobi 1-100, ana nuna kowace lamba yayin da aka faɗe ta. A ce dalibai su yi karatun tare da kai.

1	2	3	4	5	6	7	8	9	10
11	12	13	14	15	16	17	18	19	20
21	22	23	24	25	26	27	28	29	30
31	32	33	34	35	36	37	38	39	40
41	42	43	44	45	46	47	48	49	50
51	52	53	54	55	56	57	58	59	60
61	62	63	64	65	66	67	68	69	70
71	72	73	74	75	76	77	78	79	80
81	82	83	84	85	86	87	88	89	90
91	92	93	94	95	96	97	98	99	100

Koyo

Bitu da maimai (minti 8)

- A zabi wani darasi daga cikin darrusan da aka yi a cikin makon, wanda ake ganin dalibai ba su fahimce shi sosai ba. A sake koyar da darasin ko a sake koyar da shi ta wata sabuwar hanya ta daban.

Gwaji

Aikin daidaiƙun dalibai da aikin dalibai a cikin rukuni: Zane da kuma rubutu (minti 15)

- A ba dalibai aikin da zai taimaka musu wajen yin gwajin darasin da aka yi bita (alal misali; kirge zuwa 100 da daidai ko nemo lambar da babu a cikin wani tsari). Dalibai na iya yin aiki daidai ko kuma a cikin kananan rukunoni.
- Yayin da dalibai suke gudanar da wani aikin da aka ba su, a kara taimaka musu a inda ba su gane sosai ba.

Bayyanawa

Auna fahimta da bayyanawa (minti 5)

- A sa dalibai su nuna aikin da suka kammala a lokacin Gwajin.

Aikin Gida

A ba dalibai aikin gida na bita da kuma gwajin kwazonsu.

Manufofi: Dalibai za su iya tara lambobi tare da hada su har zuwa 20 ta amfani da abubuwan da ake samu a cikin aji da kuma labarai.

Kayan Aiki: Abubuwan kirge (wake ko tsakuwoyi)

Lokaci: Minti 35

Fara Darasi

Duba aikin gida (minti 2)

- Gaggauta duba aikin gida. A fada wa dalibai sakamakonsu sannan a karfafa masu gwiwa.

Waka (minti 3)

- Rera wakar tare da dalibai sau da yawa.
- A nemi daya daga cikin dalibai ya zo gaban aji ya rera wakar.

Wakar Tarawa

Ana batun tarawa /

Komai a tara da daya /

$1+1= 2 / 2+1= 3 / 3+1= 4 /$

$4+1= 5 / 5+1= 6 / 6+1= 7 /$

$7+1= 8 / 8+1= 9 / 9+1= 10$

Koyo

Gabatar da tara lambobi daga lamba 1-20 (minti 10)

- **Ka/ki ce:** A yau za mu koyi yadda ake tara lambobi daga lamba daya zuwa ashirin.
- A kira dalibai goma su zo a gaban aji. A nemi dalibai su fadi mutane nawa ne ke gaban ajin.
- A kara kiran wasu dalibai shida a gaban ajin.
- **Ka/ki ce:** Karin wasu dalibai shida sun shigo rukunin. Dalibai nawa ne gaban ajin gaba daya yanzu?
- A kirga yawan adadin daliban ajin a bayyane tare da dukkan daliban ajin.
- **Ka/ki ce:** Dalibai 10 da kuma dalibai 6 sun zama dalibai 16 ke nan gaba daya. Ku tuna, hada rukunin wadannan abubuwan wuri guda kamar haka shi ake kira tarawa.
- A maimaita haka da adadin dalibai daban-daban.

Gwaji

Aikin kananan rukunoni: Tarawa da abubuwan kirge (minti 15)

- A umurci dalibai su zauna cikin kananan rukunoni: A zabi jagora daga cikin kowane rukunin da zai taimaka wajen rarraba abubuwan kirge 20 ga rukuninsu.
- **Ka/ki ce:** Dalibi guda a cikin rukunin ya dauki abubuwan kirge 14 ya aje su a tsakiyar rukuninsu. Sannan sai wani dalibi daban kuma ya dauki karin wasu abubuwan kirge uku ya hada su da na tsakiyar.
- A zagaya ana lura da aikin dalibai a kuma tabbata daliban suna saka lambobin abubuwan kirge da suke daidai a tsakiyarsu.
- **Ka/ki ce:** Abubuwan kirge nawa gare mu gaba daya?
- Idan da lokaci, a sake maimaitawa da wani labarin. A tabbata dalibai suna jujjuyawa wajen amfani da abubuwan kirgen.

Bayyanawa

Auna fahimta nan-take (minti 5)

- Yi wa dalibai bayanin cewa za ka fadi wani lissafin tarawa.
- **Ka/ki ce:** Akwai tsuntsaye 15 a kan bishiya. Karin wasu tsuntsaye 2 sun hau a kan bishiyar. Tsuntsaye nawa ne a kan bishiyar gaba daya?
- A nemi dalibai su daga hannuwansu sama idan sun san amsar tambayar.
- Idan akwai lokaci, a maimaita ta amfani da wasu lambobi daban.

Aikin Gida

A sa dalibai su yi gwajin lissafin tara tsakuwoyitare da wani daga cikin 'yan'uwansu ko abokansu.

Manufofi: Dalibai za su iya tara lambobi tare da hada su har zuwa 20 ta amfani da abubuwan kirge da kuma gidan dara goma.


Kayan Aiki: Abubuwan kirge (wake ko tsakuwoyi)

Lokaci: Minti 35

Fara Darasi

Duba aikin gida (minti 2)

- Gaggauta duba aikin gida. A fada wa dalibai sakamakonsu sannan a karfafa masu gwiwa



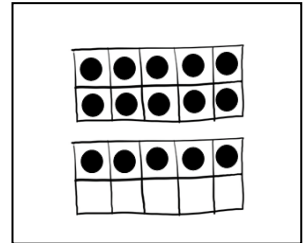
Labari da kuma Hotuna (minti 3)

- Bayyana labarin hotunan kan allo. Amina ta dauki damin fulawa 13 don ta ba kawarta Nana. A kan hanyarta ta zuwa gida sai ta kara samun wasu fulawoyi guda 2. Fulawoyi nawa gare ta gabaɗaya kenan?
- A nemi dalibi guda ya zo gaban aji ya gwajin yadda labarin yake.

Koyo

Tarawa ta amfani da gidan dara goma (minti 10)

- **Ka/ki ce:** *Yau za mu yi gwajin lissafin tarawa zuwa 20 ta amfani da gidan dara goma-goma.*
- A yi gwajin labarin ta amfani da gidan dara da ke kan allo. A saka digo-digo goma sha uku a cikin gidan dara, sannan sai a kara wasu biyu don su kasance goma sha biyar.
- A maimaita da wani adadin yawan fulawoyi daban. A nemi dalibai su zo gaban allo su yi gwajin gano jimillar yawan fulawoyin, ta amfani da gidan dara goma.



Gwaji

Aikin karamin rukuni: Tarawa da gidan dara goma (minti 10)

- A nemi dalibai su zauna a cikin kananan rukunoni: A zaɓi jagora daga cikin kowane rukuni da zai taimaka wajen rarraba littafin dalibai da abubuwan kirge 20 ga rukuninsu. Nemi dalibai su buɗe littafin dalibai inda yake da gidan dara goma da babu komai a cikinsu.
- **Ka/ki ce:** *Kaji sun yi kwai 8 jiya, suka yi kwai 6 a yau. Kwai nawa kenan gabaɗaya?*
- A sa dalibai su yi amfani da abubuwan kirge da gidan dara goma wajen gwajin wannan labarin.
- A zagaya ana lura lokacin da ake maimaita karanta labarin.
- Idan akwai lokaci, a sake maimaitawa da wani labarin. A tabbata dalibai suna jujjuyawa wajen amfani da abubuwan kirgen.

Bayyanawa

Gwajin aikin gida (minti 10)

- A buɗe littafin dalibai shafi na 6 sannan a karanta umurnin ciki.
- A yi aiki na farko tare da dalibai a aji. Dalibai su juyi aikin a cikin littafan rubutunsu.

Aikin Gida

A sa dalibai su kammala sauran aikin da ke Shafi na 6 a cikin littafin rubuturubutunsu a gida.

Manufofi: Dalibai za su iya tara lambobi tare da hada su har zuwa 20 ta amfani da abubuwan kirge da gidan dara goma da kuma alamar + .

Kayan Aiki: Abubuwan kirge wake ko tsakuwoyi) da gidan dara goma-goma

Lokaci: Minti 35

Fara Darasi

Duba aikin gida (minti 2)

- Gaggauta duba aikin gida. A faɗa wa dalibai sakamaku sanna a karfafi gwiwarsu.



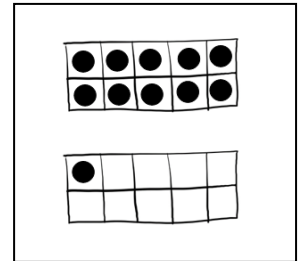
Labari da kuma Hotuna (minti 3)

- A bayyana labarin hotunan kan allo. Abubakar ya sami goro guda shida. Washegari a makaranta, abokinsa ya kara ba shi wasu goro guda biyar.
- A nemi ɗaya daga cikin dalibai ya zo gaban aji ya yi gwajin yadda labarin yake.

Koyo

Tarawa ta amfani da gidan dara goma da kuma alamar + (minti 10)

- **Ka/ki ce:** *Yau mun yi gwajin tarawa har zuwa 20 ta amfani da gidan dara goma. Haka ma za mu yi gwajin rubuta fasalin lissafi ta amfani da alamomin + da = .*
- A yi gwajin labarin ta amfani da gidan dara goma dake kan allo. A a yi dingo-goda guda 6 a cikin gidan dara 10, daga nan sai a kara wasu guda 5 don su cike guda 11. A rubuta fasalin daidaito na $6 + 5 = 11$ kan allo. A yi bayanin cewa fasalin lissafiyana bayyana labarin.
- **Ka/ki ce:** *Kasancewar Abubakar yana da goro guda shida sannan abokinsa ya ba shi karin wasu guda 5, yana da jimillar goro goma sha ɗaya, muna iya rubuta $6 + 5 = 11$. Goro shida da goro 5, daidai suke da goro goma sha ɗaya.*
- A sake maimaita labarin da wani adadin yawan goro na daban, ta amfani da gidan dara. A nemi dalibai su zo gaban aji su yi gwajin yadda ake gano jimillar yawan goro, ta amfani da gidan dara.



Gwaji

Aikin karamin rukuni: Tarawa da gidan dara goma da kuma alamar + (minti 10)

- A nemi dalibai su zauna a cikin kananan rukunoni: A zaɓi jagora daga cikin kowane rukuni da zai taimaka wajen rarraba littafin dalibai da kuma abubuwan kirge 20 ga rukuninsu. Nemi su buɗe littafin dalibai inda yake da gidan dara goma da babu komai a cikinsu.
- **Ka/ki ce:** *A gidansu Mustapha suna da awaki 15. Mahaifinsa ya kara sawo wasu guda 3. Jimillar awaki nawa kenan gabaɗaya?*
- A sa dalibai su yi amfani da abubuwan kirge da gidan dara goma wajen gwajin wannan labarin.
- A zagaya ana lura da daliban. A nemi dalibai su faɗi yadda za su rubuta lissafin daidaiton.
- Idan akwai lokaci, a sake maimaitawa da wani labarin. A tabbata dalibai suna jujjuyawa wajen amfani da abubuwan kirgen.

Bayyanawa

Gwajin aikin gida (minti 10)

- A buɗe littafin dalibai shafi na 7 sannan a karanta umurnin ciki.
- A yi aiki na farko tare da dalibai a aji. Dalibai su juyi aikin a cikin littafan rubutu.

Aikin Gida

A sa dalibai su kammala sauran aikin da ke Shafi na 7 a cikin littafin rubutunsu.

Manufa: Dalibai za su iya tara lambobi tare da hada su har zuwa 20 ta amfani da abubuwan kirge da gidan dara goma da kuma alamar +.

Kayan Aiki: Abubuwan kirge (wake ko tsakuwoyi) da layin lamba

Lokaci: Minti 35

Fara Darasi

Duba aikin gida (minti 2)

- Gaggauta duba aikin gida. A faɗa wa ɗalibai sakamakonsu sannan a karfafa masugwiwa.

Labari da kuma Hotuna (minti 3)

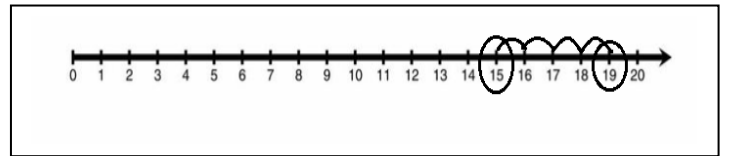
- Bayyana labarin hotunan kan allo. Tsuntsaye goma sha biyar suna kan bishiya. Wasu karin tsuntsaye huɗu sun tarar da su a kan bishiyar.
- A nemi ɗalibai goma sha tara su zo gaban aji su yi gwajin yadda labarin yake.



Koyo

Tarawa ta amfani da layin lamba da kuma alamar + (minti 10)

- **Ka/ki ce:** *Yau za mu tara lambobi ta amfani da layin lamba.*
- A yi gwajin labarin ta amfani da layin lamba da ke kan allo. A kewaye lamba 15 domin nuna adadin yawan tsuntsayen da ke kan bishiyar. Daga nan, sai a yi amfani da layin lamba don kirga yawan tsuntsayen da suka karu a kan bishiyar.
- A rubuta fasalin lissafi na $15 + 4 = 19$ kan allo. A yi bayanin cewa fasalin lissafi yana bayyana labarin tsuntsayen da ke kan bishiyar.
- A sake maimaita labarin da wani adadin tsuntsayen. A nemi ɗalibai su zo gaban aji su yi gwajin yadda ake gano jimillar yawan tsuntsayen ta amfani da layin lamba.



Gwaji

Aikin karamin rukuni: Tarawa da layin lamba (minti 10)

- A nemi ɗalibai su zauna a cikin kananan rukunoni: A zaɓi jagora daga cikin kowane rukuni da zai taimaka wajen rarraba littafin ɗalibai da kuma abubuwan kirge 20 ga rukuninsu. Nemi ɗalibai su buɗe littafin ɗalibai inda aka kawo layin lamba.
- **Ka/ki ce:** *Shanu 13 suna kiwo a cikin fili. Wasu karin 4 sun tarar da su. Jimillar shanu nawa kenan gabaɗaya?*
- A sa ɗalibai su yi amfani da abubuwan kirge da layin lamba wajen gwajin wannan labarin.
- A zagaya ana lura da ɗaliban lokacin da ake maimaita labarin, a yayin zagayawar, a tambaye su yadda suka sami amsar tasu, a kuma duba ko sun amsa daidai.
- Idan akwai lokaci, a sake maimaitawa da wani labarin. A tabbata ɗalibai suna jujjuyawa wajen amfani da abubuwan kirgen.

Bayyanawa

Gwajin aikin gida (minti 10)

- A buɗe littafin ɗalibai shafi na 8 sannan a karanta umurnin ciki.
- A yi aiki na farko tare da ɗalibai a aji. Dalibai su juyi aikin a cikin littafan rubutunsu.

Aikin Gida

A sa ɗalibai su kammala sauran aikin da ke Shafi na 8 a cikin littafin rubutu a matsayin aikin gida.

Manufofi: Dalibai za su yi bita da gwajin abin da suka koya a cikin wannan makon.

Kayan Aiki:

Lokaci: Minti 35

Fara Darasi

Duba aikin gida (minti 2)

- Gaggauta duba aikin gida. A fada wa dalibai sakamaku sannan a karfafa masu gwiwa.

Waka (minti 3)

- Rera wakar tare da dalibai sau da yawa.
- A nemi daya daga cikin dalibai ya zo gaban aji ya rera wakar.

Wakar Tarawa

Ana batun tarawa /

Komai a tara da daya /

$1+1= 2$ / $2+1= 3$ / $3+1= 4$ /

$4+1= 5$ / $5+1= 6$ / $6+1= 7$ /

$7+1= 8$ / $8+1= 9$ / $9+1= 10$

Koyo

Bitu da maimai (minti 10)

- A zaɓi wani darasi daga cikin darussan da aka yi a cikin makon, wanda ake ganin dalibai ba su fahimce shi sosai ba. A sake koyar da darasin ko a sake koyar da shi ta wata sabuwar hanya daban.

Gwaji

Aikin daidaiƙun dalibai da aikin dalibai a cikin rukuni: Zane da kuma rubutu (minti 10)

- A bai wa dalibai aikin da zai taimaka musu wajen yin gwajin darasin da aka yi bita (alal misali; tarawa har zuwa ashirin ta amfani da gidan dara goma ko layin lamba. Dalibai suna iya yin aiki daidai ko kuma a cikin kananan rukunoni.
- Yayin da dalibai suke gudanar da wani aikin da aka ba su, a kara taimaka musu a inda ba su gane sosai ba.

Bayyanawa

Gwajin aikin gida (minti 10)

- A buɗe littafin dalibai shafi na 9 sannan a karanta umurnin ciki.
- A yi aiki na farko tare da dalibai a aji. Dalibai su juyi aikin a cikin littafan rubutu.

Aikin Gida

A sa dalibai su kammala sauran aikin da ke Shafi na 9 a cikin littafin rubutu a matsayin aikin gida.

Manufofi: Dalibai za su iyai lissafin debewa tsakanin 1-20 ta amfani da abubuwan da ake samu a cikin aji da kuma labarai.

Kayan Aiki: Abubuwan kirge (kwayar wake ko tsakuwoyi)

Lokaci: Minti 35

Fara Darasi

Duba aikin gida (minti 3)

- Gaggauta duba aikin gida. A fada wa dalibai sakamankonsu sannan a karfafi gwiwarsu.

Oyoyo oyoyo Oyoyo Baba ya dawo Ya dawo daga kasuwa Ya sawo muna goriba Ni an bani guda huɗu	Na ci daya saura uku In ya ci ɗaya saura biyu In ta ci ɗaya saura ɗaya In ka ci ɗaya ba ko daya
---	--

Waka (minti 2)

- A rera wakar tare da dalibai.

Koyo

Gabatar da lissafin debewa (minti 10)

- **Ka/ki ce:** *A yau za mu koyi yadda ake debewa daga lamba ɗaya zuwa ashirin.*
- A kira dalibai ashirin su zo a gaban aji. A nemi cewa dalibai nawa ne ke gaban ajin.
- A nemi dalibai goma sha biyu su zauna.
- **Ka/ki ce:** *Muna da dalibai ashirin, daga nan sha biyu daga cikinsu suka zauna. Yanzu dalibai nawa suka rage mana a tsaye.*
- A kirga adadin yawan daliban a bayyane tare da aji gaba ɗaya.
- **Ka/ki ce:** *Idan kana da 20, sai ka cire 12, saura takwas. A tuna, cire adadin abubuwa kamar haka shi ake kira debewa.*
- A maimaita haka da adadin dalibai daban-daban.

Gwaji

Aikin karamin rukuni: Debewa da abubuwan kirge (minti 15)

- A nemi dalibai su zauna a cikin kananan rukunoni: A zabi jagora daga cikin kowane rukuni da zai taimaka wajen rarraba abubuwan kirge 20 ga rukuninsu.
- **Ka/ki ce:** *Dalibi ɗaya a cikin rukuninku ya dauki abubuwan kirge 16 ya aje su a tsakiyar rukunin. Sannan sai wani dalibi daban kuma ya cire abubuwan kirge 2 daga cikin rukunin 16.*
- A zagaya ana lura da aikin dalibai a kuma tabbatar dalibai a kowane rukuni suna cire lambar da tadace.
- **Ka/ki ce:** *Abubuwan kirgen nawa suka rage?*
- Idan akwai lokaci, a sake maimaitawa da wani labarin. A tabbata dalibai sun jujjuyawa amfani da abubuwan kirgen.

Bayyanawa

Auna fahimta nan-take (minti 5)

- Yi wa dalibai bayanin cewa za ka fadi wani aikin lissafin debewa sannan sai su warware aikin.
- **Ka/ki ce:** *Akwai tsuntsaye 17 a kan bishiya. Tsuntsaye 4 suka tashi daga kan bishiyar. Tsuntsaye nawa suka ragea kan bishiyar?*
- A nemi dalibai su daga hannuwansu sama idan sun san amsar tambayar.

Aikin Gida

A sa dalibai su yi gwajin lissafin debe tsakuwoyi a gida tare da wani daga cikin 'yan'uwansu ko abokansu.

Manufa: Dalibai za su iya lissafin debewa daga lamba 1-20 ta amfani da abubuwan kirge da kuma gidan dara goma.

Kayan Aiki: Abubuwan kirge (kwayar wake ko tsakuwoyi)

Lokaci: Minti 35

Fara Darasi

Duba aikin gida (minti 2)

- Gaggauta duba aikin gida. A fada wa dalibai sakamakonsu sannan a karfafa masu gwiwa.

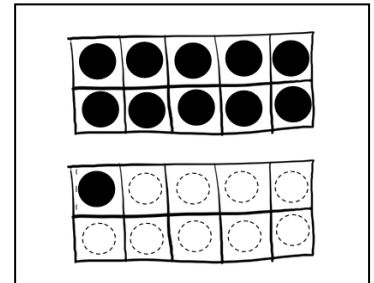
Labari da kuma Hotuna (minti 3)

- A karanta labarin dake cikin hotunan a kan allo. Dalibai 20 suna cikin jirgin ruwa. 9 daga cikinsu sun tsallaka cikin korama domin su yi iyo.
- A nemi dalibi 20 su zo gaban aji su yi gwajin yadda labarin yake.

Koyo

Debewa ta amfani da gidan dara goma (minti 10)

- **Ka/ki ce:** Yau zamu yi gwajin lissafin debewa ta amfani da gidan dara goma.
- A yi gwajin labarin ta amfani da gidan dara goma dake kan allo. A yidigo-digo a gidan dara goma, sannan sai a goge digo tara su koma 10.
- A maimaita da wani labari daban da kuma wasu adadin dalibai daban. A nemi wani dalibi ya yidigo-digo daidai yawan da suke a cikin gidan dara goma.



Gwaji

Aikin karamin rukuni: Debewa da gidan dara goma (minti 15)

- A umurci dalibai su zauna cikin kananan rukunoni: A zabi jagora daga cikin kowane rukuni da zai taimaka wajen rarraba littafin dalibai da abubuwan kirge 20 ga rukuninsu. Nemi dalibai su buɗe littafin dalibai inda yake da gidan dara goma da babu komai a cikinsu.
- A karanta labarin ga kananan rukunonin daliban sannan sai a sa dalibai su yi amfani da abubuwan kirge da gidan dara goma wajen gwajin wannan labarin.
- **Ka/ki ce:** Mage 14 suna wasa a cikin lambu. Mage 11 sun tafi. Mage nawa aka bari?
- A zagaya ana lura lokacin da ake maimaita karanta labarin. Yayin zagayawar, a tambaye su yadda suka samar da amsar tasu, a kuma duba ko sun amsa daidai.
- Idan akwai lokaci, a sake maimaitawa da wani labarin. A tabbata dalibai sun jujjuyawa amfani da abubuwan kirgen.

Bayyanawa

Gwajin aikin gida (minti 10)

- A buɗe littafin dalibai shafi na 10 sannan a karanta umurnin da ke ciki.
- A yi aiki na farko tare da dalibai a aji. Dalibai su juyi aikin a cikin littafin rubutunsu.

Aikin Gida

A sa dalibai su kammala sauran aikin da ke Shafi na 10 a cikin littafin rubutunsu a matsayin aikin gida.

Manufa: Dalibai za su iya lissafin debewa daga lamba 1-20 ta amfani da abubuwan kirge da kuma gidan dara goma da kuma alamar - .

Kayan Aiki: Abubuwan kirge (kwayar wake ko tsakuwoyi) da gidan dara goma

Lokaci: Minti 35


Fara Darasi

Duba aikin gida (minti 2)

- Gaggauta duba aikin gida. A fada wa dalibai sakamakonsu sannan a karfafa masugwiwa.

Labari da kuma Hotuna (minti 3)


- A karanta labarin dake cikin hotunan a kan allo. Akwai tsuntsaye 15 a kan bishiya. Tsuntsaye 9 daga cikinsu sun tashi suka bar kan bishiyar.
- A nemi dalibi 15 su zo gaban aji su yi gwajin yadda labarin yake.



Koyo

Debewa ta amfani da gida dara goma da kuma alamar - (minti 10)

- **Ka/ki ce:** *A yau za mu koyi darasi a kan alamar debewa -.*
- A yi gwajin labarin ta amfani da gidan dara goma da ke kan allo. A yi digo-digo 15 a cikin gidan dara goma, daga nan sai a goge tara daga cikin d'igo-digo su koma 6 kawai.
- A rubuta fasalin lissafi na $15 - 9 = 6$ a kan allo. A yi bayanin cewa wannan fasalin fasalin yana bayanin labarin tsuntsayen nan ne da suke kan bishiya.
- **Ka/ki ce:** *Alamar – tana nuna debewa. Debewa tana nufin a cire rukunin wasu abubuwa ko kuma lambobi daga cikin wani rukuni. Tana da alaƙa da lambobin da ake debewa a cikinsu. Alamar = tana zuwa ne kafin adadin jimillar abubuwan da ake magana a kai. Tsuntsaye 15 - tsuntsaye 9 = jimillar tsuntsaye 6.*
- A sake maimaitawa da wani labari da kuma wasu dalibai daban. A nemi wani dalibi ya zana hoton adadin yawan digo-digoda suke daidai a cikin gidan dara goma.



Gwaji

Aikin karamin rukuni: Debewa da gidan dara goma da kuma alamar - (minti 10)

- A umurci dalibai su zauna cikin kananan rukunoni: A zabi jagora daga cikin kowane rukuni da zai taimaka wajen rarraba littafin dalibaida kuma abubuwan kirge 20 ga rukuninsu. Nemi dalibai su bude littafin dalibaiinda yake da gidan dara goma da babu komai a cikinsu.
- **Ka/ki ce:** *A gidansu Mustapha suna da awaki guda 20. Mahaifinsa ya sayar da 4 daga ciki. Awaki nawa suka rage?*
- A sa dalibai su yi amfani da abubuwan kirge da gidan dara goma wajen gwajin wannan labarin.
- A zagaya ana lura da daliban, yayin da ake maimaita labarin. A nemi dalibai su fadi yadda za su rubuta fasalin lissafin.
- Idan akwai lokaci, a sake maimaitawa da wani labarin. A tabbata dalibai sun jujjuyawa amfani da abubuwan kirgen.

Bayyanawa

Gwajin aikin gida (minti 10)

- A bude littafin dalibai shafi na 11 sannan a karanta umurnin da ke ciki.
- A yi aiki na farko tare da dalibai a aji. Dalibai su juyi aikin a cikin littafin rubutunsu.

Aikin Gida

A sa dalibai su kammala sauran aikin da ke Shafi na 11 a cikin littafin rubutunsu a matsayin aikin gida.

Manufa: Dalibai za su iya lissafin debewa daga lamba 1-20 ta amfani da layin lamba da kuma alamar -

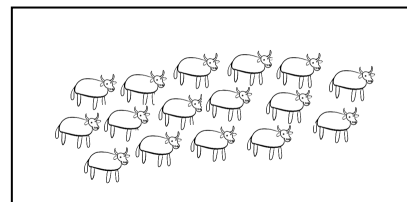
Kayan Aiki: Abubuwan kirge (kwayar wake ko tsakuwoyi) da layin lamba

Lokaci: Minti 35

Fara Darasi

Duba aikin gida (minti 2)

- Gaggauta duba aikin gida. A fada wa dalibai sakamakonsu sannan a karfafa masu gwiwa.



Labari da kuma Hotuna (minti 3)

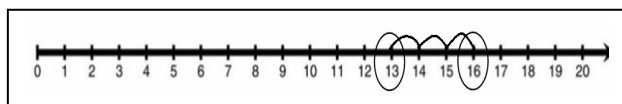
- A karanta labarin dake cikin hotunan a kan allo. Akwai shanu 16 a cikin fili. 3 sun tafiyarsu.
- A nemi dalibai goma sha shida su zo gaba aji su yi gawajin yadda labarin yake.

Koyo

Debewa ta amfani da layin lamba da kuma alamar -

(minti 10)

- **Ka/ki ce:** *Yau za mu yi lissafin debewa ta amfani da layin lamba.*
- A yi gwajin labarin ta amfani da layin lamba dake kan allo. A yi da'ira a kan 16 domin nuna adadin yawan shanun dake cikin filin. Daga nan, sai a yi amfani da layin lamba don kirga yawan shanun da suka tafi.
- A rubuta fasalin lissafi na $16 - 3 = 3$ kan allo. A yi bayanin cewa fasalin lissafin yana bayyana labarin shanun.
- A sake maimaita labarin da adadin wasu dalibai. A nemi wani dalibi ya zo gaban aji ya warware aikin lissafin ta amfani da layin lamba.



Gwaji

Aikin karamin rukuni: Tarawa da layin lamba (minti 10)

- A umurci dalibai su zauna cikin kanaan rukunoni: A zabi jagora daga cikin kowane rukuni da zai taimaka wajen rarraba littafin dalibai da kuma abubuwan kirge 20 ga rukuninsu. A nemi dalibai su bude littafin dalibai inda aka kawo layin lamba.
- **Ka/ki ce:** *Abubakar ya samu alewa 18? Ya sha 4 daga cikinsu. Alewa nawa ya rage masa?*
- A sa dalibai su yi amfani da abubuwan kirge da layin lamba wajen gwajin wannan labarin.
- A zagaya ana lura da daliban lokacin da ake maimaita labarin. A yayin zagayawar, a tambaye su yadda suka samar da amsar tasu, a kuma duba ko sun amsa daidai.
- Idan akwai lokaci, a sake maimaitawa da wani labarin. A tabbata dalibai sun jujjuyawa amfani da abubuwan kirgen.

Bayyanawa

Gwajin aikin gida (minti 10)

- A bude littafin dalibai shafi na 12 sannan a karanta umurnin da ke ciki.
- A yi aiki na farko tare da dalibai a aji. Dalibai su juyi aikin a cikin littafin rubutunsu.

Aikin Gida

A sa dalibai su kammala sauran aikin da ke Shafi na 12 a cikin littafin rubutunsu a matsayin aikin gida.

Manufofi: Dalibai za su yi bita da gwajin abun da suka koya a cikin wannan makon.

Kayan Aiki:

Lokaci: Minti 35

Fara Darasi

Duba aikin gida (minti 3)

- Gaggauta duba aikin gida. A fada wa dalibai sakamakonsu sannan a karfafa masu gwiwa.

Waka (minti 2)

- Rera wakar tare da dalibai.

Oyoyo oyoyo

Oyoyo Baba ya dawo

Ya dawo daga kasuwa

Ya sawo muna goriba

Ni an bani guda huɗu

Na ci ɗaya saura uku

In ya ci ɗaya saura biyu

In ta ci ɗaya saura ɗaya

In ka ci ɗaya ba ko ɗaya

Koyo

Bitu da maimai (minti 10)

- A zabi wani darasi daga cikin darrusan da aka yi a cikin makon, wanda ake ganin dalibai ba su fahimce shi sosai ba. A sake koyar da darasin ko a sake koyar da shi ta wata sabuwar hanya ta daban.

Gwaji

Aikin daidaiƙun dalibai da aikin dalibai a cikin rukunoni : Zane da kuma rubutu (minti 10)

- A baiwa dalibai aikin da zai taimaka musu wajen yin gwajin darasin da aka yi bita (alal misali; debewa daga lamba 1-20 ta amfani da gidan dara goma ko layin lamba. Dalibai suna iya yin aiki a daidaiƙunsu ko kuma a cikin kananan rukunoni.
- Yayin da dalibai suke gudanar da wani aikin da aka ba su, a kara taimaka musu a inda ba su gane sosai ba.

Bayyanawa

Gwajin aikin gida (minti 10)

- A buɗe littafin dalibai shafi na 13 sannan a karanta umurnin da ke ciki.
- A yi aiki na farko tare da dalibai a aji. Dalibai su juyi aikin a cikin littafin rubutunsu.

Aikin Gida

A sa dalibai su kammala sauran aikin da ke Shafi na 13 a cikin littafin rubutunsu a matsayin aikin gida.

Manufofi: Dalibai za su iya tarawa da rarrabewa tsakanin lambobi cika da mara.

Kayan Aiki: Abubuwan kirge (kwayar wake ko tsakuwoyi)

Lokaci: Minti 35

Fara Darasi

Duba aikin gida (minti 2)

- Gaggauta duba aikin gida. A fada wa dalibai sakamakonsu sannan a karfafa masu gwiwa.

Wasan Kirge (minti 5)

- A yi wa dalibai bayanin cewa za a fadi wata lamba. Da zarar an fadi lambar, sai su fara kirge daga lambar da bibbiyu da sauri. Alal misali, idan aka ce “62,” dalibai sai su fara fadin “64, 66 68, 70...”
- Bayan ‘yan dakiku kadan, sai a ce “su tsaya.” Daga nan sai a sake maimaita wannan tsarin da wata sabuwar lamba.

Koyo

Gabatar da lambobi cika da mara (minti 8)

- **Ka/ki ce:** *A yau za mu koyi lambobi cika da mara.*
- Malami ya zagaya a cikin aji ya kirga yawan daliban ajin a bayyane tare da daliban.
- Bayan an gama kirgen rubuta yawan daliban a kan allo. Nemi dalibai su fadi lambar a bayyane.
- Daga nan, sai a nemi dalibai su zauna bibbiyu. Su samu wani dalibi daya, su tsaya tare a cikin ajin.
- **Ka/ki ce:** *Idan dalibai suka zauna bibbiyu, wannan yana nuna lambar cika ce. Idan aka bar karin daya, yana nuna lambar mara ce.*
- A nemi dalibai su fadi lambar da aka rubuta kan allo cika ce ko mara.

Gwaji

Aikin karamin rukuni: Rarrabewa tsakanin lambobi cika da mara (minti 15)

- A umurci dalibai su zauna a cikin kananan rukunonni: A zaɓi jagora daga cikin kowane rukuni da zai taimaka wajen rarraba abubuwan kirge 20 ga rukuninsu.
- **Ka/ki ce:** *Dalibi dayaa cikin rukuninku ya dauki abubuwan kirge 15 ya aje su a tsakiyar rukuninku. Sannan sai wani dalibin ya rarraba abubuwan kirgen rukuni bibbiyu.*
- A zagaya ana lura da aikin dalibai a kuma tabbata duk daliban suna rarraba abubuwan kirgen a rukunin bibbiyu.
- **Ka/ki ce:** *Shin duk abubuwan kirgen suna da‘yan uwa? Ko wannan yana nuna cewa 15 lamba ce cika ko mara?*
- A sake maimaitawa da wasu lambobi har zuwa 20.

Bayyanawa

Auna fahimta da bayyanawa (minti 5)

- A sa dalibai su nuna aikin da suka kammala ga wanda suke zaune tare wanda zai bayyana ko lambar da suka rubuta cika ce ko mara.

Aikin Gida

A nemi dalibai su tattauna abun da suka sani game da lambobi cika da mara da wani daga cikin ‘yan uwansu ko kuma abokansu.

Manufa: Dalibai za su iya gane lambobi cika da mara daga 1 zuwa 20.

Kayan Aiki: Abubuwan kirge (kwayar wake ko tsakuwoyi)

Lokaci: Minti 35

Fara Darasi

Duba aikin gida (minti 2)

- Gaggauta duba aikin gida. A fada wa dalibai sakamankonsu sannan a karfafa masu gwiwa.

Tattaunawar aji (minti 3)

- A nemi dalibi 1 ko 2 su yi wa aji bayanin bambancin da ake samu tsakanin lambobi cika da mara. (Alal misali; lambobi cika koyaushe suna iya ba da damar samun ‘yan uwada za a hada su ba tare da rage komai ba).

Koyo

Gane lambobi cika daga 1 zuwa lamba 20 (minti 10)

- **Ka/ki ce:** *Yau za mu iya gane dukkan lambobi cika da ake samu tsakanin 1 zuwa 20.*
- A kira dalibai goma su zo gaban aji. A kirga yawan daliban dake gaban ajin tare da sauran ‘yan ajin a bayyane.
- Nemi daliban dake gaban ajin su nemi abokan hadi su zama su bibbiyu.
- **Ka/ki ce:** *Idan aka samar da abokin hadi ga kowane dalibi, wannan yana nuna lambar cika ce. Idan aka bar ragowar daya kuwa, yana nuna lambar mara ce. Shin dukkan daliban nan suna da abokan hadi? Shin lamba 10 cika ce ko mara?*
- A sake maimaitawa da adadin wasu dalibai daban.

Gwaji

Aikin aji gaba daya da kuma aikin kananan rukunoni: Gane lambobi cika (minti 15)

- A umurci dalibai su zauna cikin kananan rukunoni: A zabi jagora daga cikin kowane rukuni da zai taimaka wajen rarraba abubuwan kirge 20 ga rukuninsu.
- **Ka/ki ce:** *Dalibi guda a cikin rukuninku ya aje abun kirge 1 a tsakiyar rukunin.*
- A zagaya ana lura da yadda dalibai suke aiki da abubuwan kirgen. Da zarar kowane rukuni ya aje abun kirge guda a tsakiyansa, nemi aji su fadi a bayyane cewa shin lamba 1 mara ce ko cika.
- A cigaba da cewa dalibai su kara abubuwan kirgen daya a tsakiyar rukuninsu. Yayin da dalibai suke gane lambobi cika tsakanin lamba 1 zuwa 20, a rubuta wadannan lambobin a kan allo.
- Nemi dalibai su fadi abun da suka lura da shi game da lambobi cika (alal misali; suna karewa da 0 ko 2 ko 6 ko kuma 8).
- A sake maimaitawa da wasu lambobi har zuwa 20.

Bayyanawa

Auna fahimta nan-take (minti 5)

- A rubuta wata lamba daga 1 zuwa 20 a kan allo.
- Nemi dalibai su fadi lambar cika ce ko mara.
- Nemi dalibai su daga hannunsu sama idan sun san amsar tambayar.
- Idan akwai lokaci, a maimaita da wasu lambobi daban.

Aikin Gida

A nemi dalibai su rubuta dukkan lambobi cika daga 1-20 a cikin littafin rubutunsu.

Manufa: Dalibai za su iya gane lamba mara daga 1 zuwa 20.

Kayan Aiki: Abubuwan kirge (kwayar wake ko tsakuwoyi)

Lokaci: Minti 35

Fara Darasi

Duba aikin gida (minti 2)

- Gaggauta duba aikin gida. A fada wa dalibai sakamakonsu sannan a karfafa masu gwiwa.

Tattaunawa aji (minti 3)

- A nemi dalibi 1 ko 2 su yi wa aji bayanin bambancin da ake samu tsakanin lambobi cika da mara. (Alal misali; lambobi cika koyaushe suna iya ba da damar samun 'yan uwada za a hada su ba tare da rage komai ba).

Koyo

Gane lambobi cika daga 1 zuwa lamba 20 (minti 10)

- **Ka/ki ce:** *Yau za mu iya gane dukkan lambobi mara tsakanin 1 zuwa 20.*
- A kira dalibai 11 su zo gaban aji. A kirga yawan daliban dake gaban ajin tare da sauran 'yan ajin a bayyane.
- Nemi daliban dake gaban ajin su nemi abokan hadi su zama bibbiyu.
- **Ka/ki ce:** *Idan aka samar da abokin hadi ga kowane dalibi, wannan yana nuna lambar cika ce. Idan aka bar daya kuwa, yana nuna lambar mara ce. Shin dukkan daliban nan suna da abokan hadi? Shin lamba 15 cika ce ko mara?*
- A sake maimaitawa da adadin wasu dalibai daban.

Gwaji

Aikin aji gaba daya da kuma aikin kananan rukunoni: Gane lambobi mara (minti 15)

- A umurci dalibai su zauna cikin kananan rukunoni: A zaɓi jagora daga cikin kowane rukuni da zai taimaka wajen rarraba abubuwan kirge 20 ga rukunisu.
- **Ka/ki ce:** *Dalibi dayaa cikin rukuniku ya aje abun kirge 1 a tsakiyar rukunin.*
- A zagaya ana lura da yadda dalibai suke aiki da abubuwan kirgen. Da zarar kowane rukuni ya aje abun kirge guda a tsakiyarsa, nemi aji su fadi a bayyane cewa shin lamba 1 mara ce ko cika.
- **Ka/ki ce:** *Lamba 1 mara ce saboda ba ta da abokin hadi. Daga nan sai a samu wani dalibi ya kara wani abun kirge guda a tsakiyar rukunin, sai ya zama an samu jimillar abubuwan kirge biyu.*
- A cigaba da cewa dalibai su kara abubuwan kirgen a tsakiyar rukuninsu, daya a kowane lokaci. Yayin da dalibai suke gane lambobin da suke mara tsakanin lamba 1 zuwa 20, a rubuta wadannan lambobin a kan allo.
- Nemi dalibai su fadi abin da suka lura da shi game da lambobi mara (alal misali; suna karewa da 1 ko 3 ko 5 ko kuma 9).

Bayyanawa

Auna fahimta nan-take (minti 5)

- A rubuta wata lamba daga 1 zuwa 20 a kan allo.
- Nemi dalibai su fadi lambar cika ce ko mara.
- Nemi dalibai su faga hannunsu sama idan sun san amsar tambayar.
- Idan akwai lokaci, a maimaita da wasu lambobi daban.

Aikin Gida

A nemi dalibai su rubuta dukkan lambobi mara daga 1-20 a cikin littafansu na rubutu.

Manufa: Dalibai za su iya gane lambobi mara da ciki a cikin jerin lambobi.

Kayan Aiki: Abubuwan kirge (kwayar wake ko tsakuwoyi)

Lokaci: Minti 35

Fara Darasi

Duba aikin gida (minti 2)

- Gaggauta duba aikin gida. A fada wa dalibai sakamakonsu sannan a karfafa masu gwiwa.

Wasan Kirge (minti 5)

- A yi wa dalibai bayanin cewa za a fadi wata lamba. Da zarar an fadi lambar, sai su fara kirge daga lambar da biyar-biyar da sauri. Alal misali, idan aka ce “10,” dalibai sai su fara faɗin “15, 20, 25, 30...”
- Bayan ‘yan dakikai kaɗan, sai a ce “su tsaya.” Daga nan sai a sake maimaita wannan tsarin da jerin wasu lambobi.

Koyo

Gane lambobi cika da mara a cikin jerin lambobi (minti 8)

- **Ka/ki ce:** *A yau za mu cigaba da gwajin yadda ake gane lambobi cika da mara.*
- A rubuta lambobin 41, 42, 43, 44, da kuma 45 a kan allo.
- A nemi dalibai su karanta lambobin a bayyane.
- Nemi dalibai biyar su zo gaban aji su tsaya a gaban kowace lamba.
- Nemi dalibai su yi bayanin a gaban lamba cika ko mara ce suka tsaya. Idan ba su tabbas, sauran daliban ajin suna iya faɗin amsar da karfi.
- Nemi dalibai su fadi yadda aka yi suka san lambar cika ce ko mara.
- A sake maimaitawa da jerin wasu lambobi daban da kuma wasu dalibai daban.

Gwaji

Aikin daidaiƙun dalibai da kuma dalibai bibbiyu: Gane lambobi cika da mara (minti 15)

- A nemi dalibi 1 ko 2 ya taimaka wajen rarraba littafin dalibai ga kowane dalibi. A ce dalibai su buɗe littafin a Shafi na 14.
- A karanta umurnin da kuma tambaya ta farko a bayyane ga dalibai.
- **Ka/ki ce:** *Tambaya ta farko ta nemi ku gano lambobi cika a jerin waɗannan lambobin.*
- A nemi dalibai su warware wannan lissafin a cikin littafansu na rubutu ta hanyar rubuta dukkan lambobi cika a bisa layin. Suna iya gwada amsoshinsu da na abokin zamansu.
- A zagaya ana lura da dalibai. Yayin zagayawar, a tambaye su yadda suka samar da amsar tasu, a kuma duba ko sun amsa daidai.
- Idan akwai lokaci, a kammala aikin lissafin na gaba dake a kan shafin.

Bayyanawa

Auna fahimta nan-take (minti 3)

- A sa dalibai su daga takardunsu sama su nuna abun da suka rubuta. A yabawa kwazon dalibai.

Aikin Gida

A sa dalibai su kammala sauran aikin da ke Shafi na 14 a cikin littafin rubutu a matsayin aikin gida.

Manufa: Dalibai za su yi bita da gwajin abun da suka koya a cikin wannan makon.

Kayan Aiki:

Lokaci: Minti 35

Fara Darasi

Duba aikin gida (minti 2)

- Gaggauta duba aikin gida. A fada wa dalibai sakamakonsu sannan a karfafa masu gwiwa.

Wasan Kirge (minti 5)

- A yi wa dalibai bayanin cewa za a fadi wata lamba. Da zarar an fadi lambar, sai su fara kirge daga lambar da goma-goma da sauri. Alal misali, idan aka ce “20,” dalibai sai su fara fadin “30, 40, 50, 60, 70, 80...”
- Bayan ‘yan dakikai kadan, sai a ce “su tsaya.” Daga nan sai a sake maimaita wannan tsarin da wata sabuwar lamba.

Koyo

Bitu da maimai (minti 8)

- A zabi wani darasi daga cikin darrusan da aka yi a cikin makon, wanda ake ganin dalibai ba su fahimce shi sosai ba. A sake koyar da darasin ko a sake koyar da shi ta wata sabuwar hanya daban.

Gwaji

Aikin daidaiƙun dalibai da aikin dalibai a cikin rukuni : Zane da kuma rubutu (minti 15)

- A baiwa dalibai aikin da zai taimaka masu wajen yin gwajin darasin da aka yi bita (alal misali; rarrabewa tsakanin lambobi cika da mara. Dalibai suna iya yin aiki daidaiƙunsu ko kuma a cikin kananan rukunoni.
- Yayin da dalibai suke gudanar da wani aikin da aka ba su, a kara taimaka musu a inda ba su gane sosai ba.

Bayyanawa

Bitu da kuma bayyanawa (minti 5)

- A sa dalibai su nuna aikin da suka kammala a lokacin Gwaji.

Aikin Gida

A ba dalibai aikin da za su yi bita a gida, su kuma yi gwajin kwazonsu.

Manufofi: Dalibai za su iya kawo sunayen ranakun mako da kuma ayyukan da ake yi a cikin ranakun.

Kayan Aiki:

Lokaci: Minti 35

Fara Darasi

Duba aikin gida (minti 2)

- Gaggauta duba aikin gida. A fada wa dalibai sakamankonsu sannan a karfafa masu gwiwa.

Waka (minti 3)

- Rera wakar tare da dalibai sau da yawa.
- A nemi daya daga cikin dalibai ya/ta zo gaban aji ya/ta rera wakar.

Yara, yara 'yan makaranta
A mako muna da kwanaki guda bakwai.
Lahadi muke shiri mu tsaftace tufa.
Litinin mu garzaya mu je makaranta.
Talata da Laraba mu je makaranta.
Alhamis da Juma'a mu je makaranta.
Asabar mu shakata mu je mu yi hutu.
Mu wataya mu rausaya mu je muyi wasa.

Koyo

Gabatar da ranakun mako (minti 10)

- **Ka/ki ce:** *Yau za mu koyi wani abu a kan ranakun mako. Ranakun mako su ne: Lahadi da Litinin da Talata da Laraba da Alhamis da Juma'a da kuma Asabar.*
- A rubuta kowace daga cikin ranakun makon a kan allo. A nuna kowace daga cikin ranakun da aka rubuta sannan a nemi daliban ajin su karanta ta a bayyane.
- **Ka/ki ce:** *Ranakun mako guda nawa ne?*
- A nemi dalibai su yi bayanin ayyukan da suke yi a cikin ranakun mako daban-daban. (Alal misali; a ranar Juma'a suna tafiya masallaci; Ranar litinin zuwa Juma'a suna zuwa makaranta).

Gwaji

Aikin daidaidun dalibai da kuma aiki cikin kananan rukunoni: Ranakun mako (minti 15)

- A nemi dalibai su fito da littafansu na rubutu. Kowannensu ya zabi rana dayata mako sai ya zana hoton wani abu da suke yi a wannan ranar.
- A zagaya ana lura da dalibai lokacin da suke zana hotunan.. Yayin zagayawar, a tambayi dalibai wane aiki ne suke zana hotonsa a kuma taimaka masu idan akwai bukatar hakan.
- Bayan minti 10, a nemi dukkan daliban da suka zana hoton ranar litinin su tsaya a cikin rukuni daya, dukkan daliban da suka zana hoton ranar Talata su tsaya a cikin rukuni daya, da sauransu, saboda haka za a samu rukunin dalibai na kowace rana ta mako.
- A nemi rukunin daliban su tsaya a cikin tsari daga lahadi har zuwa Asabar.

Bayyanawa

Auna fahimta nan-take (minti 5)

- A nemi dalibai su daga hannunsu sama idan sun zana hoton rana ta farkon mako (Lahadi). Idan dalibai sun daga hannuwansu sama, nemi daya daga cikin su ya fadi wace ranar mako ce.
- A maimaita da wasu ranakun mako (biyu, uku, huɗu, da sauransu.)

Aikin Gida

A nemi dalibai su zana wani aiki da suke yi a kowace rana a cikin littafansu na rubutu.

Manufofi: Dalibai za su iya gane lokacin safe a.m. da kuma lokacin yamma p.m da kuma ayyukan da ake yi a lokacin safe na a.m da kuma lokacin yamma na p.m.

Kayan Aiki: Takarda mai dauke da lokutan rana (safiya da rana da yamma da kuma dare)

Lokaci: Minti 35

Fara Darasi

Duba aikin gida (minti 2)

- Gaggauta duba aikin gida. A fada wa dalibai sakamankonsu sannan a karfafa masu gwiwa.


Labari da gwaji (minti 5)

- A bayar da labarin. Nasir ya tashi da safe ya sanya tufafinsa. Ya tafi makaranta. Da rana, ya ci abincin rana. Da yamma, ya tafi gida don ya yi wasa da abokansa ya kuma ci abinci da dare. Ya yi bacci cikin dare.
- A nemi wani dalibi ya zo gaban aji ya yi gwajin yadda labarin yake.

Koyo

Gabatar da lokaci (minti 8)

- **Ka/ki ce:** *Yau za mu koyi wani abu game da lokaci. A cikin wannan labarin Nasir ya kammala ayyuka da yawa a cikin lokuta daban-daban na rana daya: safe da rana da yamma da kuma dare. Wasu lokuta muna kiran lokacin safe da a.m. da kuma lokacin rana da yamma da dare mu kira su p.m.*



- A nuna kowane daga cikin hotunan da ke kan allo sai a nemi dalibai su maimaita abin da aka karanta yayin da ake fadin lokutan da kowane hoto daga cikinsu yake nunawa.
- Tambayi dalibai su fadi wane lokaci ne Nasir ya gudanar da ayyukansa daban-daban na wuni. Tambayi dalibai su fadi ayyukan da suke yi a lokacin safe a.m. da kuma lokacin yamma p.m.

Gwaji

Wasan aji gaba daya: Wane lokacin wuni ne? (minti 15)

- Rubuta “safe,” “rana,” “yamma” da kuma “dare” a kan kananan takardu daban-daban sai a aje su a lunguna huɗu dake cikin ajin.
- A yi bayanin cewa za a fadi wani aiki sai dukkan daliban su koma lungun ajin da aka sanya lokacin da wannan aikin ke faruwa a wuni. Alal misali; idan ka ce, “a tafi makaranta” dalibai za su koma lungun ajin wanda ke da kalmar “safe.”
- A tunawa dalibai cewa ana iya samun amsa fiye da daya ga kowane daga cikin ayyukan (alal misali; kuna iya cin abinci da safe da rana da kuma yamma)
- **Ka/ki ce:** *Cin abinci; bacci; zuwa makaranta; dawowa daga makaranta; wasa da abokai; sallah; tashi bacci; wanki; yin aikin gida na makaranta.* Bayan kowane aiki, a jira dalibai su tafi lungun da ya dace, a jira dalibai su gane lungun da ya dace su tafi.
- Tambayi daya daga cikin daliban ya fadi shin suna tsaye ne a lokacin safe na a.m ko a lokacin yamma na p.m.

Bayyanawa

Auna fahimta nan-take (minti 5)

- A kira wani lokaci cikin wuni sai a tambayi dalibai su fadi wani aiki da sukeyi a kowace rana a wannan lokacin. Tambayi daliban su fadi wane lokaci ne, shin na safe ne (a.m.) ko na yamma ne (p.m.)

Aikin Gida

A umurci dukkan daliban su zana hoton wasu ayyuka da sukeyi a lokacin safe (a.m.) da kuma lokacin yamma (p.m.) a cikin littafansu na rubutu.

Manufofi: Dalibai za su iya gane bangaroran fuskar agogo su kuma fadi lokacin da ya rage ga awa.

Kayan Aiki:

Tsawon Lokaci: Minti 35

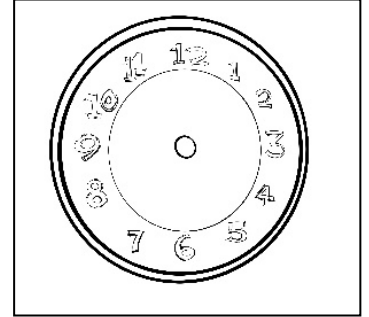
Fara Darasi

Duba aikin gida (minti 2)

- Gaggauta duba aikin gida. A fada wa dalibai sakamakonsu sannan a karfafa masu gwiwa.

Labari da kuma Hotuna (minti 5)

- A bayyana wannan labari da yake kasa.
- Fatima ta tashi bacci da karfe 7:00 na safe ta sanya tufafinta. Ta tafi makaranta da karfe 8:00a.m. na safe. Da rana, karfe 1:00 p.m. ta ci abincin rana. Da yamma, ta tafi gida ta yi wasa da abokanta da karfe 4:00 p.m. na yamma ta kuma ci abincin dare da karfe 6:00 p.m. na yamma. Ta yi bacci da karfe 8:00 p.m. na dare.
- A nemi wani dalibi ya zo gaban aji ya yi gwajin wannan labarin.



Koyo

Gabatar da awoyi (minti 15)

- **Ka/ki ce:** *A yau za mu koyi darasi a kan agogo da kuma fadin lokaci. Muna amfani da lambobin da suke kan agogo ne domin mu fadi wani lokaci. Agogo yana da hannuwa guda biyu. Babban hannu wanda koyaushe yake nuna mintoci. Da gajeren hannu wanda koyaushe yake nuna awa.*
- A nuna agogon da yake kan allo.
- **Ka/ki ce:** *Agogon yana da lambobi 1-12 da ke wakiltar awoyi daban-daban a rana. Akwai awoyi 24 a kowace rana. Gajeren hannun awa shi ke zagaya dukkan agogon sau biyu a rana, sau daya da safe a.m. da kuma sau daya da yamma, p.m.*
- A yi wa dalibai bayanin wane lokaci ne a ke ciki yanzu da gwajin yadda ake zana hoton gajeren hannun awa tare da nuna lambar dake a kan agogon.
- A sake karanta labarin Fatima. A dukkan lokacin da aka fadi, a nemi wani dalibi guda ya zo gaban aji ya zana gajeren hannun awa a kan agogon don ya nuna lokacin da yake daidai.
- A tabbata an shafe gajeren hannun awa bayan kowane dalibi ya gama aikinsa, ta yadda wani dalibi da zai biyo bayansa yana iya zuwa ya zana nasa hoton gajeren hannun awar bayansa.

Gwaji

Aikin daidaike dalibai: Gajeren hannun awa na agogo (minti 10)

- A nemi daliban su bude Shafi na 15 a cikin littafansu na rubutu.
- A karanta umurnin da aka rubuta ga daliban a kuma warware aikin na farko tare da su.
- Idan akwai lokaci, a cigaba da warware sauran ayyukan.

Bayyanawa

Auna fahimta nan-take (minti 3)

- A sa dalibai su daga abin da suka zana sama a kuma tabbatar idan sun yi daidai.

Aikin Gida

A sa dalibai su kammala sauran aikin da ke Shafi na 15 a cikin littafin rubutu a matsayin aikin gida.

Manufa: Dalibai za su iya fadin lokaci da ya rage ga rabin awa.

Kayan Aiki: Samfurin agogon gwaji da aka yi

Lokaci: Minti 35

Fara Darasi

Duba aikin gida (minti 2)

- Gaggauta duba aikin gida. A fada wa dalibai sakamaku sannan a karfafa masu gwiwa.

Wasan Kirge (minti 3)

- A yi wa dalibai bayanin cewa za a fadi wata lamba. Da zarar an fadi lambar, sai su fara kirge daga lambar da biyar-biyar da sauri. Alal misali, idan aka ce “25,” dalibai sai su fara fadin “30, 35, 40, 45...”.
- Bayan ‘yan dakikai kadan, sai a ce “su tsaya.” Daga nan sai a sake maimaita wannan tsarin da wata sabuwar lamba.

Koyo

Gabatar da rabin awa (minti 15)

- **Ka/ki ce:** *A yau za mu fadi lokacin da ya rage ga rabin awa ta hanyar amfani da agogo.*
- A tambayi dalibai su fadi wane daga cikin hannayen agogon ne hannun awa sannan kuma wane ne hannun dake nuna minti.
- **Ka/ki ce:** *Agogon yana da lambobi 1-12 dake nuna awoyi a kowace rana. Hannun awa yana zagayar agogon sau biyu a rana. Hannun dake nuna minti kuwa yana zagayar agogon sau daya a cikin kowace awa, ko kuma sau 24 a kowace rana. Akwai mintuna 60 a cikin kowace awa, saboda haka muna iya yin kirge da biyar-biyar domin mu fadi mintuna.*
- A nuna kowace daga cikin lambobin dake a kan agogon, sannan sai a yi kirgen tare da dalibai da biyar-biyar domin a nuna mintunan.
- **Ka/ki ce:** *Idan hannun minti ya kai kusan tsakiyar agogon, za mu ce, “da rabin” awa.*
- A zana hoton lokaci 1:30 a kan agogo.
- **Ka/ki ce:** *Wannan lokacin 1:30 ko daya da rabi kenan.*
- A zana hoton lokacin 3:30 a kan allo. A nemi dalibai su daga hannunsu sama don su fadi lokacin da aka nuna.
- Idan akwai lokaci, a nunawa dalibai karin wasu misalai.

Gwaji

Aikin daidai dalibai: Awa da rabin awa (minti 10)

- A nemi dalibi 1-2 su taimaka wajen rarraba littafan dalibai ga ajin. A nemi daliban su buɗe agogon da bai da komai a cikinsa dake gaban littafin nasu su kuma dauko fensira ko tsinke guda biyu.
- **Ka/ki ce:** *A dauka cewa fensir daya shi ne hannun awa, sannan dayan kuma shi ne hannun dake nuna minti a kan agogon. Idana na fadi wani lokaci a bayyane, ku yi amfani da fensiran guda biyu wajen nuna daidai lokacin.*
- A fadi lokutan a bayyane: 3:30, 1:30, 8:30 da kuma 2:00.
- Bayan an fadi kowane lokaci, a zagaya don a lura da daliban a kuma taimaka musu.

Bayyanawa

Auna fahimta nan-take (minti 5)

- A nuna lokaci karfe 9:30 akan agogon gwaji ko a zana hotonsa a kan allo. Nemi dalibai su daga hannunsu sama idan suna iya fadin lokacin. A yaba wa kwazonsu.

Aikin Gida

A sa dalibai su zana agogo a cikin littafansu na rubutu dake nuna lokaci karfe 5:30.

Manufa: Dalibai za su yi bita da gwajin abin da suka koya a cikin wannan makon.

Kayan Aiki:

Lokaci: Minti 35

Fara Darasi

Duba aikin gida (minti 2)

- Gaggauta duba aikin gida. A fada wa dalibai sakamakonsu sannan a karfafa masu gwiwa.

Wasan Kirge (minti 5)

- A yi wa dalibai bayanin cewa za a fadi wata lamba. Da zarar an fadi lambar, sai su fara kirge daga lambar da biyar-biyar da sauri. Alal misali, idan aka ce “65,” dalibai sai su fara fadin “75”, 80, 85, 90...”.
- Bayan ‘yan dakikai kadan, sai a ce “su tsaya.” Daga nan sai a sake maimaita wannan tsarin da wata sabuwar lamba.

Koyo

Bitu da maimai (minti 8)

- A zaɓi wani darasi daga cikin darrusan da aka yi a cikin makon, wanda ake ganin dalibai ba su fahimce shi sosai ba. A sake koyar da darasin ko a sake koyar da shi ta wata sabuwar hanya daban.

Gwaji

Aikin daidaiƙun dalibai da aikin dalibai a cikin rukuni : Zane da kuma rubutu (minti 15)

- A baiwa dalibai aikin da zai taimaka masu wajen yin gwajin darasin da aka yi bita (alal misali; fadin lokacin da ya rage a awa ko kuma rabin awa). Dalibai suna iya yin aiki daidaiƙunsu ko kuma a cikin kananan rukunoni.
- Yayin da dalibai suke gudanar da wani aikin da aka ba su, a kara taimaka musu a inda ba su gane sosai ba.

Bayyanawa

Bitu da kuma bayyanawa (minti 5)

- A sa dalibai su nuna aikin da suka kammala a lokacin Gwaji.

Aikn Gida

A ba dalibai aikin da za su yi bita a gida, su kuma yi gwajin kwazonsu.

Darasin Lissafi Aji 2, Zango na 1, Mako na 6 – Jarrabawar tsakiyar Zango

Kidaya da goma-goma daga goma zuwa dari. (A bayar da maki biyu idan an amsa daidai)



Tara waɗannan lambobi a fitar da amsa. (A bayar da maki biyu idan an amsa daidai)

$$15 + 4 = \underline{\quad}$$

Debe waɗannan lambobi a fitar da amsa. (A bayar da maki biyu idan an amsa daidai)

$$12 - 8 = \underline{\quad}$$

Fadi lokaci da waɗannan agogunan suke nuwawa. (A bayar da maki uku ga kowace amsa)



Karanta lambobi mara da ke kasa. (A bayar da maki daya ga kowace amsa, har zuwa maki 3)

42, 75, 81, 6, 9, 32, 66, 90, 100

Manufofi: Dalibai za su yi kirgen tsallaken lambobi biyu-biyu da biyar-biyar da kuma goma-goma zuwa 100 ta amfani da abubuwan kirge da kuma Jadawalin Lambobi 1-100.

Kayan Aiki: Jadawalin Lambobi 1-100

Lokaci: Minti 35

Fara Darasi

Duba aikin gida (minti 2)

- Gaggauta duba aikin gida. A fada wa dalibai sakamaku sanna a karfafa masua gwiwa.

Ni wace lamba ce? (minti 3)

- A yi wasan Ni Wace Lamba Ce? A karanta kowane daya daga cikin wadannan jawaban a bayyane. Idan dalibai sun bayar da amsa daidai, a nuna lambar da suka fadi a kan Jadawalin lambobi 1-100.
- **Ka/ki ce:** Da 2 na fi 2.
- **Ka/ki ce:** Da 5 na fi 20.
- **Ka/ki ce:** Da 10 na fi 36.

Koyo

Kirgen tsallaken lamba da biyu-biyu zuwa 100 (minti 10)

- **Ka/ki ce:** A yau zamu yi kirgen tsallaken lamba da biyu-biyu da biyar-biyar da kuma goma-goma zuwa 100.
- A yi kirgen tsallaken biyu-biyu a fara da 0 har zuwa 100 yayin da ake nuna lambar da aka kirga a kan jadawalin lambobi 1-100. A nemi dalibai su karanta tare da malami.
- A maimaita kirgen tsallaken biyar-biyar da kuma goma-goma. A sa dalibai su yi kirgen tsallaken lambar da abokan zamansu.
- A tambayi dalibai su fadi me ya fi sauƙi gare su kuma me ya fi wahala gare su.

1	2	3	4	5	6	7	8	9	10
11	12	13	14	15	16	17	18	19	20
21	22	23	24	25	26	27	28	29	30
31	32	33	34	35	36	37	38	39	40
41	42	43	44	45	46	47	48	49	50
51	52	53	54	55	56	57	58	59	60
61	62	63	64	65	66	67	68	69	70
71	72	73	74	75	76	77	78	79	80
81	82	83	84	85	86	87	88	89	90
91	92	93	94	95	96	97	98	99	100

Gwaji

Wasan aji gaba daya: Kirge zuwa 100 da biyu-biyu da biyar-biyar da kuma goma-goma (minti 15)

- A sa dalibai su tsaya a cikin babbar da'ira. A ba da kwallo ko wata dunkulallar takarda da aka nade ga wani dalibi daya dake cikin da'irar.
- A yi wa daliban bayanin cewa za su yi kirge da biyu-biyu zuwa 100 ta amfani da jefa kwallon da kuma kama ta. Duk dalibin da ya kama kwallon to zai fadi lambar dake kan tsari ta gaba (alal misali; idan dalibin farko ya ce 2, dalibi na gaba zai ce 4, da sauransu.)
- A zagaya ana lura da aikin daliban yayin da suke jifa da kama kwallon, suna fadin lambobin dake gaba bisa tsari har zuwa 100.
- A maimaita wasan, a wannan lokaci da kirgen tsallaken lamba biyar-biyar. Sannan sai a yi kirgen tsallaken lamba goma-goma.

Bayyanawa

Auna fahimta nan-take (minti 5)

- Nuna wata lamba a cikin jadawalin 100.
- Umurci dalibai su daga hannunsa sama idan sun san amsar sai a kira wani/wata dalibi/daliba su fadi amsar a bayyane.
- Umurci sauran dalibai su bayyana ra ayinsu ta hanyar daga babban dan yatsansu ya kalli sama idan daidai ne ko kuma ya kalli kasa idan ba daidai bane. A yiwa dalibai gyara yadda ya dace.

Aikin Gida

A umurci dalibai su yi gwajin kirgen tsallaken lamba da biyu-biyu da biyar-biyar da kuma goma-goma zuwa 100 a gida.

Manufa: Dalibai za suyi bitar tarawa zuwa 20.

Kayan Aiki: Katin Lambobi 1-20 da alamar + da alamar = da kuma wake ko tsakuwoyi

Lokaci: Minti 35

Fara Darasi

Duba aikin gida (minti 3)

- Gaggauta duba aikin gida. A fada wa dalibai sakamakonsu sannan a karfafa masu gwiwa.

Waka (minti 2)

- Umurci dalibai su rera wakar tare da kai/ke.

Wakar Tarawa

Ana batun tarawa /

Komai a tara da daya /

1+1= 2 / 2+1= 3 / 3+1= 4 /

4+1= 5 / 5+1= 6 / 6+1= 7 /

7+1= 8 / 8+1= 9 / 9+1= 10

Koyo

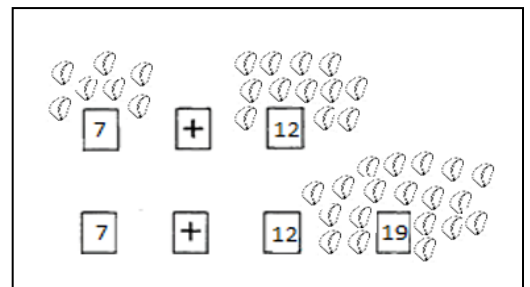
Bitar Tarawa zuwa 20 (minti 10)

- Ka/Ki ce:** A yau za mu yi bitar tara lambobi da basu wuce 20 ba.
- Umurci dalibai bakwai su fito gaban allo. Tambayi sauran 'yan aji ko dalibai nawa ne a gaban allo sai ka basu kati mai dauke da lamba 7.
- Kira karin dalibai 12 zuwa gaban allo sai a basu rukunin kati mai dauke da lamba 12.
- Kirga duka daliban da ke gaban allo tare da sauran 'yan aji a bayyane.
- Kira dalibi/daliba ya/ta zo gaban allo ya/ta sa alamar + da kuma alamar = don a yi fasalin lissafin.
- Ka/Ki ce:** Dalibai 7 da dalibai 12 sun zama dalibai 19 kenan, saboda haka $7 + 12 = 19$.
- A maimaita da wasu adadin dalibai daban.

Gwaji

Aikin karamin rukuni: Amfani da katin lambobi wajen rubuta fasalin lissafi (minti 15)

- Umurci daliba su zauna cikin kananan rukuni.
- Zabi shugaba a cikin kowane rukuni don yataimaka raba abubuwan kirge, katin lamba 2 da alamar + da alamar = ga kowane rukuni.
- Umurci rukunai su yi fasalin lissafi daidai da katin lambobinsu. Dalibai su yi amfani da abubuwan kirge da katin lambobi domin warware aikin lissafin.
- A zagaya ana lura da dalibai. Yayin zagayawar, a tambayi dalibai yadda suka samo amsar su, a kuma duba ko sun amsa daidai.
- A umurci dalibai su sauya katin lambobinsu da wani rukunin, sai a yi wani sabon fasalin lissafi.



Bayyanawa

Auna fahimta nan take (minti 5)

- Rubuta fasalin lissafi a kan allo ($13 + 5 =$).
- Umurci dalibai su warware fasalin lissafin, sai a kira wani dalibi/daliba ya/ta fadi amsar a bayyane.
- A nemi wasu dalibai su duba idan amsar daidai take ko ba daidai take ba ta hanyar daga babban yatsansu ya kalli sama ko kuma kasa. A yi gyara idan akwai bukatar hakan.

Aikin Gida

Umurci dalibai su warware aikin lissafin $15 + 4 = \underline{\quad}$ a cikin littafan rubutunsu.

Manufa: Dalibai za su yi bitar lissafin debewa daga lamba 1-20.

Kayan Aiki: Katunan lamba 1-20 da katunan alamar – da alamar = da abubuwan kirge da kwalabe

Lokaci: Minti 35

Fara Darasi

Duba aikin gida (minti 3)

- Gaggauta duba aikin gida. A fada wa dalibai sakamankonsu sannan a karfafa masu gwiwa.

Waka (minti 2)

- Rera wakar tare da dalibai.

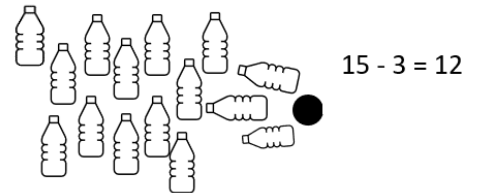
Oyoyo oyoyo
Oyoyo Baba ya dawo
Ya dawo daga kasuwa
Ya sawo muna goriba
Ni an bani guda huɗu

Naci daya saura uku
In ya ci daya saura biyu
In ta ci daya saura daya
In ka ci daya ba ko daya

Koyo

Bitar: Debewa tsakanin lamba 1-20 (minti 10)

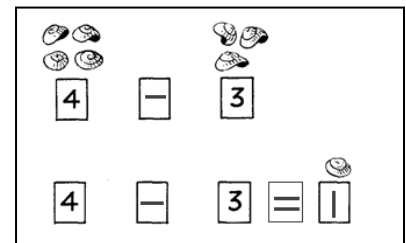
- Ka/ki ce:** A yau za mu yi bitar yadda ake debewa cikin lambobi 1 zuwa ashirin.
- A jera robobi goma sha biyar. A nemi daliban aji su fadi robobi nawa ne aka aje a tsaye.
- A kiran wani dalibi ya zo gaban aji sannan sai a nemi ya jefa kwallo do dunkulallar takarda ga robobin da aka jera. A kirga guda nawa suka fadi kasa.
- A nemi wani dalibi ya rubuta fasalin daidaiton a kan allo. Alal misali, idan akwai robobi goma sha biyar a tsaye, sai dalibin ya buge guda uku suka fadi kasa, za su rubuta $15 - 3 = 12$ a kan allo.
- A maimaita da adadin wasu robobin daban guda ashirin da dalibai daban-daban.



Gwaji

Aiki cikin karamin rukuni: Amfani da katunan lamba a rubuta fasalin daidaito (minti 15)

- A nemi dalibai su zauna a cikin kananan rukunoni.
- A zabi jagora daga kowane rukuni da zai taimaka wajen raba abubuwan kirge da katunan lamba 2 da katin alamar debewa da alamar sa amsa ga kowane rukuni.
- Umurci rukunoni su tsara fasalin lissafin wanda ya yi daidai da katunan lambobinsu. Dalibai su yi amfani da abubuwan kirge da katunan lamba domin su warware fasalin lissafin daidai.
- A zagaya ana lura da aikin dalibai yayin da ake kiran lambobin. A yayin zagayawar, a tambayi dalibai yadda suka samo amsar tasu, a kuma duba ko sun amsa daidai.
- A nemi dalibai su musaya daya daga cikin katunan lambarsu da wani rukuni, sannan sai su tsara wani fasalin lissafin.



Bayyanawa

Auna fahimta nan take (minti 5)

- A rubuta wani fasalin lissafi a kan allo (misali; $19 - 5 = 14$).
- Umurci dalibai su warware wannan lissafin, su kuma daga hannunsu idan sun san amsar da take daidai.

Aikin Gida

A umurci dalibai su warware lissafin $17 - 6 = \underline{\quad}$ a cikin littafansu na rubutu.

Manufa: Dalibai za su gane lambobi cika da mara.

Kayan Aiki: Abubuwan kirge (kwayar wake ko tsakuwoyi)

Lokaci: Minti 35

Fara Darasi

Duba aikin gida (minti 2)

- Gaggauta duba aikin gida. A fada wa dalibai sakamankonsu sannan a karfafa masu gwiwa.

Ni wace lamba ce? (minti 3)

- A yi wasan Ni Wace Lamba Ce? A karanta kowane daya daga cikin wadannan jawaban a bayyane. Idan dalibai sun bayar da amsa daidai, a nuna lambar da suka fadi a kan Jadawalin lambobi 1-100.
- **Ka/ki ce:** *Da 2 na fi 62.*
- **Ka/ki ce:** *Da 5 na fi 35.*

Koyo

Gane lambobi cika da mara (minti 10)

- **Ka/ki ce:** *A yau za mu yi darasi akan yadda ake gane lambobi cika da mara.*
- A zagaya a cikin aji, a kirga yawan daliban dake cikin ajin gaba daya a bayyane.
- A rubuta lambobin 41, 42, 43, 44, da kuma 45 a kan allo.
- Bayan an gama kirga dukkan daliban, a rubuta jimillar yawansu a kan allo. A nemi dalibai su fadi lambar a bayyane.
- Daga nan, sai a nemi kowane dalibi ya samu abokin hadi, su zama bibbiyu. Su kuma samu wani dalibi guda su tsaya kusa da shi., Idan aka samu dalibin da bai samu abokin hadi ba, ya zo ya tsaya a gaban aji.
- **Ka/ki ce:** *Ku tuna, idan a ka samu abokin hadi ga kowane dalibi, to wannan lamba ce cika. Idan aka samu ragowar daya kuwa, to a nan lambar mara ce.*
- Umurci dalibai su fadi shin lambar da ke rubuce a kan allo cika ce ko mara.

Gwaji

Aikin daidaike dalibai ko aikin dalibai bibbiyu: Gane lambobi mara da cika (minti 15)

- A nemi dalibai 1-2 da za su taimaka wajen rarraba littafan dalibaiga kowane dalibi. A nemi dalibai su buɗe littafan rubutunsu Shafi na 16.
- A karanta umurni da aka rubuta da tambayar farko a bayyane ga dalibai.
- **Ka/ki ce:** *Wadanne lambobi ne cika a cikin jerin lambobin da aka rubuta a layin farko. Ta yaya kuka san haka?*
- A umurci dalibai su warware lissafin a cikin littafansu na rubutu ta hanyar rubuta lambobi cika a bisa layin. Suna iya nunawa abokan zamansu amsar da suka rubuta.
- A zagaya ana lura da dalibai. Yayin zagayawar, a tambayi dalibai yadda suka samo amsar tasu, a kuma duba ko sun amsa daidai.
- Idan akwai lokaci, a kammala lissafi na gaba dake a kan shafin.

Bayyanawa

Auna fahimta nan-take (minti 5)

- A sa dalibai su daga takardunsu sama, su nuna abun da suka rubuta. A yaba wa kwazonsu.

Aikin Gida

A sa dalibai su kammala sauran aikin da ke Shafi na 16 a cikin littafan rubutunsu a matsayin aikin gida.

Manufa: Dalibai za su iya kirgen daidai da kirgen goma-goma har zuwa 200.

Kayan Aiki: Jadawalin lambobi 1-200 da aka rubuta a kan allo

Lokaci: Minti 35

Fara Darasi

Duba aikin gida (minti 2)

- Gaggauta duba aikin gida. A fada wa dalibai sakamaku sanna a karfafa masu gwiwa.

Wasan Bayyanawa da Raƙa: Kirge daga 1 zuwa 100 da daidai (minti 3)

- A yi kirge daga 1 zuwa 100 a kan jadawalin lambobin, tare da nuna kowace lamba a lokacin da ake fadinta. A umurci dalibai su yi kirgen tare da malami, ana sassauyawa tsakanin bayyanawa da kuma raƙa (alal misali: daga 1 zuwa 9 dukkan dalibai za su karanta lambobin a bayyane. Daga 10 zuwa 19, dukkan dalibai za su yi karatun cikin raƙa. A cigaba da yin haka har zuwa 100.

Koyo

Wasan Bayyanawa ihu da Raƙa: Kirge daga 100 zuwa 200 da bibbiyu (minti 5)

- **Ka/ki ce:** *A yau za mu yi koyi yadda ake kirge zuwa 200.*
- A yi kirge daga 100 zuwa 200 a kan jadawalin lambobi, tare da nuna kowace lamba a lokacin da ake fadinta. A nemi dalibai su yi kirgen tare da malami, ana sassauyawa tsakanin bayyanawa da kuma raƙa.
- A sake maimaitawa sau ɗaya, ta yadda dalibai za su saba da kirgen daidai daga 100 zuwa 200.

Kirgen Tsallake da goma-goma zuwa 200 (minti 5)

- **Ka/ki ce:** *Ana daukar lokaci mai tsawo wajen yin kirge da daidai. Bari mu yi gwajin yin kirge da goma-goma.*
- A yi kirgen tsallake daga 0 zuwa 200 da goma-goma, ana nunawa daga jadawalin lambobin dake kan allo. Nemi dalibai da su yi kirgen tare da malami. A tambayi dalibai ko sun lura da wani tsari.
- **Ka/ki ce:** *Idan muka yi kirgen tsallake da goma-goma, kowace lamba za ta kare da wata lambar irinta. Idan mun fara daga 0, kowace lamba za ta kare da 0. Idan mun fara da 1, kowace lamba za ta kare da 1.*
- A yi kirgen tsallake daga 1 zuwa 201 da goma-goma, ana nunawa daga jadawalin lambobi. A nemi dalibai su yi kirgen suma.

Gwaji

Wasan aji gaba ɗaya: Kirge zuwa 200 da daidai da kuma goma-goma (minti 15)

- A sa dalibai su tsaya a cikin babbar da'ira. A ba da kwallo ko dunkulallar takarda da aka naɗe ga wani dalibi ɗaya dake cikin da'irar.
- A yi wa daliban bayanin cewa za su yi kirge da daidai zuwa 200 ta amfani da jefa kwallon da kuma kama ta. Duk dalibin da ya kama kwallon to zai faɗi lambar dake kan tsari ta gaba (alal misali; idan dalibin farko ya ce 1, dalibi na gaba zai ce 2, dalibin dake bin sa ya ce 3, da sauransu.)
- A zagaya ana lura da aikin daliban yayin da suke jefa da kama kwallon, suna faɗin lambobin dake gaba bisa tsari har zuwa 200.
- A maimaita wasan, a wannan lokaci da kirgen tsallaken lamba goma-goma har zuwa 200.

Bayyanawa

Auna fahimta nan-take: Rubutu da daidai da kuma goma-goma (minti 5)

- A faɗi wata lamba tsakanin lamba 1-200.
- A nemi dalibai su rubuta lambar a cikin littafansu na rubutu.
- Bayan wani lokaci kaɗan, a rubuta lambar a kan allo, sai a nemi dalibai su bincika amsar da suka rubuta.

Aikin Gida

A sa dalibai su yi gwajin kirge da daidai da kuma goma-goma zuwa 200 a gida.

Manufofi: Dalibai za su iya kirge da rubuta lambobi biyar-biyar har zuwa 200.

Kayan Aiki: Jadawalin lambobi 1-200 da aka rubuta a kan allo

Lokaci: Minti 35

Fara Darasi

Duba aikin gida (minti 2)

- Gaggauta duba aikin gida. A fada wa dalibai sakamakonsu sannan a karfafa masu gwiwa.

A yi Wasan Sunan Lamba (minti 3)

- A rubuta lambar a kan allo. A nemi dalibai su fadi sunan lambar. A maimaita sau da yawa.

Koyo

Gabatar da kirge da biyar-biyar zuwa 200 (minti 10)

- **Ka/ki ce:** *Jiya mun koyi yadda ake kirge da goma-goma zuwa 200. A yau za mu yi kirge da biyar-biyar zuwa 200.*
- Dalibai su bude hannuwansu a gabansu ta yadda duk 'yan ajin za su ga yatsun nasu.
- **Ka/ki ce:** *Yatsu nawa muke da su a hannu daya?*
- **Ka/ki ce:** *Kasancewar dalibai suna da yatsu biyar a hannu daya, muna iya amfani da yatsunmu wajen yin kirge da biyar-biyar.*
- A nunawa dalibai yadda ake kirga zuwa 200 da biyar-biyar ta amfani da yatsunsu a matsayin misali. Suna iya kirga yatsunsu huɗu na farko, a asirce, sannan sai su fadi lambar yatsan na biyar a bayyane.
- Daga nan, sai a yi kirgen tsallake daga 0 zuwa 200 da biyar-biyar, ana nunawa daga jadawalin lambobi. A sa dalibai su karanta a bayyane tare da malami. A tambayi dalibai idan sun lura da wani tsari.
- **Ka/ki ce:** *Idan mun fara da 0 muka yi kirgen tsallake da biyar-biyar, lambar za ta kare da 5 ko kuma 0.*

Gwaji

Aikin daidaiƙun dalibai ko aikin dalibai bibbiyu: A gyara tsarin (minti 15)

- A rubuta lambobin "100 da 106 da 110 da 115 da 120" a kan allo.
- **Ka/ki ce:** *Idan ina kirgen tsallake da biyar-biyar, wace lamba ce ba daidai ba?*
- A nemi dalibai su yi aiki tare don su gano wace lamba ce ba daidai ba, kuma wace lamba ce daidai da ya kamata a rubuta. Dukkan daliban, su rubuta amsoshinsu a cikin littafansu na rubutu. Suna iya duba amsarsu da ta abokan zamansu.
- A zagaya a lura da aikin da daliban ke yi a kuma taimaka masu.
- A gayyato dalibai guda 2 su bayyana amsoshinsu, su yi bayanin yadda suka gano lambar da ba daidai ba.
- A maimaita aikin da wasu misalai.

Bayyanawa

Auna fahimta nan-take (minti 5)

- A sa dalibai su daga littafansu sama, su nuna abun da suka rubuta. A yaba wa dalibai.

Aikin Gida

A sa dalibai su yi gwajin kirge da biyar-biyar zuwa 200 a gida. Dalibai su nuna aikinsu ga wani dan'uwansu ko abokinsu, su kuma tattauna a kan ko yin kirge da daidai ko biyar-biyar ko goma-goma yana da sauki.

Manufofi: Dalibai za su iya kirge da rubuta lambobi da bibbiyu har zuwa 200.

Kayan Aiki: Jadawalin lambobi 1-200 da aka rubuta a kan allo

Lokaci: Minti 35

Fara Darasi

Duba aikin gida (minti 3)

- Gaggauta duba aikin gida. A fada wa dalibai sakamakonsu sannan a karfafa masu gwiwa.

A yi Wasan Sunan Lambar (minti 2)

- A rubuta wata lamba a kan allo. A nemi dalibai su fadi sunan lambar. A maimaita sau da yawa.

Koyo

Kirge da bibbiyu zuwa 200 (minti 10)

- **Ka/ki ce:** *A yau za mu koyi yadda ake kirge da bibbiyu zuwa 200.*
- A umurci dalibai su daga yatsunsu sama gwargwadon yadda suke iyawa a saman iska.
- **Ka/ki ce:** *Bari mu kirga kowane rukunin yatsun. Muna iya yin kirge da bibbiyu.*
- A zagaya cikin ajin a nuna kowane yatsan dalibi. A umurci dalibai su kirga 2 da 4 da 6 da 8 da sauransu har sai duk dalibai sun kirga yatsunsu. A umurci dalibai da su aje yatsunsu kasa bayan sun gama kirga su.
- Daga nan, sai a yi kirgen tsallake da bibbiyu, a fara da 0 zuwa 200, ana nuna kowace lamba daga cikin Jadawalin lambobin da aka zana a kan allo. A nemi dalibai su yi kirgen tare da malami. A tambayi dalibai ko sun lura da wani tsari.
- **Ka/ki ce:** *Idan mun fara kirge da 0 muka yi kirgen tsallake da bibbiyu, lambar za ta kare da 0 ko 2 ko 4 ko 6 ko kuma 8.*

Gwaji

Aikin daidaiƙun dalibai ko aikin dalibai bibbiyu: A gyara tsarin (minti 10)

- A rubuta lambobin “102 da 104 da 105 da 108 da 110” a kan allo.
- **Ka/ki ce:** *Idan ina kirgen tsallake da bibbiyu, wace lamba ce ba daidai ba?*
- A umurci dalibai su yi aiki tare don su gano wace lamba ce ba daidai ba, kuma wace lamba ce daidai wadda ya kamata a rubuta. Dukkan daliban su rubuta amsoshinsu a cikin littafansu na rubutu. Suna iya duba amsarsu da ta abokan zamansu.
- A zagaya ana lura da dalibai a kuma taimaka musu.
- A gayyato dalibai guda 2 su bayyana amsoshinsu, su yi bayanin yadda suka gano lambar da ba daidai ba.
- A maimaita aikin da wasu misalai.

Bayyanawa

Gwajin aikin gida (minti 10)

- A buƙe littafin dalibai shafi na 17 sannan a karanta umurnin ciki.
- A yi aiki na farko tare da dalibai a aji. Dalibai su juyi aikin a cikin littafan rubutunsu.

Aikin Gida

A sa dalibai su kammala sauran aikin dake Shafi na 17 a cikin littafansu na rubutu a matsayin aikin gida. Dalibai su nuna aikinsu ga wani ƙan'uwansu ko abokinsu, su kuma tattauna a kan ko yin kirge da daidai ko biyu-biyu ko biyar-biyar ko goma-goma yana da sauƙi.

Manufa: Dalibai za su iya cike lambobi da babu tsakanin lamba 1 zuwa 200.

Kayan Aiki: Katunan lamba 1-10

Lokaci: Minti 35

Fara Darasi

Duba aikin gida (minti 3)

- Gaggauta duba aikin gida. A fada wa dalibai sakamankonsu sannan a karfafa masu gwiwa.

Ni wace lamba ce? (minti 2)

- A karanta kowane daga cikin waƙannan jawaban. A nemi dalibai su ba da amsa tare da faɗin lambar a bayyane. Idan daliban sun ba da amsa daidai, a nuna lambar da suka karanta a kan jadawalin lambobi 1-100.
- **Ka/ki ce:** *Da 1 na fi 199. Wace lamba nake?*
- **Ka/ki ce:** *Da 5 na fi 125. Wace lamba nake?*

Koyo

Gabatar da lambobi da babu (minti 10)

- **Ka/ki ce:** *A yau za mu nemo lambobi da babu.*
- A sa dalibai 10 su zo gaban aji. Kowannensu ya dauki katin lamba guda sannan sai su jera kansu bisa tsari daga 1 zuwa 10. Za su tsaya a cikin layi, suna kallon ajin, su kuma daga katin lambobinsu sama.
- **Ka/ki ce:** *Muna da dalibai 10, masu lambobi 1-10.*
- A sa dalibin da yake dauke da lamba ta 2, ya boye katin lambar.
- **Ka/ki ce:** *Yanzu dole mu yi tunani, wace lamba ce ta bata? Wace lamba ce ke zuwa bayan 1 ko kuma kafin 3?*
- A maimaita aikin da wasu dalibai daban, suna boye lambobinsu.

Gwaji

Aiki a cikin karamin rukuni: Gano lambobi da babu (minti 10)

- A sa dalibai su zauna a cikin kanana rukunai. A nemi kowane rukuni su zaɓi jagora guda.
- A rubuta lambobin “141 da 142, ____, 144 da 145 da 146” a kan allo.
- **Ka/ki ce:** *Wace lamba ce ta bata a tsarin?*
- A sa dalibai su yi aiki tare domin su gano lambar da ta bata. Dukkan daliban su rubuta amsarsu a cikin littafansu na rubu.
- A zagaya ana lura da dalibai a kuma taimaka masu.
- A gayyato rukunonin su faɗi amsoshinsu, su kuma yi bayanin idan sun yi kirgen su ne da daidai ko bibbiyu ko biyar-biyar ko kuma goma-goma.
- A maimaita aikin da wasu misalai; (kirge da daidai da bibbiyu da biyar-biyar da kuma goma-goma).

Bayyanawa

Gwajin aikin gida (minti 10)

- A buɗe littafin dalibai shafi na 18 sannan a karanta umurnin ciki.
- A yi aiki na farko tare da dalibai a aji. Dalibai su juyi aikin a cikin littafan rubutunsu.

Aikin Gida

A sa dalibai su kammala sauran aikin da ke Shafi na 18 a cikin littafin rubutunsu a matsayin aikin gida.

Manufofi: Dalibai za su yi bita da gwajin abun da suka koya a cikin wannan makon.

Kayan Aiki:

Lokaci: Minti 35

Fara Darasi

Duba aikin gida (minti 2)

- Gaggauta duba aikin gida. A fada wa dalibai sakamakonsu sannan a karfafa masu gwiwa.

Wasan Bayyanawa da Raɗa: Kirge daga 0 zuwa 100 da daidai da bibbiyu da biyar-biyar da kuma goma-goma (minti 5)

- A yi kirge daga 0 zuwa 100 a kan jadawalin lambobin, tare da nuna kowace lamba a lokacin da ake fadinta. A nemi dalibai su yi kirgen tare da malami, ana sassauyawa tsakanin bayyanawa da kuma raɗa (alal misali: daga 0 zuwa 9 dukkan dalibai za su karanta lambobin a bayyane. Daga 10 zuwa 19, dukkan dalibai za su yi karatun cikin raɗa. A cigaba da yin haka har zuwa 100..
- A maimaita kirgen zuwa 200 da bibbiyu da biyar-biyar da kuma goma-goma.

Koyo

Bitu da maimai (minti 8)

- A zabi wani darasi daga cikin darrusan da aka yi a cikin makon, wanda ake ganin dalibai ba su fahimce shi sosai ba. A sake koyar da darasin ko a sake koyar da shi ta wata sabuwar hanya daban.

Gwaji

Aikin daidaiƙun dalibai da aikin dalibai a cikin rukuni: Zane da kuma rubutu (minti 15)

- A ba dalibai aikin da zai taimaka musu wajen yin gwajin darasin da aka yi bita (alal misali; kirge zuwa 200 da daidai ko bibbiyu ko kuma goma-goma). Dalibai na iya yin aiki a daidaiƙunsu ko kuma a cikin kananan rukunai.
- Yayin da dalibai suke gudanar da wani aikin da aka ba su, a kara taimaka musu a inda ba su gane sosai ba.

Bayyanawa

Auna fahimta da bayyanawa (minti 5)

- A sa dalibai su nuna aikin da suka kammala a lokacin Gwajin.

Aikin Gida

A ba dalibai aikin gida na bita da kuma gwajin kwazonsu.

Manufa: Dalibai za su yi amfani da kara da damin kara don su nuna kimar lamba na lambobi har zuwa lamba ta 99.

Kayan Aiki: Kara da zare

Lokaci: Minti 35

Fara Darasi

Duba aikin gida (minti 2)

- Gaggauta duba aikin gida. A fada wa dalibai sakamakonsu sannan a karfafa masu gwiwa.

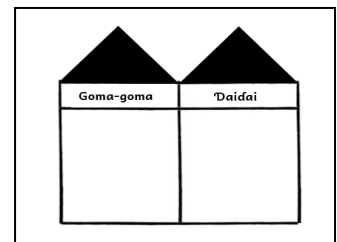
Wasan Bayyanawa da Rada: Kirge daga 0 zuwa 100 da daidai (minti 3)

- A yi kirge daga 0 zuwa 100 a kan jadawalin lambobin, tare da nuna kowace lamba a lokacin da ake fadinta. A nemi dalibai su yi kirgen tare da malami, ana sassauyawa tsakanin bayyanawa da rada.

Koyo

Gabatar da Gidan goma-goma da gidan daida ta amfani da damin kara (minti 10)

- Ka/ki ce:** A yau za mu koyi wani abu a kan kimar lamba.
- A bayyana labarin dake kasa yayin da ake gwajin ayyukan da kara.
- Ka/ki ce:** Musa ya kewaya ya samo wasu kara. Ya kirga karan. Bayan ya kirga karan, ya hada damin kara guda 10. Ya dauki wani dan zare ya daure kara guda 10 wuri guda, don ya samar da damin kara goma. Daga nan sai ya sake kirga wasu kara guda 10, ya daure su wuri guda don ya samar da wani damin 10 na biyu. Ya kirga sauran karan sai ya ga kara 4 kawai ne suka rage masa, wadanda ba su isa ya samar da wani damin goma ba. Jimmillar kara nawa Musa yake dasu gaba daya?
- A kirga jimillar yawan karan tare da dalibai a bayyane, da farko a kirga goma-goman, sannan sai a kirga daidayan.
- Ka/ki ce:** Damina goma-goma da Musa ya kirga suna iya zama a cikin gidajen gwammai. Kanan daidai kuwa suna iya zama a cikin gidajen daidai.
- Umurci dalibai 2 su zo gaban aji, su daga damin kara biyu a gaban gidajen gwammai. A rubuta 2 a cikin gidajen gwammai, sannan a nuna dami 2 na daurin goma-goma.
- Umurci dalibai huɗu su zo gaban aji, su daga kara daidai guda huɗu a gaban gidajen daidai. A rubuta 4 a cikin gidajen daidai.
- Ka/ki ce:** Musa yana da kara 24. Akwai goma-goma guda biyu a cikin 24. Akwai kuma daidai guda huɗu a cikin 24.



Gwaji

Aiki a cikin karamin rukuni: Gidan goma-goma da gidan daidai (minti 15)

- A sa dalibai su zauna a cikin kananan rukunai. A zaɓi jagora daga kowane rukuni da zai taimaka wajen raba damin kara da littafan yara ga rukuninsu. A sa dalibai su buɗe littafin dalibai shafin dake da gidajen gwammai da kuma gidajen daidai da ba komai a cikinsu.
- A rubuta lambobi 1-100 a kan allo, sannan sai a nemi dalibai su yi aiki a cikin rukunansu, su yi amfani da damin karan da karan daidai domin su nuna lambobinsu.
- A zagaya ana lura da dalibai, yayin da malami yake maimaita labarin. A yayin zagayawar, a tambayi dalibai gidan goma-goma da kuma daidai nawa suka samu. Idan da lokaci, a maimaita da wata lamba.

Bayyanawa

Nuna kyawawan misalai (minti 5)

- A fito da rukunin dalibai daya ko biyu wadanda suka kammala aikin rukuninsu da kyau. A nemi aji su tashi tsaye su kalli misalansu.

Aikin Gida

Umurci dalibai su zana lamba 75 a cikin littafinsu na rubutu ta amfani da daurin goma goma da daidaya.

Manufofi: Dalibai za su yi amfani da kara da gidajen gwammai da kuma gidajen daidai don su nuna kimar lamba na lambobi har zuwa lamba ta 99.

Kayan Aiki: Kara da damin kara goma-goma da katunan lambobi 1-9

Lokaci: Minti 35

Fara Darasi

Duba aikin gida (minti 2)

- Gaggauta duba aikin gida. A fada wa dalibai sakamakonsu sannan a karfafa amsu gwiwa.

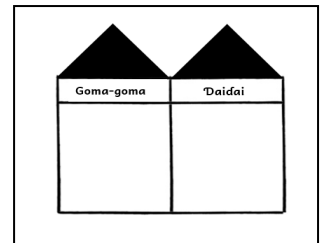
Wasan Kirge (minti 3)

- A yi wa dalibai bayanin cewa za a fadi wata lamba. Da zarar an fadi lambar, sai su fara kirge daga lambar da goma-goma da sauri. Alal misali, idan aka ce "40," dalibai sai su fara fadin "50, 60, 70, 80..."
- Bayan 'yan dakikai kadan, sai a ce "su tsaya." Daga nan sai a sake maimaita wannan tsarin da wata sabuwar lamba.

Koyo

Kirgen da goma-goma da kuma daidai (minti 10)

- Ka/ki ce:** A yau za mu yi amfani da kara don nuna kimar lamba har zuwa 99.
- A zana hoton gidajen gwammai da gidajen daidai a kan allo. A aje teburi a gaban kowane daga cikin gidajen.
- A aje damin kara goma guda daya a gaban gidajen gwammai da kuma kara daidai guda uku, a gaban gidajen daidai.
- A nemi dalibai su fadi adadin goma nawa da adadin daidai nawa lambar ta kunsu.
- A rubuta lamba 1 a gidajen gwammai da lamba 3 a gidajen daidai.
- Ka/ki ce:** Akwai damin kara goma guda 1. Akwai kuma kara daidai guda uku. Lambar ita ce 13.
- Idan da lokaci, a maimaita da wata lamba sai a kira wani dalibi ya zo gaban aji ya cike gidajen gwammai da kuma gidajen daidai.



Gwaji

Aiki a cikin karamin rukuni: Amfani da damin kara domin a gane kimar lamba (minti 15)

- A sa dalibai su zauna a cikin kanana rukunai. A zabi jagora daga kowane rukuni da zai taimaka wajen raba katunan lamba da damin kara ga rukuninsu.
- A sa dalibai su aje katunan lambar su a wuri guda a tsakiyar rukuninsu.
- Daga nan, sai a yi wa dalibai bayanin cewa, su buɗe katunan lambar su guda biyu don su samar da lamba 'yar tagwai.
- Daga na sai dalibai su samar da damin goma-goma da karansu domin su nuna lambar dake kan katinsu.
- A zagaya ana lura da dalibai. A yayin zagayawar, a tambayi dalibai goma-goma da kuma daidai nawa suka samar da lambar dake kan katinsu, sannan a duba ko sun amsa daidai.
- Idan da lokaci, a nemi dalibai su maimaita aikin da sababbin katuna guda biyu.

Bayyanawa

Auna fahimta nan-take (minti 5)

- A rubuta lambar a kan allo. A nemi dalibai su fadi goma-goma nawa da daidai nawa ne a wurin. Dalibai su daga lambar adadin yatsun da suka yi daidai da kowace amsa sama.

Aikin Gida

A gayawa dalibai jimillar yawan daliban dake cikin ajin. A sa dalibai su zana hoton gidan gwammai da kuma gidan daidai, su kuma nuna jimillar yawan mutanen dake cikin ajin a cikinsu.

Manufofi: Dalibai za su iya amfani da gidajen gwammai da kuma gidajen daidai don su nuna kimar lamba a rubuce har zuwa 99.

Kayan Aiki: Daurin damin kara goma-goma da kara daidai

Lokaci: Minti 35

Fara Darasi

Duba aikin gida (minti 2)

- Gaggauta duba aikin gida. A fada wa dalibai sakamakonsu sannan a karfafa masi gwiwa.

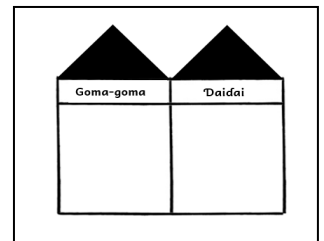
Ni wace lamba ce? (minti 3)

- A karanta kowane daga cikin wadannan jawaban. A nemi dalibai su ba da amsa ta fadin lambar a bayyane.
- **Ka/ki ce:** Ni damin goma-goma 3 ne da kuma daidai guda 2. Ni wace lamba ce?
- **Ka/ki ce:** Ni damin goma-goma 9 ne da 0 guda daya? Ni wace lamba ce?
- **Ka/ki ce:** Ni damin goma-goma 8 ne da kuma daidai guda 9. Ni wace lamba ce?

Koyo

Gabatar da nuna kimar lamba ta hanyar rubutu (minti 10)

- **Ka/ki ce:** A yau za mu cigaba da nuna kimar lamba ta hanyar rubuta lambobin gidajen goma-goma da kuma gidajen daidai da kowace lamba ta kunsu.
- A kira dalibai biyu su zo gaban aji. A baiwa dalibi guda damin kara goma-goma guda 4, dalibin dayakuwa a ba shi kara daidai guda 8.
- **Ka/ki ce:** Goma-goma nawa kake dasu? Kara daidai guda nawa kake dasu?
- A nemi daliban biyu su rubuta amsoshinsu a cikin gidajen gwammai da kuma gidajen daidai.
- **Ka/ki ce:** Akwai goma-goma 4. Akwai kuma daidai 8. Lambar ita ce 48.
- A maimaita da wasu dalibai da kuma adadin yawan wasu kara daban.



Gwaji

Aikin daidaikun dalibai ko aikin dalibai bibbiyu: Rubuta lambobin gidan goma-goma da kuma lambobin gidan daidai (minti 15)

- A nemi dalibai su buɗe littafin dalibai Shafi na 19.
- A karanta umurni da aka rubuta da tambayar farko a bayyane ga dalibai.
- A yi bayanin cewa su kalli karan da aka jere a gidajen gwammai da kuma gidan daidai. Su kirga jimillar yawan damin goma-goma da kuma karan da suke daidai. Daliban su rubuta amsarsu a cikin littafansu na rubutu.
- A zagaya ana lura da dalibai a kuma taimaka masu. Yayin zagayawar, a tambayi dalibai yadda suka samo amsar tasu, a kuma duba ko sun amsa daidai.
- Idan akwai lokaci, a kammala lissafin na gaba dake a kan shafin. Suna iya duba amsarsu da ta abokan zamansu.

Bayyanawa

Auna fahimta nan-take (minti 5)

- A sa wani dalibai ya rubuta amsar tambaya ta farko a kan allo.
- A nemi wasu dalibai su duba idan amsar daidai take ko ba daidai take ba ta hanyar daga babban yatsansu sama ko kuma kasa. A yi gyara idan akwai buƙatar hakan.

Aikin Gida

A sa dalibai su kammala sauran aikin da ke Shafi na 19 a cikin littafin rubutunsu a matsayin aikin gida.

Manufofi: Dalibai za su iya amfani da gidajen daruruwa da gidajen gwammai da kuma gidajen daidai don su nuna kimar lamba har zuwa 200.

Kayan Aiki:

Lokaci: Minti 35

Fara Darasi

Duba aikin gida (minti 2)

- Gaggauta duba aikin gida. A fada wa dalibai sakamaku sanna a karfafa masu gwiwa.

Ni wace lamba ce? (minti 3)

- A karanta kowane daga cikin waɗannan jawaban. A nemi dalibai su ba da amsa ta faɗin lambar a bayyane.
- **Ka/ki ce:** Ni damin goma-goma 4 ne da kuma ɗaya 1. Ni wace lamba ce?
- **Ka/ki ce:** Ni damin 0 ne na goma-goma da daidai guda 6? Ni wace lamba ce?

Koyo

Gabatar da kimar lambar gidajen daruruwa (minti 10)

- **Ka/ki ce:** Mun yi darrusan dake nuna kimar lamba na lambobi har zuwa 99. A yau za mu koyi yadda ake gane kimar lambobin dake gidajen daruruwa.
- A zana hoton gidan daruruwa da gidan gwammai da kuma gidan daidai a kan allo.
- A nemi dalibi guda ya zo gaban aji sai a ba shi kara daidai guda goma. A nemi daliban aji da su kirga karan a bayyane, ɗaya bayan ɗaya. A nemi su rubuta jimillar yawan karan a cikin gidajen da aka zana hotonsu a kan allo a cikin gidan daidai.
- **Ka/ki ce:** Ku tuna, a cikin kowane daga cikin gidajen, muna iya samun lambobi ne kawai tsakanin 1-9. Saboda haka, duk lokacin da na cimma lamba 10, a gurbin gidajen daidai, ina shafe ta in mayar da ita 1 a cikin gurbin gidajen gwammai, daidai guda 10, daidai suke da goma guda 1.
- A shafe lamba ta goma a cikin gurbin gidajen daidai, sannan sai a rubuta 1, a gurbin gidajen gwammai.
- A kira wani dalibi daban, ya zo gaban aji, sai a ba shi daurin damin goma-goma guda goma. A nemi dalibai da su kirga damin goma-goman a bayyane. A nemi su rubuta adadin jimillar damin karan a cikin gidajen dake kan allo, a gurbin gidajen gwammai.
- **Ka/ki ce:** Muna iya rubuta 1-9 kawai a cikin kowane gida. Saboda haka idan muna da daurin damin goma-goma, muna iya shafe shi daga cikin gurbin gidajen gwammai, sannan sai mu rubuta 1 a cikin gidajen daruruwa. Dari, daidai take da goma-goma sau goma.
- A shafe lamba 10 daga gurbin gidajen gwammai, sai ka/ki rubuta 1, a cikin a gurbin gidajen daruruwa.

Dari-dari	Goma-goma	Daidai

Gwaji

Aikin daidai ko dalibai ko aikin dalibai bibbiyu: Nuna lambobin kimar lambobi 1-200 (minti 15)

- A umurci daliba su buɗe littafin dalibai Shafi na 20. A karanta umurni da aka rubuta da tambayar farko a bayyane ga dalibai.
- A zagaya ana lura da dalibai a kuma taimaka musu. Yayin zagayawar, a tambayi dalibai yadda suka samar da amsar tasu, a kuma duba ko sun amsa daidai.
- Idan da lokaci, a umurci dalibai su kammala lissafi na gaba dake kan shafin. Suna iya duba amsarsu da ta abokan zamansu.

Bayyanawa

Auna fahimta nan-take (minti 5)

- A sa wani dalibai ya rubuta amsar tambaya ta farko a kan allo.
- A nemi wasu dalibai su duba idan amsar daidai take ko ba daidai take ba ta hanyar ɗaga babban yatsansu sama ko kuma kasa. A yi gyara idan akwai bukatar hakan.

Aikin Gida

A sa dalibai su kammala sauran aikin da ke Shafi na 20 a cikin littafin rubutunsu a matsayin aikin gida.

Manufofi: Dalibai za su yi bita da gwajin abun da suka koya a cikin wannan makon.

Kayan Aiki: Jakar kwarorin wake ko tsakuwoyi

Lokaci: Minti 35

Fara Darasi

Duba aikin gida (minti 2)

- Gaggauta duba aikin gida. A faɗa wa dalibai sakamakonsu sannan a karfafa masu gwiwa.

Wasan Canke (minti 8)

- A nemi dalibai su canki jimillar tsakuwoyi ko kwarar wake nawa ne a cikin jakar.
- Nemi su zana hoton gidajen daruruwa da gidajen gwammai da daidai a cikin littafansu na rubutu, su kuma rubuta lambobin a cikinsu don su nuna cankan da suka yi.
- Nemi dalibai 2 ko 3 su bayyana cankan da suka yi ga ajin gaba daya.
- A fadi lambar jimillar kwarar wanke ko tsakuwoyin ta hanyar rubuta ta a kan allo.

Koyo

Bitu da maimai (minti 5)

- A zaɓi wani darasi daga cikin darrusan da aka yi a cikin makon, wanda ake ganin dalibai ba su fahimce shi sosai ba. A sake koyar da darasin ko a sake koyar da shi ta wata sabuwar hanya daban.

Gwaji

Aikin daidaiƙun dalibai da aikin dalibai a cikin rukuni: Zane da kuma rubutu (minti 15)

- A baiwa dalibai aikin da zai taimaka musu wajen yin gwajin darasin da aka yi bita (alal misali; amfani da gidajen daruruwa da gidajen gwammai da kuma gidajen daidai wajen yin kirge). Dalibai na iya yin aiki daidaiƙunsu ko kuma a cikin kananan rukunai.
- Yayin da dalibai suke gudanar da wani aikin da aka ba su, a kara taimaka masu a inda ba su gane sosai ba.

Bayyanawa

Auna fahimta da bayyanawa (minti 5)

- A sa dalibai su nuna aikin da suka kammala a lokacin Gwajin.

Aikin Gida

A baiwa dalibai aikin gida na bita da kuma gwajin kwazonsu.

Manufofi: Dalibai za su iya kirgen lambobi daga 1 zuwa 1,000 da kirgen daidai.

Kayan Aiki: Jakar tsakuwoyi ko kwarorin wake

Lokaci: Minti 35

Fara Darasi

Duba aikin gida (minti 2)

- Gaggauta duba aikin gida. A faɗa wa dalibai sakamankonsu sannan a karfafa masu gwiwa.

Wasan Canke (minti 3)

- A daga jakar kwarorin wake ko tsakuwoyi a sama sai a nemi dalibai su canki kwara nawa ne a cikin jakar.
- **Ka/ki ce:** *Akwai daruruwa a ciki! Za a dauki lokaci mai tsawo kafin a kirga kowane daya daga cikin tsakuwoyin ko kwarorin waken dake ciki!*

Koyo

Gabatar da dari-dari: Kirgen yatsu (minti 15)

- **Ka/ki ce:** *A yau za mu yi kirge zuwa 1,000. Mafi yawa, muna yi kirge zuwa 1,000, idan muna kirga kudi, ko awon nauyi ko awon nisa. Alal misali, idan za mu sayi pakitin siga, muna bukatar ₦500. Idan za mu sayi kiret din kwai, muna bukatar ₦1,900! Sannan kilomita daya kuwa ya kunshi mitoci 1,000.*
- A umurci dalibai su ba da wasu misalai dake bukatar dole sai sun yi kirge har zuwa 1,000.
- **A ce :** *Yatsu nawa kuke tunanin akwai a cikin ajin nan? Bari mu kirga yatsunmu don mu ga yatsu nawa muke da.*
- A umurci dalibai su daga yatsunsu 10 sama gwargwadon yadda suke iyawa.
- A zagaya a cikin ajin, ana nuna kowane daga cikin yatsun daliban. A sa dalibai su kirga yatsa daya bayan daya a bayyane tare da kai/ke har sai an kirge yatsun gaba daya. A sa dalibai su aje yatsunsu a kasa bayan an gama kirga su
- A rubuta lambar jimillar yawan yatsun a kan allo, sannan a maimaita karanta lambar a bayyane.
- **Ka/ki ce:** *Mu dauka muna da dalibai 100 a cikin aji daya, kowane yana da yatsu 10. A nan muna da yatsu 1,000.*

Gwaji

Aikin daidai dalibai da aikin dalibai bibbiyu: Kirgen yatsu (minti 10)

- A umici dalibai su buɗe littafin dalibaia Shafi na 21.
- **Ka/ki ce:** *Ku duba hotunan hannuwa. Kowane hannu dake cikin wannan shafin yana da yatsu guda biyar. Ku yi aiki tare da aboka zamanku, ku kirga jimillar yawan yatsun dake a kan wannan shafin. Kuna iya amfani da jadawalin lambobinku dubu dake farkon bangon littafinku na yara idan kuna bukatar taimako.*
- A sa dalibai su rubuta amsoshinsu a cikin littafan rubutunsu.
- A zagaya ana lura da dalibai a kuma taimaka musu.

Bayyanawa

Auna fahimta nan-take (minti 5)

- A sa wani dalibi ya rubuta amsarsa a kan allo.
- A umurci wasu dalibai su duba idan amsar daidai take ko ba daidai take ba ta hanyar daga babban yatsansu sama ko kuma kasa. A yi gyara idan akwai bukatar hakan.

Aikin Gida

A sa dalibai su tambayi wani dan'uwansu ko abokinsu wane aiki ne yake yi dake sa shi yin kirge har zuwa 1,000.

Manufofi: Dalibai za su iya kirge da rubuta lambobi cikin daruruwa har zuwa 1,000.

Kayan Aiki: Jadawalin kirge daga 1-1000 da aka rubuta a kan allo da takardun kudin na Naira 100

Lokaci: Minti 35

Fara Darasi

Duba aikin gida (minti 2)

- Gaggauta duba aikin gida. A fada wa dalibai sakamakonsu sannan a karfafa masu gwiwa.

Wasan Kirge (minti 3)

- A yi wa dalibai bayanin cewa za a fadi wata lamba. Da zarar an fadi lambar, sai su fara kirge daga lambar da goma-goma da sauri. Alal misali, idan aka ce “40,” dalibai sai su fara fadin “50, 60 70, 80...”
- Bayan ‘yan dakikai kadan, sai a ce “su tsaya.” Daga nan sai a sake maimaita wannan tsarin da wata sabuwar lamba.

Koyo

Gabatar da kirge zuwa 1,000 da dari-dari (minti 10)

- **Ka/ki ce:** Kirge zuwa 1,000 da daidai yana daukar lokaci mai tsawo. A yau, za mu yi kirge zuwa 1,000 da sauri.
- A tambayi dalibai idan sun san wata hanyar da ake yin kirge zuwa 1,000 cikin sauri.
- **Ka/ki ce:** Muna iya yin kirge zuwa 1,000 da bibbiyu ko biyar-biyar ko kuma da goma-goma. Haka ma muna iya yin kirgen da dari-dari!
- A yi kirgen tsallake daga 0 zuwa 1,000 da dari-dari, ana nuna jadawalin lambobi 1-1000 dake kan allo. Nemi dalibai su maimaita bayan ka/kin yi kirgen. Daga nan, sai a tambaye su ko sun lura da wani tsari.
- **Ka/ki ce:** Idan muka fara da 0 muka yi kirge da dari-dari, gurbin goma-goma da gurbin daidai koyaushe 0 ne, amma gurbin daruruwa yana sauyawa.
- A rubuta lambobi 100 da 200 da 300 a kan allo domin ka/ki yi gwaji.

Gwaji

Aiki a cikin karamin rukuni: Kirge da Takardun Kudin Naira 100 (minti 15)

- A sa dalibai su zauna a cikin kanana rukunai. A zabi jagora daga kowane rukuni.
- A nemi wani dalibi ya taimaka wajen raba takardun kudin wasa na Naira 100 ga kowane rukuni. A baiwa kowane rukuni akalla takardun kudin naira 100 guda biyar zuwa guda goma.
- A sa dalibai su kirga jimillar yawan kudin dake gare su, su yi kirgen da dari-dari.
- A zagaya ana lura da dalibai, a kuma taimaka musu. A yayin zagayawar, a tambayi dalibai yadda suka samo amsar tasu, a kuma duba ko jimillar kimar yawan kudin daidai ne.

Bayyanawa

Auna fahimta nan-take (minti 5)

- A nuna wata lamba (100, 200, 300, 400, 500, 600, 700, 800, 900, or 1000) ba bisa tsari ba a kan Jadawalin lambobi 1-1000 sai a nemi dalibai su karanta lambar.

Aikin Gida

A sa dalibai su rubuta lambobi daga 0 zuwa 1,000 da dari-dari a gida a cikin littafansu na aiki.

Manufa: Dalibai za su iya rubuta lambobi daga lamba 1 zuwa 1,000.

Kayan Aiki: Katunan lamba 1 zuwa 9

Lokaci: Minti 35

Fara Darasi

Duba aikin gida (minti 2)

- Gaggauta duba aikin gida. A fada wa dalibai sakamakonsu sannan a karfafa masu gwiwa.

Wasan canke (minti 3)

- A nemi dalibai su yi canken fadin dalibai nawa ne a makarantarsu.
- A nemi dalibai 2 ko 3 su bayyana canken da suka yi ga aji ta hanyar rubuta lambar a cikin jadawalin kimar lamba.
- A gaya wa dalibai jimillar yawan daliban makarantar, don su su kwatanta da canken da suka yi.

Dari-dari	Goma-goma	Daidai

Koyo

Rubuta kimar lambobi daga lamba 1-999 (minti 10)

- A nemi dalibai uku su zo gaban aji, kowannensu ya zabi katin lamba guda daya. Za su tsaya a cikin layi don su nuna lambar katunansu ga aji.
- A yi bayanin cewa kowane dalibi yana wakiltar wani kimar lamba ne. Mun san tsarin daidai da tsarin da suka tsaya a ciki. Dalibi guda a gurbin dari-dari da dalibi guda a gurbin goma-goma da kuma wani dalibi guda a gurbin daidai.
- A nemi wani dalibi dayaya zo gaban allo ya rubuta lambar da take daidai a cikin gidan daruruwa da gidan gwammai da kuma gidan daidai.
- A maimaita aikin, tare da neman dalibai su sauya tsarin da suka tsaya ko kuma su zabi wasu katunan lamba na daban don su samar da wata lamba daban.

Gwaji

Aikin daidaiƙun dalibai da aikin dalibai bibbiyu: Rubuta lambobi (minti 15)

- A umurci dalibai su buƙe littafin dalibai Shafi na 22.
- A karanta umurnin da kuma tambaya ta farko a bayyane ga dalibai.
- A sa dalibai su warware lissafin a cikin littafansu na rubutu ta hanyar rubuta lambar da damin dari-dari da damin goma-goma da daidai da suka nuna.
- A zagaya ana lura da dalibai. A yayin zagayawar, a tambayi dalibai yadda suka samo amsar tasu, a kuma duba ko sun amsa daidai.

Bayyanawa

Auna fahimta nan-take (minti 5)

- A sa dalibai su daga takardunsu sama, su nuna abun da suka rubuta. A yabawa dalibai.

Aikin Gida

A sa dalibai su kammala sauran aikin da ke Shafi na 22 a cikin littafin rubutunsu a matsayin aikin gida.

Manufa: Dalibai za su iya cike lambobi da babu daga lamba 1 zuwa 1,000.

Kayan Aiki: Katunan lamba 100, 200, 300, 400, 500, 600, 700, 800, 900 da kuma 1,000

Lokaci: Minti 35

Fara Darasi

Duba aikin gida (minti 2)

- Gaggauta duba aikin gida. A fada wa dalibai sakamakonsu sannan a karfafa masu gwiwa.

Ni wace lamba ce? (minti 3)

- A karanta kowane daga cikin wadannan jawaban. A nemi dalibai su ba da amsa ta fadin lambar a bayyane.
- **Ka/ki ce:** *Da 1 na fi 299. Ni wace lamba ce?*
- **Ka/ki ce:** *Da 5 na fi 825? Ni wace lamba ce?*

Koyo

Lambobi da babu (minti 10)

- **Ka/ki ce:** *A yau za mu nemo lambobi da babu*
- A kira dalibai 10 su zo gaban aji. Kowanensu ya zaɓi ɗaya daga cikin wadannan katunan lamba (100, 200, 300, 400, 500, 600, 700, 800, 900, 1000) su kuma jera kansu a kan tsari. Za su tsaya a cikin layi, suna fuskantar sauran daliban aji, sannan sai su daga lambar katin sama.
- **Ka/ki ce:** *Muna da dalibai 10, da aka yi wa lambobi 100-1,000.*
- A umurci dalibin dake dauke da lamba ta 600 ya boye katin lambar. .
- **Ka/ki ce:** *Dole sai na yi tunani, wace lamba ce ta babu? Wace lamba ce ke zuwa bayan 500 ko kafin 700?*
- A maimaita aikin da wasu dalibai daban, su kuma boye katunan lambar domin su nuna wasu lambobi daban da babu.

Gwaji

Aiki a cikin karamin rukuni: Neman lamba da babu (minti 10)

- A sa dalibai su zauna a cikin kanana rukunai. A nemi kowane rukuni su zaɓi jagora.
- A rubuta lambobin 940, 950, 960, ____, 980, 990, 1,000 a kan allo sannan sai ka/ki fadi lambobin a bayyane tare da aji gaba ɗaya.
- **Ka/ki ce:** *Da farko, bari mu yi tunanii. Wace lamba ce na tsallake? daidai ko bibbiyu ko biyar-biyar ko goma-goma ko kuma dari-dari?*
- **Ka/ki ce:** *Haka ne, mun yi kirgen tsallake da goma-goma. Wace lamba ce babu?*
- A umurci dalibai su yi aiki tare domin su gano lambar da babu. Dukkan daliban su rubuta amsar a cikin littafansu na rubutu.
- A zagaya ana lura da dalibai, a kuma taimaka masu.
- A umurci rukunai da su bayyana amsoshinsu.
- A maimaita aikin da karin wasu misalai (Na yin kirge da bibbiyu da biyar-biyar da goma-goma da kuma dari-dari)

Bayyanawa

Gwajin aikin gida (minti 10)

- A buɗe littafin dalibai shafi na 23 sannan a karanta umurnin ciki.
- A yi aiki na farko tare da dalibai a aji. Dalibai su juyi aikin a cikin littafan rubutunsu.

Aikin Gida

A sa dalibai su kammala sauran aikin da ke Shafi na 23 a cikin littafin rubutunsu a matsayin aikin gida.

Manufofi: Dalibai za su yi bita da gwajin abun da suka koya a cikin wannan makon.

Kayan Aiki:

Lokaci: Minti 35

Fara Darasi

Duba aikin gida (minti 2)

- Gaggauta duba aikin gida. A fada wa dalibai sakamakonsu sannan a karfafa masu gwiwa.

Kirgen Tsalle (minti 3)

- A umurci dalibai da su tashi tsaye.
- A umurci dalibai da su yi kirge daga 0 zuwa 1,000 da dari-dari, suna yin tsalle sama a duk lokacin da suka fadi wata lamba.

Koyo

Bitu da maimai (minti 10)

- A zaɓi wani darasi daga cikin darrusan da aka yi a cikin makon, wanda ake ganin dalibai ba su fahimce shi sosai ba. A sake koyar da darasin ko a sake koyar da shi ta wata sabuwar hanya daban.

Gwaji

Aikin daidaiƙun dalibai da aikin dalibai a cikin rukuni : Zane da kuma rubutu (minti 15)

- A baiwa dalibai aikin da zai taimaka musu wajen yin gwajin darasin da aka yi bita (alal misali; yin kirge zuwa 1,000 da daidai da goma-goma ko da dari-dari ko kuma nema wata lamba da babu tsakanin lamba 1 zuwa 1,000. Dalibai suna iya yin aiki daidaiƙunsu ko kuma a cikin kananan rukunai.
- Yayin da dalibai suke gudanar da wani aikin da aka ba su, a kara taimaka musu a inda ba su gane sosai ba.

Bayyanawa

Bitu da kuma bayyanawa (minti 5)

- A sa dalibai su nuna aikin da suka kammala a lokacin Gwaji.

Aikin Gida

A baiwa dalibai aikin gida na bita da kuma gwajin kwazonsu. A sa dalibai su tara kara gwargwadon yadda suke iyawa a gida, su kuma zo da su aji gobe.

Manufofi: Dalibai za su yi amfani da kara da damin kara domin su nuna kimar wurin lambobi har zuwa 999.

Kayan Aiki: Jakar tsakuwoyi ko kwarorin wake da kara da kuma zare

Lokaci: Minti 35

Fara Darasi

Duba aikin gida (minti 2)

- Gaggauta duba aikin gida. A fada wa dalibai sakamaku sannan a karfafa masu gwiwa.

A yi Wasan Sunan Lamba (minti 3)

- A rubuta wata lamba daga 0 zuwa 1,000 a kan allo. A nemi dalibai su fadi sunan lambar. A maimaita da wata lambar.

Koyo

Gabatar da kimar lamba har zuwa lamba ta 999 (minti 10)

- **Ka/ki ce:** *A yau za mu koyi kimar lamba har zuwa 999!*
- A daga jakar tsakuwoyi ko wake sai a tambayi dalibai da su canki tsakuwoyi nawa ne a cikin jakar.
- A rubuta abinda sukacanka daya bayan daya a kan allo, sannan sai ka/ki yi naki cankar.
- **Ka/ki ce:** *Zan canki ko akwai wake 987 a cikin wannan jakar. Lallai ko waken na da yawa! 987 tana dauke da lambobi uku a cikinta, wannan ya nuna cewa dole ne mu yi amfani da gidajen daruruwa da gidajen gwammai da kuma gidajen daidai. Akwai 9 a gurbin daruruwa, saboda haka zan rubuta 9 a cikin gurbin gidan daruruwa. Akwai 8 a gurbin gwammai, saboda haka zan rubuta 8, a gurbin gidan gwammai. Akwai 7 a gurbin gidan daidai.*
- A kira wani dalibi ya zo gaban aji ya fadi nasa canken tsakanin 1-1000 tsakuwoyi kwara nawa ne ke cikin jakar? Rubuta lambar a kan allo.
- A umurci wani dalibin ya rubuta daidai guda nawa da goma-goma nawa da dari-dari nawa ne a cikin lambarshi.
- Idan da lokaci, a maimaita da karin wasu dalibai da yawa, ana ba su dama suna yin canken, sannan a rubuta lambobinsu a cikin gidan daruruwa da gwammai da kuma gidan daidai.

Dari-dari	Goma-goma	Daidai

Gwaji

Aiki a cikin karamin rukuni: Daruruwa da gwammai da kuma daidai (minti 15)

- A sa dalibai su zauna a cikin kanana rukunai, sai su sa karan da suka zo da su daga gida a tsakiyar rukuninsu.
- **Ka/ki ce:** *Ku kirga dukkan karan da suke cikin rukuninku. Ku hada damin goma-goma na karan gwargwadon yadda kuke iyawa.*
- **Ka/ki ce:** *Da zarar kun kammala hada damin goma-goma, lokaci ya yi da za ku kirga jimillar kara nawa kuke da su. Ku tuna, kuna iya fara kirga damin kara goma-goma da kuke da su, sannan sai ku kirga sauran karan daidai da suka rage muku.*
- A umurci dalibai su rubuta jimillar yawan karan da suka tattara a cikin littafansu na rubutu.
- A zagaya ana lura da dalibai, ana kuma taimaka masu. Dole ne kowane rukuni ya samu lambar jimillarsa ta daban.

Bayyanawa

Kwatancen amsoshi (minti 5)

- A nemi kowane rukuni ya bayyana adadin kara nawa ne rukunin nasu yake da su, sannan kuma dari-dari da goma-goma da daidai nawa suke dasu. A rubuta amsoshinsu a kan allo.
- A sa daliba su fadi rukunin da ya fi kara masu yawa.

Aikin Gida

A sa dalibai su tambayi wani dan'uwansu ko abokinsu ya fada musu wani abu dake zuwa cikin adadin dari-dari.

Manufa: Dalibai za su yi amfani da hotuna domin su nuna kimar wurin lambobi har zuwa 999.

Kayan Aiki:

Lokaci: Minti 35

Fara Darasi

Duba aikin gida (minti 2)

- Gaggauta duba aikin gida. A fada wa dalibai sakamakonsu sannan a karfafa masu gwiwa.

A yi Wasan Sunan Lambar (minti 3)

- A rubuta wata lamba daga 0 zuwa 1,000 a kan allo. A nemi dalibai da su fadi sunan lambar. A maimaita da wata lambar.

Koyo

Gabatar da kimar lamba har zuwa lamba ta 999 (minti 10)

- **Ka/ki ce:** A yau za mu cigaba da gwajin kimar lamba har zuwa 999.
- A zana hoton gidajen daruruwa da gwammai da kuma daidai a kan allo.
- A rubuta lambar 456 a kan allo. A kira wani dalibi guda ya zo gaban ajin ya cike gidajen ko kuma ya saka jadawalin kimar lamba da lambobin da suka dace.
- **Ka/ki ce:** Lambar 456 tana da dari-dari guda 4 da goma-goma 5 da kuma daidai guda 6.
- A nemi wani dalibi ya fadi wata lamba. Ka/ki rubuta lambar a kan allo sai ka/ki kira dalibin ya zo ga allo ya cike jadawalin kimar lambar ko gidajen lambobin nata.
- Idan da lokaci, a sake maimaitawa da wasu karin lambobi da kuma wasu dalibai daban.

Dari-dari	Goma-goma	Daidai

Gwaji

Aikin daidaiƙun dalibai da aikin dalibai bibbiyu: Nuna kimar lamba da bulo ko da damin kara (minti 15)

- A umurci dalibai su bude littafin dalibai Shafi na 24.
- **Ka/ki ce:** Akwai hanyoyi da yawa da ake iya nuna lambobi. A cikin wannan aikin, ana iya amfani da bulo da kuma kara don a nuna lambobin 1 da 10 da kuma 100.
- A nuna kowane daga cikin hotunan (bulo da kuma kara) sannan a fadi kimarsu a bayyane. Ka/ki umurci dalibai su maimaita fadin kimarsu bayanka/ki.
- A karanta umurnin a kuma kammala lissafin farko tare da ajin gaba daya. Dalibai su rubuta amsarsu a cikin littafansu na rubutu.
- A sa dalibai su cigaba da aiki domin su warware lissafin dake a kan shafin. Suna aiki a daidaiƙunsu ko kuma tare da abokin zamansu.
- A zagaya ana lura da dalibai, a kuma taimaka musu. A yayin zagayawar, a tambayi dalibai yadda suka samo amsar tasu, a kuma duba ko sun amsa daidai.

Bayyanawa

Auna fahimta nan-take (minti 5)

- A rubuta lamba ta 259 a kan allo.
- A sa dalibai su daga lambar yatsun da suke gurbin daruruwa da gurbin gidajen gwammai da kuma gurbin daidai a sama.

Aikin Gida

A sa dalibai su kammala sauran aikin da ke Shafi na 24 a cikin littafin rubutunsu a matsayin aikin gida.

Manufa: Dalibai za su nuna kimar lambobi har zuwa ta 999 ta amfani da gidajen daruruwa da gidajen gwammai da kuma gidajen daidai.

Kayan Aiki: Katunan lamba 1-9

Lokaci: Minti 35

Fara Darasi

Duba aikin gida (minti 3)

- Gaggauta duba aikin gida. A fada wa dalibai sakamankonsu sannan a karfafa masu gwiwa.

Ni wace lamba ce? (minti 2)

- A karanta kowane daga cikin waƙannan jawaban. A nemi dalibai su ba da amsa ta faɗin lambar a bayyane.
- Ka/ki ce:** Ni jeri 9 ne na bulo goma-goma da kuma daidai guda 9? Ni wace lamba ce?
- Ka/ki ce:** Ni jeri 9 ne na bulo dari-dari da jeri 9 na bulo goma-goma da daidai guda 9. Ni wace lamba ce?

Koyo

Kimar lamba har zuwa lamba ta 999 (minti 10)

- Ka/ki ce:** A yau za mu cigaba da gwajin kimar lamba har zuwa 999.
- A kira daliba guda 3 su zo gaban aji, sannan a nemi kowannensu ya zaɓi katin lamba guda. Za su tsaya cikin layi, su nuna katunan lambar su ga ajin. A tambayi aji su fadi wace lamba ce, bayan sun karanta dukkan katunan lambobin nasu guda uku.
- Ka/ki ce:** Kowane dalibi yana wakiltar wani kimar lamba na daban. Mun san wannan kimar wurin lambar saboda tsarin da suka tsaya cikinsa. Dalibi dayayana cikin gurbin daruruwa, dalibi daya yana cikin gurbin gwammai, sai dalibi dayayana cikin gurbin daidai.
- A nemi dalibi dayaya zo gaban aji ya nuna lambobin da suke gidan daruruwa da gidan gwammai da kuma gidan daidai ta hanyar rubuta lambar da take daidai a gidajen daruruwa da gwammai da kuma daidai.
- A maimaita aikin, ta sa dalibai su sauya tsarin da suka tsaya, don su samar da wata lamba daban.

Dari-dari	Goma-goma	Daidai

Gwaji

Aiki a cikin karamin rukuni: Nuna kimar lamba (minti 15)

- A sa dalibai su zauna a cikin kananan rukunai. A zaɓi jagora a kowane rukuni wanda zai taimaka wajen rarraba katunan lamba guda 3, masu lambobi daga 1-9.
- Dalibai su duba katunansu sau ɗaya tak, sannan sai su haɗa lamba mai lambobi 3. Su rubuta wannan lambar a cikin littafansu na rubutu.
- Daga nan sai su yi aiki tare don su gano wace lamba ce ya kamata a rubuta a cikin gidan daruruwa da gidan gwammai da kuma gidan daidai.
- A zagaya ana lura da dalibai, a kuma taimaka musu.
- Bayan kowane dalibi daga cikin rukunan ya kammala aikinsa, a baiwa jagoran kowane rukuni dama ya zaɓi karin wasu katunan lamba uku sannan sai a sake maimaita aikin da wata sabuwar lamba.

Bayyanawa

Nuna kyawawan misalai (minti 5)

- A nuna rukuni 1-2 da suka nuna kimar lamba daidai ta katunan lambobinsu. A nemi wani dalibi dayadaga cikin rukunin ya yi bayanin yadda suka samo amsar.

Aikin Gida

A sa dalibai su rubuta lamba ta 569 a cikin littafansu na rubutu. A gida, dalibai su zana hoton gidan daruruwa da gidan gwammai da kuma gidan daidai, su kuma rubuta lambobin da suke daidai da kowane daga cikin gidajen.

Manufa: Dalibai za su nuna kimar lambobi har zuwa ta 999 ta amfani da gidajen daruruwa da gidajen gwammai da kuma gidajen daidai.

Kayan Aiki:

Lokaci: Minti 35

Fara Darasi

Duba aikin gida (minti 3)

- Gaggauta duba aikin gida. A fada wa dalibai sakamaku sannan a karfafa masu gwiwa.

Ni wace lamba ce? (minti 2)

- A karanta kowane daga cikin waƙannan jawaban. A nemi dalibai su ba da amsa ta faɗin lambar a bayyane.
- Ka/ki ce :** Ni jeri 2 ne na bulo goma-goma da kuma daidai guda 6? Ni wace lamba ce?
- Ka/ki ce:** Ni jeri 4 ne na bulo dari-dari da jeri 9 na bulo goma-goma da daidai guda 8. Ni wace lamba ce?

Koyo

Kimar lamba: Daruruwa da gwammai da kuma daidai (minti 10)

- Ka/ki ce:** A yau za mu cigaba da kara gwajin kimar lamba har zuwa 999.
- A rubuta lambar 111 a kan allo. Daga nan sai a rubuta kowane yanki na lambar a cikin "gidan" da ya dace da shi
- Ka/ki ce:** Duk da yake akwai lamba 1 a cikin dukkan gidajen, tana da ma'anar kima daban-daban. 1 ta gurbin daruruwa ta 100 ce. 1 ta gurbin gwammai, 10 ce. Sannan 1 ta gurbin daidai, 1 ce.
- A rubuta lambar 234 a kan allo. A nemi wani dalibi ya zo gaban aji ya sanya lambobin a gidajen da suke daidai da su. A nemi su fadawa aji daruruwa da goma-goma da kuma daidai nawa ne a cikin lambar 234.
- A maimaita da wasu lambobi.

Dari-dari	Goma-goma	Daidai

Gwaji

Aikin daidaiƙun dalibai da aikin dalibai bibbiyu: Nuna kimar lamba daga 1-999 (minti 15)

- A umurci dalibai su buƙe littafin dalibai Shafi na 25.
- A karanta umurnin da kuma tambayar farko a bayyane ga dalibai.
- A kammala lissafin farko tare da aji gaba ɗaya. Daga nan sai a sa dalibai su kammala sauran lissafin a daidaiƙunsu ko kuma su bibbiyu.
- A zagaya ana lura da dalibai, a kuma taimaka musu. A yayin zagayawar, a tambayi dalibai yadda suka samo amsar tasu, a kuma duba ko sun amsa daidai.
- Idan da lokaci, a nemi dalibai su kammala lissafi na gaba a cikin shafin.

Bayyanawa

Auna fahimta nan-take (minti 5)

- A sa wani dalibi ya rubuta amsar tambaya ta farko a kan allo.
- A nemi wasu dalibai su duba idan amsar daidai take ko ba daidai take ba ta hanyar ɗaga babban yatsansu sama ko kuma kasa. A yi gyara idan akwai buƙatar hakan.

Aikin Gida

A sa dalibai su kammala sauran aikin da ke Shafi na 25 a cikin littafin rubutunsu a matsayin aikin gida.

Manufofi: Dalibai za su yi bita da gwajin abun da suka koya a cikin wannan makon.

Kayan Aiki:

Lokaci: Minti 35

Fara Darasi

Duba aikin gida (minti 2)

- Gaggauta duba aikin gida. A fada wa dalibai sakamakonsu sannan a karfafa masu gwiwa.

Ni wace lamba ce? (minti 5)

- A karanta kowane daga cikin wadannan jawaban. A nemi dalibai su ba da amsa ta fadin lambar a bayyane.
- **Ka/ki ce:** *Da 1 na fi 899? Ni wace lamba ce? (A rubuta amsar da take daidai a kan allo)*
- **Ka/ki ce:** *Da 1 na fi 200? Ni wace lamba ce? (A rubuta amsar da take daidai a kan allo)*
- A cigaba da wasu misalai.

Koyo

Bitu da maimai (minti 10)

- A zaɓi wani darasi daga cikin darrusan da aka yi a cikin makon, wanda ake ganin dalibai ba su fahimce shi sosai ba. A sake koyar da darasin ko a sake koyar da shi ta wata sabuwar hanya daban.

Gwaji

Aikin daidaiƙun dalibai da aikin dalibai a cikin rukunoni : Zane da kuma rubutu (minti 15)

- A baiwa dalibai aikin da zai taimaka musu wajen yin gwajin darasin da aka yi bita (alal misali; amfani da gidajen daruruwa da gwammai da kuma daidai wajen yin kirge. Dalibai suna iya yin aiki a daidaiƙunsu ko kuma a cikin kananan rukunai.
- Yayin da dalibai suke gudanar da wani aikin da aka ba su, a kara taimaka musu a inda ba su gane sosai ba.

Bayyanawa

Bitu da kuma bayyanawa (minti 3)

- A sa dalibai su nuna aikin da suka kammala a lokacin Gwaji.

Aikin Gida

A baiwa dalibai aikin gida na bitu da kuma gwajin kwazonsu.

Manufa: Dalibai za su iya nuna lambobin da suka dāra wasu.

Kayan Aiki:

Lokaci: Minti 35

Fara Darasi

Duba aikin gida (minti 2)

- Gaggauta duba aikin gida. A fada wa dalibai sakamakonsu sannan a karfafa masu gwiwa.

A yi Wasan Daga Babban yatsa ya kalli sama ko kuma ya kalli kasa (minti 3)

- A sa dalibai su amsa wadannan tambayoyin ta hanyar daga babban yatsansu sama ko kuma kasa.
- **Ka/ki ce:** *Idan muna son yin kirge daga 1 zuwa 55, shin sama za mu yi ko kasa? 13 zuwa 14 fa, sama ne ko kasa?*

Koyo

Gabatar da lambar da ta dāra wata (minti 10)

- **Ka/ki ce:** *A yau za mu nuna lambobin da suka dāra wasu yawa. Idan lamba dāya ta dāra dāya yawa, yana nufin ta fi yawan kima.*
- A kira dalibai 20 su zo gaban aji sai a raba su a rukuni gida biyu na; rukunin mutane 13 da kuma rukunin mutane 7. Ka/ki kirga yawan daliban dake cikin kowane rukunin a bayyane sannan sai ka/ki rubuta adadin yawan lambar su a kan allo. Nemi dalibai su fadi wane rukuni daga cikinsu ya dāra wani yawan dalibai.
- **Ka/ki ce:** Rukunin dake da dalibai 13 shi ne ya dāra, saboda 13 ta dāra 7 yawa.
- A rubuta alamomin > da < a kan allo.
- **Ka/ki ce:** *Alamar > koyaushe tana nuna lambar da ta dāra yawa. Don ku tuna da wannan, ita wannan alamar ta yi kama da sifar bakin kada. Kada koyaushe yana sha'awar cinye lambar da tafi yawa.*
- A kira dalibi dāya ya zo gaban aji sai a nemi ya cike wannan alamar: 13 ____ 7. Daga nan sai a nemi dalibin da ya yi gwajin buɗe bakin kada ya kuma yi kwaikwayon zai cinye 13.
- A maimaita matakan da wasu lambobi.

Gwaji

Aikin dāidaikun dalibai da aikin dalibai bibbiyu: Nuna lambar da ta dāra yawa (minti 15)

- A umurci dalibai su buɗe littafin dalibai inda ke da layin lamba ko kuma jadawalin lambobi a farkon bangon littafinsu domin samun taimako.
- A rubuta tagwayen lambobi da yawa a kan allo: 70 ____ 50 ; 123 ____ 41 ; 264 ____ 263
- A umurci dalibai su rubuta lambobin a cikin littafansu na rubutu sannan sai su cike alamar da ta dace < ko >. Dalibai na iya duba amsarsu da ta abokan zamansu.
- A zagaya ana lura da dalibai, a kuma taimaka musu. A yayin zagayawar, a tambayi dalibai yadda suka samo amsar tasu, a kuma duba ko sun amsa daidai.
- Bayan minti goma, a sa dalibai su karanta lissafin, a ba su dama su yi amfani da kalmomin “wadda ta dāra” Alal misali; dalibai za su ce “70 ta dāra 50 yawa.”
- Idan da lokaci, a nemi dalibai su kammala karin wasu misalai.

Bayyanawa

Auna fahimta nan-take (minti 5)

- Yi bayanin cewa za ka/ ki fadi wani jawabi. Idan jawabin daidai ne, dalibai su daga babban yatsansu sama. Idan jawabin kuskure ne, dalibai za su nuna babban yatsansu a kasa.
- **Ka/ki ce:** *5 ta dāra 1. Daidai ne ko kuskure ne? 10 ta dāra 100. Daidai ne ko kuskure ne?*

Aikin Gida

A sa dalibai su rubuta “999 ____ 123” a cikin littafansu na aiki, su kuma cike alamar da take daidai daga cikin alamomin: > ko <

Manufa: Dalibai za su iya nuna lambobin da suka gaza wasu ko kuma waƙanda suke daidai da wasu.

Kayan Aiki:

Lokaci: Minti 35

Fara Darasi

Duba aikin gida (minti 2)

- Gaggauta duba aikin gida. A fada wa dalibai sakamakonsu sannan a karfafa masu gwiwa.

A yi Wasan Daidai ne ko ba daidai ba ne (minti 3)

- Yi bayanin cewa za ka/za ki fadi wani jawabi. Idan jawabin daidai ne, dalibai su daga babban yatsansu a sama. Idan jawabin ba daidai ba ne, dalibai su nuna babban yatsansu a kasa.
- **Ka/ki ce:** 100 ta dara 20 yawa. Daidai ne ko kuskure ne? 654 ta dara 100. Daidai ne ko kuskure ne?

Koyo

Gabatar da lambar da ta gaza wata da kuma lambar da take daidai da wata (minti 10)

- **Ka/ki ce:** A yau za mu nuna lambobin da suka gaza wasu yawa ko kuma waƙanda suke daidai da su. Idan lamba ɗaya ta gaza ɗaya yawa, yana nufin tana da karancin kima. Idan lambobi biyu suka kasance daidai da juna, yana nufin lambobin iri ɗaya ne.
- A kira dalibai 20 su zo gaban aji, sai a raba su a rukuni gida biyu na; rukunin, mutum 1 da kuma rukunin mutane 19. Ka/ki kirga yawan daliban dake cikin kowane rukunin a bayyane sannan sai ka/ki rubuta adadin yawan lambar su a kan allo. Nemi dalibai su fadi wane rukuni daga cikinsu ya dara wani yawan dalibai.
- **Ka/ki ce:** Rukunin dake da dalibai 1 shi ne ya gaza a yawa, saboda 1 ba ta kai yawan 19 ba. Ku tuna, alamar > koyausha tana nufin lambar da ta fi yawa, saboda haka wace hanya alamar ya kamata ta nuna?
- A kira wani dalibi ya zo gaban allo, a nemi ya cike wannan alamar: 1 ____ 19.
- **Ka/ki ce:** Rukunin da ke da dalibi guda 1 shi ne ya gaza a yawa, saboda 1 ta gaza 19.
- Daga nan, sai ka/ki raba rukunin daliban zuwa gida goma-goma. Ka/ki karanta lambar daliban kowane a bayyane sannan ka/ki rubuta 10 = 10 a kan allo.
- **Ka/ki ce:** Yayin da aka samu lambobi biyu iri guda, muna amfani da alamar daidai da.
- A maimaita matakan da wasu lambobi na daruruwa da gwammai da kuma daidai. A yi amfani da layin lamba ko jadawalin lambobi domin gwajin amsarka/ki.

Gwaji

Aikin daidaiƙun dalibai da aikin dalibai bibbiyu: Nuna lambar da ta dara da lambar da ta gaza ko kuma daidai da (minti 15)

- A umurci dalibai su buɗe littafin dalibai Shafi na 26.
- A karanta umurnin da kuma tambayar farko a bayyane ga dalibai. A nemi dalibai su kammala matsalar farko a cikin littafansu na rubutu. Suna iya duba amsarsu da ta abokan zamansu.
- A zagaya ana lura da dalibai, a kuma taimaka musu. A yayin zagayawar, a tambayi dalibai yadda suka samo amsar tasu, a kuma duba ko sun amsa daidai.
- Idan da lokaci, a nemi dalibai su kammala lissafi na gaba a cikin shafin.

Bayyanawa

Auna fahimta nan-take (minti 5)

- A sa dalibai su daga littafansu sama, su nuna abin da suka rubuta. A yaba wa kwazonsu.

Aikin Gida

A sa dalibai su kammala sauran aikin da ke Shafi na 26 a cikin littafin rubutunsu a matsayin aikin gida.

Manufa: Dalibai za su iya tsara lambobin ta sigar yadda suke karuwa.

Kayan Aiki: Katunan lambobi 1-1000

Lokaci: Minti 35

Fara Darasi

Duba aikin gida (minti 2)

- Gaggauta duba aikin gida. A fada wa dalibai sakamakon su sannan a karfafa masu gwiwa.


A yi Wasan Daga Babban Yatsa Sama ko Kasa (minti 3)

- A nemi dalibai su amsa kowace daga cikin wadannan tambayoyin ta hanyar daga babban yatsansu ya kalli sama ko kuma ya kalli kasa.
- **Ka/ki ce:** "Idan muna son kirge daga 5 zuwa 260 shin sama za mu yi ko kasa?" "111 zuwa 11, sama ne ko kasa?"

Koyo

Gabatar da tsara lambobi ta sigar yadda suke karuwa (minti 10)

- **Ka/ki ce:** A yau za mu tsara lambobi ta sigar yadda suke karuwa. Sigar yadda suke karuwa na nufin lambobin su fara daga lambobi na kasa zuwa lambobi na sama. Duk lambar dake a kan tsarin ta fara wadda take bayan ta.
- A kira dalibai uku su zo gaban aji. A baiwa kowanensu dama ya zabi katin lamba dayasannan sai a sa su tsaya a cikin layi, su daga katin lambar sama, suna kallon sauran 'yan ajin.
- A nemi dalibai su karanta lambobin a bayyane.
- **Ka/ki ce:** Wace lamba ce ta fi kakanta? Wadda ta fi kakanta sai ta koma gefen hagu. Wace lamba ce ta gaba idan aka bi tsari? Wace lamba ce ta fi girma? Wannan lambar sai ta koma gefen dama.
- A taimakawa dalibai su jera kansu a kan tsari daga karamar lamba zuwa babba, suna cigaba da kara lambobin.
- A maimaita da wasu dalibai daban da kuma wasu katunan lamba na daban.



Gwaji

Aikin karamin rukuni: Tsara lambobi ta sigar yadda suke karuwa (minti 10)

- A sa dalibai su zauna a cikin kananan rukunai. A zabi jagora 1 ga kowane rukuni wanda zai taimaka wajen rarraba katunan lamba guda 5 ga kowane rukuni. A aje dukkan katunan a rufe a tsakiyar rukunan.
- A yi wa dalibai bayanin cewa za su buɗe katunan lamba gudu uku, sannan su yi aiki tare su tsara su ta sigar yadda suke karuwa.
- A zagaya ana lura da dalibai, a kuma taimaka musu.
- Daga nan sai a nemi dalibai su sake buɗe wani kati, su gano wurin da ya dace a sanya shi bisa tsari tare da sauran katunan uku.
- A maimaita sa dalibai su buɗe kati na biyar.
- A zagaya ana lura da dalibai, a kuma taimaka musu. A yayin zagayawar, a tambayi dalibai yadda suka samo amsar tasu, a kuma duba ko sun amsa daidai.

Bayyanawa

Gwajin aikin gida (minti 10)

- A buɗe littafin dalibai shafi na 27 sannan a karanta umurnin ciki.
- A yi aiki na farko tare da dalibai a aji. Dalibai su juyi aikin a cikin littafan rubutunsu.

Aikin Gida

A sa dalibai su kammala sauran aikin da ke Shafi na 27 a cikin littafin rubutunsu a matsayin aikin gida.

Manufa: Dalibai za su iya tsara lambobin ta sigar yadda suke raguwa.

Kayan Aiki: Katunan lambobi 1-1000

Lokaci: Minti 35

Fara Darasi

Duba aikin gida (minti 2)

- Gaggauta duba aikin gida. A fada wa dalibai sakamakonsu sannan a karfafa masu gwiwa.


A yi Wasan Daga Babban Yatsa Sama ko Kasa (minti 3)

- A umurci dalibai su amsa kowace daga cikin wadannan tambayoyin ta hanyar daga babban yatsansu ya kalli sama ko kuma ya kalli kasa.
- **Ka/ki ce:** "Idan muna son yin kirge daga 800 zuwa 100 shin sama za mu yi ko kasa?" "60 zuwa 61, sama ne ko kasa?"

Koyo

Gabatar da tsara lambobi ta sigar yadda suke raguwa (minti 10)

- **Ka/ki ce:** A yau za mu tsara lambobi ta sigar yadda suke raguwa. Sigar yadda lambobi suke raguwa na nufin lambobin su fara daga lambobi manya zuwa lambobi kanana. Duk lambar dake a kan tsarin ta gaza wadda take gabanta.
- A kira dalibai uku su zo gaban aji. A baiwa kowanensu dama ya zaɓi katin lamba daya sannan sai a sa su tsaya a cikin layi, su daga katin lambar sama, suna kallon sauran 'yan ajin.
- A umurci dalibai su karanta lambobin a bayyane.
- **Ka/ki ce:** Wace lamba ce ta fi girma? Wadda ta fi kakanta sai ta koma gefen hagu. Idan muna jera lambobi ta sigar yadda suke raguwa. Wace lamba ce ta gaba idan aka bi tsari? Wace lamba ce ta fi kakanta? Wannan lambar sai ta koma gefen dama.
- A taimakawa dalibai su jera kansu a kan tsari daga babbar lamba zuwa karama, suna cigaba da rage kimar lambobin.
- A maimaita da wasu dalibai daban da kuma wasu katunan lamba na daban.



Gwaji

Aikin karamin rukuni: Tsara lambobi ta sigar yadda suke raguwa (minti 10)

- A sa dalibai su zauna a cikin kananan rukunai. A zaɓi jagora 1 ga kowane rukuni wanda zai taimaka wajen rarraba katunan lamba guda 5 ga kowane rukuni. A aje dukkan katunan a rufe a tsakiyar rukunan.
- A yi wa dalibai bayanin cewa za su buɗe katunan lamba gudu uku, sannan su yi aiki tare, su tsara su ta sigar yadda suke raguwa.
- A zagaya ana lura da dalibai, a kuma taimaka masu. Daga nan sai a nemi dalibai su sake buɗe wani kati, su gano wurin da ya dace a sa shi bisa tsari tare da sauran katunan uku.
- A maimaita sa dalibai su buɗe kati na biyar.
- A zagaya ana lura da dalibai, a kuma taimaka musu. A yayin zagayawar, a tambayi dalibai yadda suka samo amsar tasu, a kuma duba ko sun amsa daidai.

Bayyanawa

Gwajin aikin gida (minti 10)

- A buɗe littafin dalibai shafi na 28 sannan a karanta umurnin ciki.
- A yi aiki na farko tare da dalibai a aji. Dalibai su juyi aikin a cikin littafan rubutunsu.

Aikin Gida

A sa dalibai su kammala sauran aikin da ke Shafi na 28 a cikin littafin rubutunsu a matsayin aikin gida.

Manufofi: Dalibai za su yi bita da gwajin abun da suka koya a cikin wannan makon.

Kayan Aiki:

Lokaci: Minti 35

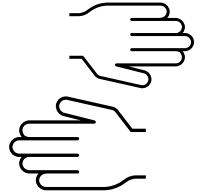
Fara Darasi

Duba aikin gida (minti 2)

- Gaggauta duba aikin gida. A fada wa dalibai sakamakonsu sannan a karfafa masu gwiwa.

A yi Wasan Lambar da ta Dara da Lambar da ta Gaza (minti 5)

- A rubuta lambobin a kan allo. A sa dalibai su amsa kowace daga cikin wadannan tambayoyin ta hanyar daga babban yatsansu sama (ga lambar da ta dara yawa da) ko kuma nuna babban yatsansu ya kalli kasa (ga lambar da ta gaza ga yawa), ko kuma alamar daidai da (ga lambar da suke daidai)
- 100 ___ 2 ; 100 ___ 200 ; 200 ___ 200
- Idan da lokaci, ka/ki cigaba da karin wasu misalai.



Koyo

Bitu da maimai (minti 8)

- A zabi wani darasi daga cikin darussan da aka yi a cikin makon, wanda ake ganin dalibai ba su fahimce shi sosai ba. A sake koyar da darasin ko a sake koyar da shi ta wata sabuwar hanya daban.

Gwaji

Aikin daidaiƙun dalibai da aikin dalibai a cikin rukuni : Zane da kuma rubutu (minti 15)

- A baiwa dalibai aikin da zai taimaka musu wajen yin gwajin darasin da aka yi bita (alal misali; tsara lambobi har zuwa 999. Dalibai suna iya yin aiki daidaiƙunsu ko kuma a cikin kananan rukunai.
- Yayin da dalibai suke gudanar da wani aikin da aka ba su, a kara taimaka musu a inda ba su gane sosai ba.

Bayyanawa

Bitu da kuma bayyanawa (minti 5)

- A sa dalibai su nuna aikin da suka kammala a lokacin Gwaji.

Aikin Gida

A baiwa dalibai aikin gida na bitu da kuma gwajin kwazonsu.


Darasin Lissafi Aji 2, Zango na 1, Mako na 12 – Jarrabawar karshen Zango




Cike gurbin da babu lamba. (A bayar da maki biyu ga kowace amsa)



65, 66, 67, 68 _____, 70

25, _____, 35, 40, 45, 50

Fadi lambar da kowane hoto yake wakilta. (A bayar da maki uku ga kowace amsa. Jimillar maki 9 kenan)

Goma-goma	'Daidai
	

'Dari-dari	Goma-goma	'Daidai
		

Goma-goma	'Daidai
	

Fadi darajar kowane lambar da take gidan goma a kowane rukuni. (A bayar da maki daya ga kowace amsa)

356

191

Manufa: Dalibai za su yi bitar kirge zuwa 200.

Kayan Aiki: Jadawalin Lambobi 1-100 da kwallon takarda

Lokaci: Minti 35

Fara Darasi

Duba aikin gida (minti 2)

- Gaggauta duba aikin gida. A faɗa wa dalibai sakamakonsu sannan a karfafa masu gwiwa.

A yi Wasan Sunan Lamba (minti 3)

- A rubuta wata lamba daga 1 zuwa 200 a kan allo. A nemi dalibai da su fadi sunan lambar. A maimaita sau da yawa.

Koyo

Kirge zuwa 200 da bibbiyu da biyar-biyar da kuma goma-goma (minti 10)

- **Ka/ki ce:** A yau za mu yi bitar kirge zuwa 200 da bibbiyu da biyar-biyar da kuma goma-goma.
- A yi kirgen tsallake da bibbiyu a fara daga 0 zuwa 200 yayin da ake nuna lambar daga jadawalin lambobi. Ka/ki nemi dalibai da ku yi kirgen tare da su.
- A maimaita kirgen da biyar-biyar da kuma goma-goma. Ka/ki nemi dalibai su yi kirgen tsallaken tare da abokan zamansu.
- A tambayi dalibai su fadi wane ya fi sauki da kuma wane ya fi wahala gare su.

Gwaji

Wasan aji gaba ɗaya: Kirge zuwa 200 da bibbiyu da biyar-biyar da kuma goma-goma (minti 15)

- A yi bayanin dokokin wasan ga dalibai. A sa dalibai su tsaya a cikin da'ira sai a ba su wata takarda da aka nade kamar kwallo. Ka/ki gaya musu cewa "dankali ne mai zafi" saboda haka ka da su riƙe shi ya daɗe a hannunsu saboda yana iya "kona" su. A fara daga 2, duk wanda ya kama kwallon sai a kara wasu 2 ga jimillar abin da aka fadi sannan ya jefa kwallon ga wani dalibi daban. Idan wani ya kasa ba da amsar to rukunin gaba ɗaya za su koma farko, su sake kirgen daga 2, su fara daga dalibin da ya kasa ba da amsar.
- A fara da wata lamba sai a yi kirgen da bibbiyu har a kai 200. Daga nan sai a sake maimaitawa, a wannan karon sai a yi kirgen da biyar-biyar ko kuma goma-goma.
- Idan daliban sun iya gudanar da wannan tsarin cikin sauki, a nemi su jefa kwallon ga junansu ba bisa wani tsari ba.

Bayyanawa

Auna fahimta nan-take (minti 5)

- A fadi wata lamba daga 1-200 a bayyane.
- A sa dalibai su rubuta lambar a cikin littafansu na aiki..
- A sa dalibai su daga takardunsu sama, su nuna abun da suka rubuta. A yaba wa kwazonsu.

Aikin Gida

A sa dalibai su yi gwajin yin kirge da bibbiyu da biyar-biyar da kuma goma-goma zuwa 200 a gida.

Manufofi: Dalibai za su yi amfani da gidajen daruruwa da gidajen gwammai da kuma gidajen daidai su nuna kimar lamba har zuwa 999.

Kayan Aiki: Karamar jakar wake da tsakuwoyi 1 da katunan lamba 1-9.

Lokaci: Minti 35

Fara Darasi

Duba aikin gida (minti 2)

- Gaggauta duba aikin gida. A fada wa dalibai sakamaku sanna a karfaa masu gwiwa.

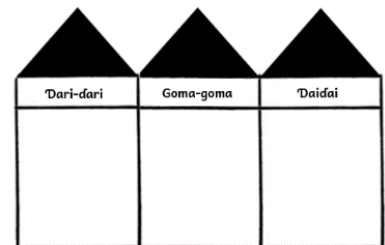
Ni wace lamba ce? (minti 3)

- A karanta kowane daga cikin wadannan jawaban. A nemi dalibai su ba da amsa ta fadin lambar a bayyane.
- **Ka/ki ce:** Ni dami 5 ne na daurin goma-goma da kuma daidai guda 2? Ni wace lamba ce?
- **Ka/ki ce:** Ni dami 9 ne na daurin goma-goma da daidai 0. Ni wace lamba ce?
- **Ka/ki ce:** Ni dami 1 ne na daurin dari da dami 5 na daurin goma-goma. Ni wace lamba ce?

Koyo

Bitar kimar lamba zuwa 200 (minti 10)

- A zana hoton gidajen daruruwa da gidajen gwammai da kuma gidajen daidai a kan allo.
- A nemi dalibai uku su zo gaban aji kowannensu ya zabi katin lamba guda daya. Za su tsaya a cikin layi, kowannensu a gaban gida daya, sai su daga katin lambar sama, ta yadda ajin za su iya ganin lambobin.
- A yi musu bayanin cewa kowane dalibi yana tsaye ne a gaban kimar lamba daban. Daga hagu zuwa dama, dalibi daya yana tsaye a gurbin gidan daruruwa da dalibi dua a gurbin gidan gwammai, sai dalibi daya a gurbin gidan daidai.
- A nemi ajin ya fadi lambar da aka samar a bayyane sai a rubuta lambar a kan allo.
- A maimaita aikin da karin wasu dalibai uku.
- Dukkan daliban su kwatanta lambobin don su gano wace lamba ce ta fara wata yawa.



Gwaji

Aiki a cikin karamin rukuni: Cankar Lamba (minti 10)

- A sa dalibai su zauna a cikin kananan rukunai. A sa dalibai su zana hoton gidajen daruruwa da gidajen gwammai da kuma gidajen daidai a cikin littafansu na rubutu.
- A daga jakar wake da tsakuwoyi a sama, sai a tambayi dalibai su canka kwara nawa ne a cikin jakar. Su rubuta cankar da suka yi a daidai kansu a gurbin gidajen daruruwa da gidajen gwammai da kuma gidajen daidai.
- Bayan dukkan daliban sun gama canken nasu, su tattauna da junansu cewa canken wa ya fi fara wa kuma canken wa ya gaza.
- Daga karshe, a fadi ainihin jimillar adadin waken ko tsakuwoyin ta hanyar rubuta lambar a kan allo.

Bayyanawa

Gwajin aikin gida (minti 10)

- A buɗe littafin dalibai shafi na 29 sannan a karanta umurnin dake ciki.
- A yi aiki na farko tare da dalibai a aji. Dalibai su juyi aikin a cikin littafan rubutunsu.

Aikin Gida

A sa dalibai su kammala sauran aikin da ke Shafi na 29 a cikin littafin rubutunsu a matsayin aikin gida.

Manufa: Dalibai za su rubuta lambobi 1 zuwa 1,000.

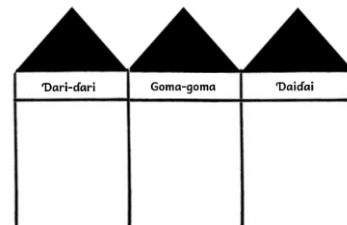
Kayan Aiki: Katunan lamba 1 zuwa 9

Lokaci: Minti 35

Fara Darasi

Duba aikin gida (minti 2)

- Gaggauta duba aikin gida. A fada wa dalibai sakamakonsu sannan a karfa masu gwiwa.



Wasan Canken lamba (minti 3)

- A nemi dalibai su yi canken faɗin nawa ake sayar da babban burodi ɗaya .
- A nemi dalibai 2 ko 3 su bayyana canken da suka yi ga aji ta hanyar rubuta lambar a cikin jadawalin kimar wurin lamba.
- A gaya wa dalibai ainihin jimillar yawan kuɗin, don su ga yadda za su kwatanta da canken da suka yi.

Koyo

Rubuta kimar lamba tsakanin lamba 1 zuwa 999 (minti 10)

- A nemi dalibai su zo gaban aji, kowannensu ya zaɓi katin lamba guda ɗaya. Za su tsaya a kan layi su nuna katunan lambobinsu ga ajin baki ɗaya.
- A yi bayanin cewa kowane dalibi yana wakiltar wani kimar lamba ne na daban. Mun san tsarin, saboda tsarin da suka tsaya a kansa. Dalibi ɗaya a gurbin gidan ɗaruruwa, dalibi ɗaya a gurbin gidan gwammai sannan kuma dalibi ɗaya a gurbin gidan daidai.
- A kira dalibi ɗaya ya zo gaban aji ya rubuta lambar da take daidai a gidajen ɗaruruwa da gidajen gwammai da kuma gidajen daidai.
- A maimaita aikin, tare da neman dalibai su sauya tsarin da suka tsaya a kansa ko su zaɓi wasu katunan lamba na daban domin su samar da wata lamba daban.

Gwaji

Aikin daidaiƙun dalibai da aikin dalibai bibbiyu: Rubuta lambobi (minti 15)

- A nemi dalibai su buɗe littafin dalibai a Shafi na 30.
- A karanta umurnin da kuma tambayar farko a bayyane ga dalibai.
- A nemi dalibai su kammala matsalar a cikin littafansu na aiki ta hanyar rubuta lambar da kowane damin ɗaruruwa da damin gwammai da kuma damin daidai yake wakilta.
- A zagaya ana lura da dalibai. A yayin zagayawar, a tambayi dalibai yadda suka samo amsar tasu, a kuma duba ko sun amsa daidai.
- Idan da lokaci, a nemi dalibai su kammala lissafi na gaba a cikin shafin.

Bayyanawa

Auna fahimta nan-take (minti 5)

- A sa dalibai su daga littafansu sama, su nuna abin da suka rubuta. A yaba wa kwazonsu.

Aikin Gida

A sa dalibai su kammala sauran aikin da ke Shafi na 30 a cikin littafin rubutunsu a matsayin aikin gida.

Manufofi: Dalibai za su nuna kimar lamba har zuwa 999 sannan su nuna lambar da ta fi fara girma da kuma lambar da ta fi gaza girma.

Kayan Aiki: Katunan lamba

Lokaci: Minti 35

Fara Darasi

Duba aikin gida (minti 3)

- Gaggauta duba aikin gida. A fada wa dalibai sakamankonsu sannan a karfa masugwiwa.

Wasan Kirge (minti 2)

- A yi wa dalibai bayanin cewa za a fadi wata lamba. Da zarar an fadi lambar, sai su fara kirge daga lambar da goma-goma da sauri. Alal misali, idan aka ce “900,” dalibai sai su fara fadin “900, 910, 920, 930...”
- Bayan ‘yan dakikai kadan, sai a ce “su tsaya.” Daga nan sai a sake maimaita wannan tsarin da wata sabuwar lamba.

Koyo

Bitar lambar da ta fara da lambar da ta gaza da kuma lambar da take daidai da wata har zuwa lamba ta 999 (minti 10)

- **Ka/ki ce:** *A yau za mu nuna lambobin da suka fara wasu da wadanda suka gaza wasu da kuma lambobin da suke daidai da wasu lambobin.*
- A kira dalibai shida su zo gaban aji kowanensu ya zaɓi katin lamba guda daya. Za su daga katin lambobinsu sama ta yadda duk sauran ajin za su ga lambobin da suka zaɓa.
- A sa dalibai su raba kansu a cikin rukunai guda uku, domin su samar da lambobi bibbiyu daban-daban na daruruwa.
- A gwada lambobin a gurbin daruruwa da gurbin goma-goma da kuma gurbin daidai don a taimakawa dalibai su iya gane lambar da ta fara wata.
- A maimaita aikin da wasu dalibai, ana sa dalibai suna sassauya muhallin da suke tsaye don a samar da wasu sababbin lambobin da za a kwatanta.

Gwaji

Aikin daidaiƙun dalibai da aikin dalibai bibbiyu: Nuna lambar da ta fara girma da lambar da ta gaza ko kuma wadda take daidai da wata (minti 15)

- A nemi dalibai su buɗe littafin dalibai a Shafi na 31. A karanta umurnin da kuma tambayar farko a bayyane ga dalibai a kuma taimakawa dalibai su kammala tambayar farko.
- A zagaya ana lura da dalibai, a kuma taimaka musu. A yayin zagayawar, a tambayi dalibai yadda suka samo amsar ta su, a kuma duba ko sun amsa daidai.
- Idan da lokaci, a nemi dalibai su kammala lissafi na gaba a kan shafin da kansu. Suna iya duba amsarsu da ta abokan zamansu.

Bayyanawa

Auna fahimta nan-take (minti 5)

- A sa dalibai su daga littafansu sama, su nuna abin da suka rubuta. A yaba wa kwazonsu.

Aikin Gida

A sa dalibai su kammala sauran aikin da ke Shafi na 31 a cikin littafin rubutunsu a matsayin aikin gida.

Manufa: Dalibai za su iya nuna $\frac{1}{2}$ na rukunin wasu abubuwa.


Kayan Aiki: Ayaba (ko duk wani abu da ake iya rabawa gida biyu), takarda da aka raba gida biyu mai samfurin da aka naɗa, aka raba ta gida biyu (da'ira da fasali mai sifar akwati a kuma fasali mai sifar gidan dara)

Lokaci: Minti 35

Fara Darasi

Duba aikin gida (minti 3)

- Gaggauta duba aikin gida. A fada wa dalibai sakamankonsu sannan a karfafa masu gwiwa.



Labari da Hotuna (minti 2)

- Bayyana labarin hotuna a kan allo. Ali da Audu sun tafi kasuwa. Sun iske mai sayar da kayan marmari yana da ayaba guda ɗaya kacal da ta rage masa. Da farko Ali da Audu sun yi muhawarar wanda za a sayar wa ayabar daga cikinsu. Daga baya, sai suka yanke shawarar cewa za su raba ayabar daidai su biyu.
- A kira dalibai guda biyu, su zo gaban aji su yi gwajin kwaikwayon labarin. Idan akwai ayaba ta gaskiya, ka/ki ba su su raba tsakaninsu.

Koyo

Gabatar da Kaso ɗaya: $\frac{1}{2}$ (minti 10)

- Ka/ki ce:** *A yau za mu koyi wani abu game da kasu ɗaya, na rabin abu ɗaya. An raba ayabar gaba ɗaya gida biyu daidai. Kowane kasu ɗayaana kiransa da rabi, wanda ke nufin kasu biyu waɗanda girmansu yake daidai.*
- A zana sifar akwati mai kusurwa huɗu (ractangul) a kan allo, sai a zana layi tsakiyar sifar daga sama zuwa kasa, sannan sai a tusa kasu ɗaya ya yi duhu.
- Ka/ki ce:** *Yanzu muna da cikakken sifar akwati mai kusurwa huɗu (ractangul). Idan aka raba shi gida biyu, za mu samu kasu biyu waɗanda girmansu ɗaya. Na saka kala ga rabin sifar akwati mai kusurwa huɗu (ractangul).*
- A rubuta lamba 1 a kan allo. A ja layi a kasan lambar.
- Ka/ki ce:** *Ina da rabi guda biyu, ko kuma kasu biyu, jimilla.*
- A rubuta lamba ta '2' a kan allo a kasan layin.
- Ka/ki ce:** *A kasu na $\frac{1}{2}$, lambar dake sama tana nuna mana kason da muke da su gaba ɗaya. Lambar da take kasa kuwa tana nuna jimillar yawan kasu da muke da su waɗanda girmansu yake iri ɗaya. Saboda haka, muna nuna kason mu na $\frac{1}{2}$ ta hanyar rubuta 1 bisa 2.*
- A maimaita da wasu sifofin kamar sifar akwati da da'ira da kuma fasalin dala.



Gwaji

Wasan aji gaba ɗaya: A nemo rabi (minti 15)

- A gaya wa dalibai cewa kowannensu zai samu rabin wani sifa. Su nemi wani dalibi wanda yake da sauran rabin cikon sifar. A tunawa daliban cewa rabin sifar da za su nema ya kasance daidai sifar nasu.
- Bayan kowane dalibi ya gano sauran rabin sifar nasa, a sa dukkan dalibai su tsaya su bibbiyu. Daliban su hada sifofinsu wuri ɗaya domin su samu cikakken sifa ɗaya. Su fadawa junansu sunan sifar tasu.
- A zagaya ana lura da aikin daliban. A yayin zagayawar, ka/ki tambayi daliban ko sun gane waɗanne sifofi ne ake iya hadawa a samu cikakken sifa ɗaya. A duba ko sun amsa daidai.

Bayyanawa

Auna fahimta nan-take (minti 5)

- A daga wata surar $\frac{1}{2}$ sama. A nemi dukkan dalibai dake da rabin cikon surar da su daga surarsu a sama, sannan su fadi sunan surar a bayyane. A maimaita da sauran rabin surorin.

Aikin Gida

A sa dalibai su zana hoton sura mai kusurwa huɗu a cikin littafansu na rubutu sannan su sanya kala ga rabinta.

Manufa: Dalibai za su iya nuna $\frac{1}{4}$ na rukunin wasu abubuwa.

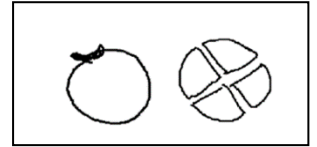
Kayan Aiki: Lemo (ko wani abu da ake iya rabawa gida huɗu) samfurin takardar da aka naɗa, aka raba a cikin kaso $\frac{1}{4}$ (da'ira da sifar akwati da sifar gidan dara)

Lokaci: Minti 35

Fara Darasi

Duba aikin gida (minti 2)

- Gaggauta duba aikin gida. A fada wa dalibai sakamakonsu sannan a karfafa masu gwiwa.



Labari da Hotuna (minti 3)

- Bayyana labarin hotuna a kan allo. Dalibai huɗu sun tafi kasuwa. Sun iske mai sayar da kayan marmari yana da lemo guda ɗaya da ya rage mashi. Da farko, duk sun yi muhawarar wanda za a sayar wa lemun daga cikinsu. Daga baya, sai suka yanke shawarar cewa za su raba lemun daidai su huɗu.
- A kira dalibai guda huɗu, su zo gaban aji su yi gwajin kwaikwayon labarin. Idan akwai lemu na gaskiya, ka/ki ba su su raba tsakaninsu.

Koyo

Gabatar da Kaso ɗaya: $\frac{1}{4}$ (minti 10)

- Ka/ki ce:** A yau za mu koyi wani abu game da kaso ɗaya, bisa huɗu.
- A zana hoton da'ira a kan allo, sai a zana layin da zai raba ta gida biyu daidai. Daga nan sai a kuma zana wani layi da zai raba da'irar zuwa gida huɗu.
- A nemi wani dalibi ya zo gaban aji ya tusa kashi $\frac{1}{4}$ na da'irar da kala.
- Ka/ki ce:** Yanzu an raba cikakkiyar da'irarmu zuwa kaso huɗu waɗanda duk girmansu ɗaya. An cike $\frac{1}{4}$ na da'irar.
- A rubuta lamba 1 a kan allo. A ja layi a kasan lambar. Daga nan sai a rubuta lamba 4 a kasan layin.
- Ka/ki ce:** A kaso guda na $\frac{1}{4}$, lambar dake sama tana nuna muna kaso da muke da su gaba ɗaya. Lambar dake kasa kuwa tana nuna muna jimillar yawan kaso da muke da su waɗanda girmansu yake iri ɗaya.
- A maimaita da wasu sifofi kamar sifar gidan dara da da'ira da sifar akwati ko kuma sifar lu'u'lu'u.



Gwaji

Wasan aji gaba ɗaya: Nemo Cikakkiyar Surar Gaba ɗaya (minti 15)

- A gaya wa dalibai cewa kowanensu zai samu $\frac{1}{4}$ na wata sifa. Su nemi wasu dalibai guda uku waɗanda suke da sifa iri guda da su. Bayan kowane dalibi ya gano sauran cikon sifar guda huɗu, a sa dalibai su tsaya tare. Su daga sifofinsu wuri guda, domin su samu cikakkiyar sifa ɗaya, mai bangarori guda 4.
- A nemi rukunin mutane 4 su zo gaban aji su haɗa kansu wuri ɗaya, su nuna $\frac{1}{4}$ (dalibi ɗayaya tsaya gefe daban da sauran daliban). Daga nan sai, a nemi rukunin su tsara kansu yadda za su nuna $\frac{1}{2}$ (dalibai biyu su tsaya gefe daban da sauran daliban). A tambayi 'yan aji su fadi wane bangare ne ya fi wani girma.
- Idan da lokaci, a maimaita da wani rukunin dalibai.

Bayyanawa

Auna fahimta nan-take (minti 5)

- A daga wani sifar $\frac{1}{4}$ sama. A nemi dukkan dalibai dake da ɗaya bisa huɗu na cikon sifar da su daga sifofinsu sama, sannan su fadi sunan fasalin a bayyane. A maimaita da wasu sauran sifofin.

Aikin Gida

A sa dalibai su zana hoton sifar akwati a cikin littafansu na rubutu sannan su sanya kala ga kashi ɗaya bisa huɗu na sifar.

Manufa: Dalibai za su iya nuna $\frac{3}{4}$ na rukunin wasu abubuwa.

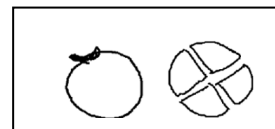
Kayan Aiki: Lemo (ko wani abu da ake iya rabawa a cikin gida huɗu)

Lokaci: Minti 35

Fara Darasi

Duba aikin gida (minti 2)

- Gaggauta duba aikin gida. A faɗa wa dalibai sakamankonsu sannan a karfafa masu gwiwa.



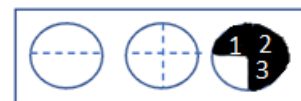
Labari da Hotuna (minti 5)

- Bayyana labarin hotuna a kan allo. Dalibai huɗu sun tafi kasuwa. Sun iske mai sayar da kayan marmari yana da lemo guda ɗaya kacal da ya rage masa. Da farko, duk sun yi muhawarar wanda za a sayar wa lemun daga cikinsu. Daga baya, sai suka yanke shawarar cewa za su raba lemun daidai su huɗu. Kowannensu ya samu $\frac{1}{4}$ na lemun. Daga nan sai ga wani kare dake jin yunwa ya zo wurin sai ya ɗauke kashi ɗaya. Yanzu, an bar kashi uku kawai da suka rage!
- A kira dalibai guda huɗu, su zo gaban aji su yi gwajin kwaikwayon labarin. Idan akwai lemu na gaskiya, ka/ki ba su su raba tsakaninsu. Idan babu shi, a ba su sifar da'ira, su raba cikin gida huɗu.
- A yi wa daliban bayanin cewa kowane dalibi yana da kason $\frac{1}{4}$ na lemun. Amma bayan da kare ya cinye kashi $\frac{1}{4}$, an bar kaso guda 3 ne kawai. Wannan yana nufin akwai kashi $\frac{3}{4}$ na lemun kawai da ya rage. A rubuta kowane daga cikin kason a kan allo, yayin da ka/kike yin bayaninsu.

Koyo

Gabatar da kaso ɗaya: $\frac{3}{4}$ (minti 8)

- **Ka/ki ce:** *A yau za mu koyi wani abu game da kaso ɗaya, na $\frac{3}{4}$. Wannan yana nuna akwai jimillar kaso huɗu waɗanda duk girmansu ɗaya, amma uku kawai ne aka tusa da baki.*
- A zana hoton surar da'ira a kan allo, sai a raba ta cikin gida huɗu.
- **Ka/ki ce:** *Muna da cikakkiyar da'ira ɗaya. Amma idan aka raba ta zuwa gida huɗu, za mu samu kaso huɗu waɗanda duk girmansu ɗaya.*
- A saka lambobi ga kowane kaso, 1, 2, 3, 4 sai ka/ki kirga kowane kaso tare da dalibai a bayyane. Daga nan sai ka/ki tusa kaso guda uku na da'irar da baki.
- A rubuta lamba 3 a kan allo. A ja layi a kasan lambar. Daga nan sai a rubuta lamba 4 a kasan layin.
- **Ka/ki ce:** *A kaso ɗaya na $\frac{3}{4}$, lambar dake sama tana nuna mana kason da muke da su gaba ɗaya. Lambar dake kasa kuwa tana nuna muna jimillar yawan kason da muke da su waɗanda girmansu yake iri guda.*
- A maimaita da wasu sifofi kamar; sifar gidan dara da kuma sifar lu'u'lu'u ko rukunin wasu sifofi.



Gwaji

Aikin daidaiƙun dalibai da aikin dalibai bibbiyu: Zane (minti 15)

- A zana sifar akwati da sifar da'ira a kan allo.
- A nemi dalibai su rubuta sifofin a cikin littafansu na rubutu, su kuma tusa kashi $\frac{3}{4}$ na kowace daga cikin sifofin da baki.
- A zagaya ana lura da aikin dalibai a kuma taimaka musu.



Bayyanawa

Auna fahimta nan-take (minti 5)

- A sa dalibai su daga littafansu na rubutu sama, su nuna abun da suka sanya wa kala.

Aikin Gida

A sa dalibai su zana hoton sifar gidan dara a cikin littafansu na aiki sannan su sanya kala ga rabinsa.

Manufofi: Dalibai za su iya rarrabewa tsakanin $\frac{1}{4}$ da $\frac{1}{2}$ da kuma $\frac{3}{4}$

Kayan Aiki:

Lokaci: Minti 35

Fara Darasi

Duba aikin gida (minti 2)

- Gaggauta duba aikin gida. A faɗa wa dalibai sakamakonsu sannan a karfafa masu gwiwa.

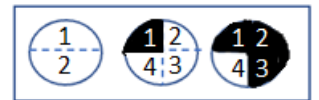
Nade Rabi-rabi da kuma Kashi Daya bisa Huɗu (minti 3)

- A sa dalibai su dauko fallen takarda guda ɗaya. A nunawa dalibai yadda ake nade takardar a rabi. Sannan sai a sa dalibai su buɗe takardar su gani idan kowane rabin daidai yake da ɗan'uwansa.
- Da zarar an nade takardar a rabinta, a nunawa dalibai yadda za su sake nade ta, su samu ninki huɗu. A sa dalibai su buɗe takardunsu, sai su rubutawa kowane bangare na kason mai sifar gidan dara lambobi 1, da 2 da 3 da 4 domin su nuna kowane bangaren takardar 4 da girmansu yake daidai.

Koyo

Rarrabewa tsakanin Bangarori: $\frac{1}{4}$, $\frac{1}{2}$, $\frac{3}{4}$ (minti 10)

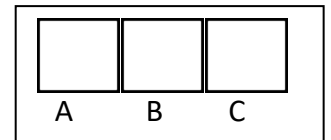
- Ka/ki ce:** A wannan makon mun koyi yadda ake gane bangare guda na $\frac{1}{2}$ da $\frac{1}{4}$ da kuma $\frac{3}{4}$.
- A zana hoton da'ira sannan sai a raba da'irar cikin bangarori guda biyu waɗanda girmansu ɗaya. A yi wa kowane bangare daga cikinsu rubutu.
- Ka/ki ce:** Muna da da'ira guda gaba ɗaya. Idan aka raba ta gida biyu, za mu samu bangarori guda biyu waɗanda girmansu iri ɗaya.
- A tusa rabin bangaren da'irar da kala.
- Ka/ki ce:** Na sanya kala ga rabin da'ira ta. Bangare na shi ne $\frac{1}{2}$.
- A rubuta bangaren a kasan da'irar. Daga nan sai a sake maimaita tsarin domin a nuna bangaren $\frac{1}{4}$ da kuma $\frac{3}{4}$.
- Ka/ki ce:** Idan aka kalli waɗannan hotunan guda uku za alura da, $\frac{1}{4}$ shi ne mafi karancin wurin da aka tusa da baki. $\frac{1}{2}$ kuwa ya fi $\frac{1}{4}$ yawa amma bai kuma kai yawan $\frac{3}{4}$ ba. $\frac{3}{4}$ shi ne kason da ya fi kowane yawa.



Gwaji

Aikin ɗaɗaɗaɗun dalibai da aikin dalibai bibbiyu: Zana Hoton Kashi $\frac{3}{4}$ (minti 10)

- A zana kaso mai sifar gidan dara guda uku a kan allo sannan a rubutawa kowannensu A, B da kuma C.
- A umurici dalibai su rubuta siffofi a cikin littafansu na rubutu.
- A umurci dalibai su tusa kashi $\frac{1}{4}$ na siffofi mai sifar gidan dara na A da $\frac{1}{2}$ na fasali mai sifar gidan dara na B da kuma $\frac{3}{4}$ na soffo mai sifar gidan dara na C. Dalibai na iya duba amsarsu da ta abokan zamansu.
- A zagaya ana lura da aikin dalibai a kuma taimaka musu.
- A nemi dalibai su faɗi wane daga cikin kaso masu sifar ɗaira ne ke da yawan bangarensa da aka tusa da baki kuma wane ne yake da mafi karanci.
- Ka/ki ce:** Fasali mai sifar gidan dara na A yana da kashi $\frac{1}{4}$ da aka tusa. Wannan shi ne mafi karancin inda aka tusa da baki, saboda haka kashi $\frac{1}{4}$ shi ne mafi karancin bangaren. A kaso mai sifar gidan dara na B, an tusa kashi $\frac{1}{2}$. Wanda ya fi $\frac{1}{4}$ yawa amma kuma bai kai yawan $\frac{3}{4}$ ba. Kason $\frac{3}{4}$ shi ne ya fi kowane yawa.



Bayyanawa

Gwajin aikin gida (minti 10)

- A buɗe littafin dalibai shafi na 32 sannan a karanta umurnin ciki.
- A yi aiki na farko tare da dalibai a aji. Dalibai su kwafi j aikin a cikin littafan rubutunsu.

Aikin Gida

A sa dalibai su kammala sauran aikin da ke Shafi na 32 a cikin littafin rubutunsu a matsayin aikin gida.

Manufofi: Dalibai za su yi bita da gwajin abun da suka koya a cikin wannan makon.

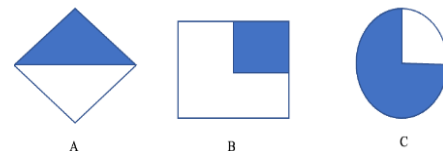
Kayan Aiki:

Lokaci: Minti 35

Fara Darasi

Duba aikin gida (minti 2)

- Gaggauta duba aikin gida. A fada wa dalibai sakamakonsu sannan a karfafa masu gwiwa.



Wasan Daidai ne ko Kuskure ne (minti 8)

- A zana hoton wasu siffofi a kan allo. Yi wa dalibai bayanin cewa za ka/za ki fadi wasu jawabai guda uku. Ga kowane daga cikin jawaban, dalibai su daga babban yatsansu sama idan jawanin daidai ne su kuma nuna babban yatsansu kasa idan jawabin kuskure ne.
- Ka/ki ce:** A na nuna $\frac{1}{4}$. Daidai ne ko Kuskure ne?
- Ka/ki ce:** B na nuna $\frac{3}{4}$. Daidai ne ko Kuskure ne?
- Ka/ki ce:** C na nuna $\frac{3}{4}$. Daidai ne ko Kuskure ne?

Koyo

Bitu da maimai (minti 5)

- A zabi wani darasi daga cikin darrusan da aka yi a cikin makon, wanda ake ganin dalibai ba su fahimce shi sosai ba. A sake koyar da darasin ko a sake koyar da shi ta wata sabuwar hanya ta daban.

Gwaji

Aikin daidai a cikin rukuni: Zane da kuma rubutu (minti 15)

- A ba dalibai aikin da zai taimaka masu wajen yin gwajin darasin da aka yi bita (alal misali; su bambanta tsakanin kaso $\frac{1}{2}$ da $\frac{1}{4}$, da kuma $\frac{3}{4}$). Dalibai na iya yin aiki daidai kunsu ko kuma a cikin kananan rukunai.
- Yayin da dalibai suke gudanar da wani aikin da aka ba su, a kara taimaka masu a inda ba su gane sosai ba.

Bayyanawa

Auna fahimta da bayyanawa (minti 5)

- A sa dalibai su nuna aikin da suka kammala a lokacin Gwajin.

Aikin Gida

A baiwa dalibai aikin gida na bita da kuma gwajin kwazonsu.

Manufa: Dalibai za su iya nuna $\frac{1}{3}$ na rukunin wasu abubuwa.


Kayan Aiki: Ayaba (ko kuma duk wani abu da ake iya rabawa gida uku), samfurin takardar da aka nada, aka raba ta gida uku (da'ira da s akwati mai kusurwa huɗu da gidan dara)

Lokaci: Minti 35

Fara Darasi

Duba aikin gida (minti 2)

- Gaggauta duba aikin gida. A fada wa dalibai sakamankonsu sannan a karfaf masu gwiwa.



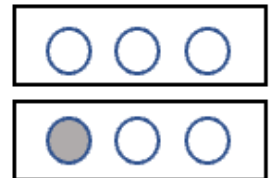
Labari da Hotuna (minti 3)

- Bayyana labarin hotuna a kan allo. Ali da Audu da Nazir sun tafi kasuwa. Sun iske mai sayar da kayan marmari yana da ayaba guda ɗaya kacal da ta rage masa. Da farko, sun yi muhawarar wanda za a sayar wa ayabar daga cikinsu. Daga baya, sai suka yanke shawarar cewa za su raba ayabar daidai.
- A kira dalibai guda uku, su zo gaban aji su yi kwaikwayon labarin. Idan akwai ayaba ta gaskiya, ka/ki ba su su raba tsakaninsu.

Koyo

Gabatar da Kaso ɗaya: $\frac{1}{3}$ (minti 10)

- Ka/ki ce:** A yau za mu koyi wani abu game da kaso na $\frac{1}{3}$. Mun ga yadda ake raba ayaba guda ɗaya zuwa kaso uku. ɗaya daga cikin waɗannan kaso daidai yake da $\frac{1}{3}$, saboda kaso ɗaya ne daga cikin, kaso guda uku.
- Ka/ki ce:** Haka ma muna iya raba rukunin wasu abubuwa zuwa gida uku. Muna da fasalin da'ira guda uku a kan allo. A wannan misalin, da'ira ukun suna wakiltar cikakken abu guda ɗaya, saboda muna kallon rukunin abubuwa a matsayin guda ɗaya ne.
- A nemi wani dalibi ɗayaya zo gaban allo ya tusa ɗaya daga cikin da'irorin.
- Ka/ki ce:** ɗaya daga cikin da'irorin nan uku na da kala. 1 shi ne kaso na kuma 3 ita ce ni gaba ɗaya.
- A rubuta kaso $\frac{1}{3}$ a kan allo domin a nuna da'ira nawa aka tusa.
- Ka/ki ce:** Lambar da take sama, 1, tana nuna kason da muke da su gaba ɗaya. Lambar take kasa kuwa tana nuna yawan kaso masu girma iri ɗaya da aka samu a jimillar, 3.
- A maimaita matakan ta hanyar zana hoton sifofin gidan dara guda uku ko sifar akwati guda uku a kan allo. A sa wani dalibi ya zo gaban aji ya tusa kashi ɗaya bisa uku na sifar, sannan ya rubuta lissafin kason kusa da inda ya tusa.



Gwaji

Wasar aji gaba ɗaya: A nemo kashi uku (minti 15)

- A gaya wa dalibai cewa kowanensu zai samu $\frac{1}{3}$ na wata sifar. Su nemi wasu dalibai wanda ke da sauran cikon sifofin uku.
- Bayan kowane dalibi ya gano cikon sifar tasu, a sa dukkan dalibai su tsaya a cikin rukuninsu. Daliban su daga sifofinsu wuri ɗayadomin su samu cikakken sifa ɗaya. Su fadawa junansu sunan sifar tasu.
- A zagaya ana lura da aikin daliban. A yayin zagayawar, ka/ki tambayi daliban ko sun gane waɗanne sifofi ne ake iya haɗawa a samu cikakkiyar sifar ɗaya. A duba ko sun amsa daidai.

Bayyanawa

Auna fahimta nan-take (minti 5)

- A daga wata sifa $\frac{1}{3}$ sama. A nemi dukkan dalibai dake da sauran rabin cikon sifar da su daga siffansu sama, sannan su fadi sunan siffar a bayyane. A maimaita da sauran rabin siffofin.

Aikin Gida

A sa dalibai su zana hoton sifar akwati a cikin littafansu na rubutu sannan su sanya kala a kashi $\frac{1}{3}$ na siffar.

Manufa: Dalibai za su iya nuna $\frac{2}{3}$ na rukunin wasu abubuwa.

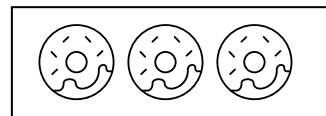
Kayan Aiki: Ayaba (ko kuma duk wani abu da ake iya rabawa gida uku)

Lokaci: Minti 35

Fara Darasi

Duba aikin gida (minti 2)

- Gaggauta duba aikin gida. A fada wa dalibai sakamaku sannan a karfafa masu gwiwa.



Labari da Hotuna (minti 3)

- Bayyana labarin hotuna a kan allo. Malami yana rarraba biskit guda uku, amma dalibai biyu kawai ne ke wurin; Amina da Ali. Amina tana jin yunwa sosai, saboda haka sai Ali ya ce tana iya daukar biskit guda biyu, shi kuma sai ya dauki guda daya.
- A kira dalibai guda biyu, su zo gaban aji su yi kwaikwayon labarin.
- A yi wa dalibai bayanin cewa akwai jimillar biskit guda 3. Amina tana da biskit 2 daga cikin guda 3, saboda haka tana da kashi $\frac{2}{3}$ na biskit din. Ali yana da biskit guda 1 daga cikin ukkun. Saboda haka yana da kashi $\frac{1}{3}$.
- Rubuta kowane daya daga cikin siffofin a kan allo, yayin da kake/kike yin bayani.

Koyo

Gabatar da kaso daya: $\frac{1}{3}$ (minti 15)

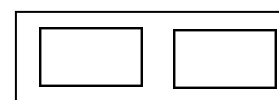
- **Ka/ki ce:** A yau za mu koyi kason $\frac{2}{3}$.
- A zana hoton sifar da'ira guda uku a kan allo, sai a yi bayanin cewa kamar jiya, da'irorin nan guda 3 suna nuna cikakkiyar sifa daya. A nemi wani dalibi ya zo gaban aji ya tusa kashi daya bisa uku na da'irorin.
- **Ka/ki ce:** An tusa daya daga cikin da'irorin uku. A wannan misalin, 1 shi ne kaso na, sannan 3 ita ce ni gaba daya. Saboda haka, kason shi ne $\frac{1}{3}$.
- A umurci wani dalibi ya zo gaban aji ya tusa wani daga cikin da'irorin.
- **Ka/ki ce:** Yanzu an tusa da'irori biyu daga cikin ukun. A kaso $\frac{2}{3}$, lambar da take sama, 2, tana nuna kason da muke da su gaba daya. Lambar dake kasa kuwa tana nuna yawan kaso masu girma iri daya da aka samu a jimillar. Muna nuna kasonmu na $\frac{2}{3}$, ta hanyar rubuta 2 bisa 3.
- A maimaita matakan ta hanyar zana hoton sifar gidan dara guda uku ko sifar akwati guda uku a kan allo. A sa wani dalibi ya zo gaban aji ya tusa kashi daya bisa uku na sifar, sannan sai ya rubuta lissafin kason kusa da inda ya tusa.



Gwaji

Aikin daidaiƙun dalibai ko aikin dalibai bibbiyu: Zana Hoton Kashi $\frac{2}{3}$ (minti 10)

- A zana hoton sifofin akwati a kan allo sannan sai a sa dalibai su rubuta sifofin a cikin littafansu na rubutu. A nemi dalibai su tusa kashi $\frac{1}{3}$ a sifar akwati na farko da kuma $\frac{2}{3}$ a sifar akwati na biyu. Dalibai na iya duba amsarsu da ta abokan zamansu.
- A zagaya ana lura da aikin dalibai a kuma taimaka masu. A nemi dalibai su fadi wane kaso ne ya fi girma a cikinsu.



Bayyanawa

Auna fahimta nan-take (minti 5)

- A sa dalibai su daga littafansu na rubutu sama, su nuna abun da suka sanya wa kala.

Aikin Gida

A sa dalibai su zana hoton da'ira a cikin littafansu na rubutu sannan su sanya kala a kashi $\frac{2}{3}$.

Manufofi: Dalibai za su iya rarrabewa tsakanin $\frac{1}{3}$ da kuma $\frac{2}{3}$.

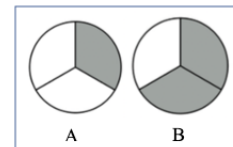
Kayan Aiki:

Lokaci: Minti 35

Fara Darasi

Duba aikin gida (minti 2)

- Gaggauta duba aikin gida. A fada wa dalibai sakamaku sanna a karfafa masugwiwa.



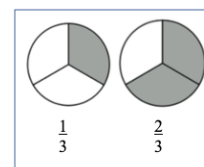
Wasan Daidai ne ko Kuskure ne (minti 5)

- A zana hoton wasu sifofi a kan allo. Yi wa dalibai bayanin cewa za ka/za ki fadi wasu jawabai guda uku. Ga kowane daga cikin jawaban, dalibai su daga babban yatsansu sama idan jawabin daidai ne su kuma nuna babban yatsansu kasa idan jawabin kuskure ne.
- Ka/ki ce:** A na nuna $\frac{1}{4}$. Daidai ne ko Kuskure ne?
- Ka/ki ce:** A na nuna $\frac{1}{3}$. Daidai ne ko Kuskure ne?
- Ka/ki ce:** B na nuna $\frac{1}{3}$. Daidai ne ko Kuskure ne?

Koyo

Kwatanta kaso na: $\frac{1}{3}$ da kuma $\frac{2}{3}$ (minti 8)

- Ka/ki ce:** A yau za mu kwatanta kaso na $\frac{1}{3}$ da kuma $\frac{2}{3}$.
- Ka/ki yi rubutu ga da'irorin guda biyu da ka/kika zana hotonsu a lokacin fara darasi.
- A tambayi dalibai su fadi wane daga cikin kason ya fi girma, ma'ana wane daga cikinsu aka fi tusa mafi yawan bangarensa.
- Ka/ki ce:** Kashi $\frac{2}{3}$ ya fi girma a kan kashi $\frac{1}{3}$. A kashi $\frac{2}{3}$ akwai kaso guda biyu da aka tusa. A kashi $\frac{1}{3}$, kaso dayane kawai aka tusa.
- A maimaita da sifar akwati guda biyu. A gayyato dalibai biyu su zo gaban aji su tusa kowace daya daga cikin siffofin akwatin, ta farkon a tusa $\frac{1}{3}$ nata, ta biyun kuwa a tusa $\frac{2}{3}$ nata.



Gwaji

Aikin daidai dalibai ko aikin dalibai bibbiyu: Zana Hoton Kashi $\frac{2}{3}$ (minti 15)

- A nemi dukkan dalibai su zana daya daga cikin siffofin da suka zaba a cikin littafansu na rubutu su kuma tusa sifar ta yadda za su nuna $\frac{1}{3}$ ko $\frac{2}{3}$. Suna iya zaɓar duk kaso da suke son su zana hotonsa.
- Bayan minti biyar, a sa dalibai su juya su kalli abokan zamansu. Kowane dalibi ya bayyana kaso da sifar da ya zana hotonta ga dan'uwansa. Abokan zamansu su bayyana idan $\frac{1}{3}$ ne ko kuma $\frac{2}{3}$ ne.
- A zagaya ana lura da aikin dalibai a kuma taimaka musu. A yayin zagayawar, a tambayi dalibai ta yaya suka gane zanen ya nuna $\frac{1}{3}$ ko kuma $\frac{2}{3}$.

Bayyanawa

Nuna kyawawan misalai (minti 5)

- A sa wani dalibi/daliba su nuna hoton da suka zana ga aji.
- A nemi sauran dalibai su fadi ko ya yi daidai da $\frac{1}{3}$ ko kuma $\frac{2}{3}$.
- Idan da lokaci, a maimaita da wasu dalibai.

Aikin Gida

A sa dalibai su zana hoton sifofi guda biyar, su kuma sanya wa kowanensu kala ta yadda zai nuna daya daga cikin kason da suka koya zuwa yanzu na: $\frac{1}{2}$, $\frac{1}{4}$, $\frac{1}{3}$, $\frac{3}{4}$, da kuma $\frac{2}{3}$. Dalibai su nuna aikin da suka yi ga wani dan'uwansu ko wani abokinsu.

Manufofi: Dalibai za su iya rarrabewa tsakanin $\frac{1}{3}$ da kuma $\frac{2}{3}$

Kayan Aiki:

Lokaci: Minti 35

Fara Darasi

Duba aikin gida (minti 2)

- Gaggauta duba aikin gida. A fada wa dalibai sakamaku sannan a karfafa masu gwiwarsu.

Gina bangarori (minti 3)

- A kira dalibai guda uku su zo gaban aji.
- **Ka/ki ce:** *Duk mai son ya ci goro ya daga hannunsa sama.*
- **Ka/ki ce:** *Muna iya rubuta lambar adadin daliban dake son su ci goro a matsayin kason. Da farko, sai mu rubuta 3 a kasa, domin ita ke nuna cikakken abun da muke da shi. Daga nan, sai mu sanya lambar adadin daliban dake son su ci goro a saman layin.*
- A rubuta kason da yake daidai a kan allo domin dalibai su gani. A maimaita da wasu nau'oin abinci ko wasu ayyuka kamar; (shan miyar kuka ko wasan kwallon kafa).

Koyo

Kwatanta kaso na: $\frac{1}{2}$ da $\frac{1}{4}$ da $\frac{3}{4}$ da $\frac{1}{3}$ da kuma $\frac{2}{3}$ (minti 10)

- **Ka/ki ce:** *A wannan makon mun koyi darusa a kan kason : $\frac{1}{3}$ da $\frac{2}{3}$. Mun kuma san $\frac{1}{2}$ da $\frac{1}{4}$ da kuma $\frac{3}{4}$.*
- A kira dalibai 6 su zo gaban aji.
- **Ka/ki ce:** *Kuna da dakikai 20, da za ku raba babban rukuninku na dalibai shida a cikin kashi uku, ko kuma rukunai uku waɗanda yawansu yake daidai. Kashi ɗaya bisa uku, na rukunin farko, ya tsaya a gefe ɗaya na ajin, kashi ɗaya bisa uku guda kuwa ya tsaya a tsakiyar ajin, sannan rukuni guda na kashi ɗaya bisa ukun ya tsaya a wani gefe daban na aji. Kun shirya, to ku fara!*
- Umurci wasu dalibai su yi kirge tare da kai/ke a bayyane zuwa 20, yayin da rukunin daliban 6 suke rarraba kansu a cikin rukunai uku waɗanda yawansu yake daidai.
- Bayan dakika 20, a nemi dalibai su duba idan an rarraba rukunin a cikin rukunai uku na dalibai bibbiyu waɗanda yawansu yake daidai ta hanyar daga babban yatsansu sama ko nuna babban yatsansu ya kalli kasa.
- A maimaita aikin da wasu adadin dalibai daban da kuma wasu kason na daban. Alal misali; kana/kina iya kiran dalibai 8 su zo gaban aji, sannan ka/ki nemi su rarraba kansu a cikin kaso huɗu.

Gwaji

Aikin daidaiƙun dalibai ko aikin dalibai bibbiyu: Kwatanta bangarori (minti 15)

- A umurci dalibai su bude littafin dalibai Shafi na 33.
- A karanta umurnin da aka rubuta a bayyane ga dalibai a kuma kammala lissafin farko da ajin.
- Dalibai su kammala sauran lissafin da kansu, amma suna iya duba amsarsu da ta abokan zamansu.
- A zagaya ana lura da dalibai a kuma taimaka musu.

Bayyanawa

Nuna amsoshi (minti 5)

- A umurci wani dalibi ya rubuta ɗaya daga cikin amsoshinshi a kan allo.
- A nemi wasu dalibai su nuna amsar ta hanyar daga babban yatsansu sama idan amsar daidai ce ko kuma su nuna babban yatsansu kasa idan ba daidai ba ce. Ka/ki yi musu gyara idan akwai bukata.

Aikin Gida

A sa dalibai su kammala sauran aikin da ke Shafi na 33 a cikin littafin rubutunsu a matsayin aikin gida.

Manufofi: Dalibai za su yi bita da gwajin abun da suka koya a cikin wannan makon.

Kayan Aiki:

Lokaci: Minti 35

Fara Darasi

Duba aikin gida (minti 2)

- Gaggauta duba aikin gida. A faɗa wa ɗalibai sakamankonsu sannan a karfafa masu gwiwa.

Nade Bangarori Uku (minti 3)

- A sa ɗalibai su ɗauko fallen takarda ɗaya. A nunawa ɗalibai yadda ake nade fallen takardar tasu a cikin bangarori 3. Sannan sai a sa ɗalibai su buɗe takardar su gani idan kowane rabin daidai yake da ɗan'uwuwanshi.
- A sa ɗalibai su buɗe takardunsu, sai su rubutawa kowane bangare lambobin 1, da 2 da kuma 3 domin su nuna bangarorin takardar girmansu ɗaya.

Koyo

Bitu da maimai (minti 10)

- A zaɓi wani darasi daga cikin darrusan da aka yi a cikin makon, wanda ake ganin ɗalibai ba su fahimce shi sosai ba. A sake koyar da darasin ko a sake koyar da shi ta wata sabuwar hanya ta daban.

Gwaji

Aikin ɗaiɗaikun ɗalibai da aikin ɗalibai a cikin rukuni: Zane da kuma rubutu (minti 15)

- A ba ɗalibai aikin da zai taimaka musu wajen yin gwajin darasin da aka yi bita (alal misali; rarrabewa tsakanin $\frac{1}{3}$ da kuma $\frac{2}{3}$). Dalibai na iya yin aiki ɗaiɗaikunsu ko kuma a cikin kananan rukunai.
- Yayin da ɗalibai suke gudanar da wani aikin da aka ba su, a kara taimaka musu a inda ba su gane sosai ba.

Bayyanawa

Auna fahimta da bayyanawa (minti 5)

- A sa ɗalibai su nuna aikin da suka kammala a lokacin Gwajin.

Aikin Gida

A ba ɗalibai aikin gida na bita da kuma gwajin kwazonsu.

Manufofi: Dalibai za su iya gane $\frac{1}{5}$ na abubuwa.

Kayan Aiki:

Lokaci: Minti 35

Fara Darasi

Duba aikin gida (minti 2)

- Gaggauta duba aikin gida. A fada wa dalibai sakamakonsu sannan a karfafa masu gwiwa.

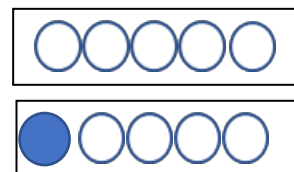
Labari (minti 3)

- A kira dalibai biyar su zo gaban aji. Fadi masu cewa za ka/za ki fadi wata lamba da sauri, su kuma za su nuna lambar da yatsunsu cikin sauri, gwargwadon yadda suke iyawa.
- Kira lambobi da yawa, misali: 2 da 3 da kuma 4. A karshe ka/ki kira lamba ta 1.
- Ka/ki ce:** *Yatsu nawa kuka daga sama? Jimillar yatsu nawa gare ku a hannu guda?*
- Ka/ki ce:** *Kuna da yatsa guda a sama daga cikin jimillar yatsunku guda biyar. Saboda haka muna iya rubuta wannan a matsayin $\frac{1}{5}$.*

Koyo

Gabatar da kaso daya na: $\frac{1}{5}$ (minti 10)

- Ka/ki ce:** *A yau za mu koyi wani abu game da kaso daya na $\frac{1}{5}$. Muna da da'irori guda biyar a kan allo. A wannan misalin, da'irorin nan guda biyar suna wakiltar cikakken abu daya, saboda hoton cikakken abu daya ne.*
- A umurci wani dalibi daya ya zo gaban allo ya tusa daya daga cikin da'irorin.
- Ka/ki ce:** *Daya daga cikin da'irorin biyar yana da kala. 1 shi ne kaso na, sannan 3 ita ce ni gaba daya.*
- A rubuta kaso na $\frac{1}{5}$ a kan allo domin a nuna da'ira nawa aka tusa.
- Ka/ki ce:** *Lambar da take sama, 1, tana nuna kason da muke da su gaba daya. Lambar take kasa kuwa tana nuna yawan kaso masu girma iri daya da aka samu a jimillar, 5.*
- A maimaita matakan ta hanyar zana hoton sifar gidan dara ko sifar akwati guda biyar a kan allo. A sa wani dalibi ya zo gaban aji ya tusa kashi daya bisa biyar na sifar, sannan ya rubuta kason kusa dasifar.



Gwaji

Aikin daidaiƙun dalibai ko aikin dalibai bibbiyu: Zana Hoton Kashi $\frac{1}{5}$ (minti 15)

- A zana hoton sifar akwati ko sifar da'ira a kan allo.
- A umurci dalibai su rubuta sifofin a cikin littafansu na rubutu, su kuma tusa $\frac{1}{5}$ na kowane daga cikin sifofin.
- A zagaya ana lura da aikin dalibai a kuma taimaka masu.



Bayyanawa

Auna fahimta nan-take (minti 5)

- A sa dalibai su daga littafansu na rubutu sama, su nuna abun da suka sanya wa kala.

Aikin Gida

A sa dalibai su zana hoton dake nuna $\frac{1}{5}$ a cikin littafansu na rubutu.

Manufa: Dalibai za su iya gane $\frac{1}{6}$ na abubuwa.


Kayan Aiki: Ayaba (ko wani abu da ake rabawa a cikin gida shida)

Lokaci: Minti 35

Fara Darasi

Duba aikin gida (minti 2)

- Gaggauta duba aikin gida. A fada wa dalibai sakamakonsu sannan a karfafa masu gwiwa.



Labari da Hotuna (minti 3)

- Bayyana labarin hotuna a kan allo. Abokai shida sun tafi kasuwa suna neman dunkulen ayaba. Mai sayar da kayan marmarin dunkulen ayaba daya kacal ya rage masa. Akwai ayaba shida a dunkulen, saboda haka sai abokan suka yi shawarar kowannensu ya dauki ayaba daya, don ya kasance kowa ya samu yawan ayabar iri daya.
- A kira dalibai guda shida, su zo gaban aji su yi kwaikwayon labarin. Idan akwaidunkelen ayaba na gaskiya a ba su su raba. Idan babu a ba su fallen takarda da za su raba gida shida.
- A yi wa dalibai bayanin cewa kowanensu yana da kashi $\frac{1}{6}$ na dunkulen ayabar.
- Rubuta kowane daya daga cikin kason a kan allo $\frac{1}{6}$, yayin da kake/kike yin bayani.

Koyo

Gabatar da kaso daya: $\frac{1}{6}$ (minti 10)

- Ka/ki ce:** A yau za mu koyi wani abu game da kaso daya, na $\frac{1}{6}$.
- A zana hoton da'ira guda shida a kan allo, sai a yi bayanin cewa, da'rorin guda shida suna nuna cikakkiyar sura guda. A nemi wani dalibi ya zo gaban aji ya tusa kashi daya bisa shida na da'irorin.
- Ka/ki ce:** An tusa daya daga cikin da'irorin shida. A wannan misalin, 1 shi ne bangare na, sannan 6 ita ce ni gaba daya. Saboda haka, kaso shi ne $\frac{1}{6}$.
- A maimaita matakan ta hanyar zana gidan dara shida ko dala shida a kan allo. A sa wani dalibi ya zo gaban aji ya tusa kashi daya bisa shida na zanen, sannan sai ya rubuta kason kusa da zanen.



Gwaji

Aikin daidai ko aikin dalibai bibbiyu: Zana Hoton $\frac{1}{6}$ (minti 15)

- A umurci dalibai su buɗe littafin dalibai Shafi na 34.
- A karanta umurni da aka rubuta a bayyane ga dalibai a kuma kammala lissafin farko da ajin.
- Dalibai su kammala sauran lissafin da kansu, amma suna iya duba amsarsu da ta abokan zamansu.
- A zagaya a duba ko sun amsa daidai a kuma taimaka masu. A yayin zagayawar, a tambaye su yadda suka samo amsar ta su, a kuma duba ko sun amsa daidai.

Bayyanawa

Auna fahimta nan-take (minti 5)

- A sa dalibai su daga littafansu na rubutu sama, su nuna abun da suka sanya wa kala.

Aikin Gida

A sa dalibai su kammala sauran aikin dake Shafi na 34 a cikin littafansu na rubutu a matsayin aikin gida.

Manufofi: Dalibai za su iya rarrabewa tsakanin $1/5$ da kuma $1/6$.

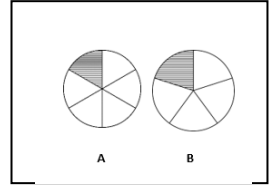
Kayan Aiki:

Lokaci: Minti 35

Fara Darasi

Duba aikin gida (minti 2)

- Gaggauta duba aikin gida. A faɗa wa ɗalibai sakamaku sanna a karfafa masu gwiwa.



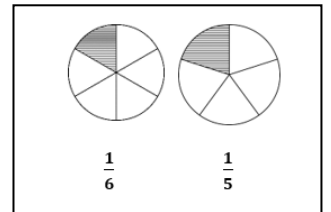
Wasan daidai ne ko kuskure ne (minti 5)

- A zana hoton wasu surori a kan allo. Yi wa ɗalibai bayanin cewa za ka/za ki faɗi wasu jawabai guda uku. Ga kowane daga cikin jawaban, ɗalibai su daga babban yatsansu sama idan jawabin daidai ne, su kuma nuna babban yatsansu kasa idan jawabin kuskure ne.
- **Ka/ki ce:** A na nuna $1/5$. Daidai ne ko Kuskure ne?
- **Ka/ki ce:** A na nuna $1/6$. Daidai ne ko Kuskure ne?
- **Ka/ki ce:** B na nuna $1/5$. Daidai ne ko Kuskure ne?

Koyo

Kwatanta Kaso na: $1/5$ da kuma $1/6$ (minti 8)

- **Ka/ki ce:** A yau za mu kwatanta kaso ɗaya na $1/5$ da kuma $1/6$.
- A yi rubutu ga ɗa'irorin biyu da aka zana hotonsu a lokacin fara darasi.
- A tambayi ɗalibai su faɗi wane daga cikin kason ya fi girma, ma'ana wane daga cikinsu aka fi tusa mafi yawan kasons.
- **Ka/ki ce:** Kashi $1/5$ ya fi girma a kan kashi $1/6$ saboda an fi tusa mafi yawan da'irarsa.
- A maimaita da sura mai sifar gidan siga biyu. A gayyato ɗalibai biyu su zo gaban aji su tusa kowace ɗaya daga cikin surorin masu sifar gidan siga, ta farkon a tusa $1/5$ nata, ta biyun kuwa a tusa $1/6$ nata.



Gwaji

Aikin ɗaɗaɗaiku ɗalibai ko aikin ɗalibai bibbiyu: Zana Hoton Kashi $1/5$ ko $1/6$ (minti 15)

- A umurci dukkan ɗalibai su zana ɗaya daga cikin sifofin da suka zaba a cikin littafansu na rubutu su kuma tusa sifar ta yadda za su nuna $1/5$ ko $1/6$. Suna iya zaɓar kason da suke son su zana hotonsa.
- Bayan minti biyar, a sa ɗalibai su juya, su kalli abokan zamansu. Kowane ɗalibi ya bayyana kason sifar da ya zana hotonta ga ɗan'uwansa. Abokin zamansu ya bayyana idan $1/5$ ne ko kuma $1/6$ ne.
- A zagaya ana lura da aikin ɗalibai a kuma taimaka masu. A yayin zagayawar, a tambayi ɗalibai ta yaya suka gane zanen ya nuna $1/5$ ko kuma $1/6$.

Bayyanawa

Nuna kyawawan misalai (minti 5)

- A sa wani ɗalibi/ ɗaliba su nuna hoton da suka zana a aji.
- A umurci sauran ɗalibai su faɗi ko ya yi daidai da $1/5$ ko kuma $1/6$.
- Idan da lokaci, a maimaita da wasu ɗalibai.

Aikin Gida

A sa ɗalibai su zana hoton sifofi guda biyar, su kuma sanya wa kowanensu kala ta yadda zai nuna ɗaya daga cikin kason da suka koya zuwa yanzu na: $1/2$ da $1/4$ da $1/3$ da $3/4$, da $2/3$ da $1/5$ da kuma $1/6$. Dalibai su nuna aikin da suka yi ga wani ɗan'uwansu ko wani abokinsu.

Manufofi: Dalibai za su iya rarrabewa tsakanin $\frac{1}{2}$ da $\frac{1}{4}$ da $\frac{3}{4}$ da $\frac{1}{3}$ da $\frac{2}{3}$ da $\frac{1}{5}$ da kuma $\frac{1}{6}$.

Kayan Aiki:

Lokaci: Minti 35

Fara Darasi

Duba aikin gida (minti 2)

- Gaggauta duba aikin gida. A fada wa dalibai sakamankonsu sannan a karfafa masu gwiwa.

Gina bangarora (minti 3)

- A kira dalibai guda shida su zo gaban aji.
- **Ka/ki ce:** *Duk mai son ya ci tuwo ya daga hannunsa sama.*
- **Ka/ki ce:** *Muna iya rubuta lambar adadin daliban dake son su ci tuwo a matsayin wani kaso. Da farko, sai mu rubuta 6 a kasa, domin ita ke nuna cikakken abun da muke dashi. Daga nan, sai mu sanya lambar adadin daliban dake son su ci tuwo a saman layin.*
- A rubuta kason da yake daidai a kan allo domin dalibai su gani.
- A maimaita da wasu nau'oin abinci ko wasu ayyuka kamar; (cin masa ko wasan kwallon kafa).

Koyo

Kwatanta Kaso na: $\frac{1}{2}$ da $\frac{1}{4}$ da $\frac{3}{4}$ da $\frac{1}{3}$ da $\frac{2}{3}$ da $\frac{1}{5}$ da kuma $\frac{1}{6}$ (minti 10)

- **Ka/ki ce:** *A yau za mu koyi darussa a kan kwatanta dukkan kason da muka koya a darrusanmu na baya. Suna da yawa sosai!*
- A kira dalibai 10 su zo gaban aji.
- **Ka/ki ce:** *Kuna da dikaka 20, da za ku raba babban rukuninku na dalibai goma a cikin kashi biyar, ko kuma rukunai biyar wadanda yawansu yake daidai. Kun shirya? to ku fara!*
- Umurci wasu dalibai su yi kirge tare da kai/ke a bayyane zuwa 20, yayin da rukunin daliban 10 suke rarraba kansu a cikin rukunai biyar wadanda yawansu yake daidai.
- Bayan dakika 20, a umurci dalibai su duba idan an rarraba rukunin a cikin rukunai biyar na dalibai bibbiyu, su nuna idan an yi daidai ta hanyar daga babban yatsansu sama ko nuna babban yatsansu ya kalli kasa.
- A maimaita aikin da wasu adadin dalibai daban da kuma wasu kaso na daban. Alal misali, kana/kina iya kiran dalibai 20 su zo gaban aji, sannan ka/ki umurce su da su raba kansukasogida huɗu ko kuma gida biyu.

Gwaji

Aikin daidaiƙun dalibai ko aikin dalibai bibbiyu: Kwatanta kaso (minti 15)

- A umurci dalibai su buɗe littafin dalibai Shafi na 35.
- A karanta umurni da aka rubuta a bayyane ga dalibai a kuma kammala lissafin farko da ajin.
- Dalibai su kammala sauran lissafin da kansu, amma suna iya duba amsarsu da ta abokan zamansu.
- A zagaya ana lura da dalibai a kuma taimaka masu. A yayin zagayawar, a tambaye su yadda suka samo amsar ta su, a kuma duba ko sun amsa daidai.

Bayyanawa

Nuna amsoshi (minti 5)

- A umurci wani dalibi ya rubuta daga daga cikin amsoshinsa a kan allo.
- A umurci wasu dalibai su nuna amsar ta hanyar daga babban yatsansu sama idan amsar daidai ce ko kuma su nuna babban yatsansu kasa idan ba daidai ba ce. Ka/ki yi masu gyara idan akwai bukata.

Aikin Gida

A sa dalibai su kammala sauran aikin da ke Shafi na 35 a cikin littafin rubutunsu a matsayin aikin gida.

Manufofi: Dalibai za su yi bita da gwajin abun da suka koya a cikin wannan makon.

Kayan Aiki:

Lokaci: Minti 35

Fara Darasi

Duba aikin gida (minti 2)

- Gaggauta duba aikin gida. A faɗa wa dalibai sakamakonsu sannan a karfafa masu gwiwa.

Nade Bangarori Uku (minti 3)

- A sa dalibai su dauko fallen takarda ɗaya. A nunawa dalibai yadda ake nade fallen takardar tasu a cikin bangarori 3. Sannan sai a sa dalibai su buɗe takardar, su gani idan kowane rabin daidai yake da ɗan'uwansa.
- A sa dalibai su buɗe takardunsu, sai su rubutawa kowane bangaren lambobin 1, da 2 da kuma 3 domin su nuna bangarorin takardar girmansu ɗaya.

Koyo

Bitu da maimai (minti 10)

- A zaɓi wani darasi daga cikin darrusan da aka yi a cikin makon, wanda ake ganin dalibai ba su fahimce shi sosai ba. A sake koyar da darasin ko a sake koyar da shi ta wata sabuwar hanya ta daban.

Gwaji

Aikin daidaiƙun dalibai da aikin dalibai a cikin rukuni: Zane da kuma rubutu (minti 15)

- A baiwa dalibai aikin da zai taimaka masu wajen yin gwajin darasin da aka yi bita (alal misali; rarrabewa tsakanin $\frac{1}{3}$ da kuma $\frac{2}{3}$). Dalibai na iya yin aiki a daidaiƙunsu ko kuma a cikin kananan rukunai.
- Yayin da dalibai suke gudanar da wani aikin da aka ba su, a kara taimaka masu a inda ba su gane sosai ba.

Bayyanawa

Auna fahimta da bayyanawa (minti 5)

- A sa dalibai su nuna aikin da suka kammala a lokacin Gwajin.

Aikin Gida

A baiwa dalibai aikin gida na bita da kuma gwajin kwazonsu.

Manufa: Dalibai za su rubuta kwallin lambobi 2 a cikin fasali mai fadi.

Kayan Aiki: Kara

Lokaci: Minti 35

Fara Darasi

Duba aikin gida (minti 2)

- Gaggauta duba aikin gida. A fada wa dalibai sakamakonsu sannan a karfafa masu gwiwa.

Wasan Kirge (minti 3)

- Da ajin gaba daya, a yi kirge a bayyane zuwa 100, a yi kirgen tsallake da biyar-biyar. Sannan sai a yi kirgen tsallake da goma-goma zuwa 100.

Koyo

Gabatar da fadada lissafin lambobi 'yan tagwai (minti 10)

- **Ka/ki ce:** *A yau za mu koyi wani abu a kan fadada lissafi.*

Fadada lissafi shi ne yayin da muka nuna kimar kowace

lamba: daidai da goma-goma da dari-dari da kuma wadanda suka fi haka.

- A rubuta lambar 25 a kan allo, a kuma yi wa dalibai bayanin cewa wannan kwallin lamba 2 ce.
- A ajiye kara 25 gaban allo a kan tebur sai a kira wani dalibi ya zo gaban aji. A sa dalibin ya rarraba karan a cikin damin kara goma-goma. A yi kirge a bayyane da goma-goma, don a gano jimillar karan dake cikin dami-damin.
- **Ka/ki ce:** *Akwai dami 2 na gwammai, saboda haka muna iya sanya lamba 2 a cikin akwati. Goma 2 daidai suke da 20.*
- A kirga adadin karan da suka rage a bayyane da aji gaba daya.
- **Ka/ki ce:** *Akwai kara guda biyar da suka rage, saboda haka a rubuta lamba 5 a gurbin daidai. Daidai 5 daidai suke da 5.*
- **Ka/ki ce:** *Yanzu, muna iya tara kwallin lambobi 2 wuri guda don mu gano jimillar yawan karan da muke da su.*
- A warware lissafin $20 + 5 =$ a kan allo da ajin.

$$\square \text{Goma-goma} + \square \text{daidai} = 25$$

$$\text{Goma-goma } 2 + 5 \text{ daidai} = 25$$

$$20 + 5 = 25$$

Gwaji

Aiki a cikin karamin rukuni: Rubuta lambobi a cikin fasali mai fadi (minti 15)

- A umurci dalibai su zauna a cikin kananan rukunai.
- A rubuta lambobi biyar a kan allo: 44 da 17 da 81 da 62 da kuma 39.
- A sa dalibai su rubuta dukkan lambobin a cikin littafansu na rubutu sannan su yi aiki tare da wasu 'yan'uwansu daliban dake cikin rukunan, su rubuta lambobin a cikin fasali mai fadi.
- A zagaya ana lura da aikin dalibai. A yayin zagayawar, a tambaye su yadda suka samo amsar tasu, a kuma duba ko sun amsa daidai.

Bayyanawa

Auna fahimta nan-take (minti 5)

- A sa dalibai su daga takardunsu sama, su nuna abun da suka rubuta. A yaba wa kwazonsu.

Aikin Gida

A sa dalibai su kammala sauran Gwajin da suka fara a aji, a matsayin aikin gida.

Manufofi: Dalibai za su rubuta su kuma tara kwallin lambobi 2 a cikin fasali mai fadi.

Kayan Aiki: Kara

Lokaci: Minti 35

Fara Darasi

Duba aikin gida (minti 2)

- Gaggauta duba aikin gida. A fada wa dalibai sakamaku sanna a karfafa masu gwiwa.

Waka (minti 3)

- Rera wakar tare da dalibai sau da yawa.
- A umurci daya daga cikin dalibai ya zo gaban aji ya rera wakar.

Wakar Tarawa

Ana batun tarawa /
Komai a tara da daya /
 $1+1= 2$ / $2+1= 3$ / $3+1= 4$ /
 $4+1= 5$ / $5+1= 6$ / $6+1= 7$ /
 $7+1= 8$ / $8+1= 9$ / $9+1= 10$

Koyo

Gabatar da tara lambobi a cikin fasali mai fadi (minti 10)

- **Ka/ki ce:** A yau za mu koyi yadda ake tara lambobi a cikin fasali mai fadi.
- A rubuta fasalin lissafi na $45 + 23$ a kan allo.
- **Ka/ki ce:** Domin tara $45 + 23$, da farko muna bukatar rubuta kowace lamba a cikin fasali mai fadi.
- A yi wa daliban gwajin yadda ake rarraba 45 a cikin gwammai 4 da kuma daidai guda 5.
- Daga nan sai a nemi wani dalibi ya zo gaban aji ya rubuta 23 a cikin fasali mai fadi.
- Bayan dukkan lambobin sun kasance a cikin fasali mai fadi, sai a fara tara su wuri guda.
- **Ka/ki ce:** Idan muka tara lambobi a cikin fasali mai fadi, da farko muna bukatar lambobin gurbin gidan daidai wuri guda. Za mu yi amfani da lissafin tsaye mu yi haka. Wadanne lambobi ne suke a gurbin gidan daidai?
- A tara $5 + 3$ wuri guda, sai a rubuta 8 a kasan layin. A yi wa dalibai bayanin cewa suna iya daukar alamarsu ta + su kai ta kai tsaye a kasan layin.
- **Ka/ki ce:** Abu na gaba sai mu tara goma-goma wuri guda. Mene ne amsar $40 + 20$?
- A rubuta 60 a kasan layin, a karkashin $40 + 20$.
- **Ka/ki ce:** Yanzu fasalin lissafinmu ya kammala, muna iya tara lambobinmu wuri guda. Mene ne amsar $60 + 8$?
- Idan dalibai suna bukatar taimako, a yi kirge da su a bayyane daga 60, ko a umurce su da su duba jadawalin lambobi 1-100 dake gaban aji. A yi bayanin cewa $60 + 8$ daidai yake da $45 + 23$. Sai dai mun nemo hanya mafi sauƙi ce ta warware shi kawai!

$$45 + 23$$

$$40 + 5$$

$$\underline{20 + 3}$$

$$40 + 5$$

$$\underline{20 + 3}$$

$$+ 8$$

$$40 + 5$$

$$\underline{20 + 3}$$

$$60 + 8$$

$$40 + 5$$

$$\underline{20 + 3}$$

$$60 + 8 = 68$$

Gwaji

Aikin daidaiƙun dalibai ko aikin dalibai bibbiyu: Tara Lambobi 'Yan tagwai a cikin Fasali Mai Fadi (minti 15)

- A umurci dalibai su buƙe littafin dalibai Shafi na 36. A karanta umurni da aka rubuta a bayyane ga dalibai a kuma kammala lissafin farko da ajin.
- A umurci dalibai su kammala sauran lissafi 2 na gaba dake kan shafin. Suna iya aiki a daidaiƙunsu ko kuma tare da abokan zamansu.
- A zagaya ana lura da dalibai a kuma taimaka musu.

Bayyanawa

Nuna kyawawan misalai (minti 5)

- A bayyana wa sauran dalibai kwararan misalan da dalibi ya bayar.

Aikin Gida

A sa dalibai su kammala sauran aikin dake Shafi na 36 a cikin littafansu na rubutu a matsayin aikin gida.

Manufofi: Dalibai za su tara kwallin lambobi 2 a cikin lissafin tsaye da kuma lissafin kwance.

Kayan Aiki:

Lokaci: Minti 35

Fara Darasi

Duba aikin gida (minti 2)

- Gaggauta duba aikin gida. A fada wa dalibai sakamakonsu sannan a karfafa masu gwiwa.

Waka (minti 3)

- Rera wakar tare da dalibai sau da yawa.

Wakar Tarawa

Ana batun tarawa /
Komai a tara da ɗaya /
1+1= 2 / 2+1= 3 / 3+1= 4 /
4+1= 5 / 5+1= 6 / 6+1= 7 /
7+1= 8 / 8+1= 9 / 9+1= 10

Koyo

Tarawa ta lissafin kwance (minti 7)

- Ka/ki ce:** A yau za mu yi gwajin tara kwallin lambobi 2 ta lissafin kwance da kuma lissafin tsaye. 34 + 15 = 49
- A Rubuta : $34 + 15 = \underline{\quad}$ a kan allo.
- Ka/ki ce:** Idan za mu ba da amsar fasalin daidaito a cikin lissafin kwance, da farko za mu fara tara lambobin da suke gidan daidai wuri guda. Lambobi daidai nawa gare mu?
- A yi da'ira ga 5 da kuma 4 a cikin dukkan lambobin biyu, sannan a tambayi dalibai mene ne amsar $5 + 4$. A rubuta lambar 9 a gurbin gidan daidai a kan layin da ake sa amsa.
- Ka/ki ce:** Abu na gaba, sai mu tara lambobin dake gurbin gidan gwammai wuri ɗaya. Gwammai nawa ne a wurin?
- A yi da'ira ga 1 da kuma 3 a cikin dukkan lambobin biyu sai a tambayi dalibai mene ne amsar $3+1$. A rubuta lamba ta 4 a gurbin gidan gwammai a kan layin da ake sa amsa.
- Ka/ki ce:** 34 a tara da 15 zai ba da 49.

$$\begin{array}{r} 34 \\ + 15 \\ \hline 49 \end{array}$$

Tarawa ta lissafin tsaye (minti 8 minutes)

- Ka/ki ce:** Kamar dai yadda yake idan mun yi lissafin kwance, za mu fara da tara lambobin dake gurbin gidan daidai wuri ɗaya.
- A nuna lambobin 4 da kuma 5 sannan sai a rubuta lamba 9 a muhallin da yake daidai a karkashin fasalin lissafin.
- Ka/ki ce:** Abu na gaba, sai mu tara lambobin dake gurbin gidan gwammai wuri ɗaya.
- A nuna lambobin 3 da kuma 1 sannan sai a rubuta lamba 4 a muhallin da yaje daidai a karkashin fasalin lissafin.
- Ka/ki ce:** 34 a tara da 15 zai ba da 49.

Gwaji

Aikin daidaiƙun dalibai ko aikin dalibai bibbiyu: Tara Lambobi ta lissafin tsaye ko lissafin kwance (minti 15)

- A umurci dalibai su buɗe littafin dalibai Shafi na 37.
- A karanta umurni da aka rubuta a bayyane ga dalibai a kuma kammala lissafin farko da ajin.
- A umurci dalibai su kammala sauran lissafi 2 na gaba dake kan shafin. Suna iya aiki a daidaiƙunsu ko kuma tare da abokan zamansu.
- A zagaya ana lura da dalibai a kuma taimaka musu.

Bayyanawa

Auna fahimta nan-take (minti 5)

- A sa dalibai su ɗaga takardunsu sama, su nuna abun da suka rubuta. A yaba wa kwazonsu.

Aikin Gida

A sa dalibai su kammala sauran aikin dake Shafi na 37 a cikin littafansu na rubutu a matsayin aikin gida.

Manufofi: Dalibai za su warware lissafi da aka rubuta da kalmomi ta amfani da tarawa.

Kayan Aiki:

Lokaci: Minti 35

Fara Darasi

Duba aikin gida (minti 2)

- Gaggauta duba aikin gida. A fada wa dalibai sakamakonsu sannan a karfafa masu gwiwa.

Waka (minti 3)

- Rera wakar tare da dalibai sau da yawa.

Wakar Tarawa

Ana batun tarawa /

Komai a tara da ɗaya /

$1+1= 2$ / $2+1= 3$ / $3+1= 4$ /

$4+1= 5$ / $5+1= 6$ / $6+1= 7$ /

$7+1= 8$ / $8+1= 9$ / $9+1= 10$

Koyo

Gabatar da warware lissafi na kalmomi ta amfani da tarawa (minti 10)

- Bayyana labarin: Yakaka da Laraba sun tattaro kara da ganyen itace da duwatsu da duk wasu abubuwa masu kwarori da ake samu a kusa da su. A yau Yakaka ta tattaro duwatsu 43 ta haɗa su da waɗanda Laraba ta samo guda 13. Guda nawa gare su a jimilla gaba ɗaya?
- A kira dalibai guda biyu su zo gaban aji, su yi kwaikwayon labarin. A sa kowane daga cikin daliban ya rubuta yawan duwatsun da suka tattara a kan allo.
- **Ka/ki ce:** *Yakaka ta tattara duwatsu 43 Laraba kuma ta tattara duwatsu 13. Idan muna son mu gano ko duwatsu nawa suka tara gaba ɗaya, dole ne sai mun tara waɗannan lambobin wuri guda.*
- A umurci wani dalibi ya zo gaban aji ya rubuta fasalin lissafin dake bayyana labarin.
- Ka/ki tabbata an rubuta $43 + 13 = a$ kan allo.
- A umurci wani dalibi ya zo gaban aji ya yi gwajin yadda ake tara lambobin ta lissafin kwance.
- A umurci wani dalibi ya zo gaban aji ya yi gwajin yadda ake tara lambobin ta lissafin tsaye.
- A yi amfani da jadawalin lambobi 1-100, a yi kirgen 43 a tara da 13 tare da ajin gaba ɗaya domin a tabbatar da amsar.

Gwaji

Aiki a cikin karamin rukuni: Warware lissafi na rubutu ta amfani da tarawa (minti 15)

- A nemi dalibai su zauna a cikin kananan rukunai su kuma buɗe littafansu na rubutu a shafin da jadawalin lambobi yake.
- **Ka/ki ce:** *Salim yana da alewa 24 waɗanda yake son ya rabawa ‘yan ajinsu. Kafin ya bar gida zuwa makaranta mamarsa ta ba shi karin wasu 60! Yanzu alewa nawa Salim yake dasu?*
- A maimaita faɗin lissafin ta kalmomi sau da yawa don tabbatar da dalibai sun ji lambobin da aka faɗi.
- A sa dalibai su rubuta fasalin lissafin a cikin littafansu na rubutu a ɗaiɗaikunsu.
- Da zarar daliban sun gama rubuta fasalin lissafin, a sa dalibai su yi aiki tare don su warware lissafin. Za su yi gwajin warware lissafin na kalmomi a fasalin lissafin kwance da kuma lissafin tsaye.
- A zagaya ana lura da aikin dalibai a kuma taimaka masu. Idan da lokaci, a maimaita da wani lissafin daban.

Bayyanawa

Bitu da Bayyanawa (minti 5)

- A sa dalibai su bayyana amsoshinsu ga wani rukuni, su kuma tattauna yadda suka warware lissafin.

Aikin Gida

A sa dalibai su warware lissafin $11 + 81 = a$ cikin littafansu na rubutu a matsayin aikin gida.

Manufofi: Dalibai za su yi bita da gwajin abun da suka koya a cikin wannan makon.

Kayan Aiki:

Lokaci: Minti 35

Fara Darasi

Duba aikin gida (minti 2)

- Gaggauta duba aikin gida. A faɗa wa dalibai sakamakon su sannan a karfafa masu gwiwa.

Waka (minti 3)

- Rera wakar tare da dalibai sau da yawa.

Wakar Tarawa

Ana batun tarawa /

Komai a tara da ɗaya /

$1+1= 2$ / $2+1= 3$ / $3+1= 4$ /

$4+1= 5$ / $5+1= 6$ / $6+1= 7$ /

$7+1= 8$ / $8+1= 9$ / $9+1= 10$

Koyo

Bitu da maimai (minti 10)

- A zaɓi wani darasi daga cikin darrusan da aka yi a cikin makon, wanda ake ganin dalibai ba su fahimce shi sosai ba. A sake koyar da darasin ko a sake koyar da shi ta wata sabuwar hanya ta daban.

Gwaji

Aikin daidaiƙun dalibai da aikin dalibai a cikin rukuni: Zane da kuma rubutu (minti 15)

- A ba dalibai aikin da zai taimaka musu wajen yin gwajin darasin da aka yi bita (alal misali; tara lambobi 'yan tagwai ta lissafin tsaye da kuma lissafin kwance).
- Dalibai na iya yin aiki a daidaiƙunsu ko kuma a cikin kananan rukunai.
- Yayin da dalibai suke gudanar da wani aikin da aka ba su, a kara taimaka masu a inda ba su gane sosai ba.

Bayyanawa

Auna fahimta da bayyanawa (minti 5)

- A sa dalibai su nuna aikin da suka kammala a lokacin Gwajin.

Aikin Gida

A ba dalibai aikin gida na bita da kuma gwajin kwazonsu.

Manufa: Dalibai za su rubuta kwallin lambobi uku a cikin fasali mai fadi.

Kayan Aiki:

Lokaci: Minti 35

Fara Darasi

Duba aikin gida (minti 2)

- Gaggauta duba aikin gida. A faɗa wa dalibai sakamakonsu sannan a karfafa masu gwiwa.

Wasan Kirge (minti 3)

- Da ajin gaba ɗaya, a yi kirge a bayyane zuwa 1000, a yi kirgen tsallake da ɗari-ɗari. Sannan sai a yi kirgen tsallake da bibbiyu zuwa 100.

Koyo

Gabatar da Faɗaɗa Lissafin Kwallin Lambobi Uku (minti 10)

- **Ka/ki ce:** A yau zamu koyi wani abu a kan faɗaɗa lissafin kwallin lambobi 3. \square ɗari-ɗari + \square goma-goma + \square ɗaiɗai = 157
- A rubuta 157 a kan allo sannan sai a tambayi dalibai adadin lambobi guda nawa ne a cikin lambar 157. A yi wa dalibai bayanin cewa da zarar an samu lamba, mai kwallin lambobi 3, koyaushe akwai gurbin gidan ɗaruruwa da gurbin gidan goma-goma da kuma gurbin gidan ɗaiɗai.
- A umurci dalibai su fadi ɗaruruwa nawa ake samu a cikin lambar 157. A umurci dalibai su koma ga jadawalinsu na lambobi 1-100, idan suna bukatar raimako.
- **Ka/ki ce:** Haka ne, akwai ɗari guda a cikin 157, saboda haka muna iya rubuta 1 a cikin akwatin farko. Dari kwara 1, daidai take da 100.
- **Ka/ki ce:** Abu na gaba, wace lamba ce muke da gurbin gidan goma-goma? Goma-goma nawa muke da? $\text{Dari } 1 + \text{goma-goma } 5 + \text{Daidai } 7 = 157$
 $100 + 50 + 7 = 157$
- A kira wani dalibi ɗayaya zo gaban aji sannan a ba shi dama ya sa lamba 5 a gurbin gidan gwammai.
- **Ka/ki ce:** Haka ne, muna da goma-goma guda 5. Goma-goma 5 daidai suke da 50.
- **Ka/ki ce:** Daga karshe, daidai nawa muke dasu? Wace lamba ce ya kamata a sa a gurbin gidan daidai?
- A kira wani dalibi ya zo gaban aji sannan a ba shi dama ya sa lamba 7 a gurbin gidan daidai.
- **Ka/ki ce:** Haka ne, daidai guda bakwai daidai suke da 7. Yanzu, kasancewar duk muna da lambobin mu da aka rubuta a cikin fasali mai fadi, muna iya tara kwallin lambobin 3 wuri ɗayadomin samun jimillar yawan karan.
- A warware lissafin $100 + 50 + 7$ a kan allo tare da ajin gaba ɗaya.

Gwaji

Aiki a cikin karamin rukuni: Rubuta lambobi a cikin fasali mai fadi (minti 15)

- A umurci dalibai su zauna a cikin kananan rukunai. A rubuta lambobi uku a kan allo: 842 da 276 da 391.
- A sa dalibai su rubuta dukkan lambobin a cikin littafansu na rubutu sannan su yi aiki tare da wasu 'yan'uwansu daliban dake cikin rukunan, su rubuta lambobin a cikin fasali mai fadi.
- A zagaya ana lura da aikin dalibai.

Bayyanawa

Auna fahimta nan-take (minti 5)

- A sa dalibai su ɗaga takardunsu sama, su nuna abun da suka rubuta. A yaba wa kwazonsu.

Aikin Gida

A sa dalibai su kammala sauran aikin Gwajin da suka fara a cikin aji, a matsayin aikin gida.

Manufofi: Dalibai za su rubuta, su kuma tara kwallin lambobi 3 a cikin fasali mai faɗi.

Kayan Aiki:

Lokaci: Minti 35

Fara Darasi

Duba aikin gida (minti 2)

- Gaggauta duba aikin gida. A faɗa wa dalibai sakamaku sannan a karfafa masu gwiwa.

Waka (minti 3)

- Rera waƙar tare da dalibai sau da yawa.

Wakar Tarawa

Ana batun tarawa /
Komai a tara da ɗaya /
 $1+1= 2 / 2+1= 3 / 3+1= 4 /$
 $4+1= 5 / 5+1= 6 / 6+1= 7 /$
 $7+1= 8 / 8+1= 9 / 9+1= 10$

Koyo

Gabatar da tara kwallin lambobi 3 a cikin fasali mai faɗi (minti 10)

- Ka/ki ce:** Za mu koyi yadda ake tara kwallin lambobi 3 a cikin fasali mai faɗi.
- A rubuta fasalin lissafi na $452 + 231$ a kan allo sannan sai a yi bayanin cewa da farko dole ne a rubuta kowace lamba a cikin fasali mai faɗi.
- A yi wa daliban gwajin yadda ake rarraba 452 a cikin ɗaruruwa 4 da gwamma biyar da kuma daidai guda 2. Wannan daidai yake da $400 + 50 + 2$.
- A umurci wani dalibi ya zo gaban aji ya rubuta 231 a cikin fasali mai faɗi.
- Bayan an mayar da dukkan lambobin biyu a cikin fasali mai faɗi, sai a tara su wuri guda.
- Ka/ki ce:** Idan muka tara lambobi a cikin fasali mai faɗi, da farko muna buƙatar tara lambobin gurbin gidan daidai wuri ɗaya. Wadanne lambobi ne suke a gurbin gidan daidai?
- A tara $1 + 2$ wuri ɗayasai a rubuta 3 a kasan layin.
- Ka/ki ce:** Abu na gaba sai mu tara gwammanmu wuri guda. Mene ne amsar $50 + 30$?
- A rubuta 80 a kasan layin, a karkashin $50 + 30$.
- Ka/ki ce:** A karshe, za mu tara daruruwan wuri guda. Mene ne amsar $400 + 200$?
- A rubuta 600 a kasan layin.
- Ka/ki ce:** Yanzu fasalin lissafinmu ya kammala, muna iya tara lambobinmu wuri guda. Mene ne amsar $600 + 80 + 3$?
- Idan dalibai suna buƙatar taimako, a umurce su da su duba jadawalin lambobi 1-100 dake kan allo a gaban aji. A yi bayanin cewa $452 + 231$ daidai yake da $600 + 80 + 3$.

$$452 + 231$$

$$\begin{array}{r} 400 + 50 + 2 \\ 200 + 30 + 1 \\ \hline \end{array}$$

$$\begin{array}{r} 400 + 50 + 2 \\ + 200 + 30 + 1 \\ \hline 3 \end{array}$$

$$\begin{array}{r} 400 + 50 + 2 \\ + 200 + 30 + 1 \\ \hline 80 + 3 \end{array}$$

$$\begin{array}{r} 400 + 50 + 2 \\ + 200 + 30 + 1 \\ \hline 600 + 80 + 3 \end{array}$$

$$\begin{array}{r} 400 + 50 + 2 \\ + 200 + 30 + 1 \\ \hline 600 + 80 + 3 = 683 \end{array}$$

Gwaji

Aikin daidaiƙun dalibai ko aikin dalibai bibbiyu: Tara Kwallin Lambobi 3 a cikin Fasali Mai Faɗi (minti 15)

- A umurci dalibai su buɗe littafin dalibai Shafi na 38. A karanta umurni da aka rubuta a bayyane ga dalibai a kuma kammala lissafin farko da aji.
- A umurci dalibai su kammala sauran lissafi 2 na gaba dake kan shafin. Suna iya aiki a daidaiƙunsu ko kuma tare da abokan zamansu. A zagaya ana lura da dalibai a kuma taimaka musu.

Bayyanawa

Nuna kyawawan misalai (minti 5)

- A bayyana wa sauran dalibai kwararan misalan da dalibi ya bayar.

Aikin Gida

A sa dalibai su kammala sauran aikin dake Shafi na 38 a cikin littafansu na aiki a matsayin aikin gida.

Manufofi: Dalibai za su tara kwallin lambobi 3 ta lissafin tsaye da kuma lissafin kwance.

Kayan Aiki:

Lokaci: Minti 35

Fara Darasi

Duba aikin gida (minti 2)

- Gaggauta duba aikin gida. A fada wa dalibai sakamakon su sannan a karfafa masu gwiwa.

Wakar Tarawa

Ana batun tarawa /
Komai a tara da daya /
 $1+1= 2 / 2+1= 3 / 3+1= 4 /$
 $4+1= 5 / 5+1= 6 / 6+1= 7 /$
 $7+1= 8 / 8+1= 9 / 9+1= 10$

Waka (minti 3)

- Rera wakar tare da dalibai sau da yawa.

Koyo

Tarawa ta lissafin kwance (minti 7)

- Ka/ki ce:** A yau za mu yi gwajin tara kwallin lambobi 3 ta lissafin kwance da kuma lissafin tsaye. $346 + 152 = 498$
- A rubuta : $346 + 152 = \underline{\quad}$ a kan allo.
- Ka/ki ce:** Da farko, a tara lambobin dake gurbin gidan daidai wuri guda. Lambobi daidai nawa gare mu?
- A yi da'ira ga 6 da kuma 2 a cikin dukkan lambobin biyu, sannan a tambayi dalibai mene ne amsar $6 + 2$. A rubuta lambar 8 a gurbin gidan daidai a kan layin da ake sa amsa.
- Ka/ki ce:** Abu na gaba, sai mu tara lambobin dake gurbin gidan gwammai wuri guda. Gwammai nawa ne a wurin?
- A yi da'ira ga 4 da kuma 5. A nemi dalibai su fadi mene ne amsar $4 + 5$. A rubuta lamba ta 9 a gurbin gidan gwammai.
- Ka/ki ce:** Daga karshe, a tara lambobin dake gurbin gidan daruruwa. Daruruwa nawa ne wurin?
- A yi da'ira ga 3 da kuma 1. A umurci dalibai su fadi mene ne amsar $3 + 1$. A rubuta lamba 4 a gurbin gidan daruruwa.
- Ka/ki ce:** 346 a tara da 152 zai ba da 498.

Tarawa ta lissafin tsaye (minti 8)

- Ka/ki ce:** A matakin farko na warware fasalin lissafin tsaye shi ne tara lambobin dake gurbin gidan daidai wuri daya, sannan a tara na gurbin gidan goma-goma, sannan sai a tara na gurbin gidan dari-dari wuri guda.
$$\begin{array}{r} 346 \\ + 152 \\ \hline 498 \end{array}$$
- A nuna lambobin 2 da kuma 6 sannan sai a rubuta lamba 8 a karkashin fasalin lissafin.
- A nuna lambobin 4 da kuma 5 sannan sai a rubuta lamba 9 a karkashin fasalin lissafin.
- A nuna lambobin 3 da kuma 1 sannan sai a rubuta lamba 4 a karkashin fasalin lissafin.
- Ka/ki ce:** 346 a tara da 152 zai ba da 498.

Gwaji

Aikin daidai kun dalibai ko aikin dalibai bibbiyu: Tara Lambobi ta lissafin tsaye ko lissafin kwance (minti 10)

- A umurci dalibai su bude littafin dalibai Shafi na 39. A karanta umurni da aka rubuta a bayyane ga dalibai a kuma kammala lissafin farko da ajin.
- A umurci dalibai su kammala sauran lissafi 2 na gaba dake kan shafin. Suna iya aiki a daidai kunsu ko kuma tare da abokan zamansu. A zagaya ana lura da dalibai a kuma taimaka musu.

Bayyanawa

Auna fahimta nan-take (minti 5)

- A sa dalibai su daga takardunsu sama, su nuna abun da suka rubuta. A yaba wa kwazonsu.

Aikin Gida

A sa dalibai su kammala sauran aikin dake Shafi na 39 a cikin littafansu na rubutu a matsayin aikin gida.

Manufofi: Dalibai za su warware matsalolin da aka rubuta da kalmomi ta amfani da tarawa.

Kayan Aiki:

Lokaci: Minti 35

Fara Darasi

Duba aikin gida (minti 2)

- Gaggauta duba aikin gida. A fada wa dalibai sakamakonsu sannan a karfafa masu gwiwa.

Waka (minti 3)

- Rera wakar tare da dalibai sau da yawa.

Wakar Tarawa

Ana batun tarawa /

Komai a tara da ɗaya /

1+1= 2 / 2+1= 3 / 3+1= 4 /

4+1= 5 / 5+1= 6 / 6+1= 7 /

7+1= 8 / 8+1= 9 / 9+1= 10

Koyo

Gabatar da Warware Lissafi na Kalmomi ta Amfani da Tarawa (minti 10)

- Bayyana wannan labarin: *An baiwa Nura da Rabiú aikin raba biskit ga dalibai. A ranar Litinin sun bayar da biskit 341, a ranar Talata suka bayar da biskit 313. Biskit nawa suka bayar gaba ɗaya?*
- A kira dalibai guda biyu su zo gaban aji, su yi kwaikwayon labarin. A sa dalibi ɗaya ya rubuta jimillar yawan biskit ɗin da suka raba a ranar Litinin, wani dalibin ɗaya kuwa ya rubuta jimillar yawan biskit ɗin da aka raba a ranar Talata.
- Ka/ki ce:** *Nura da Rabiú sun bayar da biskit 341 a rana farko da kuma 313 a rana ta biyu. Idan muna son mu gano yawan biskit ɗin da aka raba gaba ɗaya, dole ne sai mun tara waɗannan lambobin wuri guda.*
- A kira wani dalibi ya zo gaban aji ya kuma rubuta fasalin lissafin dake nuna wannan labarin.
- Ka/ki tabbata an rubuta $341 + 313 = a$ kan allo.
- A umurci wani dalibi ya zo gaban aji ya yi gwajin yadda ake tara lambobin ta lissafin kwance, sannan a umurci wani dalibi daban ya yi gwajin yadda ake tara lambobin ta lissafin tsaye.
- A yi bitar yadda $341 + 313 = 654$ tare da dalibai.

Gwaji

Aiki a cikin karamin rukuni: Warware lissafi na rubutu ta amfani da tarawa (minti 15)

- A umurci dalibai su zauna a cikin kananan rukunai.
- Ka/ki ce:** *A kauyensu Naija akwai mata 334. Wasu mata 202 sun zo kauyensu Naija daga wani kauye da suke makwabtaka wajen biki. Mata nawa ne suke wurin bikin gaba ɗaya? (Amsa: 536)*
- A maimaita faɗin lissafi ta kalmomi sau da yawa don tabbatar da dalibai sun ji lambobin da aka faɗi.
- A sa dalibai su rubuta fasalin lissafi a cikin littafansu na rubutu a daidaikunsu.
- Da zarar daliban sun gama rubuta fasalin lissafin, a sa dalibai su yi aiki tare don su warware lissafi. Za su yi gwajin warware lissafin na kalmomi a fasalin lissafin kwance da kuma lissafin tsaye.
- A zagaya ana lura da aikin dalibai a kuma taimaka masu. Idan da lokaci, a maimaita da wata lissafin daban.

Bayyanawa

Bitar da Bayyanawa (minti 5)

- A samu wasu 'yan sa-kai su warware lissafin a kan allo, su kuma yi bayanin yadda suka warware ta. A umurci dalibai su ɗaga babban yatsansu sama idan sun aminta da amsar.

Aikin Gida

A sa dalibai su warware lissafin $111 + 181 = a$ cikin littafansu na rubutu a matsayin aikin gida.

Manufofi: Dalibai za su yi bita da gwajin abun da suka koya a cikin wannan makon.

Kayan Aiki: Littafan Yara

Lokaci: Minti 35

Fara Darasi

Duba aikin gida (minti 2)

- Gaggauta duba aikin gida. A faɗa wa dalibai sakamakon su sannan a karfafa masu gwiwa.

Waka (minti 3)

- Rera wakar tare da dalibai sau da yawa.

Wakar Tarawa

Ana batun tarawa /

Komai a tara da ɗaya /

$1+1= 2$ / $2+1= 3$ / $3+1= 4$ /

$4+1= 5$ / $5+1= 6$ / $6+1= 7$ /

$7+1= 8$ / $8+1= 9$ / $9+1= 10$

Koyo

Bitar da maimai (minti 10)

- A zaɓi wani darasi daga cikin darrusan da aka yi a cikin makon, wanda ake ganin dalibai ba su fahimce shi sosai ba. A sake koyar da darasin ko a sake koyar da shi ta wata sabuwar hanya daban.

Gwaji

Aikin daidaiƙun dalibai da aikin dalibai a cikin rukuni: Tara Lambobi 'Yan Uku (minti 15)

- A ba dalibai aikin da zai taimaka masu wajen yin gwajin darasin da aka yi bita (alal misali; tara lambobi 'yan uku ta lissafin tsaye ko kuma lissafin kwance).
- Dalibai na iya yin aiki a daidaiƙunsu ko kuma a cikin kananan rukunai.
- Yayin da dalibai suke gudanar da wani aikin da aka ba su, a kara taimaka masu a inda ba su gane sosai ba.

Bayyanawa

Auna fahimta da bayyanawa (minti 5)

- A sa dalibai su nuna aikin da suka kammala a lokacin Gwajin.

Aikin Gida

A ba dalibai aikin gida na bita da kuma gwajin kwazonsu.

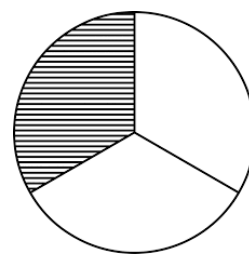
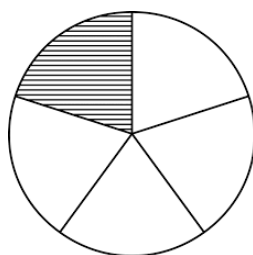
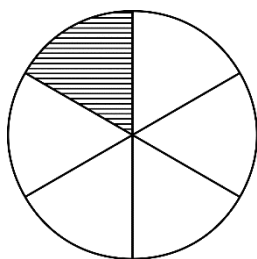
Darasin Lissafi Aji 2, Zango na 2, Mako na 6 – Jarrabawar tsakiyar Zango

Tara waƙannan lambobi za a iya amfani da fensiri da takarda. (A bayar da maki uku ga kowace amsa)

$$\begin{array}{r} 82 \\ + 12 \\ \hline \end{array}$$

$$\begin{array}{r} 34 \\ + 21 \\ \hline \end{array}$$

Tantance yawan bangaren da aka tura. (A bayar da maki uku ga kowace amsa)



Manufofi: Dalibai za su raba abubuwa a cikin kashi $\frac{1}{2}$ da kuma $\frac{1}{4}$.

Kayan Aiki:

Lokaci: Minti 35

Fara Darasi

Duba aikin gida (minti 2)

- Gaggauta duba aikin gida. A fada wa dalibai sakamankonsu sannan a karfafa gwiwa.

Nade kashi $\frac{1}{2}$ da kuma $\frac{1}{4}$ (minti 3)

- A sa dalibai su fito da fallen takarda daya. A sa dalibai su nade takardarsu rabi. Daga nan sai su yi musaya da abokan zamansu su kuma nade fallen takardar a cikin bangarori huɗu.

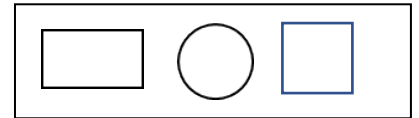
Koyo

Wasan aji gaba daya: Rarraba abubuwa a cikin rabi-rabi da kuma kashi daya bisa huɗu (minti 10)

- A kira dalibai 20 su zo gaban aji. A umurcirukunin daliban da su raba kansu gida biyu. A tuna masu cewa dole ne yawansu ya zama daidai.
- A umurci dalibai su fadi dalibai nawa ne ke cikin kowane rukuni.
- **Ka/ki ce:** *Yanzu mun ga cewa $\frac{1}{2}$ na 20 shi ne 10.*
- Yanzu, a sake neman rukunin daliban biyu da su tsaya tare wuri guda su samar da 20. A umurci daliban da su raba kansu a cikin gida huɗu. A tuna masu cewa dole ne yawan kowane gida huɗun ya zama daidai.
- A maimaita da wasu lambobi (alal misali; a kira dalibai 12 ko dalibai 4 su zo gaban aji).

Gwaji

Aikin daidaidun dalibai ko aikin dalibai bibbiyu: Zana Hotunan rabi-rabi da kuma kwata-kwata (minti 15)



- A zana hotunan sifofi a kan allo.
- A umurci dalibai su rubuta sifofin a cikin littafansu na rubutu. Bayan sun gama rubuta dukkan sifofin, a sa dalibai su sa kala a kashi daya bisa huɗu na kowane daga cikin sifofin.
- A zagaya ana lura da aikin dalibai. A yayin zagayawar, a tambaye su yadda suka samo amsar tasu, a kuma duba ko sun amsa daidai.
- Abu na gaba, a sa dalibai su sanya kala ga rabin kowane daya daga cikin sifofin.
- A umurci dalibai su duba amsarsu da ta abokan zamansu.

Bayyanawa

Auna fahimta nan-take (minti 5)

- A sa dalibai su daga littafansu na rubutu sama, su nuna abun da suka sanya wa kala. A yaba wa kwazonsu.

Aikin Gida

A sa dalibai su zana hoton da'ira a cikin littafansu na rubutu su kuma sa kala ga kashi daya bisa huɗu na hoton.

Manufofi: Dalibai za su raba abubuwa a cikin kashi $\frac{1}{3}$ da $\frac{2}{3}$ da $\frac{1}{5}$ da kuma $\frac{1}{6}$.

Kayan Aiki:

Lokaci: Minti 35

Fara Darasi

Duba aikin gida (minti 2)

- Gaggauta duba aikin gida. A fada wa dalibai sakamakonsu sannan a karfafa masu gwiwa.

Nade $\frac{1}{3}$ (minti 3)

- A sa dalibai su fito da fallen takarda daya. A sa dalibai su nade takardarsu uku. Daga nan sai su yi musaya da abokan zamansu sannan sai a nemi su zana hoton da'ira a kan kashi $\frac{2}{3}$ na takardar.

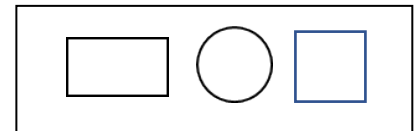
Koyo

Wasan aji gaba daya: Rarraba abubuwa a cikin kashi daya bisa uku da kashi daya bisa biyar da kuma kashi daya bisa shida (minti 10)

- A sa dalibai su fita waje. Ka/ki kira dalibai 30 su tsaya a gabanka/ki. Nemi rukunin su raba kansu a cikin kashi uku. A tuna masu cewa dole ne yawan rukunan uku ya zama daidai.
- A umurci dalibai su fadi dalibai nawa ne ke cikin kowane rukuni.
- **Ka/ki ce:** Mun ga cewa $\frac{1}{3}$ na 30 shi ne 10. Nawa $\frac{2}{3}$ na 30 zai kasance? Dalibai nawa ne ke cikin rukunai biyu?
- A gaba, a sa rukunin daliban su sake tsayawa tare wuri daya su samar da 30. A sa daliban su raba kansu a cikin kashi biyar. A yi kirge a bayyane tare da dalibai don a tabbatar da akwai dalibai 6 a cikin kowane rukuni.
- **Ka/ki ce:** Yanzu mun ga cewa $\frac{1}{5}$ na 30 shi ne 6.
- Ka/ki sake maimaitawa, ta hanyar neman dalibai su raba kansu a cikin gida shida.
- **Ka/ki ce:** Yanzu mun ga cewa $\frac{1}{6}$ na talatin shi ne 5.

Gwaji

Aikin daidaike dalibai ko aikin dalibai bibbiyu: Zana Hotunan kashi daya bisa uku da kashi daya bisa biyar da kuma kashi daya bisa shida (minti 15)



- A zana hotunan sifofi a kan allo.
- A nemi dalibai su rubuta sifofin a cikin littafansu na rubutu. Bayan sun gama rubuta dukkan sifofin, a sa dalibai su sa kala ga kashi $\frac{1}{3}$ na da'ira da daya bisa biyar na sifar akwati da kuma kashi $\frac{1}{6}$ na sifar gidan dara. Dalibai na iya duba amsarsu da ta abokan zamansu.
- A zagaya ana lura da aikin dalibai. A yayin zagayawar, a tambaye su yadda suka samo amsar tasu, a kuma duba ko sun amsa daidai.

Bayyanawa

Auna fahimta nan-take (minti 5)

- A sa dalibai su daga littafansu na aiki sama, su nuna abun da suka sanya wa kala. A yaba wa kwazonsu.

Aikin Gida

A sa dalibai su zana hoton da'ira a cikin littafansu na rutubutusu kuma sa kala ga $\frac{2}{3}$ na hoton.

Manufofi: Dalibai za su rubuta kwallin lambobi 2 da kuma kwallin lambobi 3 a cikin fasali mai faɗi.

Kayan Aiki:

Lokaci: Minti 35

Fara Darasi

Duba aikin gida (minti 2)

- Gaggauta duba aikin gida. A faɗa wa dalibai sakamakonsu sannan a karfafa masu gwiwa.

Waka (minti 3)

- Rera waƙar tare da dalibai sau da yawa.

Waƙar Tarawa

Ana batun tarawa /
Komai a tara da ɗaya /
 $1+1= 2$ / $2+1= 3$ / $3+1= 4$ /
 $4+1= 5$ / $5+1= 6$ / $6+1= 7$ /
 $7+1= 8$ / $8+1= 9$ / $9+1= 10$

Koyo

Bitu: Rubuta kwallin lamba 3 a cikin fasali mai faɗi (minti 10)

- **Ka/ki ce:** A yau za mu yi bitar rubuta lambobi a cikin fasali mai faɗi. Za mu yi lissafi ɗaya tare daga nan sai ku yi aikin sauran lissafin da kanku ko tare da abokan zamanku.
- A rubuta 365 a kan allo sai a nemi dalibai su faɗi kwallin lambobi nawa ke ciki.
- **Ka/ki ce:** Akwai kwallin lambobi 3 a ciki, saboda haka muna da lamba a gurbin dari-dari da gurbin goma-goma da kuma gurbin daidai.
- A umurci dalibai su faɗi daruruwa nawa ke ciki.
- **Ka/ki ce:** Haka ne, akwai daruruwa 3 a cikin 365, saboda haka muna iya rubuta lambar 3 a cikin akwatin farko. Dari-dari 3, daidai suke da 300.
- **Ka/ki ce:** A gaba, wace lamba ce ke gurbin gidan gwammai? Goma-goma nawa muke da su?
- A kira wani dalibi ya zo gaban aji sannan a ba shi dama ya sa lamba ta 6 a gurbin gidan gwammai.
- **Ka/ki ce:** Haka ne, muna da 6 guda goma. 6 guda goma daida suke da 60.
- **Ka/ki ce:** A karshe, daidai guda nawa muke da su? Wace lamba ce za a sa a gurbin gidan daidai?
- A kira wani dalibi ya zo gaban aji sannan a ba shi dama ya sa lamba ta 5 a cikin gurbin daidai.
- **Ka/ki ce:** Haka ne, daidai guda 5 daidai suke da 5. Yanzu kasancewar duk mun kammala rubuta lambobinmu a cikin fasali mai faɗi, muna iya haɗa lambobinmu uku wuri ɗaya, don mu gano yawan karan da muke da su.
- A warware lissafin $300 + 60 + 5$ kan allo tare da ajin.

$$\square \text{ dari-dari} + \square \text{ goma-goma} + \square \text{ daidai} = 365$$

$$\text{Dari-dari } 3 + \text{goma-goma } 6 + \text{Daidai } 5 = 365$$

$$300 + 60 + 5 = 365$$

Gwaji

Aikin daidaiƙun dalibai ko aikin dalibai bibbiyu: Rubuta Kwallin Lambobi 2 da kuma Kwallin Lambobi 3 a cikin Fasali mai Faɗi (minti 15)

- A umurci dalibai su buɗe littafin dalibai Shafi na 40. A karanta umurni da aka rubuta a bayyane ga dalibai a kuma kammala lissafin farko da ajin.
- A umurci dalibai su kammala sauran lissafi 2 na gaba dake cikin littafin rubutu.
- A zagaya ana lura da aikin dalibai. A yayin zagayawar, a tambaye su yadda suka samo amsar tasu, a kuma duba ko sun amsa daidai.

Bayyanawa

Auna fahimta nan-take (minti 5)

- A sa dalibai su daga littafansu na rubutu sama, su nuna abun da suka rubuta. A yaba wa kwazonsu.

Aikin Gida

A sa dalibai su kammala sauran aikin dake Shafi na 40 a cikin littafansu na rubutu a matsayin aikin gida.

Manufofi: Dalibai za su yi bitar tara kwallin lambobi 2 da kuma kwallin lambobi 3 a cikin fasalin lissafin tsaye da kuma lissafin kwance.

Kayan Aiki:

Lokaci: Minti 35

Fara Darasi

Duba aikin gida (minti 2)

- Gaggauta duba aikin gida. A fada wa dalibai sakamakonsu sannan a karfafa masu gwiwa.

Waka (minti 3)

- Rera wakar tare da dalibai sau da yawa.

Wakar Tarawa

Ana batun tarawa /

Komai a tara da daya /

1+1= 2 / 2+1= 3 / 3+1= 4 /

4+1= 5 / 5+1= 6 / 6+1= 7 /

7+1= 8 / 8+1= 9 / 9+1= 10

Koyo

Tara kwallin lambobi 3 ta lissafin kwance (minti 7)

- Ka/ki ce:** A yau za mu yi gwajin tara kwallin lambobi 2 da kuma 3 ta lissafin kwance da kuma lissafin tsaye. Za mu yi lissafi daya tare daku daga nan sai ku yi sauran ayyukan a daidai kunku ko kuma tare da abokan zamanku.
- A rubuta: $214 + 562 =$ a kan allo.
- Ka/ki ce:** Da farko, a tara lambobin dake gurbin gidan daidai wuri daya. Lambobi daidai nawa gare mu?
- A saka da'ira ga 4 da kuma 2 a cikin dukkan lambobin biyu. A tambayi dalibai mene ne amsar $4 + 2$. A rubuta lambar 6 a gurbin gidan daidai a kan layin da ake sa amsa.
- Ka/ki ce:** Abu na gaba, sai mu tara lambobin dake gurbin gidan Goma-goma wuri guda. Goma-goma nawa ne a wurin?
- A yi da'ira ga 1 da kuma 6. A umurci dalibai su fadi mene ne amsar $1 + 6$. A rubuta lamba ta 7 a gurbin gidan goma-goma.
- Ka/ki ce:** Daga karshe, a tara lambobin dake gurbin gidan dari-dari. Dari-dari nawa ne wurin?
- A umurci da'ira ga 2 da kuma 5. A umurci dalibai su fadi mene ne amsar $2 + 5$. A rubuta lamba 7 a gurbin gidan daruruwa.
- Ka/ki ce:** 214 a tara da 562 zai ba da 776.

$$214 + 562 = 776$$

Tarawa ta lissafin tsaye (minti 8)

- Ka/ki ce:** A matakin farko muna warware lissafin tsaye ta hanyar tara lambobin dake gurbin gida daidai wuri daya, sannan mu tara na gurbin gidan goma-goma, sannan sai mu tara na gurbin gidan dari-dari wuri daya.
- A nuna lambobin 4 da kuma 2 sannan sai a rubuta lamba 6 a karkashin fasalin lissafin.
- A nuna lambobin 1 da kuma 6 sannan sai a rubuta lamba 7 a karkashin fasalin lissafin.
- A nuna lambobin 2 da kuma 5 sannan sai a rubuta lamba 7 a karkashin fasalin lissafin.
- Ka/ki ce:** 214 a tara da 562 zai ba da 776.

$$\begin{array}{r} 214 \\ + 562 \\ \hline 776 \end{array}$$

Gwaji

Aikin daidai kun dalibai ko aikin dalibai bibbiyu: Tarawa ta Lissafin tsaye da kuma lissafin kwance (minti 15)

- A umurci dalibai su buɗe littafin dalibai Shafi na 41. A karanta umurni da aka rubuta a bayyane ga dalibai a kuma kammala lissafin farko da ajin.
- A umurci dalibai su kammala sauran lissafi 2 na gaba dake cikin littafin dalibai dake shafin. Suna iya aiki a daidai kunsu ko kuma tare da abokan zamansu. A zagaya ana lura da aikin dalibai a kuma taimaka musu.

Bayyanawa

Auna fahimta nan-take (minti 5)

- A sa dalibai su daga littafansu na rubutu sama, su nuna abun da suka rubuta. A yaba wa kwazonsu.

Aikin Gida

A sa dalibai su kammala sauran aikin dake Shafi na 41 a cikin littafansu na rubutu a matsayin aikin gida.

Manufofi: Dalibai za su rubuta tagwayen lambobi da 3 ta hanyar faɗaɗawa.

Kayan Aiki:

Lokaci: Minti 35

Fara Darasi

Duba aikin gida (minti 2)

- Gaggauta duba aikin gida. A faɗa wa dalibai sakamakonsu sannan a karfafa masu gwiwa.

Waka (minti 3)

- A yi ta rera wakar tare da dalibai.

Wakar Tarawa

Ana batun tarawa /
Komai a tara da ɗaya /
1+1= 2 / 2+1= 3 / 3+1= 4 /
4+1= 5 / 5+1= 6 / 6+1= 7 /
7+1= 8 / 8+1= 9 / 9+1= 10

Koyo

Bitu: Rubuta tagwayen lambobi 3 ta hanyar faɗaɗawa (minti 10)

- Ka/ki ce:** *Yau za mu yi bitar rubutun lambobi ta hanyar faɗaɗawa. Za mu samo amsa ɗaya tare da ku sannan za ku gano sauran amsoshin da kanku ko da abokan aikinku.*
- Rubuta lamba 113 a kan allo, sannan a tambayi dalibai kwallin lamba nawa ne.
- Ka/ki ce:** *Akwai kwalli 3, saboda haka muna da lamba a gidan dari-dari da gidan goma-goma da kuma gidan daidaya.*
- A tambayi dalibai dari-dari nawa ake da su.
- Ka/ki ce:** *Haka ne, akwai dari 1 a cikin 113, saboda haka za mu saka lamba 1 a cikin akwatin farko. dari 1 daidai yake da 100.*
- Ka/ki ce:** *Daga nan kuma, wace lamba ce a gidan goma-goma? Goma-goma nawa muke da su?*
- Kira dalibi/daliba ɗaya ya/ta fito gaban allo don saka lamba 1 a gidan goma-goma.
- Ka/ki ce:** *Haka ne muna da goma 1. Goma 1 daidai take da 10.*
- Ka/ki ce:** *Daga karshe, daidaya nawa muke da su? Wace lamba za mu saka a gidan daidaya?*
- Kira dalibi/daliba ɗaya ya/ta fito gaban allo don saka lamba 3 a gidan daidaya.
- Ka/ki ce:** *Haka ne, daidaya 3 shi ne 3. Tun da yanzu muna da dukkan lambobinmu a rubuce ta hanyar faɗaɗawa, za mu iya tara dukkan lambobi uku a wuri guda mu samo jimillar tsinken da ake da su.*
- A gano wannan amsar $100 + 10 + 3$ a kan allo tare da 'yan aji.

$$\square \text{ dari-dari} + \square \text{ goma-goma} + \square \text{ daidaya} = 113$$

$$\begin{aligned} \text{dari } 1 + \text{goma } 1 + \text{daidaya } 3 &= 113 \\ 100 + 10 + 3 &= 113 \end{aligned}$$

Gwaji

Aiki a daidai: da kuma cikin bibiyu: Rubutun tagwayen lambobi da 3 ta hanyar faɗaɗawa (minti 15)

- A ce daliban su buɗe Shafi na 42. A karanta wa dalibai umurni sannan a samo amsar aikin lissafin farko tare da su.
- A sa dalibai su gano amsar fasalin lissafi biyu na gaba da ke cikin littafin dalibai.
- A zagaya domin lura da dalibai. Yayin da ake zagayawa, a rika tambayar dalibai yadda suka sami amsoshinsu. A tabbatar masu idan amsarsu daidai ne.

Bayyanawa

Auna fahimta cikin gaggawa (minti 5)

- A sa dalibai su ɗaga takardunsu don su nuna abin da suka rubuta. A yaba wa dalibai.

Aikin Gida

A sa dalibai su kammala sauran aikin dake Shafi na 42 a cikin littafansu na rubutu a matsayin aikin gida.

Manufa: Dalibai za su tara tagwayen lambobi tare da ragowa.

Kayan Aiki: Daurin tsinke

Lokaci: Minti 35

Fara Darasi

Duba aikin gida (minti 2)

- Gaggauta duba aikin gida. A faɗa wa dalibai sakamakon su sannan a karfafa masu gwiwa.

Rerawa (minti 3)

- A yi ta rera wakar tare da dalibai.

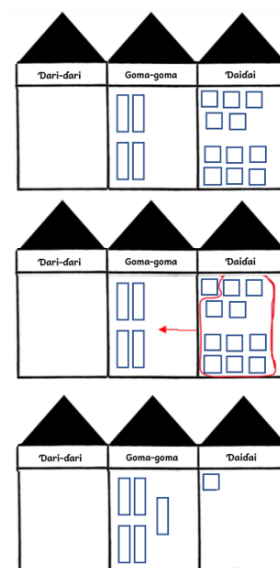
Wakar Tarawa

Yi kari har zuwa har
sannan komai zai yi kyau.
10 ko sama da haka sai a
kai gida na gaba!
Za mu iya! Za mu iya!

Koyo

Tara tagwayen lamba tare da ragowa – tsarin kwance (minti 10)

- **Ka/ki ce:** *Yau za mu koyi yadda za a tara tagwayen lambobi tare da ragowa. Sauya suna ana nufin tara lambobi daidaya yadda za su koma goma-goma.*
- Rubuta wannan fasalin lissafin $25 + 26 = \underline{\quad}$ a kan allo.
- Nuna lamba 25 kamar yadda suka fito a wurin kimar lamba ta hanyar saka dami 2 na tsinke a wurin goma-goma (wanda take wakiltar siffar akwati) da kuma tsinke guda 5 a gidan daidaya (wanda ake wakiltar siffar gidan dara).
- Gwada yadda za a tara da karin 26, ta hanyar zana siffar akwati guda 2 su wakilci dami guda wato goma da kuma sifar gidan dara 6 ya wakilci daidaya guda 6.
- **Ka/ki ce:** *Tun da yanzu an sami wakilci lambobi 25 da 26 a cikin jaddawalin, sai kuma mu tara su wuri guda.*
- A sa dalibai su kirga adadin siffar gidan dara da ke gidan daidaya.
- **Ka/ki ce:** *Yanzu akwai tsinke 11 a gidan daidaya. Me ya kamata mu yi?*
- **Ka/ki ce:** *Ku tuna, duk lambar da ta wuce 9 ba za ta zauna a gidan daidaya ba. daidaya guda goma daidai suke da goma 1, saboda haka sai mu canza gidan dara 10 zuwa sifar akwati 1.*
- **Ka/ki ce:** *Saboda haka za a sami goma 5 a gidan goma-goma da kuma 1 a gidan daidaya. Saboda haka $25 + 26 = 51$.*



Gwaji

Aikin kananan rukunoni: Tara tagwayen lamba tare da ragowa (minti 15)

- A sa dalibai su zauna cikin kananan rukunoni sannan su buɗe litattafansu zuwa jaddawalin kimar lamba da ke farkon littafin. A zaɓi shugaba ɗaya daga kowane rukuni don su taimaka wajen raba dami-damin tsinke ga ‘yan rukuninsu.
- Rubuta lissafi na $43 + 38$ a kan allo, sannan a sa dalibai su gano amsar wannan fasalin lissafin a cikin litattafansu na rubutu ta hanyar amfani da jaddawalin kimar lamba.
- Zagaya domin lura da dalibai sannan a tallafa masu.

Bayyanawa

Auna fahimta cikin gaggawa (minti 5)

- A sa dalibai su ɗaga takardunsu don su nuna abin da suka rubuta. A yaba wa dalibai.

Aikin Gida

A sa dalibai su samo amsar $22 + 39$ a cikin litattafansu na rubutu a gida.

Manufofi: Dalibai za su tara tagwayen lambobi ta hanyar jera lambobin a tsaye da kuma kwance.

Kayan Aiki:

Lokaci: Minti 35

Fara Darasi

Duba aikin gida (minti 2)

- Gaggauta duba aikin gida. A faɗa wa ɗalibai sakamakonsu sannan a karfafa masu gwiwa.

Rerawa (minti 3)

- A yi ta rera wakar tare da ɗalibai.

Wakar Tarawa

Yi kari har zuwa har
sannan komai zai yi kyau.
10 ko sama da haka sai a
kai gida na gaba!
Za mu iya! Za mu iya!

Koyo

Tara tagwayen lambobi da ragowa – ta hanyar jera lambobin a tsaye (minti 10)

- **Ka/ki ce:** Yau za mu gwada tara tagwayen lambobi tare da ragowa. Mun gwada tara tagwayen lambobi ta hanyar jera su a tsaye jiya. A yau kuma za mu tara lambobin a kwance.
- Rubuta wannan fasalin lissafin $25 + 26 = \underline{\quad}$ a kan allo.
- **Ka/ki ce:** *Kada a manta, yayin da muka zo tara lambobi a kwance, a kullum muna farawa da lambobin da ke gidan ɗaiɗaya. Mene ne $5 + 6$?*
- A yi bayanin ɗaiɗaya guda 11 yana nufin goma guda ɗaya da kuma ɗaiɗaya guda ɗaya. Nuna wa ɗalibai yadda za a gane “1” na ɗaiɗaya, sannan a ɗauki wata “1” zuwa gidan goma-goma.
- A sa wani ɗalibi/ ɗaliba ya/ta fito gaban allo domin tara $1 + 2 + 2$ wuri guda a gidan goma-goma. A tabbatar an rubuta 5 a kasan layi a hagnun da 1.
- **Ka/ki ce:** $25 + 26 = 51$.

Gwaji

Aiki a ɗaiɗaiku ko cikin bibiyu: Tara tagwayen lambobi da mayar da ɗaiɗaiku goma-goma (minti 15)

- A ce ɗaliban su buɗe Shafi na 43. A karanta wa ɗalibai umurni sannan a samo amsar aikin lissafin farko tare da su.
- A sa ɗalibai su gano amsar fasalin lissafi biyu na gaba da ke cikin littafin ɗalibai. Za su iya aiki a ɗaiɗaiku ko da abokin aiki
- A zagaya domin lura da ɗalibai. Yayin da ake zagayawa, a rika tambayar ɗalibai yadda suka sami amsoshinsu. A tabbatar masu idan amsarsu daidai ne.

Bayyanawa

Auna fahimta cikin gaggawa (minti 5)

- A sa ɗalibai su ɗaga takardunsu don su nuna abin da suka rubuta. A yaba wa ɗalibai.

Aikin Gida

A sa ɗalibai su kammala sauran aikin dake Shafi na 43 a cikin littafansu na rubutu a matsayin aikin gida.

Manufa: Dalibai za su iya warware aikin lissafi ta hanyar tarawa.

Kayan Aiki:

Lokaci: Minti 35

Fara Darasi

Duba aikin gida (minti 2)

- Gaggauta duba aikin gida. A faɗa wa ɗalibai sakamakon su sannan a karfafa masu gwiwa.

Rerawa (minti 3)

- A yi ta rera wakar tare da ɗalibai.

Wakar Tarawa

Yi kari har zuwa har
sannan komai zai yi kyau.
10 ko sama da haka sai a
kai gida na gaba!
Za mu iya! Za mu iya!

Koyo

Warware aikin lissafi tare da ragowa (minti 10)

- **Ka/ki ce:** *Yau za mu yi lissafi ta hanyar tarawa da kuma ragowa.*
- Faɗa wa ɗalibai labarin da ke biye: Shugaban makaranta ya sa Zahra da Auwal su kirga ɗaliban da ke cikin ajinsu. Zahra ta kirga yara mata 38 shi kuma Auwal ya kirga yara maza 36. Jimillar ɗalibai nawa ake da su?
- Umurci ɗalibai biyu su fito gaban aji su kwatanta aiwatar da labarin. A sa ɗaya ya/ta rubuta adadin yara mata sannan ɗayan kuma ya/ta rubuta adadin yara maza a kan allo.
- **Ka/ki ce:** *Akwai yara mata 38 da yara maza 36. Idan muna son gano jimillar yara sai mu tara wadannan lambobi wuri ɗaya.*
- A sa wani ɗalibi/ ɗaliba ya/ta fito fito gaban allo ya/ta rubuta fasalin lissafin da labarin ya kunsu.
- A tabbatar an rubuta $38 + 36 =$ a kan allo.
- A sa ɗalibi/ ɗaliba ɗaya ya/ta fito gaban aji ya gwada yadda za a tara lambobin yayin da aka jera su a tsaye ta hanyar ragowa, sannan ɗaya kuma ya/ta gwada tara lambobin yayin da aka jera su a kwance ta hanyar ɗaukar lamba.
- A yi bita tare da ɗalibai $38 + 36 = 74$.

Gwaji

Aiki a kananan rukunoni: Warware aikin lissafi tare da ragowa (minti 15)

- A sa ɗalibai su zauna cikin kananan rukunoni.
- **Ka/ki ce:** *Akwai shanu 29 a gona. Mai gonar ya karo wasu 18. Yanzu duka-duka shanunsa sun zama nawa? (Amsa: 47)*
- Yi ta maimaita lissafin da aka bayar don a tabbatar ɗalibai sun ji dukkan lambobin da ake magana a kai.
- A sa ɗalibai su rubutafasalin lissafin a cikin littafansu na rubutu a daidai kansu.
- Da zarar ɗaliban su rubuta lissafin, su haɗa kai wajen gano amsoshin. Su gwada gano amsoshin lissafin ta hanyar zuba lissafin a tsaye da kwance.
- A zagaya domin lura da ɗalibai sannan a ba su tallafi. Idan akwai lokaci, a maimaita da wani lissafin.

Bayyanawa

Auna fahimta da bayyanawa (minti 5)

- A sa wasu 'yan sa kai su gano amsar wannan lissafin da ke kan allo sannan su yi bayanin yadda suka gano amsoshinsu. A sa ɗalibai su ɗaga babban yatsansu sama idan sun aminta da amsar.

Aikin Gida

A sa ɗalibai su gano amsar wannan aikin lissafin $77 + 14 =$ a cikin litattafansu na rubutu a matsayin aikin gida.

Manufofi: Dalibai za suyi bita da gwajin aikin da aka gabatar a makon.**Kayan Aiki:****Lokaci:** Minti 35**Fara Darasi**Duba aikin gida (minti 2)

- Gaggauta duba aikin gida. A faɗa wa ɗalibai sakamakonsu sannan a karfafa masu gwiwa. (Amsa: 91)

Rerawa (minti 3)

- A yi ta rera waƙar tare da ɗalibai.

Waƙar Tarawa

Yi kari har zuwa har
sannan komai zai yi kyau.
10 ko sama da haka sai a
kai gida na gaba!
Za mu iya! Za mu iya!

KoyoBitar da maimaitawa (minti 10)

- Zabi wani batu daga ayyukan mako da ake ganin kamar ɗalibai suna fama da shi. A sake maimaita koyar da shi ko kuma a koyar da shi ta wata hanyar daban.

GwajiAiki a ɗaiɗaiku da kuma cikin kungiyoyi: Tara tagwayen lambobi tare da sake ragowa (minti 15)

- A ba wa ɗalibai wani aiki wanda zai taimaka masu gwajin abin da ake bita a kansa (Misali, gano amsar lissafin ta hanyar tarawa). Dalibai za su iya yin aiki a ɗaiɗaikunsu ko kuma cikin rukunoni.
- Yayin da ɗalibai suke mayar da hankalinsu a kan aikinsu, a samar da taimako ga masu bukata.

BayyanawaAuna fahimta da bayyanawa (minti 5)

- A sa ɗalibai su nuna ayyukan da suka kammala a lokacin gwaji.

Aikin Gida

A ba ɗalibai aikin gida don bita da gwajin abin da suka koya.

Manufofi: Dalibai za su tara tagwayen lambobi tare da ragowa.

Kayan Aiki:

Lokaci: Minti 35

Fara Darasi

Duba aikin gida (minti 2)

- Gaggauta duba aikin gida. A faɗa wa dalibai sakamakonsu sannan a karfafa masu gwiwa.

Rerawa (minti 3)

- A yi ta rera wakar tare da dalibai.

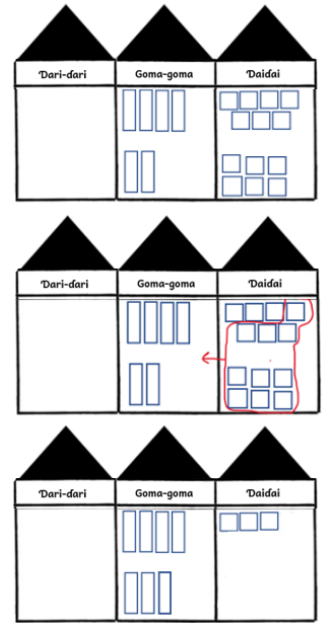
Wakar Tarawa

Yi kari har zuwa har
sannan komai zai yi kyau.
10 ko sama da haka sai a
kai gida na gaba!
Za mu iya! Za mu iya!

Koyo

Tara tagwayen lamba tare da ragowa – tsarin kwance (minti 10)

- **Ka/ki ce:** *Yau za mu tara tagwayen lambobi lokacin da aka zuba lambobi a tsaye tare da ragowa.*
- Rubuta wannan fasalin lissafin $47 + 26 = \underline{\quad}$ a kan allo.
- Nuna lamba 47 kamar yadda suka fito a wurin kimar lamba ta hanyar saka dami 4 na tsinke a wurin goma-goma (wadda aka wakiltar da siffar akwati) da kuma tsinke guda 7 a gidan daidaya (wadda aka wakiltar da siffar gidan dara).
- Gwada yadda za a tara da karin 26, ta hanyar zana siffar akwati guda 2 su wakilci dami guda wato goma da kuma sifar gidan dara 6 ya wakilci daidaya guda 6.
- **Ka/ki ce:** *Tun da yanzu an sami wakilci lambobi 47 da 26 a cikin jaddawalin, sai kuma mu tara su wuri guda.*
- A sa dalibai su kirga adadin siffar gidan dara da ke gidan daidaya.
- **Ka/ki ce:** *Yanzu akwai tsinke 13 a gidan daidaya. Me ya kamata mu yi?*
- **Ka/ki ce:** *Ku tuna, duk lambar da ta wuce 9 ba za ta zauna a gidan daidaya ba. daidaya guda goma daidai suke da goma 1, saboda haka sai mu canza gidan dara 10 zuwa sifar akwati 1.*
- **Ka/ki ce:** *Saboda haka za a sami goma 7 a gidan goma-goma da kuma 3 a gidan daidaya. Saboda haka $47 + 26 = 73$.*



Gwaji

Aikin kananan kungiyoyi: Tara lamba mai kwalli 2 tare da sake musu suna (minti 15)

- A sa dalibai su zauna cikin kananan kungiyoyi sannan su buɗe litattafansu zuwa jaddawalin kimar wurin lamba da ke farkon littafin. A zabi shugaba ɗaya daga kowane rukuni don su taimaka wajen raba dami-damin tsinke ga ‘yan rukuninsu.
- Rubuta lissafi na $64 + 18$ a kan allo, sannan a sa dalibai su gano amsar wannan lissafin a cikin litattafansu na rubutu ta hanyar amfani da jaddawalin kimar lamba. (Amsa:82)
- Zagaya domin lura da dalibai sannan a tallafa musu.

Bayyanawa

Auna fahimta cikin gaggawa (minti 5)

- A sa dalibai su ɗaga takardunsu don su nuna abin da suka rubuta. A yaba wa dalibai.

Aikin Gida

A sa dalibai su samo amsar $45 + 76$ a cikin litattafansu na rubutu a gida.

Manufa: Dalibai za su tara tagwayen lambobi idan an jera su a tsaye ko kwance.

Kayan Aiki:

Lokaci: Minti 35

Fara Darasi

Duba aikin gida (minti 2)

- Gaggauta duba aikin gida. A faɗa wa dalibai sakamakon su sannan a karfafa masu gwiwa.

Rerawa (minti 3)

- A yi ta rera wakar tare da dalibai.

Wakar Tarawa

Yi kari har zuwa har sannan komai zai yi kyau. 10 ko sama da haka sai a kai gida na gaba! Za mu iya! Za mu iya!

Koyo

Tara tagwayen lambobi idan an jera su a kwance da ragowa (minti 10)

- Ka/ki ce:** *Yau za mu tara tagwayen lambobi da ragowa. Jiya munga yadda aka jera lambobi a tsaye, yau kuma za mu tara lambobin da aka jera su a kwance.* 39
- Rubuta wannan fasalin lissafin $39 + 41 = \underline{\quad}$ a kan allo. + 41
- Ka/ki ce:** *Kada a manta, yayin da za mu tara lambobi a kwance, a kullum muna farawa da wurin daidaya ne. Mene ne $9 + 1$?* |
39
- A yi bayanin cewa daidaya guda 10 yana nufin goma 1 kuma babu daidaya. A nuna wa dalibai yadda za a ajiye "0" na daidaya da kuma yadda za a tafi da "1" + 41
0
- Ka/ki ce:** *Akwai goma 1 sannan babu daidaya da ya rage. Saboda haka, sai a saka 0 a gidan daidaya, sannan sai mu dauki 1 da muke da ita zuwa gidan goma-goma, sai mu ajiye ta a saman 3 da 4 da muke da su a a gidan goma-goma. Daga nan sai mu tara su gabaɗaya.* |
39
+ 41
80
- A sa dalibi ko daliba ya/ta zo gaban allo domin tara $1 + 3 + 4$ da ke gidan goma-goma. A tabbatar an rubuta 8 a kasan layin a hagin da 0.
- Ka/ki ce:** $39 + 41 = 80$.
- Idan akwai lokaci a maimaita wadannan matakan da fasalin lissafin $28 + 57$.

Gwaji

Aiki daidaya ko cikin bibiyu: Tara tagwayen lambobi idan an jera su a tsaye ko a kwance (minti 15)

- A ce daliban su buɗe littafin dalibai Shafi na 44. A karanta wa dalibai umurni a bayyane. A karasa gano lissafi na farko tare da su.
- A sa dalibai su gano amsar fasalin lissafi na gaba da ke cikin littafin dalibai. Za su iya aiki a daidai ko da abokan aiki
- A zagaya domin lura da dalibai. Yayin da ake zagayawa, a rika tambayar dalibai yadda suka sami amsoshinsu. A tabbatar masu idan amsarsu daidai ne.

Bayyanawa

Auna fahimta cikin gaggawa (minti 5)

- A sa dalibai su daga takardunsu don su nuna abin da suka rubuta. A yaba wa dalibai.

Aikin Gida

A sa dalibai su kammala sauran aikin dake Shafi na 44 a cikin littafansu na rubutu a matsayin aikin gida.

Manufa: Dalibai za su tara tagwayen lambobi guda 3 ko fiye da haka idan an jera su a tsaye ko a kwance.

Kayan Aiki:

Lokaci: Minti 35

Fara Darasi

Duba aikin gida (minti 2)

- Gaggauta duba aikin gida. A fada wa dalibai sakamankonsu sannan a karfafa masu gwiwa.

Rerawa (minti 3)

- A yi ta rera wakar tare da dalibai.

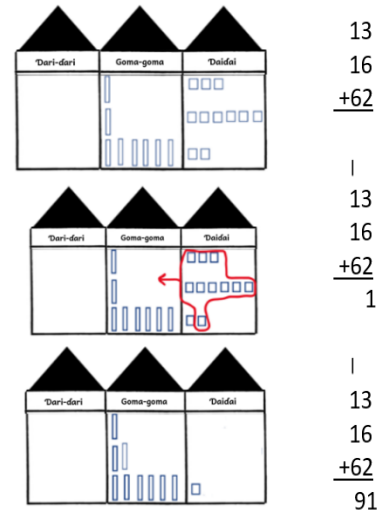
Wakar Tarawa

Yi kari har zuwa har
sannan komai zai yi kyau.
10 ko sama da haka sai a
kai gida na gaba!
Za mu iya! Za mu iya!

Koyo

Tara tagwayen lambobi guda 3 ko fiye da haka idan an jera su a tsaye ko a kwance tare da ragowa (minti 15)

- Ka/ki ce:** Yau za mu tara tagwayen lambobi guda 3.
- Rubuta wannan fasalinlissafin $13 + 16 + 62 = \underline{\quad}$ a kan allo.
- A sa dalibai uku su fito gaban allo su cike jaddawalin wuraren kimar lamba da lambobin da suka dace na gidan goma-goma da daidaya na kowace daga cikin waƙannan lambobi: 13 da 16 da kuma 62.
- Ka/ki ce:** Tun da yanzu an rubuta dukkan lambobin a jere, za mu iya tara su. Mu fara da lambobin da suke gidan daidaya.
- A sa dalibai su kirga yawan gidan dara da suke gidan daidaya.
- Ka/ki ce:** Akwai tsinke 11 a gidan daidaya. Yaya za mu yi kenan?
- A tambayi dalibi/ daliba daya ya/ta fito gaban allo domin gwada aiwatar da yadda ake canza daidaya guda 10 su koma goma 1.
- Ka/ki ce:** Yanzu ya zama akwai goma-goma guda 9 da kuma daidaya guda 1. Saboda haka $13 + 16 + 62 = 91$.
- Daga nan a rubuta wannan lissafin a kwance. A fara da daidaya, a tambayi dalibai nawa ne $3+6+2$.
- A sa dalibi/daliba daya ya/ta fito gaban allo domin nuna yadda za a tara daidayan, a rubuta 1 a wurin daidaya da ke kasan, sannan a tafi da 1.
- A sa wani dalibi/ daliba daya ya/ta fito gaban allo domin nuna yadda za a tara lambobin da ke gidan goma-goma.



Gwaji

Aiki daidaya ko cikin bibiyu: Tara tagwayen lambobi guda 3 idan an jera su a tsaye ko a kwance (minti 10)

- A ce daliban su bude littafin dalibai Shafi na 45. A karanta wa dalibai umurni a bayyane. A karasa gano aikin lissafin na farko tare da su.
- A sa dalibai su gano amsar fasalinlissafi na gaba da ke cikin littafin dalibai. Za su iya aiki a daidai ko da abokan aiki
- A zagaya domin lura da dalibai. Yayin da ake zagayawa, a rika tambayar dalibai yadda suka sami amsoshinsu. A tabbatar masu idan amsarsu daidai ne.

Bayyanawa

Auna fahimta cikin gaggawa (minti 5)

- A sa dalibai su daga takardunsu don su nuna abin da suka rubuta. A yaba wa dalibai.

Aikin Gida

A sa dalibai su kammala sauran aikin dake Shafi na 45 a cikin littafansu na rubutu a matsayin aikin gida.

Manufa: Dalibai za su warware lissafi ta amfani da tarawa

Kayan Aiki:

Lokaci: Minti 35

Fara Darasi

Duba aikin gida (minti 2)

- Gaggauta duba aikin gida. A fada wa dalibai sakamaku sannan a karfafa masu gwiwa.

Rerawa (minti 3)

- A yi ta rera wakar tare da dalibai.

Wakar Tarawa

Yi kari har zuwa har
sannan komai zai yi kyau.
10 ko sama da haka sai a
kai gida na gaba!
Za mu iya! Za mu iya!

Koyo

warwareaikin lissafi da tagwayen lambobi guda uku (minti 10)

- **Ka/ki ce:** *Yau za mu yi lissafi ta hanyar tarawa da kuma ragowa.*
- Fada wa dalibai labarin da ke biye: Malam ya ce wa Musa da Lawan da Amina da su kirga adadin fensuran da suke cikin aji. Musa ya kirga 29, Lawan ya kirga 45 sannan Amina ta kirga 18. Duka-duka fensira nawa suka kirga?
- Umurci wani dalibi/ daliba ya/ta zo gaban allo ya/ta rubuta fasalin lissafin da ya dace da labarin.
- A tabbatar an rubuta $29 + 45 + 18 = a$ kan allo.
- A sa dalibi/ daliba daya ya/ta fito gaban aji ya gwada yadda za a tara lambobin yayin da aka jera su a tsaye ta hanyar ragowa, sannan daya kuma ya/ta gwada tara lambobin yayin da aka jera su a kwance.
- **Ka/ki ce:** *Yayin da aka tara daidaya, wani lokaci jimillar takan zarce goma. A wannan misalin, $9 + 5 + 8 = 22$. Akwai daidaya guda 2 da kuma goma-goma 2, wannan yana nuna sai mun yi tafiya da 2!*

Gwaji

Aiki a kananan rukunoni: Gano amsar lissafi tare da ragowa (minti 15)

- A sa dalibai su zauna cikin kananan rukunoni.
- **Ka/ki ce:** *Dalibai uku suka sai alewa domin rabawa 'yan aji. daya daga cikinsu ya sai guda 21, daya kuma ya sai 19 sannan dayan kuma ya sai guda 26. Duka-duka alewa nawa za a samu? (Amsa: 66)*
- Yi ta maimaita lissafin da aka bayar don a tabbatar dalibai sun ji dukkan lambobin da ake magana a kai.
- A sa dalibai su rubuta fasalin lissafin a cikin littafansu na rubutu a daidai kansu.
- Da zarar daliban sun rubuta fasalin lissafin, a su hada kai wajen gano amsoshin. Su gwada gano amsoshin lissafin ta hanyar jera lissafin a tsaye da kwance.
- A zagaya domin lura da dalibai sannan a ba su tallafi. Idan akwai lokaci, a maimaita da wani aikin lissafin.

Bayyanawa

Auna fahimta cikin gaggawa (minti 5)

- A nemi wani dalibi/ daliba ya/ta fito domin gano amsar aikin lissafin a kan allo, sannan kuma tare da bayyana yadda aka gano amsar. A sa dalibai su daga babbar yatsarsu sama idan sun yarda da amsar.

Aikin Gida

A sa dalibai su gano amsar $43 + 12 + 38$ cikin litattafansu na rubutu.

Manufofi: Dalibai za su yi bita da gwajin aikin da aka gabatar a makon.

Kayan Aiki:

Lokaci: Minti 35

Fara Darasi

Duba aikin gida (minti 2)

- Gaggauta duba aikin gida. A fada wa dalibai sakamankonsu sannan a karfafa masu gwiwa. (Amsa: 93)

Rerawa (minti 3)

- A yi ta rera wakar tare da dalibai.

Wakar Tarawa

Yi kari har zuwa har
sannan komai zai yi kyau.
10 ko sama da haka sai a
kai gida na gaba!
Za mu iya! Za mu iya!

Koyo

Bitu da maimaitawa (minti 10)

- Zabi wani labari daga ayyukan mako da ake ganin kamar dalibai suna fama da shi. A sake maimaita koyar da shi ko kuma a koyar da shi ta wata hanyar daban.

Gwaji

Aiki a daidai ko cikin kananan rukunoni: Tarawa na tagwayen lambobi da ragowa (minti 15)

- A ba dalibai wani aiki wanda zai taimaka masu gwajin abin da ake bita a kansa (Misali, tara tagwayen lambobi guda 3 ko fiye wadanda aka zuba su a kwance ko a tsaye). Dalibai za su iya yin aiki a daidai kunsu ko kuma cikin rukunoni.
- Yayin da dalibai suke mayar da hankalinsu a kan aikinsu, a samar da taimako ga masu bukata

Bayyanawa

Auna fahimta da bayyanawa (minti 5)

- A sa dalibai su nuna ayyukan da suka kammala a lokacin gwaji.

Aikin Gida

A ba dalibai aikin gida don bita da gwajin abin da suka koya.

Manufa: Dalibai za su yi lissafin debewa ta hanyar amfani da abubuwan kirge.

Kayan Aiki: Abubuwan kirge (wake da tsakuwoyi)

Lokaci: Minti 35

Fara Darasi

Duba aikin gida (minti 2)

- Gaggauta duba aikin gida. A fada wa dalibai sakamankonsu sannan a karfafa masu gwiwa.

Waka (minti 3)

- A yi ta rera wakar tare da dalibai.

Oyoyo oyoyo

Oyoyo Baba ya dawo

Ya dawo daga kasuwa

Ya sawo muna goriba

Ni an bani guda huɗu

Na ci daya saura uku

In ya ci daya saura biyu

In ta ci daya saura daya

In ka ci daya ba ko daya

Koyo

Gabatarwa a kan lissafin debewa da tagwayen lambobi ta hanyar amfani da abubuwan kirge (minti 10)

- **Ka/ki ce:** *Yau, za mu yi debewa da tagwayen lambobi ta hanyar amfani da abubuwan kirge.*
- Dora abubuwan kirge guda 25 a kan teburi a gaban aji. A sa wani dalibi ko wata daliba ya/ta fito gaban aji domin kirga abubuwan kirgen. A sa ya/ta rubuta adadin a kan allo.
- **Ka/ki ce:** *Yanzu kuma ina so in debe abubuwan kirge guda 21.*
- A sa wani/wata dalibi/adaliba daban ya/ta fito gaban aji a kwashe 21 daga cikin abubuwan kirgen da ke kan teburi.
- A tambayi dalibai saura nawa ne suka rage.
- **Ka/ki ce:** *Mun fara da abubuwan kirge guda 25, sannan muka dauke 21. Yanzu saura abubuwan kirge guda 4.*
- Rubuta fasalin lissafi $25 - 21 = 4$ a kan allo.
- **Ka/ki ce:** *25 a debe 21 ya zama 4.*
- Idan akwai sauran lokaci a maimaita da wani fasalin lissafin.

Gwaji

Aiki a kananan kungiyoyi: Lissafin debewa ta hanyar amfani da abubuwan kirge (minti 15)

- A sa dalibai su zauna cikin kananan kungiyoyi. Zaɓi shugaba daga kowane rukuni don su taimaka wajen raba abubuwan kirge wa 'yan kungiyoyinsu. Rubuta wannan fasalin lissafin $38 - 12 = \underline{\quad}$ a kan allo (Amsa:26)
- **Ka/ki ce:** *Dukkanku za ku yi aiki tare a matsayin rukuni domin gano amsar lissafin a kan allo. Da farko, akwai bukatar ku samar da tarin abubuwan kirge da adadinsu ya kai lambar farko da take cikin fasalin lissafin. (Amsa: 26)*
- Yi ta maimaita lissafin da aka bayar don a tabbatar dalibai sun ji dukkan lambobin da ake magana a kai.
- A sa dalibai su rubuta fasalin lissafin a cikin littafansu na rubutu a daidai kansu.
- Da zarar daliban su rubuta fasalin lissafin, a su hada kai wajen gano amsoshin. Su gwada gano amsoshin lissafin ta hanyar jera lissafin a tsaye da kwance.
- A zagaya lokacin da dalibai suke tara abubuwan kirgensu. A tabbatar da cewa a kowane tarin abubuwan kirge an samu 38.
- **Ka/ki ce:** *Yanzu kuma sai daya daga cikin daliban kowane rukuni ya/ta dauke abubuwan kirge 12.*
- **Ka/ki ce:** *Kirga abin da ya rage sannan a rubuta fasalin lissafin a cikin litattafan rubutu.*

Bayyanawa

Auna fahimta cikin gaggawa (minti 5)

- A sa dalibai su daga takardunsu don su nuna abin da suka rubuta. A yaba wa dalibai

Aikin Gida

A sa dalibai su yi amfani da tsakuwoyi ko wake a gida domin gano amsar wannan fasalin lissafi $20 - 10$. Su rubuta amsoshinsu a cikin littafin rubutunsu.

Manufa: Dalibai za su yi lissafin debewa ta hanyar amfani da layin lamba.

Kayan Aiki: Layin lambobi daga 0 zuwa 100

Lokaci: Minti 35

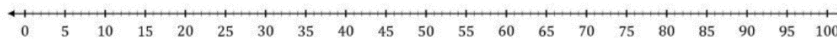
Fara Darasi

Duba aikin gida (minti 2)

- Gaggauta duba aikin gida. A fada wa dalibai sakamankonsu sannan a karfafa masugwiwa. (Amsa: 10)

Kidaya ta baya a kan layin lambobi (minti 5)

- Zana layin lambobi a kan allo daga 0 zuwa 100, tare da tsallaken 5.
- A sa dalibai su kirga daga baya su fara daga 10. Daga nan sai a ce su kidaya ta baya su fara daga 20.



Koyo

Gabatarwa a kan lissafin debewa na tagwayen lambobi ta hanyar amfani da layin lamba (minti 8)

- **Ka/ki ce:** *Yau, za mu ci gaba da debewa a tagwayen lambobi ta hanyar amfani da layin lamba.*
- Rubuta wannan fasalin lissafi $80 - 20 =$ a kan allo.
- **Ka/ki ce:** *Muna lissafin debewa ta hanyar amfani da layin lamba, za mu fara da zagaye lamba ta farko a cikin fasalin lissafin. Daga nan, sai mu fara kidaya ta baya a kan layin lambobin har sai mun kidaya yawan adadin da muke son debewa.*
- A sa wani dalibi ko wata daliba daban ya/ta fito gaban aji ya/ta zagaye lamba 80.
- A kidaya ta baya daga 80 tare da dukkan aji, ana motsa yatsa ko kuma alli a farkashin kowace lamba aka ambata.
- Yayin da yatsa ta zo kan lamba 60, a zagaye ta a kan allo.
- **Ka/ki ce:** *A cikin 80 a debe 20 saura 60.*
- Rubuta fasalin lissafi a kan allo.
- Idan akwai sauran lokaci a maimaita da wata aikin lissafin. A bar dalibai su zo gaban allo su rubuta fasalin lissafin.

Gwaji

Aiki daidaya ko cikin bibiyu: Debewa ta hanyar amfani da layin lambobi (minti 15)

- A ce daliban su bude littafin dalibai Shafi na 46. A karanta wa dalibai umurni a bayyane. A karasa gano aikin lissafin na farko tare da su.
- A sa dalibai su gano amsar fasalin lissafi na gaba da ke cikin littafin dalibai. Za su iya aiki a daidai ko da abokan aiki
- A zagaya domin lura da dalibai. Yayin da ake zagayawa, a riƙa tambayar dalibai yadda suka sami amsoshinsu. A tabbatar masu idan amsarsu daidai ne.

Bayyanawa

Auna fahimta cikin gaggawa (minti 5)

- A sa dalibai su daga takardunsu don su nuna abin da suka rubuta. A yaba wa dalibai.

Aikin Gida

A sa dalibai su kammala sauran aikin dake Shafi na 46 a cikin littafansu na rubutu a matsayin aikin gida.

Manufa: Dalibai za su yi lissafin debewa idan aka zuba lambobi a kwance ko a tsaye.

Kayan Aiki:

Lokaci: Minti 35

Fara Darasi

Duba aikin gida (minti 3)

- Gaggauta duba aikin gida. A fada wa dalibai sakamankonsu sannan a karfafa masu gwiwa.

Oyoyo oyoyo

Oyoyo Baba ya dawo

Ya dawo daga kasuwa

Ya sawo muna goriba

Ni an bani guda huɗu

Na ci daya saura uku

In ya ci daya saura biyu

In ta ci daya saura daya

In ka ci daya ba ko daya

Waka (minti 2)

- A yi ta rera wakar tare da dalibai.

Koyo

Debe lambobi masu kwalli 2 ta hanyar fasalin lissafi da za a jera lambobi a kwance (minti 7)

- Ka/ki ce:** *Yau za mu gwada debe lambobi masu kwalli 2 idan an jera su a kwance ko a tsaye.*
- Rubuta wannan fasalin lissafi $34 - 13 =$ a kan allo.
- Ka/ki ce:** *Yayin da za a yi lissafin debewa a kwance, muna bi daga hagu zuwa dama kuma muna farawa da wuraren daidaya. Daidaya guda nawa ake da su?*
- A kewaye 4 da 3. A tambayi dalibai nawa ne $4 - 3$. A rubuta lamba 1 a wurin daidaya a kan layi.
- Ka/ki ce:** *Daga nan kuma, sai mu debe lambobi da suke gidan goma-goma. Nawa ne $3 - 1$?*
- Kewaye 3 da 1. A tambayi dalibai nawa ne $3 - 1$. Rubuta lamba 2 a gidan goma-goma a kan layin.
- Ka/ki ce:** *34 a debe 13 ya zama 21.*

$$34 - 13 = 21$$

Debewa idan an zuba lambobi a tsaye (minti 8)

- Ka/ki ce:** *Kamar yadda muka yi lissafin debewa a kwance, muna farawa da debe lambobin da ke gidan daidaya.*
- Rubuta wannan fasalin lissafin $45 - 23 =$ a kan allo, sannan a tambayi dalibai nawa ne $5 - 3$. Rubuta 2 a kasan layi a gidan daidaya.
- Ka/ki ce:** *Daga nan kuma, sai mu debe lambobi da suke gidan goma-goma daga sama zuwa kasa. Nawa ne $4 - 2$?*
- Rubuta lamba 2 a kasan layi a gidan goma-goma.
- Ka/ki ce:** *45 a debe 23 ya zama 22.*

$$\begin{array}{r} 45 \\ - 23 \\ \hline 22 \end{array}$$

Gwaji

Aiki daidaya ko cikin bibiyu: Debewa a cikin lambobin da aka jera su a kwance da kuma a tsaye (minti 10)

- A ce daliban su bude littafin dalibai Shafi na 47. A karanta wa dalibai umurni a bayyane. A karasa gano aikin lissafi na farko tare da su.
- A sa dalibai su gano amsar fasalin lissafi na gaba da ke cikin littafin dalibai. Za su iya aiki a daidai ko da abokan aiki
- A zagaya domin lura da dalibai. Yayin da ake zagayawa, a rika tambayar dalibai yadda suka sami amsoshinsu. A tabbatar musu idan amsarsu daidai ne.

Bayyanawa

Auna fahimta cikin gaggawa (minti 5)

- A sa dalibai su daga takardunsu don su nuna abin da suka rubuta. A yaba wa dalibai.

Aikin Gida

A sa dalibai su kammala sauran aikin dake Shafi na 47 a cikin littafansu na rubutu a matsayin aikin gida.

Manufa: Dalibai za su gano amsar lissafi ta hanyar debewa.

Kayan Aiki:

Lokaci: Minti 35

Fara Darasi

Duba aikin gida (minti 3)

- Gaggauta duba aikin gida. A fada wa dalibai sakamakonsu sannan a karfafa masu gwiwa.

Waka (minti 2)

- A yi ta rera wakar tare da dalibai.

Oyoyo oyoyo

Oyoyo Baba ya dawo

Ya dawo daga kasuwa

Ya sawo muna goriba

Ni an bani guda huɗu

Na ci daya saura uku

In ya ci daya saura biyu

In ta ci daya saura daya

In ka ci daya ba ko daya

Koyo

Gano amsar lissafi ta hanyar debewa (minti 10)

- Bayar da wannan labarin: Yakaka da Laraba suna yini suna wasa a filin gida. Suka debi itatuwa da ganyayyakin bishiya da wuri da dai tarkacen kananan abubuwa tsubi-tsubi a filin gidan. Wani lokaci sukan gayyato abokansu don su yi wasa sannan su bayar da waɗannan wurin. A yau Yakaka da Laraba sun tara wuri 97 sannan kuma suka ba ma abokansu 35. Yanzu sauransu wuri nawa?
- A nemi daliban su fito gaban aji domin kwatanta aiwatar da labarin. A sa daliban su fitar da fasalin lissafin da ya dace da labarin, sannan a ce su rubuta a kan allo.
- Ka/ki ce:** *An tara wuri 97 gabadaya, amma kuma an bayar da 35 ga abokai. Idan muna so mu gano nawa ne ya rage, sai mu debe 35 daga cikin 97.*
- A tabbatar fasalin lissafin da aka rubuta ya zama kamar haka $97 - 35 = \underline{\quad}$.
- A umurci wani dalibi ko wata daliba ya/ta fito gaban allo domin nuna yadda za a tara lambobin idan aka zuba su a kwance.
- A sa wani dalibi ko wata daliba kuma ya/ta fito gaban allo domin nuna yadda za a tara lambobin idan aka zuba su a kwance
- A yi amfani da jaddawalin dari-dari ko layin lambobi wajen kirge ta baya tare da dukkan 'yan aji don a tabbatar da amsar: $97 - 35 = 62$.

Gwaji

Aikin kananan rukunoni: Gano amsar lissafita hanyar debewa (minti 15)

- A sa dalibai su zauna cikin kananan kungiyoyi sannan su bude littafin dalibai wurin da aka yi maganar jaddawalin lambobi ko layin lambobi.
- Ka/ki ce:** *Ado yana da alawa 68 wadda ya sayo domin ya raba wa 'yan ajinsu. Ya raba alewa 41 wa 'yan ajin nasu a wannan ranar. Yanzu alewa nawa ne ta rage wa Ado? (Amsa: 27)*
- Yi ta maimaita lissafin da aka bayar don a tabbatar dalibai sun ji dukkan lambobin da ake magana a kai.
- A sa dalibai su rubuta fasalin lissafin a cikin littafansu na rubutu a daidai kansu.
- Da zarar daliban su rubuta fasalin lissafin, su hada kai wajen gano amsoshin. Su gwada gano amsoshin lissafin ta hanyar jeralissafin a tsaye da a kwance.
- A zagaya domin lura da dalibai don a bayar da tallafi. Idan akwai lokaci, a maimaita da wata wani aikin lissafin.

Bayyanawa

Auna fahimta cikin gaggawa (minti 5)

- A sa dalibai su nuna amsoshinsu ga 'yan wani rukuni sannan su tattauna yadda suka sami amsar.

Aikin Gida

A sa dalibai su gano amsar wannan lissafin $81 - 10 =$ a cikin litattafansu na rubutu.

Manufofi: Dalibai za su yi bita da gwajin aikin da aka gabatar a makon.

Kayan Aiki:

Lokaci: Minti 35

Fara Darasi

Duba aikin gida (minti 3)

- Gaggauta duba aikin gida. A faɗa wa dalibai sakamakonsu sannan a karfafa masu gwiwa. (Amsa: 71)

Oyoyo oyoyo Oyoyo Baba ya dawo Ya dawo daga kasuwa Ya sawo muna goriba Ni an bani guda huɗu	Na ci ɗaya saura uku In ya ci ɗaya saura biyu In ta ci ɗaya saura ɗaya In ka ci ɗaya ba ko ɗaya
---	--

Waka (minti 2)

- A yi ta rera waƙar tare da dalibai.

Koyo

Bita da maimaitawa (minti 10)

- Zabi wani labari daga ayyukan mako da ake ganin kamar dalibai suna fama da shi. A sake maimaita koyar da shi ko kuma a koyar da shi ta wata hanyar daban.

Gwaji

Aiki a daidaiƙu ko cikin kananan kungiyoyi: Tara lambobi masu kwalli 2 da ragowa (minti 15)

- A ba dalibai wani aiki wanda zai taimaka musu gwajin abin da ake bita a kansa (Misali, ɗebewa ta hanyar amfani da layin lambobi). Dalibai za su iya yin aiki a daidaiƙunsu ko kuma cikin kungiyoyi.
- Yayin da dalibai suke mayar da hankalinsu a kan aikinsu, a samar da taimako ga masu bukata.

Bayyanawa

Auna fahimta da bayyanawa (minti 5)

- A sa dalibai su nuna ayyukan da suka kammala a lokacin gwaji.

Aikin Gida

A ba dalibai aikin gida don bita da gwajin abin da suka koya.

Manufofi: Dalibai su iya lissafin debewa da damin sanda da kuma iya ragowa.

Kayan Aiki: Damin sanduna

Lokaci: Minti 35

Fara Darasi

Duba aikin gida (minti 2)

- Gaggauta duba aikin gida. A faɗa wa dalibai sakamakonsu sannan a karfafa masu gwiwa.

Rera waƙar debewa

Manyan lambobin a sama, debe a ciki!
Manyan lambobin a kasa, tsaya mu yi aro.
Lambobin da suke iri ɗaya?
Amsar ta zamo sifil!

Rera waƙa (minti 3)

- Ku yi ta rera waƙar tare da dalibai.

Koyo

Gabatar da debewa ta tagwayen-lamba ta amfani da sanduna da gidan goma (minti 10)

- **Ka/ki ce:** *Yau, za mu gwada debe tagwayen-lambobi da kuma ragowa. Za mu yi amfani da damin goma ya taimaka mana.*
- Kira wani dalibi zuwa gaban aji a ba shi damin goma na sanduna. A ce masa ya kirga su ɗauri ɗauri a samu jimillar sandunan.
- **Ka/ki ce:** *Muna da sanduna 40, ko kuma damin goma guda 4. Ina son bayar da sanda 28 daga cikinsu. Yaya zan rubuta fasalin lissafin?*
- A kira wani dalibin ya je kan allo ya rubuta fasalin lissafin $40 - 28 = \underline{\quad}$.
- Nuna wa dalibai yadda za a cire sanda 20 (ɗaurin dami 2) daga 40 (ɗaurin dami 4). Za a sami sauran sanda 20 (ɗaurin dami 2). Sannan sai a nuna masu yadda za a kunce sauran damin goma 2 su koma sanduna 20 sai a cire sanda 8. Za a sami sanda 12 da za su yi saura. Amsar ta zama 12 kenan.
- A kuma kira wani dalibi ya kirga sauran sandunan.
- Rubuta fasalin lissafin $40 - 28 = 12$ a kan allo.

Gwaji

Aiki cikin karamin rukuni : debewa da ragowa ta amfani da damin goma (minti 15)

- Dalibai su zazzauna a kananan kungiyoyi. Zabi shugaba a kowane rukuni ya taimaka wajen ba rukuninsu saunduna ɗaurin damin goma guda 3.
- Rubuta fasalin lissafin $21 - 12 = \underline{\quad}$ a kan allo sai dalibai su kwafa.
- Dalibai su san cewa za su yi aiki tare ta amfani da ɗaurin dami wajen samun amsa.
- **Ka/ki ce:** *Da farko, mutum zai yi tunanin adadin sandunan da ake bukata. Sannan, sai a debe 12 daga ciki.*
- A kewaye a ga abin da daliban ke yi da kuma taimaka masu .

Bayyanawa

Auna fahimta da bayyanawa (minti 5)

- A ce kungiyoyin su nuna wa juna amsarsu sannan su tattauna kan yadda suka samo amsa.

Aikin Gida

A ce dalibai su ba da amsar $42 - 33$ cikin littafin rubutunsu.

Manufa: Dalibai za su iya lissafin debewa ta amfani da faɗaɗa fasalin lamba.

Kayan Aiki:

Lokaci: Minti 35

Fara Darasi

Duba aikin gida (minti 2)

- Gaggauta duba aikin gida. A faɗa wa dalibai sakamakonsu sannan a karfafa masu gwiwa. (Amsa: 9)

Rera waka (minti 3)

- Ku yi ta rera wakar tare da dalibai.

Rera wakar debewa

Manyan lambobin a sama, debe a ciki!
Manyan lambobin a kasa, tsaya mu yi aro.
Lambobin da suke iri ɗaya?
Amsar ta zamo sifil!

Koyo

Gabatar da lissafin debewa ta amfani da faɗaɗa fasalin lamba (minti 10)

- Ka/ki ce:** *Yau za mu koyi debe lambobi ta hanyar faɗaɗa fasalin lamba da kuma ragowa.* 82 – 14
- Rubuta fasalin lissafin 82-14 a kan allo. · 80 + 2
- Ka/ki ce:** *Idan za mu yi lissafin debewa na 82 – 14, za mu fara da kowace lamba ta hanyar faɗaɗa fasalinta.* - 10 + 4
- Nuna wa dalibai yadda za a faɗaɗa 82 zuwa gidan goma 8 da gidan ɗaya 2. Sannan, a kira wani dalibin ya je kan allo ya rubuta faɗaɗa fasalin 14. $\begin{array}{r} 70 \quad 12 \\ 80 + 2 \\ \hline \end{array}$
- Ka/ki ce:** *Idan muna son mu yi lissafin debe lambobi fasalinsu a faɗaɗe, da farko za mu bukaci mu debe a cikin lambobi biyu da ke gidan ɗaya. Mene ne amsar 2 - 4? Kash ba zai yiwu ba!* - 10 + 4
- Yi amfani da yatsu a nuna wa dalibai cewa ba za su iya debe 4 daga cikin 2 ba. 60 + 8 = 68
- Ka/ki ce:** *Tun da lambar da ke gidan ɗaya na kasa ta ɗara wadda take a gida na sama, dole mu yi wani abu da ake kira aro. Kamar dai yadda muke faɗaɗa gidan goma mu sami daidai, haka za mu yi aron goma ɗaya daga gidan goma.*
- Bayyana wa dalibai cewa yadda za a sami goma, shi ne za su cire goma daga gidan goma sai su kara wa gidan ɗaya.
- Ka/ki ce:** *80 – 10 shi ne 70, kuma 2 + 10 shi ne 12. Yanzu za a sami daidai a gidan ɗaya na sama da za su ɗara na gidan kasa, sai a ci gaba da lissafi! Nawa ne 12-4?*
- Rubuta 8 a layin kasa karkashin gidan ɗaya.
- Ka/ki ce:** *Nawa ne 70 – 10?*
- Rubuta 60 a layin kasa karkashin gidan goma, sai a yi lissafin fasalin: $60 + 8 = 68$

Gwaji

Aiki daidai ko bibbiyu: Debewa ta amfani da faɗaɗa lamba (minti 15)

- A sa su buɗe Shafi na 48 da ke littafinsu. Karanta wa dalibai umarnin su ji. Ku amsa tambayar farko tare.
- Sa dalibai su amsa tambaya ta gaba. Za su iya aiki daidai ko kuma su bibbiyu.
- A kewayar ga abin da daliban ke yi da kuma taimaka masu.

Bayyanawa

Gaggauta auna fahimci (minti 5)

- A sa dalibai su ɗaga takardarsu sama su nuna abin da suka rubuta. A yaba musu.

Aikin Gida

A sa dalibai su kammala sauran aikin dake Shafi na 48 a cikin littafansu na rubutu a matsayin aikin gida.

Manufa: Dalibai za su iya lissafin debewa ta tsaye.

Kayan Aiki:

Lokaci: Minti 35

Fara Darasi

Duba aikin gida (minti 2)

- Gaggauta duba aikin gida. A fada wa dalibai sakamankonsu sannan a karfafa masu gwiwa.

Rera wakar debewa

Manyan lambobin a sama, debe a ciki!
Manyan lambobin a kasa, tsaya mu yi aro.
Lambobin da suke iri daya?
Amsar ta zamo sifil!

Rera waka (minti 3)

- Ku yi ta rera wakar tare da dalibai.

Koyo

Gabatar da lissafin debewa ta tsaye (minti 10)

- Ka/ki ce:** *Yau za mu koyi yadda ake debe lambobi da ragowa.* 55 – 26
- Rubuta fasalin lissafin $55 - 26 = \underline{\quad}$ a kan allo.
- Ka/ki ce:** *Idan za mu debe lambobi, za mu fara da debewar da lamba biyu da ke gidan daya. Za mu bi hanyar tsaye wajen debewar. Nawa ne $5 - 6$? Kash, ba zai yiwu ba! Lambar da ke kasa ta fara ta sama, dole mu je gidan goma mu yi aro!* $\begin{array}{r} 55 \\ - 26 \\ \hline 4 \ 15 \end{array}$
- Nuna wa dalibai yadda za a share 5 din da ke gidan goma a rubuta 4. Muna da goma 5 a gidan goma, yanzu saura 4. Gaba, sai mu tara goma daya da 5. $10 + 5 = 15$. $\begin{array}{r} 15 \\ - 26 \\ \hline \end{array}$
- Ka/ki ce:** *Yanzu gidan daya na sama ya fara na kasa, sai mu ci gaba da lissafi!* 29
Nawa ne $15 - 6$?
- Rubuta 9 a layin kasa karkashin gidan daya.
- Ka/ki ce:** *Yanzu, sai mu debe na gidan goma. Mun rage goma daya a sama sabanin kafin mu fara lissafi, don haka nawa ne $4 - 2$?*
- Rubuta 3 a layin kasa karkashin gidan, sai mu yi lissafin fasalin: $55 - 26 = 29$.

Gwaji

Aiki daidai ko bibbiyu: Debewa ta tsaye da ragowa (minti 15)

- A sa su buɗe Shafi na 49 da ke littafinsu. Karanta wa dalibai umarnin su ji. Ku amsa tambayar farko tare.
- Sa dalibai su amsa tambaya ta gaba. Za su iya aiki daidai ko kuma su bibbiyu.
- A kewayar a ga abin da daliban ke yi da kuma taimaka masu.

Bayyanawa

Gaggauta auna fahimci (minti 5)

- A sa dalibai su daga takardarsu sama su nuna abin da suka rubuta. A yaba masu.

Aikin Gida

A sa dalibai su kammala sauran aikin dake Shafi na 49 a cikin littafansu na rubutu a matsayin aikin gida.

Manufa: Dalibai su iya warware aikin lissafin debewa na cikin labari.

Kayan Aiki:

Lokaci: Minti 35

Fara Darasi

Duba aikin gida (minti 2)

- Gaggauta duba aikin gida. A fada wa dalibai sakamakonsu sannan a karfafa masu gwiwa.

Rera wakar debewa

Manyan lambobin a sama, debe a ciki!
Manyan lambobin a kasa, tsaya mu yi aro.
Lambobin da suke iri ɗaya?
Amsar ta zamo sifil!

Rera waka (minti 3)

- Ku yi ta rera wakar tare da dalibai.

Koyo

Warware aikin lissafin debewa da ragowa (minti 10)

- Ba dalibai wannan labari: Malami yana da karin fensira 51. Dalibai 28 suka bukaci aron fensir a wannan rana. Fensura nawa za su rage a gun malamin? 51
- Kira dalibi 1 ku gwada aiwatar da labarin tare. Sa dalibin ya rubuta fasalin lissafin da ake bukata wajen warware aikin lissafin a kan allo. - 28
- Ka/ki ce:** Malamin yana da fensur 51 sai ya bai wa dalibai 28 su yi amfani da su. Idan muna son sanin nawa suka yi masa saura, sai mu cire 28 daga 51. 4 ||
- Tabbata fasalin nan $51 - 28 = \underline{\quad}$ yana rubuce a kan allo. 31
- A kira wani dalibin ya je kan allo ya samar da amsar fasalin. - 28
- Taimaka yayin yin aro. 23

Gwaji

Aiki cikin karamin rukuni : Warware aikin lissafi ta debewa (minti 15)

- Dalibai su zazzauna a kananan rukunoni.
- Ka/ki ce:** Dan Jummai yana da alewa guda 68 da ya kawo ya raba shi da 'yan aji. Ya raba wa 'yan ajinsa alewa 39 a wannan rana. Alewa nawa suka rage ma Dan Jummai? (Amsa: 29)
- Yi ta maimaita lissafin da ke cikin labarin ta yadda za su fahimci abin da ake fada.
- Sa kowane dalibi ya rubuta fasalin lissafin labarin a cikin littafinsa na rubutu.
- Da zarar kowane dalibi ya rubuta fasalin, sai a sa su yin aikin tare wajen samar da amsa. Su gwada warware aikin lissafin ta hanyar lissafi a tsaye da kwance.
- A kewayaya a ga abin da daliban ke yi da kuma taimaka masu. Idan da lokaci, a sake bada wani aikin warware lissafi.

Bayyanawa

Auna fahimta da bayyanawa (minti 5)

- Sa daliban su bayyana wa juna abin da suka yi a rukuninsu.

Aikin Gida

A ce wa dalibai su ba da amsar $43 - 18 = \underline{\quad}$ cikin littafin rubutunsu aikin gida.

Manufofi: Dalibai su iya bita da gwajin aikin da aka gabatar a makon.

Kayan Aiki:

Lokaci: Minti 35

Fara Darasi

Duba aikin gida (minti 2)

- Gaggauta duba aikin gida. A faɗa wa ɗalibai sakamakonsu sannan a karfafa masu gwiwa. (Amsa: 25)

Rera wakar debewa

Manyan lambobin a sama, debe a ciki!
Manyan lambobin a kasa, tsaya mu yi aro.
Lambobin da suke iri ɗaya?
Amsar ta zamo sifil!

Rera waka (minti 3)

- Ku yi ta rera wakar tare da ɗalibai.

Koyo

Bitar da maimaitawa (minti 10)

- Zabi wani labari daga ayyukan mako da ake ganin kamar ɗalibai suna fama da shi. A sake maimaita koyar da shi ko kuma a koyar da shi ta wata hanyar daban.

Gwaji

Aiki ɗaiɗai ko a cikin rukuni : Debewa da tagwayen-lamba da kuma ragowa (minti 15)

- Ba ɗalibai jingar za ta taimaka masu su gwada abin da aka yi masu bita a kai (misali, lissafin debewa ta tsaye ko ta kwance).
- Dalibai za su iya yin aiki a ɗaiɗaikunsu ko kuma cikin kananan kungiyoyi.
- A yayin da ɗalibai suka mayar da hankali kan yin aikin jingar, a taimaka wa ɗaliban da suke bukatar matuƙar taimako.

Bayyanawa

Auna fahimta da bayyanawa (minti 5)

- A sa ɗalibai su nuna aikin da suka kammala yayin gwaji.

Aikin Gida

A ba ɗalibai aikin gida da za su yi bita da kuma nuna kwarewarsu.

Manufofi: Dalibai su iya lissafin debewa ta amfani da abubuwan kirge da kuma sauya-suna.

Kayan Aiki: Damin sanduna

Lokaci: Minti 35

Fara Darasi

Duba aikin gida (minti 2)

- Gaggauta duba aikin gida. A fada wa dalibai sakamankonsu sannan a karfafa masu gwiwa.

Rera waka (minti 3)

- Ku yi ta rera wakar tare da dalibai.

Rera wakar debewa

Manyan lambobin a sama, debe a ciki!

Manyan lambobin a kasa, tsaya mu yi aro.

Lambobin da suke iri daya?

Amsar ta zamo sifil!

Koyo

Gabatar da debe tagwayen-lambobi ta amfani da sanduna da damin goma (minti 10)

- **Ka/ki ce:** *Yau, za mu gwada debe tagwayen-lambobi da ragowa. Za mu yi amfani da damin goma ya taimaka mana.*
- Kira wani dalibi zuwa gaban aji a ba shi damin goma 5 na sanduna. A ce masa ya kwance daurin ya kirga su a sami jimillar sandunan.
- **Ka/ki ce:** *Muna da sanduna 50, ko damin goma 5. Ina son bayar da sanda 39 daga ciki. Yaya zan rubuta fasalin lissafin?*
- A kira wani dalibin ya je kan allo ya rubuta fasalin lissafin $50 - 39 = \underline{\quad}$.
- Nuna wa dalibai yadda za a cire 30 (daurin dami 3) daga 50 (5 daurin dami). Za a sami sanda 20 da za su yi saura (daurin dami 2). Sannan a nuna yadda za a fadada sauran daurin dami 2 su kama daidai, sai a cire 9 daga cikinsu. Za a sami sanda 11 saura. Amsar ita ce 11.
- A kuma kira wani dalibi ya kirga sauran sandunan.
- Rubuta fasalin lissafin $50 - 39 = 11$ a kan allo.

Gwaji

Aiki cikin karamar rukuni : debewa da ragowa ta amfani da damin goma (minti 15)

- Dalibai su zazzauna a kananan kungiyoyi. Zabi shugaba a kowane rukuni ya taimaka wajen raba wa rukuninsa daurin dami 2 na sanduna.
- Rubuta fasalin lissafin $20 - 18 = \underline{\quad}$ a kan allo sai dalibai su kwafa.
- Dalibai su san cewa za su yi aiki tare ta amfani da daurin dami wajen bada amsa.
- **Ka/ki ce:** *Da farko, mutum zai yi tunanin adadin sandunan da ake bukata. Sannan, sai a debe 18 daga cikin su.*
- A kewaye a ga abin da daliban ke yi da kuma taimaka masu.

Bayyanawa

Auna fahimta da bayyanawa (minti 5)

- A ce wa kungiyoyin su nuna wa juna amsarsu sannan su tattauna kan yadda suka samo amsar.

Aikin Gida

A ce wa dalibai su ba da amsar $51 - 35$ cikin littafin rubutunsu.

Manufa: Dalibai za su iya lissafin debewa ta amfani da Fadada fasalin lamba.

Kayan Aiki:

Lokaci: Minti 35

Fara Darasi

Duba aikin gida (minti 2)

- Gaggauta duba aikin gida. A fada wa dalibai sakamankonsu sannan a karfafa masu gwiwa. (Amsa: 16)

Rera waka (minti 3)

- Ku yi ta rera wakar tare da dalibai.

Rera wakar debewa

Manyan lambobin da ke sama, debe a ciki!
Manyan lambobin da ke kasa, tsaya mu yi aro.
Lambobin da suke iri daya?
Amsar ta zamo sifil!

Koyo

Gabatar da lissafin debewa ta amfani da fadada fasalin lamba (minti 10)

- Ka/ki ce:** *Yau za mu koyi yadda ake debe lambobi ta hanyar fadada lambobi da ragowa.*
- Rubuta fasalin lissafin $65-29 = \underline{\quad}$ a kan allo.
- Ka/ki ce:** *Idan za a yi lissafin nan $65-29$, da farko, za mu rubuta lambobin a fadade.* $65 - 29 = \underline{\quad}$
- Nuna wa dalibai yadda za a fadada 65 zuwagidan goma 6 da gidan daya 5. Sannan, a kira wani dalibin ya je kan allo ya rubuta 29 cikin fasalinsa a fadade.
$$\begin{array}{r} 60 + 5 \\ - 20 + 9 \\ \hline \end{array}$$
- Ka/ki ce:** *Idan za mu debe lambobi cikin fasalinsu a fadade, za mu fara da debewar da lamba biyu da ke gidan daya. Nawa ne 5-9? Kash, ba zai yiwu ba!*
$$\begin{array}{r} 50 \quad 15 \\ - 60 + 5 \\ - 20 + 9 \\ \hline 30 + 6 = 36 \end{array}$$
- Nuna wa dalibai cewa ba za iya debe 9 cikin 5 ba da yatsu.
- Ka/ki ce:** *Lambar da ke kasa ta dara ta sama, dole mu je gidan goma mu yi aro! Kamar yadda muke fadada gidan goma mu samar da daidai a gidan daya, haka za mu yi aro goma daya daga gidan goma.*
- Bayyana wa dalibai cewa yadda za a sami goma, shi ne za su cire goma daga gidan goma sai su kara wa gidan daya.
- Ka/ki ce:** *$60 - 10$ shi ne 50, kuma $5+10$ shi 15. Yanzu gidan daya na sama ya dara na kasa, sai mu ci gaba da lissafi! Nawa ne 15-9?*
- Rubuta 6 a layin kasa a karkashin gidan daya.
- Ka/ki ce:** *Nawa ne $50 - 20$?*
- Rubuta 30 a layin kasa, sai mu yi lissafin fasalin: $30 + 6 = 36$

Gwaji

Aiki daidai ko bibbiyu: Debewa ta amfani da fadada lamba (minti 15)

- A sa su buɗe Shafi na 50 da ke littafinsu. Karanta wa dalibai umurnin su ji. Ku amsa tambayar farko tare.
- Sai dalibai su amsa tambaya ta gaba. za su iya aiki daidai ko kuma su bibbiyu.
- A kewayar ga abin da daliban ke yi da kuma taimaka masu.

Bayyanawa

Gaggauta auna fahimci (minti 5)

- A sa dalibai su daga takardarsu sama su nuna abin da suka rubuta. A yaba masu.

Aikin Gida

A sa dalibai su kammala sauran aikin dake Shafi na 50 a cikin littafansu na rubutu a matsayin aikin gida.

Manfoa: Dalibai su iya debewa ta tsaye.

Kayan Aiki:

Lokaci: Minti 35

Fara Darasi

Duba aikin gida (minti 2)

- Gaggauta duba aikin gida. A faɗa wa dalibai sakamakonsu sannan a karfafa masu gwiwa.

Rera waka (minti 3)

- Ku yi ta rera wakar tare da dalibai.

Rera wakar debewa

Manyan lambobin a sama, debe a ciki!

Manyan lambobin a kasa, tsaya mu yi aro.

Lambobin da suke iri ɗaya?

Amsar ta zamo sifil!

Koyo

Gabatar da lissafin debewa ta tsaye (minti 10)

- **Ka/ki ce:** *Yau za mu koyi yadda ake debe lambobi da ragowa.* $36 - 17 = \underline{\quad}$
- Rubuta fasalin lissafin $36 - 17 = \underline{\quad}$ a kan allo.
- **Ka/ki ce:** *Idan za mu debe lambobi, za mu fara da debewar da lamba biyu da ke gidan ɗaya. Za mu bi hanyar tsaye wajen debewar. Nawa ne $6 - 7$? Kash, ba zai yiwu ba! Lambar kasa ta ɗara ta sama, dole mu je gidan goma mu yi aro!*

$$\begin{array}{r} 36 \\ - 17 \\ \hline \end{array}$$
- Nuna wa dalibai yadda za ku shafe 3 da ke gidan goma, a rubuta 2. Akwai goma 3 a baya, amma yanzu sun zama goma 2. Gaba, sai a tara gidan goma 1 da gidan ɗaya $6. 10 + 6 = 16$.

$$\begin{array}{r} 2 \ 16 \\ - 17 \\ \hline 19 \end{array}$$
- **Ka/ki ce:** *Yanzu gidan ɗaya na sama ya ɗara na kasa, sai mu ci gaba da lissafi! Nawa ne $16 - 7$?*
- Rubuta 9 a layin kasa karkashin gidan ɗaya.
- **Ka/ki ce:** *Yanzu, sai mu debe lambobin gidan goma. Mun rage goma ɗaya a sama kafin mu fara lissafi, don haka nawa ne $2 - 1$?*
- Rubuta 1 a layin kasa, sai mu yi lissafin fasalin: $36 - 17 = 19$.

Gwaji

Aiki ɗaidai ko bibbiyu: Debewa ta tsaye da ragowa (minti 15)

- A sa su buɗe Shafi na 51 da ke littafinsu. Karanta wa dalibai umarnin su ji. Ku amsa tambayar farko tare.
- Sa dalibai su amsa tambaya ta gaba. za su iya aiki ɗaidai ko kuma su bibbiyu.
- A kewaye a ga abin da daliban ke yi da kuma taimaka musu.

Bayyanawa

Gaggauta auna fahimci (minti 5)

- A sa dalibai su ɗaga takardarsu sama su nuna abin da suka rubuta. A yaba musu.

Aikin Gida

A sa dalibai su kammala sauran aikin dake Shafi na 51 a cikin littafansu na aiki a matsayin aikin gida.

Manufofi: Dalibai su iya warware aikin lissafin debewa na cikin labari.

Kayan Aiki:

Lokaci: Minti 35

Fara Darasi

Duba aikin gida (minti 2)

- Gaggauta duba aikin gida. A fada wa dalibai sakamakonsu sannan a karfafa masu gwiwa.

Rera wakar debewa

Manyan lambobin a sama, debe a ciki!
Manyan lambobin a kasa, tsaya mu yi aro.
Lambobin da suke iri daya?
Amsar su ta zamo sifili!

Rera waka (minti 3)

- Ku yi ta rera wakar tare da dalibai.

Koyo

Warware aikin lissafin debewa da ragowa (minti 10)

- Karanta wannan labari: Akwai awaki 66 a wurin kiyo. Sai manomi ya kai 7 ya sayar. 66
Awaki nawa suka yi saura a wurin kiwon? - 7
- Kira wani dalibi ya je gaban aji ya gwada aiwatar da labarin. Sa dalibin ya rubuta fasalin lissafin da ake bukata wajen warware aikin lissafin a kan allo. 5 16
- **Ka/ki ce:** Akwai shanu 66 sai aka dauke 7 aka sayar. Idan muna son sanin adadin shanun da suka yi saura, sa a debe 7 cikin 66. ~~66~~
- Tabbata fasalin $66 - 7 = \underline{\quad}$ na rubuce a kan allo. - 7
- A kira wani dalibin ya je kan allo ya samar da amsar fasalin. 59
- Bayyana wa dalibai cewa idan babu wata lamba a gidan goma ko gidan daya sai a kaddara cewa akwai 0 a gurbin. Misali, babu wata lamba a gidan goma da ke kusa da 7, don haka sai mu kaddara rubuta "07".
- Taimaka wa dalibai yayin yin aro.

Gwaji

Aiki cikin karamar rukuni : Warware aikin lissafi ta amfani da debewa (minti 15)

- Dalibai su zazzauna a kananan kungiyoyi.
- **Ka/ki ce:** Awal yana da alawa 43 da ya kawo don nuna wa 'yan aji. Ya raba wa abokansa alawa 24 a wannan rana. Alawa nawa suka yi wa Auwal saura? (Amsa: 19)
- Yi ta maimaita lissafin aikin lissafin da ke cikin labarin ta yadda za su fahimci abin da ake fada.
- Sa kowane dalibi ya rubuta fasalin lissafin labarin a cikin littafinsa na aiki.
- Da zarar kowane dalibi ya rubuta fasalin, sai a su yin aikin tare wajen samo amsa. Su gwada warware aikin lissafin ta hanyar lissafi tsaye da kwance.
- A kewaye a ga abin da daliban ke yi da kuma taimaka musu. Idan da lokaci, a sake bada wani aikin warware aikin lissafi.

Bayyanawa

Auna fahimta da bayyanawa (minti 5)

- Sa daliban su bayyana wa juna abin da suka yi a rukuninsu.

Aikin Gida

A ce wa dalibai su ba da amsar $81 - 22 = \underline{\quad}$ cikin littafin rubutunsu. .

Manufofi: Dalibai za su iya bita da gwajin aikin da aka gabatar a makon.

Kayan Aiki:

Lokaci: Minti 35

Fara Darasai

Duba aikin gida (minti 2)

- Gaggauta duba aikin gida. A faɗa wa ɗalibai sakamakonsu sannan a karfafa masugwiwa. (Amsa: 59)

Rera wakar debewa

Manyan lambobin a sama, debe a ciki!
Manyan lambobin a kasa, tsaya mu yi aro.
Lambobin da suke iri ɗaya?
Amsar su ta zamo sifili!

Rera waka (minti 3)

- Ku yi ta rera wakar tare da ɗalibai.

Koyo

Bitu da maimaitawa (minti 10)

- Zabi wani batu daga ayyukan mako da ake ganin kamar ɗalibai suna fama da shi. A sake maimaita koyar da shi ko kuma a koyar da shi ta wata hanyar daban.

Gwaji

Aiki ɗaiɗai ko a cikin rukuni : Debewar tagwayen-lamba da kuma sauya-suna (minti 15)

- Baɗalibai jingar da za ta taimaka musu su gwada abin da aka yi musu bita a kai (misali, lissafin debewa ta tsaye ko ta kwance).
- ɗalibai za su iya yin aiki a ɗaiɗaikunsu ko kuma cikin kananan kungiyoyi.
- A yayin da ɗalibai suka mayar da hankali kan yin aikin jingar, a taimaka wa ɗaliban da suke bukatar matukar taimako.

Bayyanawa

Auna fahimta da bayyanawa (minti 5)

- A sa ɗalibai su nuna aikin da suka kammala yayin gwaji.

Aikin Gida

A bai wa ɗalibai aikin gida da za su yi bita da kuma nuna kwarewarsu.

Darasin Lissafi Aji 2, Zango na 2, Mako na 12 – Jarrabawar karshen Zango

Tara waƙannan lambobin. (A bayar da maki uku ga kowace amsa)

$$\begin{array}{r} 28 \\ + 64 \\ \hline \end{array} \qquad \begin{array}{r} 11 \\ + 49 \\ \hline \end{array}$$

Debe waƙannan lambobin. (A bayar da maki uku ga kowace amsa)

$$\begin{array}{r} 54 \\ - 11 \\ \hline \end{array} \qquad \begin{array}{r} 61 \\ - 22 \\ \hline \end{array} \qquad \begin{array}{r} 75 \\ - 36 \\ \hline \end{array}$$

Manufa: Dalibai za su iya tara 3 ko fiye na tagwayen-lambobi ta kwance ko tsaye da ragowa.

Kayan Aiki:

Lokaci: Minti 35

Fara Darasi

Duba aikin gida (minti 2)

- Gaggauta duba aikin gida. A fada wa dalibai sakamakonsu sannan a karfafa masu gwiwa.

Rera waka (minti 3)

- Ku yi ta rera wakar tare da dalibai.

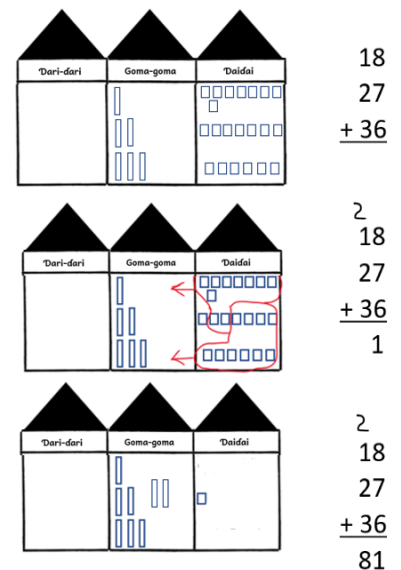
Rera wakar tarawa

Tarawa har zuwa tara ba damuwa. 10 ko fiye, dau sauran zuwa gidan gaba!

Koyo

Bitu: Tara 3 ko fiye na tagwayen-lambobi ta kwance ko tsaye da ragowa (minti 10)

- Ka/ki ce:** Yau, za mu tara tagwayen-lambobi 3 wuri daya.
- Rubuta fasalin lissafin $18 + 27 + 36 = \underline{\quad}$ a kan allo.
- Sa dalibai uku su je kan allo su cike gurbin kimar lamba da ke jirin jadawali da lambobin da suka dace na gidan goma da gidan daya na wadannan: 18, 27, and 36.
- Ka/ki ce:** Tun da yanzu an shigar da lambobin 3 duka cikin zanen, za mu iya tara su baki daya. Za mu fara da lambar da ke gidan daya.
- A sa dalibai su kirga yawan da'irorin da ke gidan daya.
- Ka/ki ce:** Akwai da'ira 21 a gidan daya. Me za mu yi?
- A kira wani dalibin ya je kan allo ya gwada yadda za a sauya daidai 20 su koma goma 2.
- Ka/ki ce:** Yanzu 1 ya rage a gidan daya, kuma an sami sabbin goma 2. $18 + 27 + 36 = 81$.
- gaba, rubuta fasalin lissafin na kwance da kuma na tsaye daidai. Fara da gidan daya sai a tambayi dalibai abin da $8+7+6$ ke nufi.
- A kira wani dalibin ya je kan allo ya gwada yadda za a tara lambobin gidan daya, ta sanya 1 a karkashin gidan daya, da daukar 2 zuwa gidan goma.
- A sa wani dalibi ya je kan allo ya tara lambobin da ke gidan goma.



Gwaji

Aiki daidai ko bibbiyu: Tara lamba 3 ko fiye na tagwayen-lambobi ta tsaye ko kwance (minti 15)

- Rubuta wannan fasalin lissafin a kan allo:
 $34 + 23 + 13 = \underline{\quad}$; $24 + 62 + 12 = \underline{\quad}$; $19 + 12 + 15 = \underline{\quad}$
- Umurci dalibai da su warware fasalin lissafin a cikin littafasnsu na rubutu. Za su iya aikin a daidai ko kuma a bibbiyu.
- A zagaya a kula da abin da dalibai suke yi. A yayin zagayawar, a tambaye su yadda suka sami amsa, a kuma tabbatar musa da amsar da take daidai.

Bayyanawa

Gaggauta auna fahimci (minti 5)

- A sa dalibai su daga takardarsu sama su nuna abin da suka rubuta. A yaba masu.

Aikin Gida

Umurci dalibai da su warware sauran fasalin lissafin da ke gwaji a cikin littafasnsu na rubutu. Za su iya aikin a daidai ko kuma a bibbiyu.

Manufa: Dalibai za su iya debewa ta tsaye ko kuma kwance.

Kayan Aiki:

Lokaci: Minti 35

Fara Darasi

Waka (minti 2)

- A yi ta rera wakar tare da dalibai.

Duba aikin gida (minti 3)

- Gaggauta duba aikin gida. A fada wa dalibai sakamakonsu sannan a karfafamasu gwiwa.

Oyoyo oyoyo Oyoyo Baba ya dawo Ya dawo daga kasuwa Ya sawo muna goriba Ni an bani guda huɗu	Na ci daya saura uku In ya ci daya saura biyu In ta ci daya saura daya In ka ci daya ba ko daya
---	--

Koyo

Debe tagwayen-lambobi ta fasalin lissafi kwance (minti 7)

- **Ka/ki ce:** *Yau za mu gwada debe tagwayen-lambobi ta kwance da kuma tsaye.* $85 - 43 = 42$
- Rubuta fasalin lissafin $85 - 43 = a$ kan allo.
- **Ka/ki ce:** *Idan za mu yi lissafin debewa ta kwance, za mu yi ne daga hagu zuwa dama, kuma za mu fara daga gidan daya. Gidan daya nawa ne a nan?*
- Kewaye 5 da 3. Tambayi dalibai me 5-3 ke nufi. Rubuta 2 a gidan daya bayan alamar daidaito.
- **Ka/ki ce:** *Gaba, sai mu debe lambobin da ke gidan goma. Nawa ne $8 - 4$?*
- Kewaye 8 da 4. Tambayi dalibai me 8-4 ke nufi. Rubuta 4 a gidan goma bayan alamar daidaito.
- **Ka/ki ce:** *85 a debe 43 daidai da 42.*

85
- 43
42

Debewa ta tsaye (minti 8)

- **Ka/ki ce:** Da farko za mu debe lambobin da ke gidan daya
- Rubuta fasalin lissafin $85 - 43 = a$ kan allo sai a tambayi nawa ne $5 - 3$. Rubuta 2 a layin kasa karkashin gidan daya.
- **Ka/ki ce:** *Gaba, sai mu debe lambar gidan goman da ke kasa daga gidan goma na sama. Nawa ne $8 - 4$?*
- Rubuta 4 a layin kasa karkashin gidan goma.
- **Ka/ki ce:** *85 a debe 43 daidai da 42.*

Gwaji

Aiki daidai ko a bibbiyu: Debewa ta tsaye da kuma ta kwance (minti 10)

- Rubuta wannan fasalin lissafin a kan allo:
 $34 - 23 = \underline{\quad}$; $19 - 16 = \underline{\quad}$; $26 - 15 = \underline{\quad}$
- Umurci dalibai da su warware sauran fasalin lissafin da ke gwaji a cikin littafasnsu na rubutu. Za su iya aikin a daidai ko kuma a bibbiyu.

Bayyanawa

Gaggauta auna fahimci (minti 5)

- A sa dalibai su daga takardarsu sama su nuna abin da suka rubuta. A yaba musu.

Aikin Gida

A sa dalibai su kammala sauran ayyukan gwaji a cikin littafansu na rubutu a matsayin aikin gida.

Manufofi: Dalibai za su iya debewa ta tsaye da ragowa.

Kayan Aiki:

Lokaci: Minti 35

Fara Darasi

Duba aikin gida (minti 2)

- Gaggauta duba aikin gida. A fada wa dalibai sakamakonsu sannan a karfafa masu gwiwarsu.

Rera wakar debewa

Manyan lambobin da ke sama, debe a ciki!
Manyan lambobin da ke kasa, tsaya mu yi aro.
Lambobin da suke iri daya?
Amsar ta zamo zama sifil!

Rera waka (minti 3)

- Ku yi ta rera wakar tare da dalibai.

Koyo

Gabatar da lissafin debewa ta tsaye (minti 10)

- Ka/ki ce:** *Yau za mu koyi yadda ake debe lambobi da sauya-suna.*
- Rubuta fasalin lissafin $48 - 29 = \underline{\quad}$ a kan allo.
- Ka/ki ce:** *Idan za mu debe lambobi, za mu fara da debewar da lamba biyu da ke gidan daya. Za mu bi hanyar tsaye wajen debewar. Nawa ne $8 - 9$? Kash, ba zai yiwu ba! Lambar kasa ta dara ta sama, dole mu je gidan goma mu yi aro!*
- Nuna wa dalibai yadda za a share 4 da ke gidan goma a sama a rubuta 3. Akwai goma 4, amma sun zama goma 3 yanzu. Gaba, sai a tara goma 1 da 8. $10 + 8 = 18$.
- Ka/ki ce:** *Yanzu gidan daya na sama ya dara na kasa, sai mu ci gaba da lissafi! Nawa ne $18 - 9$?*
- Rubuta 9 a layin kasa gidan daya.
- Ka/ki ce:** *Yanzu, sai mu debe a gidan goma. Nawa ne $3 - 2$?*
- Rubuta 1 a layin kasa, sai mu yi lissafin fasalin: $36 - 17 = 19$.

$$\begin{array}{r} 48 \\ - 29 \\ \hline 3 \overset{18}{} \\ \cancel{48} \\ - 29 \\ \hline 19 \end{array}$$

Gwaji

Aiki a daidai ko bibbiyu: Debewa ta tsaye da ragowa (minti 15)

- Rubuta wannan lissafin ta tsaye a kan allo:
 $33 - 25 = \underline{\quad}$; $11 - 9 = \underline{\quad}$; $21 - 16 = \underline{\quad}$
- Umurci dalibai da su warware sauran fasalin lissafin da ke gwaji a cikin littafasnsu na rubutu. Za su iya aikin a daidaiku ko kuma a bibbiyu.

Bayyanawa

Gaggauta auna fahimci (minti 5)

- A sa dalibai su daga takardarsu sama su nuna abin da suka rubuta. A yaba musu.

Aikin Gida

Umurci dalibai da su warware sauran fasalin lissafin da ke gwaji a cikin littafasnsu na rubutu. Za su iya aikin a daidaiku ko kuma a bibbiyu.

Manufa: Dalibai za su iya warware aikin lissafi ta amfani da debewa.

Kayan Aiki:

Lokaci: Minti 35

Fara Darasai

Duba aikin gida (minti 2)

- Gaggauta duba aikin gida. A fada wa dalibai sakamakonsu sannan a karfafa masu gwiwa.

Rera wakar debewa

Manyan lambobin da ke sama, debe a ciki!
Manyan lambobin da ke kasa, tsaya mu yi aro.
Lambobin da suke iri daya?
Amsar ta zama sifil!

Rera waka (minti 3)

- Ku yi ta rera wakar tare da dalibai.

Koyo

Warware aiki lissafin debewa da ragowa (minti 10)

- Bada wannan labari: Wata bishiya kusa da kauyen na dauke da lemu 30. Bayan tashi daga makaranta, wasu yara suka je suka tsinki lemun suka sha. Sun sha lemu 11 a bishiyar. Lemu nawa suka yi saura a jikin bishiyar?
- Kira wani dalibi ya rubuta fasalin lissafin a kan allo.
- Ka/ki ce:** Akwai lemu 30 aka sha 11. Idan muna son mu sami adadin sauran lemun da ba a sha ba, sai mu debe.
- Tabbata fasalin lissafi $30 - 11 = \underline{\quad}$ na rubuce a kan allo.
- A kira wani/wata dalibi/daliba ya/ta je kan allo asamar da amsar fasalin.
- Taimaka yayin yin aron.

$$\begin{array}{r} 30 \\ - 11 \\ \hline 20 \\ \hline 30 \\ - 11 \\ \hline 19 \end{array}$$

Gwaji

Aiki cikin karamin rukuni : Warware aikin lissafi ta amfani da debewa (minti 15)

- Dalibai su zazzauna a kananan rukuni.
- Ka/ki ce:** Isa da kanwarsa suka je kasuwa suka sayo ayaba 20. A lokacin cin abincin dare, iyalansu suka ci ayaba 11. Ayaba nawa suka yi saura?
- Yi ta maimaita aikin lissafin da ke cikin labarin ta yadda za su fahimci abin da ake fadi.
- Sa kowane dalibi ya rubuta fasalin lissafin labarin a cikin littafinsa na rubutu.
- Da zarar kowane dalibi ya rubuta fasalin, sai a sa su yin aikin tare wajen samar da amsa. Su gwada warware aikin lissafin ta hanyar lissafin tsaye da kwance.
- A kewaye a ga abin da daliban ke yi da kuma taimaka masu. Idan da lokaci, a sake bada wani aikin warware lissafin.

Bayyanawa

Auna fahimta da bayyanawa (minti 5)

- Sa daliban su bayyana wa juna abin da suka yi a rukuninsu.

Aikin Gida

A ce wa dalibai su ba da amsar $72 - 38 = \underline{\quad}$ cikin littafin rubutusu aikin gida.

Manufa: Dalibai za su yi lissafin tarawa ta hanyar amfani da Naira.

Kayan Aiki: Takardun Naira na wasa

Lokaci: Minti 35

Fara Darasi

Duba aikin gida (minti 2)

- Gaggauta duba aikin gida. A faɗa wa ɗalibai sakamakonsu sannan a karfafa masu gwiwa.

Ina ‘yan yara, ina ‘yan yara, ina ‘yan yara yaran yanzu.
Mu ne yara mu ne yara mu ne yara yaran yanzu.
Ina ‘yan yara manyan gobe. Mu ne yara manyan gobe.
Mu koyi karatu ‘yan yara. Don muzan manyan gobe.

Waka (minti 3)

- A yi ta rera wakar tare da ɗalibai.
- Nemi ɗaya daga cikin ɗaliban ya/ta fito gaban aji domin rerawa ‘yan aji wakar.

Koyo

Tarawa da Naira (minti 10)

- **Ka/ki ce:** *Yau za mu gwada lissafin tarawa da takardun Naira na wasa.* ₦100
- Daga takardun kuɗin wasa na Naira daban-daban (tsakanin ₦5 zuwa ₦500). ₦ 50
- Umurci ɗalibi/ ɗaliba ɗaya ya/ta fito gaban aji, sannan a ba shi/ta takardar kuɗi ta ₦100 da ₦50 da kuma ₦200. + ₦200
- **Ka/ki ce:** *Kuɗi nawa nake da su gabadaya?*
- A sa ɗalibi/ɗalibar ya/ta rubuta fasalin lissafin a kan allo. ₦ 100
- A tabbatar fasalin lissafin $100 + 50 + 200 =$ aka rubuta. ₦ 50
- **Ka/ki ce:** *Za mu iya gano amsar wannan aikin lissafin ta hanyar amfani da tarawa a tsaye. Idan muka tara su a tsaye, akwai bukatar mu tabbatar dukkan ɗaidaya suna jere cikin layi. Babu wata damuwa ko ya kasance gidajen goma-goma da ɗari-ɗari ba su da wata kima, sai dai a kullum ana jera lambobi ne ta hanyar farawa da gidan ɗaidaya.* + ₦ 200
- **Ka/ki ce:** *Yanzu mu fara da gidan ɗaidaya. Nawa ne $0 + 0 + 0$?* ₦ 350
- **Ka/ki ce:** *Daga nan sai kuma a tara gidan goma-goma. Nawa ne $0 + 5 + 0$?*
- **Ka/ki ce:** *Daga karshe, sai mu tara gidan ɗari-ɗari. Nawa ne $1 + 0 + 2$? Kada a manta idan ba a sami wata kima a ɗaya daga cikin gidajen nan, sai mu ɗauka cewa 0 ne a gidan.*
- Rubuta amsar ₦350 a kasan layi.

Gwaji

Aiki a kananan kungiyoyi: Tarawa da takardun Naira (minti 15)

- A sa ɗalibai su zauna cikin kananan rukunoni. Zaɓi shugaba 1 daga kowane rukuni da za su taimaka wajen raba takardun kuɗi na wasa guda 3 wa ‘yan rukuninsu.
- A yi wa ɗalibai bayanin cewa su yi aiki tare don su rubuta fasalin lissafi da zai taimaka a gano yawan kuɗin da suke da shi. Dalibai su rubuta fasalin lissafin da kuma amsoshinsu a cikin littafan rubutunsu.
- Idan akwai lokaci, a sa ɗalibai su gwada kasuwanci da kuɗinsu da ‘yan wata rukunin sannan su rubuta wani fasalin lissafin.

Bayyanawa

Auna fahimta da bayyanawa (minti 5)

- A sa wani ɗalibi/ɗaliba daga kowane rukuni da su bayyana aikinsu wa sauran ‘yan aji.

Aikin Gida

A sa ɗalibai su tara ₦200 + ₦100 + ₦500 = ₦_____ a cikin litattafansu na rubutu a matsayin aikin gida.

Manufa: Dalibai za su yi lissafin debewa ta hanyar amfani da Naira.

Kayan Aiki: Takardun kuɗi na wasa.

Lokaci: Minti 35

Fara Darasi

Duba aikin gida (minti 3)

- Gaggauta duba aikin gida. A faɗa wa dalibai sakamakonsu sannan a karfafa masu gwiwa.

Ina 'yan yara, ina 'yan yara, ina 'yan yara yaran yanzu.
Mu ne yara mu ne yara mu ne yara yaran yanzu.
Ina 'yan yara manyan gobe. Mu ne yara manyan gobe.
Mu koyi karatu 'yan yara. Don muzan manyan gobe.

Waka (minti 2)

- Ku rera waƙar tare da dalibai.

Koyo

Debewa da takardun Naira (minti 10)

- Ka/ki ce:** *Yau za mu gwada lissafin debewa da takardun Naira.* ₦500
- Daga takardun kuɗin wasa na Naira daban-daban (tsakanin ₦5 zuwa ₦500). - ₦200
- Umurci dalibi/daliba ɗaya ya/ta fito gaban aji, sannan a ba shi/ta takardun kuɗi ta ₦500.
- Ka/ki ce:** *Ka/kina da ₦500! A ɗauka cewa ka/kina son sayan wani abu na musamman na ₦200. Kudinka/ki nawa ne zai rage?* ₦500
- Ka/ki ce:** *Kuɗi nawa nake da su gabadaya?* - ₦200
- A sa dalibi/dalibar ya/ta rubuta fasalin lissafin debewa a kan allo. ₦300
- A tabbatar da cewa fasalin lissafin $500 - 200 =$ aka rubuta.
- Ka/ki ce:** *Za mu iya gano amsar wannan aikin lissafin ta hanyar amfani da debewa a tsaye. Idan muka debe lambobi a tsaye, akwai buƙatar mu tabbatar dukkan ɗaidaya suna jere cikin layi. Babu wata damuwa ko ya kasance gidajen goma-goma da ɗari-ɗari ba su da wata kima, sai dai a kullum ana jera lambobi ne ta hanyar farawa da gidan ɗaidaya.*
- Ka/ki ce:** *Yanzu mu fara da gidan ɗaidaya. Nawa ne 0 - 0?*
- Ka/ki ce:** *Daga nan sai kuma a tara gidan goma-goma. Nawa ne 0 - 0?*
- Ka/ki ce:** *Daga karshe, sai mu tara gidan ɗari-ɗari. Nawa ne 5 - 2?*
- Rubuta amsar ₦300 a kasan layi.
- Idan akwai lokaci, a maimaita da wani aikin lissafin.

Gwaji

Aiki a kananan rukunoni : Tara takardun Naira (minti 15)

- A sa dalibai su zauna cikin kananan rukunoni. Zabi shugaba 1 daga kowane rukuni da za su taimaka wajen raba takardun kuɗi na wasa guda 3 wa 'yan rukuninsu.
- A yi wa dalibai bayanin cewa su yi aiki tare don su rubuta fasalin lissafi da zai taimaka a gano yawan kuɗin da suke da shi. dalibai su rubuta fasalin lissafin da kuma amsoshinsu a cikin littafan rubutunsu.
- Idan akwai lokaci, a sa dalibai su gwada kasuwanci da kuɗinsu da 'yan wani rukunin sannan su rubuta wani fasalin lissafin.

Bayyanawa

Auna fahimta da Bayyanawa (minti 5)

- A sa wani dalibi ko wata daliba daga kowane rukuni da su bayyana aikinsu wa sauran 'yan aji.

Aikin Gida

A sa dalibai su gano amsar wannan $₦50 - ₦20 = ₦$ ___ a cikin litattafansu na rubutu a matsayin aikin gida.

Manufa: Dalibai za su gano kuɗin abubuwa a cikin Naira.

Kayan Aiki: Takardun kuɗin Naira na wasa

Lokaci: Minti 35

Fara Darasi

Duba aikin gida (minti 3)

- Gaggauta duba aikin gida. A faɗa wa ɗalibai sakamankonsu sannan a karfafa masu gwiwa.

Ina ‘yan yara, ina ‘yan yara, ina ‘yan yara yaran yanzu.
Mu ne yara mu ne yara mu ne yara yaran yanzu.
Ina ‘yan yara manyan gobe. Mu ne yara manyan gobe.
Mu koyi karatu ‘yan yara. Don muzan manyan gobe.

Waka (minti 2)

- Ku rera waƙar tare da ɗalibai.

Koyo

Gabatarwa a kan kuɗin abubuwa a Naira (minti 10)

- **Ka/ki ce:** *Yau za mu gano kuɗin abubuwa daban-daban a Naira.*
- Rubuta jerin abubuwa da ake yawan amfani da su tare da farashinsu a kan allo: Fensiri = ₦20, Rula = ₦50, Littafin Rubutu = ₦70, Buredi = ₦250, Sikari = ₦500
- Bayan an jera dukkan farashin a yi wa yara tambayoyi.
- **Ka/ki ce:** *Ina son sayan fensiri. Nawa ne kuɗinsa?*
- **Ka/ki ce:** *Ina son sayan rula. Nawa ne kuɗinta?*
- **Ka/ki ce:** *Ina son sayan littafin rubutu da rula. Nawa ne kuɗinsu?*
- A umurci ɗalibi/ɗaliba ya/ta fito gaban aji sannan a ce ya/ta rubuta fasalin lissafi da za a gano jimillar kuɗin rula da littafin rubutu.
- A gano amsar: ₦70 + ₦50 = ____
- A tabbatar amsar ɗalibai ita ce ₦120.

Gwaji

Aiki a kananan rukunoni: Gano kuɗin abubuwa a cikin Naira (minti 15)

- A sa ɗalibai su zauna cikin kananan rukunoni. Zabi shugaba 1 daga kowane rukuni da za su taimaka wajen raba takardun kuɗi na wasa guda biyar wa ‘yan rukuninsu.
- Ta hanyar amfani da jerin farashin da ke kan allo, a sa ɗalibai su tattauna a kan abubuwan da za su saya da kuɗinsu na wasa.
- A sa ɗalibai su zana hotunan kayan da za su saya a cikin litattafansu na rubutu. Sannan kuma su rubuta jimillar farashinsu. Haka kuma su zana takardun kuɗin da za su yi amfani da su wajen yin sayayyar.
- Zagaya domin lura da ɗalibai. Yayin da ake zagayawa, a rika tambayar yara yadda suka gano amsarsu. A tabbatar masu idan sun yi daidai

Bayyanawa

Auna fahimta da Bayyanawa (minti 5)

- A sa ɗalibi/ɗaliba ɗaya daga kowane rukuni ya/ta bayyana aikinsu wa sauran ‘yan ajin.

Aikin Gida

A sa ɗalibai su tattauna farashin abubuwa na yau da kullum da za su iya saya tare da mutanen gidansu ko abokansu.

Manufofi: Dalibai za su iya rarrabewa da bayyana takardun kuɗi, sannan kuma su iya mayar da manyan kuɗi zuwa kanana.

Kayan Aiki: Takardun Naira na wasa

Lokaci: Minti 35

Fara Darasi

Duba aikin gida (minti 3)

- Gaggauta duba aikin gida. A faɗa wa dalibai sakamakonsu sannan a karfafa masu gwiwa.

Ina ‘yan yara, ina ‘yan yara, ina ‘yan yara yaran yanzu.
Mu ne yara mu ne yara mu ne yara yaran yanzu.
Ina ‘yan yara manyan gobe. Mu ne yara manyan gobe.
Mu koyi karatu ‘yan yara. Don muzan manyan gobe.

Waka (minti 2)

- Ku rera wakar tare da dalibai.

Learn

Bayanin takardun kuɗi (minti 10)

- **Ka/ki ce:** *Yau, za mu koyi yadda za a bayyana takardun Naira da kuma yadda za a fasa zuwa kananan kuɗi.*
- Rubuta dukkan kuɗaden Naira a kan allo: ₦5 da ₦10 da ₦20 da ₦50 da ₦100 da ₦200 da ₦500 da kuma ₦1000).
- Daga kowace takarda ɗaya bayan ɗaya, sannan a tambayi dalibai wacce ce.
- **Ka/ki ce:** *Wani lokaci ana bukar manyan takardun kuɗi na Naira, kuma za a iya fasa su zuwa kanana ko wasu takardu masu kima daban-daban.*
- Kira dalibi/daliba ɗaya gaban aji, sannan a ba shi/ta takardar kuɗin wasa ta ₦1000 guda ɗaya da kuma ‘yan ₦500 guda biyu.
- **Ka/ki ce:** *Wanne ne ya fi yawa? Takardar ₦1000 ɗaya ko kuma takardar ₦500 guda biyu?*
- A tambayi dalibai nawa ne 500 + 500.
- **Ka/ki ce:** *Takardar ₦1000 tana da kima iri ɗaya da takardun ₦500 guda biyu.*
- Kira dalibi/daliba daban gaban aji, sannan a ba shi/ta takardar kuɗin wasa ta ₦100.
- A sa dalibai su gano sauran takardu da za su bayar da kima iri ɗaya da ita (Misali, takardun ₦50 guda biyu ko takardar ₦20 guda biyar).
- Idan akwai lokaci, a maimaita da wasu misalan.

Gwaji

Aiki a kananan rukunoni: Fasa manyan takardun kuɗin Naira (minti 15)

- A ce daliban su buɗe Shafi na 52. A karanta wa dalibai umurnin a bayyane, sannan a samo amsar lissafin farko tare da su.
- A sa dalibai su yi aiki tare wajen fasa Naira zuwa kananan takardun kuɗi, sannan su rubuta fasalin lissafin a cikin littafin dalibai.
- A zagaya domin lura da dalibai da kuma ba su tallafi.

Bayyanawa

Auna fahimta da Bayyanawa (minti 5)

- A umurci wani dalibi/daliba ya rubuta ɗaya daga cikin fasalin lissafin da suka rubuta a rukuninsu a kan allo, sannan ya yi bayanin yadda suka gano amsar.

Aikin Gida

A sa dalibai su kammala sauran aikin dake Shafi na 52 a cikin littafansu na rubutu a matsayin aikin gida.

Manufofi: Dalibai za suyi bita da gwajin aikin da aka gabatar a makon.

Kayan Aiki:

Lokaci: Minti 35

Fara Darasi

Duba aikin gida (minti 3)

- Gaggauta duba aikin gida. A faɗa wa ɗalibai sakamakonsu sannan a karfafa masu gwiwa.

Ina ‘yan yara, ina ‘yan yara, ina ‘yan yara yaran yanzu.
Mu ne yara mu ne yara mu ne yara yaran yanzu.
Ina ‘yan yara manyan gobe. Mu ne yara manyan gobe.
Mu koyi karatu ‘yan yara. Don muzan manyan gobe.

Waka (minti 2)

- Ku rera waƙar tare da ɗalibai.

Koyo

Bitar da maimaitawa (minti 10)

- Zabi wani labari daga ayyukan mako da ake ganin kamar ɗalibai suna fama da shi. A sake maimaita koyar da shi ko kuma a koyar da shi ta wata hanyar daban.

Gwaji

Aiki a ɗaiɗaiƙu ko cikin rukunoni: Tarawa da ɗebewa da Naira (minti 15)

- A ba ɗalibai wani aiki wanda zai taimaka musu gwajin abin da ake bita a kansa (Misali, lissafin ɗebewa a Naira). Dalibai za su iya yin aiki a ɗaiɗaiƙunsu ko kuma cikin rukunoni.
- Yayin da ɗalibai suke mayar da hankalinsu a kan aikinsu, a samar da taimako ga waɗanda suke bukata

Bayyanawa

Auna fahimta da bayyanawa (minti 5)

- A sa ɗalibai su nuna ayyukan da suka kammala a lokacin gwaji.

Aikin Gida

A ba ɗalibai aikin gida don bita da gwajin abin da suka koya.

Manufofi: Dalibai za su yi amfani da rukuni-rukuni na ababen kirge da kuma rubanya tarawa don yin lissafin sau ɗin bibiyu.

Kayan Aiki: Ababen kirge (wake da tsakuwoyi)

Lokaci: Minti 35


Fara Darasi

Duba aikin gida (minti 2)

- Gaggauta duba aikin gida. A faɗa wa ɗalibai sakamaku sannan a karfafa masu gwiwa.

Labarin hoto (minti 5)

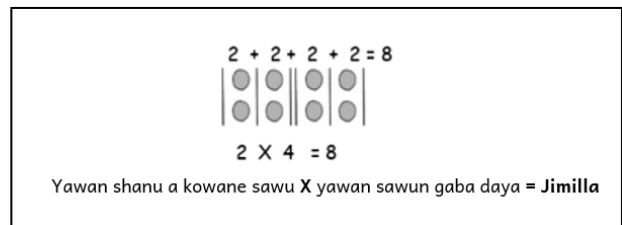
- Bayar da labarin hotunan da ke kan allo.
- Ka/ki ce:** *Wata rana Sani yana kora garken shanunsa don su tsallake wani kogi mai ruwa. A hankali sai Sani ya fara da hayar da shanu guda 2 zuwa ɗaya gabar kogin. Sani ya yi irin haka sau 4 ya je ya dawo yana tsallaka kogin.*
- A sa ɗalibai 8 su fito gaban aji domin gwada aiwatar da labarin. A tambayi ɗalibai, shanu nawa yake da su gabaɗaya idan dai sai da ya yi sau 4 zuwa tsallaken kogin, kuma yana hayewa da shanu biyu a kowane lokaci.



Koyo

Gabatar da lissafin sau da 2 (minti 8)

- Ka/ki ce:** *Yau za mu koyi yadda za mu yi sau da biyu ta hanyar amfani da rubanya tarawa. Rubanya tarawa shi ne yayin da muka yi ta tara lamba iri ɗaya sau da dama.*
- Rubuta wannan fasalin lissafin $2 + 2 + 2 + 2 = \underline{\quad}$ a kan allo. Kidaya da bibiyu a bayyane har sai an sami amsar: 8.
- Ka/ki ce:** *Bibiyu nawa ne a cikin wannan fasalin lissafin? Akwai bibiyu guda huɗu!*
- Yi amfani da da'irorin da aka zana a kan allo a gwada yadda za a sami rukunonin hurhuɗu guda biyu da ababen kirge.
- Idan akwai lokaci, maimaita da wanilissafin daban.



Gwaji

Aiki a kananan rukuni : Tarawa da abubuwan kirge (minti 15)

- A sa ɗalibai su zauna cikin kananan rukunnai. A zaɓi shugaba ɗaya daga kowane rukuni don su taimaka wajen raba abubuwan kirge guda 20 da kuma katunan lambobi tsakanin 1 zuwa 10 wa 'yan rukuninsu.
- A sa ɗalibai su duba katin lambarsu, sannan su tara ababen kirge bibiyu har wannan adadin. Misali, idan lambar da take jikin katinsu 5 ce, sai su yi rukuni biyar na ababen kirge, kowane rukuni ɗauke da ababen kirge 2.
- Daga nan sai a sa ɗalibai su rubuta fasalin lissafi na rubanya tarawa da kuma sau a cikin litattafansu na aiki.
- Zagaya domin lura da ɗalibai sannan a tallafa musu. Idan akwai lokaci, a maimaita da wani lissafin daban ta hanyar zana wani katin.

$$\boxed{5} \quad \bullet\bullet\bullet\bullet\bullet\bullet\bullet\bullet$$

$$2+2+2+2+2=10$$

$$2 \times 5 = 10$$

Bayyanawa

Bayyana kyawawan misalai (minti 5)

- A gano wani rukuni ko wasu rukunnai biyu su nuna fasalin lissafinsu wa sauran 'yan ajinsu.

Aikin Gida

A sa ɗalibai su rubuta wannan lissafin $2 + 2 + 2 = \underline{\quad}$ a matsayin lissafin sau a cikin litattafansu na rubutu.

Manufofi: Dalibai za su yi amfani da rukuni-rukuni na ababen kirge da kuma rubanya tarawa a matsayin sau ɗin biyar-biyar.

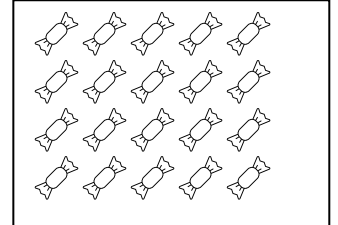
Kayan Aiki: Abubuwan kirge (wake da tsakuwoyi)

Lokaci: Minti 35

Fara Darasi

Duba aikin gida (minti 2)

- Gaggauta duba aikin gida. A faɗa wa dalibai sakamakonsu sannan a karfafa masu gwiwa.



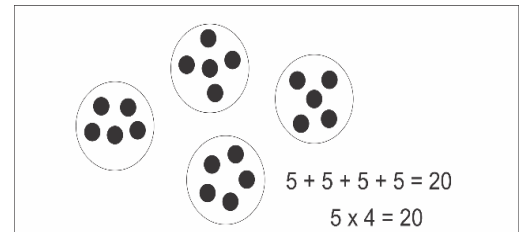
Labarin hoto (minti 5)

- Bayar da labarin. Mahaifiya ta bayar da alawa biyar-biyar ga kowane daga cikin yaranta huɗu. Alawa nawa ta bayar gaba ɗaya?
- Gwada aiwatar da labarin ta hanyar sanya daliba ɗaya ta zama ,mahaifiya, sannan a ba su alawa guda 5 (ko ababen kirge) ga kowane daga cikin dalibai huɗu da suke gaban aji.
- **Ka/ki ce:** Rukunin alawa biyar-biyar nawa ake da su?

Koyo

Gabatarwa a kan lissafin sau da biyar-biyar (minti 8)

- **Ka/ki ce:** Yau za mu koyi yadda za a yi sau da biyar-biyar.
- Rubuta wannan fasalin lissafi $5 + 5 + 5 + 5 = \underline{\quad}$ a kan allo. A kidaya da biyar-biyar da ‘yan ajin har sai an zo kan amsar da ta dace: 20.
- **Ka/ki ce:** Biyar-biyar nawa ne a cikin fasalin lissafin? Akwai biyar-biyar guda huɗu!
- A yi amfani da ababen kirge don aiwatar da yadda za a samar rukunin 5 guda 4.
- **Ka/ki ce:** Maimakon a ce 5 a tara da 5 a tara da 5 a tara da 5, sai kawai mu rubuta 5×4 . Sau shi ne tara rukunin abin da yawansu ɗaya sau wani adadi. A wannan hali, mun tara biyar-biyar sau huɗu.
- A yi wa dalibai bayanin cewa, alamar x tana nuna cewa ana yin sau da lambobin da aka nuna.
- Idan akwai lokaci, a maimaita da wani lissafin.



Gwaji

Aiki a kananan kungiyoyi: Tarawa da abubuwan kirge (minti 15)

- A sa dalibai su zauna cikin kananan kungiyoyi. A zabi shugaba ɗaya daga kowane rukuni don su taimaka wajen raba abubuwan kirge guda 50 da kuma katunan lambobi tsakanin 1 zuwa 10 wa ‘yan rukuninsu.
- A sa dalibai su duba katin lambarsu, sannan suyi rukunin abubuwan kirge biyar-biyar har wannan adadin. Misali, idan lambar da take jikin katinsu 3 ce, sai su yi rukuni uku na abubuwan kirge, kowane rukuni ɗauke da abubuwan kirge 5.
- Daga nan sai a sa dalibai su rubuta fasalin lissafi na rubanya tarawa da kuma sau.
- Zagaya domin lura da dalibai sannan a tallafa musu. Idan akwai lokaci, a maimaita da wanilissafin daban ta hanyar zana wani katin.

Bayyanawa

Bayyana kyawawan misalai (minti 5)

- A gano wani rukuni ko wasu rukunnai biyu su nuna fasalin lissafinsu wa sauran ‘yan ajinsu.

Aikin Gida

A sa dalibai su rubuta wannan matsalar $5 + 5 + 5 + 5 + 5 + 5 = \underline{\quad}$ a matsayin lissafin sau a cikin litattafansu na rubutu.

Manufofi: Dalibai su iya amfani da haɗa abubuwan kirge da lissafin rubunya tarawa wajen yin lissafin sau na goma-goma

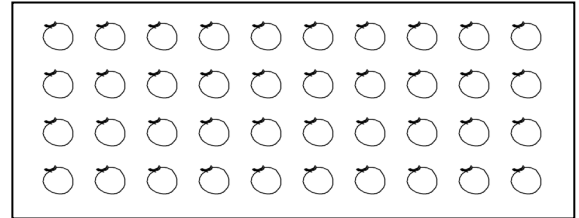
Kayan Aiki: Abubuwan kirge (wake ko tsakuwa), zanen gidan goma

Lokaci: Minti 35

Fara Darasi

Duba aikin gida (minti 2)

- A gurguje a duba aikin gida. A faɗa musu sakamakon aikinsu, sannan a karfafa musu guiwa.



Labarin hoto (minti 5)

- Bayar da labarin. A kusa da wani kauye akwai bishiyoyin lemu guda goma. A jikin kowace bishiya akwai lemu guda 4. Duka-duka lemu guda nawa ne?
- **Ka/ki ce:** *Rukunin lemu hur huɗu nawa ake da su?*

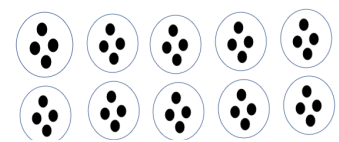
Koyo

Gabatarwa a kan lissafin sau da goma-goma (minti 8)

- **Ka/ki ce:** *Yau za mu koyi yadda za a yi sau da goma-goma.*
- Rubuta wannan fasalin lissafin $10 + 10 + 10 + 10 = \underline{\quad}$ a kan allo. A kidaya da goma-goma da ‘yan ajin har sai an zo kan amsar da ta dace: 40.
- **Ka/ki ce:** *Goma-goma nawa ne a cikin fasalin lissafin? Akwai goma-goma guda huɗu!*
- A yi amfani da abubuwan kirge don gwada aiwatar da yadda za a samar rukunin 10 guda 4.
- **Ka/ki ce:** *Maimakon a ce 10 a tara da 10 a tara da 10 a tara da 10, sai kawai mu rubuta 10×4 . Sau shi ne tara rukunin abin da yawansu ɗaya sau wani adadi. A wannan hali, mun tara goma-goma sau huɗu.*
- Idan akwai lokaci, a maimaita da wata matsalar.

$$10 + 10 + 10 + 10 = 40$$

$$10 \times 4 = 40$$



Gwaji

Aiki a kananan kungiyoyi: Tarawa da ababen kirge (minti 15)

- A sa ɗalibai su zauna cikin kananan kungiyoyi. A zaɓi shugaba ɗaya daga kowane rukuni don su taimaka wajen raba abubuwan kirge guda 50 da kuma katunan lambobi tsakanin 1 zuwa 5 wa ‘yan rukuninsu.
- A sa ɗalibai su duba katin lambarsu, sannan suyi rukunin ababen kirge goma-goma har wannan adadin. Misali, idan lambar da take jikin katinsu 3 ce, sai su yi rukuni uku na ababen kirge, kowane rukuni ɗauke da ababen kirge 10.
- Daga nan sai a sa ɗalibai su rubuta fasalin lissafi na rubanyawa, tarawa da kuma sau.
- Zagaya domin lura da ɗalibai sannan a tallafa musu. Idan akwai lokaci, a maimaita da wani lissafin daban ta hanyar zana wani katin.

Bayyanawa

Bayyana kyawawan misalai (minti 5)

- A gano wani rukuni ko wasu rukunoni biyu su nuna fasalin lissafinsu wa sauran ‘yan ajinsu.

Aikin Gida

A sa ɗalibai su rubuta wannan lissafin $10 + 10 = \underline{\quad}$ a matsayin matsalar lissafin sau a cikin litattafansu na rubutu.

Manufofi: Dalibai zai su yi amfani da rubanya tarawa don su yi sau na 2 da 5 da kuma 10.

Kayan Aiki: Abubuwan kirge (wake da tsakuwoyi), layin lambobi

Lokaci: Minti 35

Fara Darasi

Duba aikin gida (minti 2)

- Gaggauta duba aikin gida. A fada wa dalibai sakamakonsu sannan a karfafa masu gwiwa.

Waka (minti 3)

- Ku yi ta rera wakar tare da dalibai.
- Nemi wani dalibi ko wata daliba ya/ta fito gaban aji domin rera wakar ga sauran 'yan aji.

Biyu sau ɗaya biyu / Biyu sau biyu huɗu
 Biyu sau 3 Shida / Biyu Sau 4 Takwas
 Biyu sau 5 Goma / Biyu sau 6 goma sha biyu
 Biyu sau bakwai goma sha huɗu /
 Biyu sau Takwas goma sha shida
 Biyu sau Tara goma sha takwas /
 Biyu sau Goma Ashirin

Koyo

Bitar sau ta hanyar maimaita tara lambobi (minti 10)

- **Ka/ki ce:** *Yau za mu ci gaba da yin sau da lambobi ta hanyar rubanya tarawa.*
- A umurci dalibai biyu su fito gaban aji. A tambayi sauran 'yan aji dalibai nawa ne a gaban aji. Daga nan sai a sake kiran wasu daliban guda biyu zuwa gaban aji, sannan a ce su tsaya tare a gefe.
- **Ka/ki ce:** *Da muna da dalibai guda 2, sannan sai muka kara wasu daliban guda 2. Yanzu dalibai nawa muke da su gaba ɗaya?*
- Kidaya yawan daliban gaba ɗaya a bayyane tare da dukkan 'yan aji. A sake kiran wasu daliban gaban aji.
- **Ka/ki ce:** *Mun kara wasu daliban guda 2. Yanzu kuma dalibai nawa muke da su?*
- Rubuta $2+2+2 = 6$ a kan allo.
- **Ka/ki ce:** *2 a tara da 2 a tara da 2 sun zama 6. Mun tara 2 guda uku. Za mu iya rubuta fasalin ta hanyar rubanya tarawa, ko kuma mu sanya alamar sau.*
- Rubuta $3 \times 2 = 6$ a kan allo.
- Idan akwai lokaci a maimaita da wasu dalibai na daban da rukunin biyar-biyar da goma-goma.

Gwaji

Aiki a daidaike da kuma cikin bibiyu: Yin sau da 2 da 5 da kuma 10 (minti 15)

- A ce daliban su buɗe littafin dalibai Shafi na 53.
- A karanta wa dalibai umurni da tambayar farko a bayyane. A sa dalibai su samo amsar lissafin farko a cikin litattafansu na aiki. Za su iya tattauna amsoshinsu da abokan aikinsu.
- A zagaya domin lura da dalibai yayin da ake zagayawa a rika tambayar su yadda aka yi suka gano amsoshinsu, sannan a tabbatar musu idan sun yi daidai.
- Idan da lokaci, a karasa sauran tambayoyin da suke wannan shafin.

Bayyanawa

Auna fahimta cikin gaggawa (minti 5)

- A sa dalibai su daga takardunsu domin nuna abin da suka rubuta. A yaba wa dalibai.

Aikin Gida

A sa dalibai su kammala sauran aikin dake Shafi na 53 a cikin littafansu na rubutu a matsayin aikin gida.

Manufofi: Dalibai za suyi bita da gwajin aikin da aka gabatar a makon.

Kayan Aiki:

Lokaci: Minti 35

Fara Darasi

Duba aikin gida (minti 3)

- Gaggauta duba aikin gida. A fada wa dalibai sakamakonsu sannan a karfafa masu gwiwa.

Waka (minti 2)

- Ku rera wakar tare da dalibai.

Biyu sau ɗaya biyu / Biyu sau biyu huɗu
 Biyu sau 3 Shida / Biyu Sau 4 Takwas
 Biyu sau 5 Goma / Biyu sau 6 goma sha biyu
 Biyu sau bakwai goma sha huɗu /
 Biyu sau Takwas goma sha shida
 Biyu sau Tara goma sha takwas /
 Biyu sau Goma Ashirin

Koyo

Bitu da maimaitawa (minti 10)

- Zabi wani batu daga ayyukan mako da ake ganin kamar dalibai suna fama da shi. A sake maimaita koyar da shi ko kuma a koyar da shi ta wata hanyar daban.

Gwaji

Aiki a ɗaiɗaiku ko cikin kungiyoyi: Zanawa da rubutawa (minti 15)

- A ba dalibai wani aiki wanda zai taimaka musu gwajin abin da ake bita a kansa (Misali, tara ninkakkun lambobi har zuwa goma ta hanyar amfani da dami-dami ko layin lambobi). Dalibai za su iya yin aiki a daiɗaikunsu ko kuma cikin kungiyoyi.
- Yayin da dalibai suke mayar da hankalinsu a kan aikinsu, a samar da wani taimako ga waɗanda suka fi bukatarsa

Bayyanawa

Auna fahimta da bayyanawa (minti 5)

- A sa dalibai su nuna ayyukan da suka kammala a lokacin gwaji.

Aikin Gida

A ba dalibai aikin gida don bita da gwajin abin da suka koya.

Manufofi: Dalibai za su iya kiyasin fadi da nisa.

Kayan Aiki:

Lokaci: Minti 35

Fara Darasi

Duba aikin gida (minti 2)

- Gaggauta duba aikin gida. A fada wa dalibai sakamakonsu a kuma karfafa masugwiwa.

Waka (minti 3)

- Ku yi ta rera wakar tare da dalibai.

Ga girma ga nauyi ga tsayi x2
 Mage doguwa. Kwalba gajera.
 Ga girma ga nauyi ga tsayi x2
 Dutse da nauyi. Takarda 'yar shafal.
 Ga girma ga nauyi ga tsayi (x2)
 Randa da girma. Moda 'yar karama.
 Ga girma ga nauyi ga tsayi (x2)

Koyo

Kiyasun fadi da nisa (minti 10)

- **Ka/ki ce:** *Yau za mu koyi wani abu a kan fadi da nisa. Fadi da nisa sukan nuna tazarar da take tsakanin wurare biyu ne. A fadi akan auna tsakanin karshe da karshen abu. Shi kuma nisa a kan gwada filin da yake tsakanin wurare biyu ne.*
- Nuna wa 'yan aji itatuwa guda biyu: daya gajere da kuma daya dogo.
- Nuna kalmomin guda biyu "Dogo" da "Gajere" da aka rubuta a kan allo.
- A yi bayanin cewa akan danganta abubuwa guda biyu. Yayin dangantawar ana amfani da kalmar "fi" a gaban kalma. Daga daya daga cikin itatuwan, sai a yi bayanin wanda ya fi tsawo da wanda ya fi gajarta.
- Kara "fi" a gaban kalmar "tsawo" da "Gajarta" a kan allo. A sa yaran su maimaita "Fin tsawo" da "Fin gajarta" bayan ka/kin fada.
- A sa dalibai biyu su fito gaban aji. A sa daya daga cikinsu daga fensir, daya kuma daga itace. A tambayi dalibai wanne ne ya fi tsawo.
- **Ka/ki ce:** *Haka kuma muna amfani da kalmomin 'fin tsawo' da 'fin gajarta' wajen yin bayanin nisan da yake tsakanin wurare biyu. Wane ne ya fi tsawo? Tsakanin tafiya daga nan zuwa aji da kuma daga nan zuwa gida?*
- Idan akwai lokaci, a ba dalibai dama su yi bayanin fin tsawo da fin gajarta ta hanyar amfani da misalansu.

Gwaji

Aiki daidaya ko bibiyu: Kiyasin fadin abu (minti 15)

- A sa dalibai su buɗe littafinsu Shafi na 54. Karanta umurnin a bayyane wa dalibai. Ku gano amsar lissafin farko tare da dalibai.
- A sa dalibai su gano amsar tambaya ta gaba. Za su iya aiki a daidai kunsu ko kuma tare da abokan aikinsu.
- A zagaya domin lura da dalibai sannan kuma a ba su tallafi.

Bayyanawa

Auna fahimta cikin gaggawa (minti 5)

- A sa dalibai su daga takardunsu domin nuna abin da suka rubuta. A yaba wa dalibai.

Aikin Gida

A sa dalibai su kammala sauran aikin dake Shafi na 54 a cikin littafansu na rubutu matsayin aikin gida.

Manufa: Dalibai za su auna faɗin abubuwan cikin aji da ma'aunin da ba tsayayye ba.

Kayan Aiki:

Lokaci: Minti 35

Fara Darasi

Duba aikin gida (minti 2)

- Gaggauta duba aikin gida. A fada wa dalibai sakamakonsu a kuma karfafa masugwiwa.

Waka (minti 3)

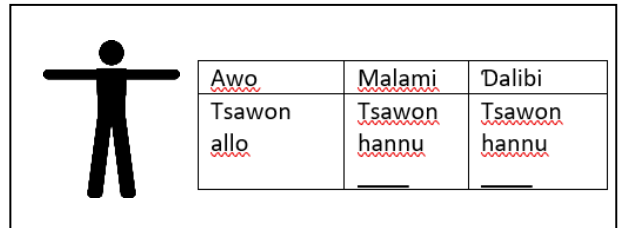
- A yi ta rera wakar tare da dalibai.

Ga girma ga nauyi ga tsayi x2
 Mage doguwa. Kwalba gajera.
 Ga girma ga nauyi ga tsayi x2
 Dutse da nauyi. Takarda 'yar shafal.
 Ga girma ga nauyi ga tsayi (x2)
 Randa da girma. Moda 'yar karama.
 Ga girma ga nauyi ga tsayi (x2)

Koyo

Gabatarwa wajen auna abubuwa (minti 10)

- Ka/ki ce:** *Yau za mu koyi yadda za mu gwada abubuwa daban-daban ta hanyar amfani da kaya aiki iri-iri, har da ma hannaye da kafafunmu!*
- Zana wata taswira a kan allo sannan a yi wa dalibai bayanin cewa, za a auna faɗin allo ta hanyar damtsen hannaye.
- Damtse dukkan hannayenka/ki (Kamar za a fitar da gaba guda). A kidaya gaba nawa daga karshen allo zuwa wani karshen. Misali idan an samu gaba uku sai a rubuta "3" a kan allo.
- A sa wani dalibi ko wata daliba ya/ta fito gaban aji domin auna faɗin allo ta hanyar amfani da gaba. A rubuta yawan gaban da aka samu a jikin taswirar amma a saka dalibi/daliba.
- A tambayi dalibai, bayan wannan hanyar me kuma za su iya amfani da shi wajen auna faɗin abu. (kamar tef ko taku ko dani wato amfani da babbar yatsa da manuniya da sauransu)



Gwaji

Aiki cikin bibiyu: Awon abubuwa (minti 15)

- A fada wa dalibai za su yi aiki cikin bibiyu. A ce su buɗe litattafansu zuwa Shafi na 55.
- Karanta umurni da tambayar farko a bayyane ga dalibai.
- A yi wa dalibai bayanin cewa, su auna faɗin littafin karatunsu ta hanyar amfani da babbar yatsa da manuniya. A rubuta dani nawa kowane yaro ya samu a cikin litattafansu na aiki.
- A zagaya domin lura da dalibai. Yayin da ake zagayawa a riƙa tallafa wa dalibai wajen aikin awun da suke yi, sannan kuma a tabbatar musu idan sun yi daidai. Idan akwai lokaci a karasa gano amsar lissafi n gaba da yake shafin.

Bayyanawa

Auna fahimta cikin gaggawa (minti 5)

- A sa dalibai su daga takardunsu domin nuna abin da suka rubuta. A yaba wa dalibai.

Aikin Gida

A sa dalibai su karasa sauran aikin da ke Shafi na 55 a cikin littafan rubutunsu a matsayin aikin gida. A ce su sami wani abokinsu ko ɗan gidansu suyi aikin tare.

Manufar Darasi: Dalibai za su auna tazara a wajen aji da raunannen ma'auni.

Kayan Aiki:

Lokaci: Minti 35

Fara Darasi

Duba aikin gida (minti 2)

- Gaggauta duba aikin gida. A fada wa dalibai sakamaku a kuma karfafa masugwiwa.

Waka (minti 3)

- A yi ta rera wakar tare da dalibai.

Ga girma ga nauyi ga tsayi x2
 Mage doguwa. Kwalba gajera.
 Ga girma ga nauyi ga tsayi x2
 Dutse da nauyi. Takarda 'yar shafal.
 Ga girma ga nauyi ga tsayi (x2)
 Randa da girma. Moda 'yar karama.
 Ga girma ga nauyi ga tsayi (x2)

Koyo

Gabatarwa kan awun tazara (minti 10)

- Ka/ki ce:** *Yau za mu koyi yadda za mu koyi auna tazara daban-daban ta hanyar amfani da kayan aiki iri-iri, har da ma hannaye da kafafunmu!*
- Zana wata taswira a kan allo sannan a yi wa dalibai bayanin cewa, za a auna fadin aji da tsalle.
- A saka wani dalibi ko wata daliba ya/ta yi tsalle daga bangare daya na aji zuwa daya bangaren. Daga nan sai a rubuta yawan tsallen a karkashin sunan dalibin ko dalibar a kan allo. A maimaita da wani dalibin ko wata dalibar.
- A tambayi dalibai, bayan wannan hanyar, me kuma za su iya amfani da shi wajen auna tazara. (kamar tef ko taku ko amfani da bufa hannaye da sauransu)

Awo	dalibi 1	dalibi 2
Tsawon aji	Tsalle _____	Tsalle _____

Gwaji

Aiki cikin bibiyu: Awon tazara (minti 15)

- A fada wa dalibai za su yi aiki cikin bibiyu. A ce su bufe litattafansu zuwa Shafi na 56.
- Karanta umurni da tambayar farko a bayyane wa dalibai.
- A yi wa dalibai bayanin cewa, su auna tazara a cikin filin makaranta ta hanyar amfani da yawan taku. A rubuta takun da kowane yaro ya samu a cikin litattafansu na aiki.
- A zagaya domin lura da dalibai. Yayin da ake zagayawa a rika tallafa wa dalibai wajen aikin awon tazarar da suke yi, sannan kuma a tabbatar masu idan sun yi daidai. Idan akwai lokaci a karasa gano amsar lissafin na gaba da yake shafin.

Bayyanawa

Auna fahimta cikin gaggawa (minti 5)

- A sa dalibai su daga takardunsu domin nuna abin da suka rubuta. A yaba wa dalibai.

Aikin Gida

A sa dalibai su kammala sauran aikin dake Shafi na 56 a cikin littafansu na aiki a matsayin aikin gida. A ce su sami wani abokinsu ko dan gidansu su yi aikin tare.

Manufofi: Dalibai za su iya auna fadin abu ta hanyar amfani da irin rular nan da ake nadewa.

Kayan Aiki: Rula da ake nadewa da kuma rula

Lokaci: Minti 35

Fara Darasi

Duba aikin gida (minti 2)

- Gaggauta duba aikin gida. A fada wa dalibai sakamakonsu a kuma karfafa masugwiwa.

Waka (minti 3)

- A yi ta rera wakar tare da dalibai.

Ga girma ga nauyi ga tsayi x2
Mage doguwa. Kwalba gajera.
Ga girma ga nauyi ga tsayi x2
Dutse da nauyi. Takarda 'yar shafal.
Ga girma ga nauyi ga tsayi (x2)
Randa da girma. Moda 'yar karama.
Ga girma ga nauyi ga tsayi (x2)

Koyo

Gabatarwa a kan tsayayyen awu (minti 10)

- **Ka/ki ce:** *Mun auna fadi da tazara da ababen awo daban-daban: hannayenmu da kafafuwanmu da kuma yatsunmu. Amma saboda kasancewar muna da bambancin halitta, sai awon mu ya bambanta a tsakaninmu. Wani lokaci muna son mu sami awon da zai bayar da hakikanin gaskiyar abin da muka auna, don haka sai mu yi amfani da rula don mu auna fadi yadda za mu gano har da sentimita. Duk wanda ya yi amfani da rula (a duk fadin duniya) zai sami irin wannan sakamako na awo na fadin abu.*
- Daga rula ga 'yan ajin kowa ya gani. A yi wa yara bayanin layi-layin da yake jikin rular (da aka fi sani sentimita) sannan a bayar da misalan abubuwan da za a iya aunawa da rula cikin sentimita.
- **Ka/ki ce:** *Yanzu bari mu yi gwajin awun fadin allo cikin mita.*
- Nuna yadda za a yi awo da rula. A yi bayanin cewa idan ba a sami wadda za a auna fadi da mita-mita ba, sai a kirga sentimita, sannan sai a tara su yadda za su kai mita.
- Rubuta fadin allon cikin mita da sentimita a kan allo.
- A tambayi 'yan aji wani abu daban da suke son auna fadinsa, sannan sai a nemi d'aya daga cikinsu ya/ta zo gaban aji ya/ta auna fadin da rula.

Gwaji

Aiki cikin bibiyu: Auna abubuwa (minti 15)

- A fada wa dalibai za su yi aiki cikin bibiyu. A ce su bude litattafansu zuwa Shafi na 57.
- Karanta umurni da tambayar farko a bayyane wa dalibai. A sa dalibai su rubuta hakikanin awun da kowane dalibi ya yi a cikin littafin aikinsa.
- A zagaya domin lura da dalibai. Yayin da ake zagayawa a riƙa tallafa wa dalibai wajen aikin awon da suke yi, sannan kuma a tabbatar musu idan sun yi daidai. Idan akwai lokaci a karasa gano amsar lissafi na gaba da yake shafin.

Bayyanawa

Auna fahimta cikin gaggawa (minti 5)

- A sa dalibai su daga takardunsu domin nuna abin da suka rubuta. A yaba wa dalibai.

Aikin Gida

A sa dalibai su kammala sauran aikin dake Shafi na 57 a cikin littafansu na aiki a matsayin aikin gida. A ce su sami wani abokinsu ko dan gidansu su yi aikin tare.

Manufofi: Dalibai za suyi bita da gwajin aikin da aka gabatar a makon.

Kayan Aiki:

Lokaci: Minti 35

Fara Darasi

Duba aikin gida (minti 3)

- Gaggauta duba aikin gida. A faɗa wa dalibai sakamankonsu a kuma karfafamasu gwiwa.

Waka (minti 2)

- Ku rera waƙar tare da dalibai.

Ga girma ga nauyi ga tsayi x2
 Mage doguwa. Kwalba gajera.
 Ga girma ga nauyi ga tsayi x2
 Dutse da nauyi. Takarda 'yar shafal.
 Ga girma ga nauyi ga tsayi (x2)
 Randa da girma. Moda 'yar karama.
 Ga girma ga nauyi ga tsayi (x2)

Koyo

Bitu da maimaitawa (minti 10)

- Zabi wani batu daga ayyukan mako da ake ganin kamar dalibai suna fama da shi. A sake maimaita koyar da shi ko kuma a koyar da shi ta wata hanyar daban.

Gwaji

Aiki a daidaiƙu ko cikin kungiyoyi: Zanawa da rubutawa (minti 15)

- A ba dalibai wani aiki wanda zai taimaka musu gwajin abin da ake bita a kansa (Misali, auna faɗi da tazara da tsayayyu da kuma ma'aunai marasa fasali). Dalibai za su iya yin aiki a daidaiƙunsu ko kuma cikin kungiyoyi.
- Yayin da dalibai suke mayar da hankalinsu a kan aikinsu, a samar da wani taimako ga waɗanda suka fi buƙatarsa

Bayyanawa

Auna fahimta da bayyanawa (minti 5)

- A sa dalibai su nuna ayyukan da suka kammala a lokacin gwaji.

Aikin Gida

A ba dalibai aikin gida don bita da gwajin abin da suka koya.

Manufofi: Dalibai su iya kimanta tsayi da fadi.

Kayan Aiki:

Lokaci: Minti 35

Fara Darasi

Duba aikin gida (minti 2)

- Gaggauta duba aikin gida. A fada wa dalibai sakamakonsu a kuma karfafa masu gwiwa.

Labari da gwada aiwatarwa (minti 5)

- Bada labarin. Wani tela yana son ya dinka wa wata yarinya Binta kyakkyawar riga. Telan yana son sanin adadin yadin zai yi wa Binta.
- A tambayi dalibai yadda telan zai yi ya san adadin yadin da zai yi wa Binta.
- Nuna wa dalibai yadda za a auna tsayin rigar Binta. A sami wata daliba ta tsaya jikin bango sai a ja layin tsayinta daidai da kafadarta da allu. Yi amfani da hannu wajen auna tsayin daga kasa zuwa sama.

Koyo

Kimanta tsayi (minti 5)

- **Ka/ki ce:** *Yau za mu koyi yadda ake auna tsayi da fadi. Tsayi shi ne sanin tsawo ko gajartar abu. Za mu iya auna tsayi kamar yadda ake auna tazara da tsawo.*
- Kira wasu dalibai su je gaban aji su tsaya gefen juna.
- Nuna kalmar “dogo” da “gajere” da ke rubuce a allo.
- Yi bayani cewa yayin kwatanta tsayi sai mu kara “fi” kafin kalmar. Sake nuna daliban a bayyana wanda ya fi tsawo da gajere.
- Maimaita da wasu daliban.

Kimanta fadi (minti 5)

- **Ka/ki ce:** *Yanzu, bari mu auna fadi. Fadi shine tazara ko tsukewar abu.*
- daga littafi biyu sama sannan a bayyana bambancin girmansu a ajin su gani.
- Nuna gefen littafi sai a bayyana wa dalibai yadda ake gane fadin abu.
- **Ka/ki ce:** *Idan za mu auna fadin abu, za mu yi la'akari da “tsukewa” da “fadi”. Idan za mu kwatanta abubuwa dangane da fadinsu, sai mu ce “tsukakke” da “faffada.”*
- A tambayi dalibai littafin da yake da fadi da kuma tsukakke.

Gwaji

Aiki daidai ko bibbiyu: Kimanta tsawo (minti 15)

- A sa dalibai su bude littafinsu Shafi na 58. Karanta musu umarnin su ji. Ku kammala aikin farko tare.
- A sa dalibai amsa tambaya ta gaba. Za su iya yin aiki a daidaikunsu ko bibbiyu.
- A kewaye a lura da abin da dalibai ke yi sannan a taimaka masu.

Bayyanawa

Gaggauta auna fahimta (minti 3)

- A ce wa dalibai su daga takardarsu sama su nuna abin da suka rubuta. A yaba masu.

Aikin Gida

A sa dalibai su kammala sauran aikin dake Shafi na 58 a cikin littafansu na rubutu a matsayin aikin gida.

Manufa: Dalibai su iya auna tsayin abubuwan da ke aji ta gargajiyar hanya.

Kayan Aiki:

Lokaci: Minti 35

Fara Darasi

Duba aikin gida (minti 2)

- Gaggauta duba aikin gida. A fada wa dalibai sakamankonsu a kuma karfafa masu gwiwa.

Ga girma ga nauyi ga tsayi x2
 Mage doguwa. Kwalba gajera.
 Ga girma ga nauyi ga tsayi x2
 Dutse da nauyi. Takarda 'yar shafal.
 Ga girma ga nauyi ga tsayi (x2)
 Randa da girma. Moda 'yar karama.
 Ga girma ga nauyi ga tsayi (x2)

Waka (minti 3)

- Ku yi ta rera wakar tare da dalibai.

Koyo

Gabatar da awun tsayi (minti 10)

- Ka/ki ce:** *Yau za mu koyi yadda ake auna abubuwa mabambanta ta amfani da abubuwan awo daban-daban, da ma hannunmu da kafafu!*

- Zana jadawali a kan allo sai a bayyana wa dalibai cewa za su auna tsayin bencinansu.
- Ku kirga dani nawa za a samu na tsayin bencin daga kasa zuwa sama sannan, a rubuta adadin a kan allo. Misali, idan dani uku aka samu, sai a rubuta "3" a kan allo.
- A sa wani dalibi shi ma ya auna tsayin bencinsu da danin hannu. Rubuta danin hannun a cikin jadawalin karkashin dalibi.
- A tambayi dalibai wani abun da za su iya auna tsayi da shi. (kamar lurar gwaji, takun kafa, danin hannu, da sauransu).

Awo	Malami	Dalibi
Tsayin benci	danin _____	danin _____

Gwaji

Aiki mutum biyu: Auna abubuwa (minti 15)

- A ce wa dalibai za su yi aiki su bibbiyu. A sa dalibai buɗe littafinsu Shafi na 59.
- Karanta wa dalibai umarnin da kuma tambayar farko su ji. A ce wa dalibai su rubuta awon da ya zama daidai da kowane dalibi a littafin rubutunsu.
- A kewayar da duba abin da dalibai suke yi. A yayin kewayawar, a taimaka masu wajen awon kuma a tabbatar masu da abin da suke yi daidai. Idan da lokaci ku kammala aikin da ke shafi na gaba.

Bayyanawa

Gaggauta auna fahimta (minti 5)

- A ce wa dalibai su daga takardarsu sama su nuna abin da suka rubuta. A yaba masu.

Aikin Gida

A sa dalibai su kammala sauran aikin dake Shafi na 59 a cikin littafinsu na rubutu a matsayin aikin gida. A ce wa dalibai su yi aiki tare da abokinsu ko wani dan uwa a gida a matsayin abokin aiki.

Manufa: Dalibai su iya auna faɗin abubuwan da ke cikin aji a gargajiyan.

Kayan Aiki:

Lokaci: Minti 35

Fara Darasi

Duba aikin gida (minti 2)

- Gaggauta duba aikin gida. A faɗa wa dalibai sakamakon su a kuma karfafa masu gwiwa.

Waka (minti 3)

- Ku yi ta rera wakar tare da dalibai.

Ga girma ga nauyi ga tsayi x2
 Mage doguwa. Kwalba gajera.
 Ga girma ga nauyi ga tsayi x2
 Dutse da nauyi. Takarda 'yar shafal.
 Ga girma ga nauyi ga tsayi (x2)
 Randa da girma. Moda 'yar karama.
 Ga girma ga nauyi ga tsayi (x2)

Koyo

Gabatar da lissafin awon faɗi (minti 10)

- Ka/ki ce:** *Yau za mu koyi yadda ake auna abubuwa mabambanta ta amfani da abubuwan awo daban-daban, da ma hannunmu da kafafu!*
- Zana jadawali a kan allo sannan a yi bayani cewa za ku auna faɗin kofar aji da ɗanin hannu.
- Ku kirga ɗani nawa za a samu na faɗin kofar, sai a rubuta adadin a kan allo. Misali, idan ɗani uku aka samu, sai a rubuta "3" a kan allo.
- A sa wani dalibi shi ma ya auna adadin ɗanin da ake bukata a sami faɗin kofar. Rubuta ɗanin hannun a cikin jadawalin karkashin dalibi.
- A tambayi dalibai wani abun da za su iya auna tsayi da shi. (kamar lurar gwaji, kamun gaba, tsalle, takun kafa, da sauransu.)

Awo	Malami	Dalibi
Faɗin kofa	ɗani _____	ɗani _____

Gwaji

Aiki mutum biyu: Auna faɗin abubuwa (minti 15)

- A ce wa dalibai za su yi aiki su bibbiyu. A sa dalibai su buɗe littafinsu Shafi na 60.
- Karanta wa dalibai umarnin da kuma tambayar farko su ji.
- A kewayar a duba abin da dalibai suke yi. A yayin kewayawar, a taimaka masu wajen awon kuma a tabbatar masu da abin da suke yi daidai. Idan da lokaci ku kammala aikin da ke shafi na gaba.

Bayyanawa

Gaggauta auna fahimta (minti 5)

- A ce wa dalibai su ɗaga takardarsu sama su nuna abin da suka rubuta. A yaba masu.

Aikin Gida

A sa dalibai su kammala sauran aikin dake Shafi na 60 a cikin littafansu na rubutu a matsayin aikin gida. A ce wa dalibai su yi aiki da abokinsu ko wani ɗan uwa a gida a matsayin abokin aiki.

Manufofi: Dalibai su iya auna tsayi da faɗin abu ta amfani da sandar mitar gwaji.

Kayan Aiki: Sandar mitar gwaji da ta lura

Lokaci: Minti 35

Fara Darasi

Duba aikin gida (minti 2)

- Gaggauta duba aikin gida. A faɗa wa dalibai sakamankonsu a kuma karfafa masu gwiwa.

Ga girma ga nauyi ga tsayi x2
 Mage doguwa. Kwalba gajera.
 Ga girma ga nauyi ga tsayi x2
 Dutse da nauyi. Takarda 'yar shafal.
 Ga girma ga nauyi ga tsayi (x2)
 Randa da girma. Moda 'yar karama.
 Ga girma ga nauyi ga tsayi (x2)

Waka (minti 3)

- Ku yi ta rera wakar tare da dalibai.

Koyo

Gabatar da kayan awu na zamani (minti 10)

- **Ka/ki ce:** Mun auna tsayi da faɗin abubuwa ta amfani da abubuwan awo mabambanta: hannayenmu, dantsenmu, yatsunmu. Amma kasancewar girmanmu ba ɗaya ba, awonmu sun bambanta. Wani lokaci, muna bukatar samun tsayayyen awo, don haka, sai mu yi amfani da sandar mitar gwaji ta zamani mu auna tsawo da santimita. Duk wanda ya yi amfani da sandar mitar gwaji (duk faɗin duniya) zai sami awon tsayi da faɗin abu daidai.
- Daga sandar mitar gwajin sama 'yan aji su gani. A tuna masu abin da jerin layukan da ke jikin sandar ke nufi (santimitoti) sai a ba su misali abubuwan da za ku iya aunawa da shi da kuma abin da za a iya aunawa ta santimita.
- **Ka/ki ce:** Bari mu gwada auna mita da santimitocin tsayin ɗaya daga cikin bencin aji.
- Gwada musu yadda za a yi awun dasandar mitar gwajin. Bayyana musu cewa idan akwai mitar gwajin da ba ta cika ba, za a iya gwajin ta kirga santimita sannan a mayar da su mita.
- Rubuta awon mita ta tsayin bencin da santimita a kan allo.
- A tambayi dalibai wani abun da za su iya auna tsayi da shi sai a sa wani dalibi ya je gaban aji ya auna tsayi ko faɗin da sandar mitar gwaji.

Gwaji

Aiki daidai ko bibbiyu: Auna abubuwa (minti 15)

- A ce wa dalibai za su yi aiki su bibbiyu. A sa dalibai bude littafinsu Shafi na 61.
- Karanta wa dalibai umarnin da kuma tambayar farko su ji.
- Bayyana wa dalibai cewa su auna tsayi da faɗin abubuwa da dama. Sai su rubuta awon a cikin littafin koyo.
- A kewayawa a duba abin da dalibai suke yi. A yayin kewayawar, a taimaka musu wajen awon kuma a tabbatar masu da abin da suke yi daidai. Idan da lokaci ku kammala aikin da ke shafi na gaba.

Bayyanawa

Gaggauta auna fahimta (minti 5)

- A ce wa dalibai su daga takardarsu sama su nuna abin da suka rubuta. A yaba masu.

Aikin Gida

A sa dalibai su kammala sauran aikin dake Shafi na 61 a cikin littafansu na aiki a matsayin aikin gida.

Manufa: Dalibai za su iya bita da gwajin aikin da aka gabatar a makon.

Kayan Aiki:

Lokaci: Minti 35

Fara Darasi

Duba aikin gida (minti 2)

- Gaggauta duba aikin gida. A fada wa dalibai sakamakonsu a kuma karfafa masugwiwa.

Waka (minti 3)

- Ku yi ta rera wakar tare da dalibai.

Ga girma ga nauyi ga tsayi x2
 Mage doguwa. Kwalba gajera.
 Ga girma ga nauyi ga tsayi x2
 Dutse da nauyi. Takarda 'yar shafal.
 Ga girma ga nauyi ga tsayi (x2)
 Randa da girma. Moda 'yar karama.
 Ga girma ga nauyi ga tsayi (x2)

Koyo

Bitu da maimaitawa (minti 10)

- Zabi wani labari daga ayyukan makon da ake ganin kamar dalibai suna fama da shi. A sake maimaita koyar da shi ko kuma a koyar da shi ta wata hanyar daban.

Gwaji

Aiki daidai ko a cikin rukuni: Zane da rubutu (minti 15)

- Ba dalibai jingar za ta taimaka musu su gwada abin da aka yi masu bita a kai (misali, auna tsayi da fadi ta hanyar zamani da gargajiya). Dalibai za su iya yin aiki a daidai kunsu ko kuma cikin kananan kungiyoyi.
- Yayin da dalibai suka mayar da hankali kan yin aikin jingar, a taimaka wa daliban da suke bukatar matuƙar taimako.

Bayyanawa

Auna fahimta da bayyanawa (minti 5)

- A ce wa dalibai su nuna aikin da suka kammala yayin gwaji.

Aikin Gida

A b dalibai aikin gida da za su yi bita da kuma nuna kwarewarsu.

Manufa: Dalibai su iya auna abubuwa daban-daban ta amfani da kananan kayan gwaji na gargajiya.

Kayan Aiki:

Lokaci: Minti 35

Fara Darasi

Duba aikin gida (minti 2)

- Gaggauta duba aikin gida. A faɗa wa dalibai sakamankonsu a kuma karfafa masugwiwa.

Ga girma ga nauyi ga tsayi x2
 Mage doguwa. Kwalba gajera.
 Ga girma ga nauyi ga tsayi x2
 Dutse da nauyi. Takarda 'yar shafal.
 Ga girma ga nauyi ga tsayi (x2)
 Randa da girma. Moda 'yar karama.
 Ga girma ga nauyi ga tsayi (x2)

Waka (minti 3)

- Ku yi ta rera wakar tare da dalibai.

Koyo

Gabatar da karamin kayan awo na gargajiya (minti 10)

- Ka/ki ce:** *Yau za mu ci gaba da auna abubuwa, amma a wannan karo, da kanana kayan gwaji na gargajiya. Wadannan sun haɗa da dabban ɗan yatsa da tsawon yatsa ko magogai.*
- Zana jadawali a kan allo sai a bayyana wa dalibai cewa za su auna tsawon fensir ɗinsu ta amfani da babban ɗan yatsa.
- Auna fensir da babban ɗan yatsa, sai a rubuta a kan allo. Misali, idan babban ɗan yatsa uku aka samu, sai a rubuta "3" a kan allo.
- A sa wani dalibi ya auna fensir ɗin a ga adadin ɗani nawa za a samu. Rubuta awon dalibin cikin jadawalin karkashin dalibi.
- A tambayi dalibai su ambaci wani kayan gwaji na gargajiya da za su iya auna tsayi da shi.

Awu	Malami	Dalibi
Tsawon fensur	ɗani ____	ɗani ____

Gwaji

Aiki mutum biyu: Auna abubuwa (minti 15)

- A ce wa dalibai za su yi aiki su bibbiyu. A sa dalibai buɗe littafinsu Shafi na 62.
- Karanta wa dalibai umarnin da kuma tambayar farko su ji. A ce wa dalibai su rubuta awon da ya zama daidai da kowane dalibi a littafin rubutunsu.
- A kewayar a duba abin da dalibai suke yi. A yayin kewayawar, a taimaka musu wajen awon kuma a tabbatar masu da abin da suke yi daidai. Idan da lokaci ku kammala aikin da ke shafi na gaba.

Bayyanawa

Gaggauta auna fahimta (minti 5)

- A ce wa dalibai su ɗaga takardarsu sama su nuna abin da suka rubuta. A yaba masu.

Aikin Gida

A sa dalibai su kammala sauran aikin dake Shafi na 62 a cikin littafansu na aiki a matsayin aikin gida. A ce wa dalibai su yi amfani da abokinsu ko wani ɗan uwa a gida a matsayin abokin aiki.

Manufofi: Dalibai su iya auna abubuwa ta amfani da sandar mitar gwaji da lura.

Kayan Aiki: Sandar mitar gwaji da lura/lurori

Lokaci: Minti 35

Fara Darasi

Duba aikin gida (minti 2)

- Gaggauta duba aikin gida. A faɗa wa ɗalibai sakamakonsu a kuma karfafa masu gwiwa.

Waka (minti 3)

- Ku ta rera waƙar tare da ɗalibai.

Ga girma ga nauyi ga tsayi x2
 Mage doguwa. Kwalba gajera.
 Ga girma ga nauyi ga tsayi x2
 Dutse da nauyi. Takarda 'yar shafal.
 Ga girma ga nauyi ga tsayi (x2)
 Randa da girma. Moda 'yar karama.
 Ga girma ga nauyi ga tsayi (x2)

Koyo

Awo da sandar mitar gwaji da kuma lura (minti 10)

- **Ka/ki ce:** *Mun auna tsayi da faɗin abubuwa da kayan awo da dama: hannayenmu, dantsenmu da ya yatsu. Amma saboda girmanmu ba ɗaya ba, awon dole su sha bamban. Wani lokaci, muna buƙatar samun awo daidai, don haka sai mu yi amfani da sandar mitar gwajin mita mu auna tsawo da kuma santimitoci. Duk wanda ya yi amfani da sandar mitar gwajin (duk faɗin duniya) zai sami awo daidai na tsayi da faɗin abin da ya auna.*
- Daga sandar mitar gwajin sama a aji su gani. Tuna masu cewa jerin layukan da ke jikin sandar na nufin (santimitoci) sai kuma a ba su misalan abubuwan da za a iya aunawa da sandar mitar gwajin da abubuwan awona santimitoci.
- **Ka/ki ce:** *Bari mu gwada ɗaya daga cikin bencin mu san mita da santimitarsa.*
- Nuna yadda za a yi gwaji da sandar mitar gwajin . Yi bayani cewa yayin awo, idan tsayin ya gaza kai wa mita, sai a yi awon da santimita sai a kara kan mitocin da aka samu.
- Rubuta mita da santimitar bencin a kan allo.
- A tambayi aji abin da suke son aunawa, sai a kira wani ɗalibi ya je gaban aji ya auna tsayi da faɗin abin da sandar mitar gwaji.

Gwaji

Aiki daidai ko bibbiyu: Auna abubuwa (minti 15)

- A ce wa ɗalibai za su yi aiki su bibbiyu. A sa ɗalibai buɗe littafinsu Shafi na 63.
- Karanta wa ɗalibai umarnin da kuma tambayar farko su ji.
- Bayyana wa ɗalibai cewa su auna tsayi da faɗin abubuwa da dama. Sai su rubuta awon a cikin littafin koyo.
- A kewaye a duba abin da ɗalibai suke yi. A yayin kewayawar, a taimaka masu wajen awun kuma a tabbatar masu da abin da suke yi daidai. Idan da lokaci ku kammala aikin da ke shafi na gaba.

Bayyanawa

Gaggauta auna fahimta (minti 5)

- A ce wa ɗalibai su daga takardarsu sama su nuna abin da suka rubuta. A yaba masu.

Aikin Gida

A sa ɗalibai su kammala sauran aikin dake Shafi na 63 a cikin littafansu na rubutu a matsayin aikin gida.

Manufa: Dalibai su iya gano tsayin daliban aji.

Kayan Aiki:

Lokaci: Minti 35

Fara darasi

Duba aikin gida (minti 2)

- Gaggauta duba aikin gida. A fada wa dalibai sakamankonsu a kuma karfafa masu gwiwa.

Gajere da dogo (minti 3)

- Kira dalibai biyu su je gaban aji su tsaya suna ba juna baya.
- **Ka/ki ce:** *Dalibin da ya fi tsayi shi ne dogo. Dalibin da yake da karancin tsayi shi ne gajere.*

Koyo

Gabatar da awon tsayi (minti 10)

- **Ka/ki ce:** *Yau za mu koyi abin da ake nufi da tsayi. Tsayi daidai yake da tsawo. Tsawo shi ne tazarar da ke tsakanin wuri da wuri a shimfide ko a tsaye.*
- Zana jadawali a kan allo sai a fadawa wa dalibai cewa za su gwada auna tsayin abu.
- Kira dalibi/daliba ya/ta je gaban aji ya/ta jingina bayansa/ta a jikin allo. Yi amfani da alli, a zana layi a daidai inda kan dalibin/dalibar ya kai a kan allo.
- A sa dalibai yadda za su auna tsayin abokan karatunsu (Misali, za su iya auna tsayin da fadin hannu, tep na awo, da taki ko kamun hannu).
- Kira dalibi daya ya je gaban aji ya yi amfani da hannunsu ya auna tsayin daya dalibin. Zai fara daga kasa zuwa sama har ya kai inda aka ja layin a kan allo. Rubuta awon cikin jadawalin karkashin dalibi na 1.
- Sa wani dalibi ya yi awon. Rubuta awon cikin jadawalin karkashin dalibi na 2 a kan allo.
- Umurci dalibai su gano wane dalibine ya fi tsawo da kuma gajarta.

Tsayi	
Dalibi na 1	Dalibi na 2
kamu _____	kamu _____

Gwaji

Aikin cikin karamin rukuni : Awon tsayi (minti 15)

- A sa dalibai su zazzauna a kananan rukunoni 3-5. Zabi jagora a kowane rukuni ya taimaka wajen raba littafin dalibai. A sa dalibai su bude littafinsu Shafi na 64.
- Yi wa dalibai bayani cewa za su auna juna don sanin tsayinsu. Kira dalibin farko ya tsaya jikin allo. Wani dalibin ya auna tsayin dalibin farkon da hannu, yana farawa daga kasa zuwa inda tsayinsa ya kai a jikin allon. Sai su rubuta awon tsayin da hannun, a littafin rubutunsu.
- A yi ta yi har sai an auna kowane dalibi.
- A kewaye a lura da abin da dalibai ke yi sannan a taimaka masu inda suke da bukata. Tabbata kowane dalibi ya auna dan'uwansa dalibi shi ma kuma an auna shi.

Bayyanawa

Bayyana kyawawan misalai (minti 5)

- A sa dalibai su bayyana wa juna bayananan da suka tattara na rukunin su.

Aikin gida

A sa dalibai su kammala sauran aikin dake Shafi na 64 a cikin littafansu na aiki a matsayin aikin gida. Su dauki awan tsayin mutum biyu a gidansu.

Manufofi: Dalibai su iya jera abubuwa dangane da tsawo da faɗi da kuma tsayi.

Kayan Aiki:

Lokaci: Minti 35

Fara darasi

Duba aikin gida (minti 2)

- Gaggauta duba aikin gida. A faɗa wa dalibai sakamankonsu a kuma karfafa masugwiwa.

Waka (minti 3)

- Ku yi ta rera wakar tare da dalibai.

Ga girma ga nauyi ga tsayi x2
 Mage doguwa. Kwalba gajera.
 Ga girma ga nauyi ga tsayi x2
 Dutse da nauyi. Takarda 'yar shafal.
 Ga girma ga nauyi ga tsayi (x2)
 Randa da girma. Moda 'yar karama.
 Ga girma ga nauyi ga tsayi (x2)

Koyo

Gabatar da shirya abubuwa dangane da tsawo da kuma faɗi (minti 10)

- **Ka/ki ce:** *Yau, za mu shirya kanmu dangane da tsayi.*
- Kira wasu dalibai uku su je gaban aji su tsaya gefe da gefe da juna.
- A sa sauran dalibai su faɗi mafi tsawon cikinsu da mafi gajarta. A sa daliban nan su jeru daga mafi tsawo zuwa mafi gajarta.
- Kira wani dalibi zuwa gaban allo ya ja layin daidai inda tsayin kowane uku daga daliban nan ya kai, ya kuma kiyaye da jerantuwasu daga mafi tsawo zuwa mafi gajarta.
- Ci gaba da kiran daliban ɗaya bayan ɗaya suna shiga layi har su kai 20 (ko fiye!) a jere daga dogo zuwa mafi gajarta.
- **Ka/ki ce:** *Wane dalibi ne mafi tsawo? Wane dalibi ne mafi gajarta?*

Gwaji

Aiki daidai ko bibbiyu: Gane tsayi da mita (minti 15)

- A sa dalibi 1 ko 2 su taimaka wajen rarraba wa dalibai littafinsu. A sa daliban su buɗe littafinsu Shafi na 65.
- Karanta wa daliban umarnin su ji.
- **Ka/ki ce:** *Rubuta sunayen daliban dangane da tsayinsu daga mafi tsawo zuwa mafi gajarta.*
- Dalibai kan iya duba aikin junansu don ganin ko sun yi daidai.
- A zagaya a duba aikin da dalibai ke yi. A yayin zagayawar, a tambaye su yadda suka samo amsarsu, sai a duba ko sun yi daidai.

Bayyanawa

Auna fahimta da bayyanawa (minti 5)

- **Ka/ki ce:** *Ta yaya shirya bayanai a jere ke taimaka wa fahimtarku?*
- Kira wasu daliban su bayyana wa aji amsoshinsu.

Aikin gida

A sa dalibai su kammala sauran aikin dake Shafi na 65 a cikin littafansu na rubutu a matsayin aikin gida.

Manufofi: Dalibai su iya bita da gwajin aikin da aka gabatar a makon.

Kayan Aiki:

Lokaci: Minti 35

Fara Darasi

Duba aikin gida (minti 2)

- Gaggauta duba aikin gida. A fada wa dalibai sakamakonsu a kuma karfafa masu gwiwa.

Waka (minti 3)

- Ku ta rera wakar tare da dalibai.

Ga girma ga nauyi ga tsayi x2
 Mage doguwa. Kwalba gajera.
 Ga girma ga nauyi ga tsayi x2
 Dutse da nauyi. Takarda 'yar shafal.
 Ga girma ga nauyi ga tsayi (x2)
 Randa da girma. Moda 'yar karama.
 Ga girma ga nauyi ga tsayi (x2)

Koyo

Bitu da maimai (minti 10)

- Zabi wani labari daga ayyukan mako da ake ganin kamar dalibai suna fama da shi. A sake maimaita koyar da shi ko kuma a koyar da shi ta wata hanyar daban.

Gwaji

Aiki daidai ko a cikin rukuni: Zane da rubutu (minti 15)

- Ba dalibai jingar da za ta taimaka masu su gwada abin da aka yi musu bita a kai (misali, jera abubuwa dangane da tsawo ko fadi ko kuma tsayinsu). Dalibai za su iya yin aiki a daidai kansu ko kuma cikin kananan rukunai.
- Yayin da dalibai suka mayar da hankali kan yin aikin jingar, a taimaka wa daliban da suke bukatar matuƙar taimako.

Bayyanawa

Auna fahimta da bayyanawa (minti 5)

- A ce wa dalibai su nuna aikin da suka kammala yayin gwaji.

Aikin Gida


A ba dalibai aikin gida da za su yi bita da kuma nuna kwarewarsu.

Darasin Lissafi Aji 2, Zango na 3, Mako na 6 – Jarrabawar tsakiyar Zango


Tara waƙannan lambobin. (A bayar da maki biyar idan an amsa daidai)

$$10 + 10 + 10 + 10 + 10 = \underline{\hspace{2cm}}$$

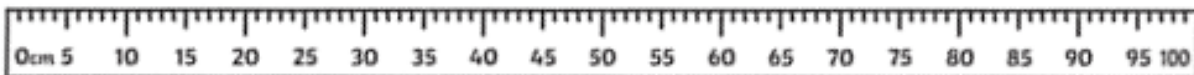
Tara waƙannan takardun kudi, a ba da amsa. (A bayar da maki biyar idan an amsa daidai)



Wane ne ya fi tsawo? (A bayar da maki biyu idan an amsa daidai)



Adadin senti mita nawa ne tsawon wannan hula. (A bayar da maki uku idan an amsa daidai)



Manufofi: Dalibai su iya yin lissafin tarawa da debewa ta amfani da Naira.

Kayan Aiki: Takardun kudi na wasa

Lokaci: Minti 35

Fara Darasi

Duba aikin gida (minti 2)

- Gaggauta duba aikin gida. A faɗa wa ɗalibai sakamakonsu a kuma karfafa masu gwiwa.

Ina ‘yan yara, ina ‘yan yara, ina ‘yan yara yaran yanzu.
Mu ne yara mu ne yara mu ne yara yaran yanzu.
Ina ‘yan yara manyan gobe. Mu ne yara manyan gobe.
Mu koyi karatu ‘yan yara. Don muzan manyan gobe.

Waka (minti 3)

- Ku yi ta maimaita rera wakar tare da ɗalibai na wani lokaci.
- Kira wani ɗalibi waje ya rera wa aji wakar.

Koyo

Lissafin tarawa da Naira (minti 8)

- **Ka/ki ce:** *Yau, za mu gwada yin lissafin tarawa da debewa ta amfani da takardun kudi na wasa.*
- Kira wani ɗalibi zuwa gaban allo sai a ba shi ₦100 da ₦50 da kuma ₦500.
- **Ka/ki ce:** *Kudi nawa nake da su gaba ɗaya?*
- A sa ɗalibi ya rubuta fasalin lissafin tarawar da ke kan allo.
- A tabbata fasalin lissafin $100 + 50 + 200 = \underline{\quad}$ na rubuce sai kuma a amsa tare da ɗalibai kowa na ji.

Lissafin debewa da Naira (minti 7)

- **Ka/ki ce:** *Za mu iya kuma gwaji yin debewa da takardun kudi.*
- Kira wani ɗalibi/ɗaliba zuwa gaban allo a ba shi ₦50 da ₦20.
- A sa ɗalibi/ɗaliba ya rubuta fasalin lissafin debewar da ke kan allo.
- A tabbata fasalin lissafin $100 - 50 = \underline{\quad}$ na rubuce kuma kuma a amsa tare da ɗalibai lokaci guda kowa na ji.

Gwaji

Gwajin cikin karamar rukuni : lissafin tarawa da debewa ta amfani da takardun kudi (minti 10)

- A sa ɗalibai su zazzauna a kananan rukunai. A zaɓi ɗalibi 1 daga kowane rukuni ya raba wa ‘yan rukuninsa kudin wasa. A sa ɗalibai buɗe littafinsu Shafi na 66.
- A faɗa wa ɗalibai su yi aiki tare kuma su yi amfani da kuɗin wasan wajen amsa tambayoyin da ke cikin littafinsu.
- A zagaya a duba aikin da ɗalibai ke yi. A yayin zagayawar, a tambaye su yadda suka samo amsarsu, sai a duba ko sun yi daidai.

Bayyanawa

Auna fahimta da bayyanawa (minti 5)

- Umurci ɗalibai su kalli abokan zamansu su bayyana abinda sukayi a rukunansu.

Aikin Gida

A sa ɗalibai su kammala sauran aikin dake Shafi na 66 a cikin littafansu na rubutu a matsayin aikin gida.

Manufofi: Dalibai su iya amfani da hanyar rubanya tarawa wajen yin lissafin sau na 2-2 da 5-5 da kuma 10-10.

Kayan Aiki: Abubuwan kirge (wake ko tsakuwa), Zanen layin lamba

Lokaci: Minti 35

Fara Darasi

Duba aikin gida (minti 2)

- Gaggauta duba aikin gida. A fada wa dalibai sakamakonsu a kuma karfafa masu gwiwa.

Waka (minti 3)

- Ku yi ta maimaita rera wakar tare da dalibai na wani lokaci.
- Kira wani dalibi waje ya rera wa aji wakar.

Biyu sau ɗaya biyu / Biyu sau biyu huɗu
 Biyu sau 3 Shidda / Biyu Sau 4 Takwas
 Biyu sau 5 Goma / Biyu sau 6 goma sha biyu
 Biyu sau bakwai goma sha huɗu /
 Biyu sau Takwas goma sha shida
 Biyu sau Tara goma sha takwas /
 Biyu sau Goma Ashirin

Koyo

Bitu kan lissafin sau ta hanyar rubanya tarawa (minti 10)

- **Ka/ki ce:** *Yau za mu ci gaaba dayin lissafin sau ta hanyar rubanya tarawa.*
- Kira dalibai 5 zuwa gaban allo. A tambayi dalibai nawa ne a nan. sannan, a kira wasu biyar su je gaban allo sai a ce masu su tsaya su ma guri guda daban da na farko.
- **Ka/ki ce:** *Muna da dalibai 5 sannan muka kara wasu gungun 5. Yanzu muna da dalibai nawa?*
- Kirga adadin daliban da karfi tare da daliban ajin. Kira wasu dalibai guda 5 zuwa gaba.
- **Ka/ki ce:** *Mun kara wasu dalibai 5. Muna da dalibai nawa yanzu?*
- Rubuta $5+5+5 = 15$ a kan allo.
- **Ka/ki ce:** *5 a tara da 5 a kuma tara da 5 daidai yake da 15. Mun tara gungun 5 uku. Za mu iya rubuta fasalin lissafin da rubanya tarawa, ko kuma mu yi amfani da alamar sau, ko kuma zamu iya rubutashi ta amfani da alamar sau.*
- Rubuta $5 \times 3 = 15$ a kan allo.
- Idan da lokaci, a maimaita da wasu dalibai da kuma rukunai 2 da 10.

Gwaji

Aiki daidai ko bibbiyu: Lissafin sau da 2-2 da 5-5 da kuma 10-10 (minti 15)

- A sa dalibai bude littafinsu Shafi na 67.
- Karanta wa dalibai umarnin, da kuma tambayar farko su ji. A sa dalibai su amsa tambaya a littafin rubutunsu. Za su iya nuna wa juna amsarsu su don sanin ko sun yi daidai.
- A zagaya a duba aikin da dalibai ke yi. A yayin zagayawar, a tambaye su yadda suka samo amsarsu, sai a duba ko sun yi daidai.
- Idan da lokaci, ku kammala aikin da ke shafi na gaba.

Bayyanawa

Gaggauta auna fahimta (minti 5)

- A ce wa dalibai su daga littafansu sama su nuna abin da suka rubuta. A yaba masu.

Aikin Gida

A sa dalibai su kammala sauran aikin dake Shafi na 67 a cikin littafansu na rubutu a matsayin aikin gida.

Manufofi: Dalibai su iya auna tsawo da tsayi da fadin abubuwa da ke cikin aji a gargajiyance.

Kayan Aiki:

Lokaci: Minti 35

Fara darasi

Duba aikin gida (minti 2)

- Gaggauta duba aikin gida. A faɗa wa ɗalibai sakamankonsu a kuma karfafa masu gwiwa.

Waka (minti 3)

- Ku ta rera wakar tare da ɗalibai.

Ga girma ga nauyi ga tsayi x2
 Mage doguwa. Kwalba gajera.
 Ga girma ga nauyi ga tsayi x2
 Dutse da nauyi. Takarda 'yar shafal.
 Ga girma ga nauyi ga tsayi (x2)
 Randa da girma. Moda 'yar karama.
 Ga girma ga nauyi ga tsayi (x2)

Koyo

Gabatar da lissafin awun fadi(minti 10)

- **Ka/ki ce:** *Yau za mu auna tsayi da fadin abubuwa da kayan awo mabambanta.*
- Zana jadawali a kan allo sai a bayyana wa ɗalibai cewa za su auna fadin littafin aiki da ɗanin yatsu.
- Kirga adadin ɗanin yatsan da zai kai a auna fadin littafin, sai ka rubuta a kan allo. Misali, idan ɗani uku ka samu, sai ka rubuta "3" a kan allo.
- A sa wani ɗalibi/ɗaliba ya/ta kirga adadin ɗanin yatsa da ake bukata wajen awon fadin littafin rubutu. Rubuta awon a jadawali karkashin ɗalibi.
- A tambayi ɗalibai abin da za su iya amfani da shi su auna tsawo ko fadin abu (kamar lurar awo, gaba, tsalle, taku, dasauransu.)

Awo	Malami	Dalibi
Fadin littafi	yatsa	yatsa

Gwaji

Aiki mutum biyu: Auna fadin abubuwa (minti 15)

- A ce wa ɗalibai za su yi aiki su bibbiyu. A sa ɗalibai su buɗe littafinsu Shafi na 68.
- Karanta wa ɗalibai umarnin da kuma tambayar farko su ji.
- Faɗa wa ɗalibai cewa su auna tsayin litattafinsu na rubutu ta amafani da fensur. Su rubuta awun kowanensu a littafin rubutunsu.
- A zagaya a duba abin da ɗalibai suke yi. A yayin zagayawar, a taimaka masu wajen awon kuma a tabbatar masu da abin da suka yi daidai. Idan da lokaci ku kammala aikin da ke shafi na gaba.

Bayyanawa

Gaggauta auna fahimta (minti 5)

- A ce wa ɗalibai su ɗaga littafinsu sama su nuna abin da suka rubuta. A yaba musu.

Aikin Gida

A ce wa ɗalibai su kammala sauran aikin da ke Shafi na 68 cikin littafinsu a matsayin aikin gida. A ce wa ɗalibai su yi aiki da abokinsu ko wani ɗan uwa a gida a matsayin abokin aiki.

Manufofi: Dalibai su iya auna abubuwa ta amfani da sandar mitar gwaji da lura.

Kayan Aiki: Sandar mitar gwaji da lura/lurori

Lokaci: Minti 35

Fara Darasi

Duba aikin gida (minti 2)

- Gaggauta duba aikin gida. A faɗa wa ɗalibai sakamakonsu a kuma karfafa masu gwiwa.

Waka (minti 3)

- Ku ta rera wakar tare da ɗalibai.

Ga girma ga nauyi ga tsayi x2
 Mage doguwa. Kwalba gajera.
 Ga girma ga nauyi ga tsayi x2
 Dutse da nauyi. Takarda 'yar shafal.
 Ga girma ga nauyi ga tsayi (x2)
 Randa da girma. Moda 'yar karama.
 Ga girma ga nauyi ga tsayi (x2)

Koyo

Awo da sandar mitar gwaji da kuma lura (minti 10)

- **Ka/ki ce:** *Mun auna tsayi da faɗin abubuwa da kayan awo da dama: hannayenmu, dantsenmu da yatsu. Amma saboda girmanmu ba ɗaya ba, awon dole su sha bamban. Wani lokaci, muna bukatar samun awo daidai, don haka sai mu yi amfani da sandar mitar gwaji mu auna tsawo da santimitoci. Duk wanda ya yi amfani da sandar mitar gwajin (duk faɗin duniya) zai sami awo daidai na tsayi da faɗin abin da ya auna.*
- Daga sandar mitar gwajin sama a aji su gani. Tuna musu cewa jerin layukan da ke jikin sandar na nufin (santimitoci) sai kuma a ba su misalai abin da za a iya aunawa da mita da kuma wanda za a auna da santimita.
- **Ka/ki ce:** *Bari mu gwada auwan tsayin wani ɗalibi da mita da kuma santimita.*
- Nuna yadda za a yi gwaji da sandar mitar gwajin. Yi bayani cewa yayin awo, idan tsayin ya gaza kai wa mita, sai a yi awun da santimita sai a kara kan mitocin da aka samu.
- Kira wani ɗalibi ya je gaban allo ya nuna yadda zai auna tsayinsa da mita ko santimita. Rubuta tsayin nasa a kan allo.
- Idan da lokaci, maimaita da wasu ɗaliban.

Gwaji

Aikin cikin karamin rukuni : Awun tsayin abubuwa (minti 15)

- A sa ɗalibai su zauna a kananan rukunoni. A sami wani ɗalibi a kowane rukuni ya taimaka wajen raba wa kowane rukuni sandar mitar gwaji (ko wani abu mai tsawonsa).
- Yi wa ɗalibai bayani cewa su nemo abu ɗaya a aji da ya fi tsawo ko ya fi faɗi ko kuma yake da tsawon da ya ɗara mita ɗaya. Su zana a cikin littafin rubutunsu.
- Sannan, su nemo abun da ya fi gajarta, tsukakke ko kuma mafi kankanta da ya gaza mita ɗaya. Su zana hoton abun a cikin littafin rubutunsu.
- A kewaye a lura da abin da ɗalibai ke yi sannan a taimaka masu.

Bayyanawa

Bayyana kyawawan misalai (minti 5)

- A sa ɗalibai su tattauna da wasu 'yan rukuninsu akan abin da suka iya samowa. Su tattauna kan abubuwan da suka fi girma da waɗanda suka fi kankanta.

Aikin Gida

A ce wa ɗalibai su auna tsawon wani abu a gidansu. Su rubuta awun nasu a littafin rubutunsu.

Manufofi: Dalibai za su iya rarrabewa sannan su shafa kala a siffofin da suke kama da juna.

Kayan Aiki: Siffofi daban-daban da aka yi da takarda.

Lokaci: Minti 35

Fara Darasi

Duba aikin gida (minti 3)

- Gaggauta duba aikin gida. A faɗa wa dalibai sakamakonsu a kuma karfafa masu gwiwa.

Waƙa (minti 2)

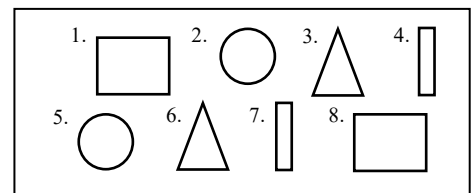
- A yi ta rera waƙar tare da dalibai.
- Nemi ɗaya daga cikin dalibai ya/ta ya rera wa ‘yan ajin waƙar.

Zan iya rarrabewa, zan iya rarrabewa.
Lalle zan iya. Lalle zan iya.
Za ku iya rarrabe wake? Za ku iya rarrabe wake?
Lalle zan iya. Lalle zan iya.

Koyo

Gabatarwa a kan siffofi masu kama da juna (minti 10)

- **Ka/ki ce:** *Yau za mu koyi siffofi masu kama da juna. Siffofi biyu za su iya kama da juna idan suna da kamanni iri ɗaya. Misali za su iya zama ɗaya kala ko ta sifa ko kuma ta girma.*
- Zana siffofin a kan allo sannan a ba kowane lamba daga 1 – 8.
- Nuna kowace sifa sannan a umurci dalibai su faɗi sunanta a bayyane tare da kai/ke.
- **Ka/ki ce:** *Tun da yanzu mun ambaci sunayen dukkan siffofin, yanzu sai mu danganasu da waɗanda suka yi kama da juna. Waɗanne siffofi ne suke iri ɗaya?*
- Umurci dalibai ɗaya bayan ɗaya zuwa gaban allo su rika zagaye siffofi biyu da suke kama da juna.



Gwaji

Wasan dukkan aji: Siffofi masu kama da juna? (minti 15)

- Zana da'ira da siffar akwati a takardu daban-daban. Rataye kowace takarda wurare daban-daban masu kallon juna a cikin aji.
- Yi bayanin cewa za ka/ki faɗi wani abu wanda dalibai suke yawan gani a rayuwarsu ta yau da kullum. Yayin da ka/kika ambaci sunan abin, sai dalibai su yi sauri su je wurin sifar da take kama da abin da aka ambata. Misali, idan aka ce “Rana”, dalibai sai su tafi bangaren ajin da yake da da'ira. Saboda siffar rana ta yi kama da da'ira.
- Bayar da waɗannan misalan: *marfin kwalba da tayar keke da kofa da littafi da rana, da filin kwallon kafa da kuma tsabar kudi.*
- Idan da sauran lokaci, a maimaita da wasu abubuwan.

Bayyanawa

Auna fahimta cikin gaggawa (minti 5)

- Zana siffofi daban-daban guda uku a kan allo. A sa dalibai su gano waɗanda suka yi kama da juna da kuma waɗanda suka bambanta.

Aikin Gida

A sa dalibai su zana wani abu da suke gani a rayuwarsu ta yau da kullum wanda ya yi kama da siffar akwati.

Manufofi: Dalibai za su iya rarrabe manya da kanana da kuma abubuwa masu girma ɗaya

Kayan Aiki: Abubuwa masu bambancin girma da siffa (kwallo da tsakuwoyi da itatuwa da makamantansu.)

Lokaci: Minti 35

Fara Darasi

Duba aikin gida (minti 2)

- Gaggauta duba aikin gida. A faɗa wa ɗalibai sakamakonsu a kuma karfafa masugwiwa.


Wasan motsa jiki (minti 3)

- A sa ɗalibai su kwaikwayi motsin jikin da za ka/ki yi yanzu.
- Da farko, yi karamar da'ira da yatsu sannan kuma sai a yi babbar da'ira da hannu a kan iska. A ce "karamar da'ira", "babbar da'ira" a kowane motsi da aka yi. Daga nan sai a sa ɗalibai ma su aikata bayan ka/kin yi.
- A sa dukkan aji su tashi domin a yi motsin tare.

Koyo

Gabatar da abubuwa masu mabambantan girma (minti 10)

- **Ka/ki ce:** *Yau za mu koyi wani abu a kan ma fi girma da ma fi kankanta da kuma masu girma ɗaya. Wata hanyar da za mu iya bi wajen jera abubuwa ita ce ta girma-girma.*
- Zana wani abu mai mabambantan girma a kan allo (Misali: buhunhuna). A yi wa ɗalibai bayanin cewa, ɗaya daga cikin kayan karami ne ɗaya matsakaici ne ɗaya kuma babba ne.
- Daga itatuwa guda uku a gaban aji: ɗaya karami ne, ɗaya matsakaici ne, sannan ɗaya kuma babba ne. A sa ɗalibai su jera waɗannan itatuwan dangane da girmansu.
- A sa ɗalibai su duba wanne ne daga cikin itatuwan ya fi kowane girma a cikinsu sannan da wanda ya fi kowane kankanta.
- A sa ɗaya daga cikin ɗaliban ya/ta fito gaban aji su duba ko za su sami itatuwa biyu waɗanda girmansu ɗaya ne.
- Maimaita da wasu abubuwa da suke da kamanci da kuma waɗanda suke da bambanci.
- A sa ɗalibai su fito gaban aji su zaɓi abubuwa masu mabambantan girma. Abubuwan za su iya zama iri ɗaya ko masu bambanci. A ce su ɗaga abubuwan da suka zaɓa sama sannan su faɗi manya ne ko kanana ko kuma girmansu ɗaya ne da sauran. Daga nan sai a sa ɗaliban su jera su dangane da girmansu.



Gwaji

Aikin kananan rukunoni: Rarrabewa dangane da girma (minti 15)

- A sa ɗalibai su zauna cikin kananan rukunoni. A zaɓi shugaba daga kowane rukuni da zai taimaka wajen rabon kaya iri-iri wa 'yan rukuninsu.
- A sa ɗaliban kowane rukuni su rika jujjuyawa ɗaya bayan ɗaya, wajen jera abubuwan nan guda uku dangane da girmansu daga karami zuwa babba. Ana so su ware wanne ne "Ma fi kankanta" sannan kuma wanne ne "Ma fi girma".
- A tambayi ɗalibai ko akwai abubuwa guda biyu ko fiye da haka da girmansu ya zama ɗaya.
- Zagaya domin lura da ɗalibai da kuma bayar da tallafi.

Bayyanawa

Nuna wa abokin aiki (minti 5)

- Dalibai za su tattauna da abokan aikinsu abubuwan da suka yi a rukunoninsu.

Aikin Gida

A sa ɗalibai su nemo abubuwa uku masu kama da juna amma masu bambancin girma sannan su zana su a cikin litattafansu na rubutu a gida.

Manufa: Dalibai za su jera abubuwa dangane da siffar su.

Kayan Aiki: Fasali daban-daban na takarda

Lokaci: Minti 35

Fara Darasi

Duba aikin gida (minti 3)

- Gaggauta duba aikin gida. A fada wa dalibai sakamankonsu a kuma karfafa masu gwiwa.

Waka (minti 2)

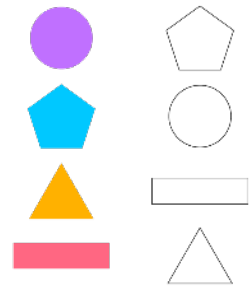
- A yi ta rera wakar tare da dalibai.

Zan iya rarrabewa, zan iya rarrabewa. Lalle zan iya. Lalle zan iya.
Za ku iya rarrabe wake? Za ku iya rarrabe wake? Lalle zan iya. Lalle zan iya.

Koyo

Jera abubuwa dangane da siffar su (minti 10)

- **Ka/ki ce:** *Yau za mu rarrabe abubuwa dangane da siffar su.*
- Baje kolin fasali daban-daban masu fuska biyu waɗanda suke da kusurwa-kusurwa, irin su siffar akwati, da siffar gidan dara da kuma kusurwa uku, da kuma siffofi da basu da kusurwa irin su da'ira da siffar kwai.
- **Ka/ki ce:** *Za mu ware siffofi masu fuska biyu, da suke da wani abu iri ɗaya misalai masu kusurwa ko kuma marasa kusurwa.*
- A sa dalibai biyu ko uku su fito gaban aji su ware waɗannan siffofin, dangane da kamanninsu. A ba su kwarin guiwa su rika ambaton kamannin ta hanyar tambayar su me ya sa aka saka wannan a nan? Yana da kusurwa ne? Fuskoki nawa yake da su? Gefenawa yake da su?
- A sa wasu daliban kuma daban su fito gaban aji su sake yin irin haka.



Gwaji

Aiki a cikin kananan rukunai: Ware abubuwa dangane da siffarsu (minti 15)

- A zagaya ana duba dalibai. A yayin zagayawar, a tabbata ko sunyi daidai sannan a taimaka masu idan da bukar hakan.
- A sa dalibai su zauna cikin kananan rukunai. A ba kowane rukuni tarin abubuwa masu siffofi daban-daban da aka yi da takarda. A yi musu bayanin cewa za su yi aiki cikin rukunai domin jera abubuwan dangane da siffofinsu.
- A ba su abubuwa daban-daban, sannan a kyalesu da tunanin yadda za a jera su dangane da siffarsu. A fadi masu su yi bayanin ka'idar da za su yi amfani da ita wajen warewa. Misali mene ne yake ɗaya a tsakanin abubuwan?
- Zagaya domin lura da dalibai. Yayin da ake zagayawa, a tabbatar masu ko abin da suke yi daidai ne, sannan kuma a bayar da tallafi idan bukar hakan ta taso.

Bayyanawa

Bayyana kyawawan misalai (minti 5)

- Zabi shugaba a kowane rukuni wanda zai fada wa sauran 'yan ajin yadda suka ware abubuwasu.

Aikin Gida

A sa dalibai su yi siffofi daban-daban ta hanyar yanka takardu ko katan-katan ɗin da babu komai a ciki.

Manufa: Dalibai za su jera abubuwa dangane da girmansu.

Kayan Aiki: Abubuwa masu girma daban-daban (itatuwa ko tsakuwoyi ko ganyayyaki da sauransu)

Lokaci: Minti 35

Fara Darasi

Duba aikin gida (minti 3)

- Gaggauta duba aikin gida. A fada wa dalibai sakamankonsu a kuma karfafa masu gwiwa.

Zan iya rarrabewa, zan iya rarrabewa. Lalle zan iya. Lalle zan iya.
Za ku iya rarrabe wake? Za ku iya rarrabe wake? Lalle zan iya. Lalle zan iya.

Waka (minti 2)

- A yi ta rera wakar tare da dalibai.

Koyo

Jera abubuwa dangane da girmansu (minti 10)

- **Ka/ki ce:** *Yau, za mu jera abubuwa dangane da girmansu.*
- Baje kolin abubuwa daban-daban da aka bayar, (itatuwa ko abubuwa marasa komai a ciki ko tsakuwoyi da murafen kwalba)
- **Ka/ki ce:** Za mu jera abubuwa dangane da girmansu.
- A sa dalibai biyu ko uku su fito gaban aji su ware wadannan abubuwan, dangane da girmansu. A ba su kwarin guiwa su rika ambaton kamannin ta wajen tambayar su me ya sa aka saka wannan a nan?
- Gayyaci wasu daliban kuma daban su fito gaban aji su sake yin irin haka.

Gwaji

Aiki a daidai: Ware abubuwa dangane da girmansu (minti 15)

- A tura dukkan dalibai wajen aji a ce su nemo abubuwa daban-daban (murafen kwalba ko itatuwa ko akwatuna ko kuma mazubai da babu komai a ciki).
- A sa dalibai su zauna cikin kananan rukunai.
- A sa su jera kayan dangane da girmansu. A ce su yi bayanin ka'idar da suka bi wajen warewar: misali mene ne bambanci a tsakanin wadannan abubuwa? (Wasu suna da girma, wasu kuma kanana ne)
- Zagaya domin lura da dalibai. Yayin da ake zagayawa, a tabbatar masu ko abin da suke yi daidai ne, sannan kuma a bayar da tallafi idan bukatar hakan ta taso.

Bayyanawa

Bayyanawa a dukkan aji (minti 5)

- Zabi shugaba a kowane rukuni domin gabatar wa 'yan aji yadda suka jera abubuwasu.

Aikin Gida

A sa dalibai su rubuta abubuwa guda biyu manya da za a iya samu a gidansu.

Manufofi: Dalibai za suyi bita da gwajin aikin da aka gabatar a makon.

Kayan Aiki:

Lokaci: Minti 35

Fara Darasi

Duba aikin gida (minti 3)

- Gaggauta duba aikin gida. A fada wa dalibai sakamankonsu a kuma karfafa masu gwiwa.

Waka (minti 2)

- Ku rera wakar tare da dalibai.

Zan iya rarrabewa, zan iya rarrabewa. Lalle zan iya. Lalle zan iya.
Za ku iya rarrabe wake? Za ku iya rarrabe wake? Lalle zan iya. Lalle zan iya.

Koyo

Bitu da maimaitawa (minti 10)

- Zabi wani labari daga ayyukan mako da ake ganin kamar dalibai suna fama da shi. A sake maimaita koyar da shi ko kuma a koyar da shi ta wata hanyar daban.

Gwaji

Aiki a daidai ko cikin kungiyoyi: Tarawa da debewa da Naira (minti 15)

- A ba dalibai wani aiki wanda zai taimaka masu gwajin abin da ake bita a kansa (Misali, rarrabe abubuwa dangane da sifarsu ko girmansu ko kuma kalarsu). Dalibai za su iya yin aiki a daidai kunsu ko kuma cikin kungiyoyi.
- Yayin da dalibai suke mayar da hankalinsu a kan aikinsu, a samar da wani taimako ga wafanda suka fi bukatarsa.

Bayyanawa

Auna fahimta da bayyanawa (minti 5)

- A sa dalibai su nuna ayyukan da suka kammala a lokacin gwaji.

Aikin Gida

A ba dalibai aikin gida don bita da gwajin abin da suka koya.

Manufofi: Dalibai za su auna girman mazubi sannan a danganta abubuwa ta hanyar amfani da “Ya fi” da “bai kai ba” da “mafi yawa” da “mafi karanci”.

Kayan Aiki: Mazubi mai girma daban-daban, bokitin ruwa ko yashi da kofi

Lokaci: Minti 35

Fara Darasi

Duba aikin gida (minti 3)

- Gaggauta duba aikin gida. A fada wa dalibai sakamankonsu a kuma karfafa masu gwiwa.

Waka (minti 2)

- Ku rera wakar tare da dalibai.

Ga girma ga nauyi ga tsayi x2
 Mage doguwa. Kwalba gajera.
 Ga girma ga nauyi ga tsayi x2
 Dutse da nauyi. Takarda ‘yar shafal.
 Ga girma ga nauyi ga tsayi (x2)
 Randa da girma. Moda ‘yar karama.
 Ga girma ga nauyi ga tsayi (x2)

Koyo

Gabatarwa ga girman mazubi (minti 10)

- **Ka/ki ce:** *Yau za mu koyi wani abu a kan girman mazubi. Girman mazubi ya danganci yawan ruwa ko wasu kaya da mazubi zai iya dauka.*
- A sa dalibai biyu su fito gaban aji. A ba kowane dalibi mazubai guda biyu masu bambancin girma (misali, jarkar zuba fetur da kuma kwalbar ruwa) sannan a ce su nuna wa ‘yan aji. A tambayi daliban me ake yi da su, sannan a tattauna a kan abin da za su iya dauka.
- A dora mazuban a kan teburi sannan a ce dalibai su cika kowane da ruwa ko yashi ta hanyar amfani da karamin kofi. A ce daliban su rika kirga kofi nawa ne zai cika kowane mazubi.
- **Ka/ki ce:** *Jarkar fetur ta fi cin ruwa mai yawa. Kwalbar ruwa kuma ba ta cin ruwa da yawa.*
- A sa daliban da suke gaba su daga mazubansu sannan su jagoranci ‘yan aji wajen “fadin ma fi yawa” da kuma “Ma fi karanci” da karfi yayin da suke daga mazuban sama.
- Maimaita aikin cika mazuban, misali karamin kwano da ruwa. A yi bayanin cewa yayin da ake da mazubai guda uku ko fiye, sai a bayyana wanda ya fi kowane girma a matsayin “Wanda yake dauke da ma fi yawan ruwa”. Sannan shi kuma wanda ya fi kowane kankanta, a bayyana shi a matsayin “Wanda ya fi kowane karancin ruwa”.

Gwaji

Aikin kananan rukunai: Danganta girman mazubi (minti 15)

- A sa dalibai su fita wajen aji sannan su zauna a cikin kananan rukunai. A zaɓi shugaba daga kowane rukuni don taimakawa wajen raba mazubai guda uku, da bokitin ruwa da kuma kofi ga ‘yan rukuninsu.
- A sa dalibai su tattauna da junansu kan wane mazubi ne a ganinsu zai dauki ruwa ma fi yawa.
- A sa dalibai su kidaya yawan kofin da zai cika kowane mazubi.
- Zagaya domin lura da dalibai lokacin da suke cika mazuban. Yayin zagayawa, a rika tambayarsu kan wane mazubi ne ya fi yawan ruwa da kuma wanda ya fi karancin ruwa. A tabbatar masu ko abin da suke yi daidai ne.

Bayyanawa

Auna fahimta da bayyanawa (minti 5)

- A fada wa dukkan rukunai su sami ‘yan wani rukuni da ke kusa da su ba su labarin mazubansu. Su nuna wanda ya fi daban ruwa da kuma wanda ya fi karancin ruwa.

Aikin Gida

A sa dalibai su zana mazubai guda uku masu mabambantan girma a cikin litattafansu na rubutu.

Manufofi: Dalibai za su auna nauyi sannan su danganta nauyin abubuwa daban-daban.

Kayan Aiki: Abubuwa masu nauyi daban-daban (duwatsu da ganyayyaki da fensura da kuma litattafan karatu)

Lokaci: Minti 35

Fara Darasi

Duba aikin gida (minti 3)

- Gaggauta duba aikin gida. A fada wa dalibai sakamakonsu a kuma a karfafa masu gwiwa.

Waka (minti 2)

- Ku rera wakar tare da dalibai.
- Nemi daya daga cikin dalibai ya/ta fito gaban aji domin rera wakar ga dalibai.

Ga girma ga nauyi ga tsayi x2
 Mage doguwa. Kwalba gajera.
 Ga girma ga nauyi ga tsayi x2
 Dutse da nauyi. Takarda 'yar shafal.
 Ga girma ga nauyi ga tsayi (x2)
 Randa da girma. Moda 'yar karama.
 Ga girma ga nauyi ga tsayi (x2)

Koyo

Gabatarwa a kan nauyi (minti 10)

- **Ka/ki ce:** *Yau za mu koyi wani abu a kan nauyi. Wannan yana magana a kan tsananin nauyi ko rashinsa da abu yake da shi. Wannan yana da bambanci da mazubi, saboda shi mazubi yana awo ne na yawan abin da mazubin zai iya dauka.*
- A umurci dalibai biyu su zo gaban aji. A ba kowane dalibi wani abu masu nauyi daban daban (misali, dutse ko ganye) a umurcesu su nunasu ga 'yan aji.
- A tambayi daliban ko nauyin wadannan abubuwan daya ne.
- **Ka/ki ce:** *Abin da ya fi nauyi shi ne mai nauyi. Abin da ya fi karancin nauyi kuma shi ne mara nauyi.*
- A sa daliban da suke gaba su daga abubuwan sama, sannan su jagoranci 'yan aji wajen "fadin mai nauyi" da kuma "Marar nauyi" da karfi yayin da suke daga abubuwan sama.
- Maimaita aikin ta hanyar kara abu na uku mai mabambancin nauyi (Misali, icce). A yi bayanin cewa idan aka sami abubuwa uku ko fiye, mukan bayyana wanda ya fi kowane a matsayin 'Mai nauyin ciki' sannan wanda yake da karancin nauyi kuma a matsayin 'Wanda ya fi kowane karancin nauyi'.

Gwaji

Aikin bibiyu: Danganta nauyi (minti 15)

- A fitar da dukkan dalibai waje, sannan a ce su zauna cikin bibiyu.
- A sa kowane rukunin biyu su zana manyan da'irori guda biyu da yatsarsu ko da itace a kasa.
- A sa kowane rukuni na bibiyu su duba tsakani su samo abubuwa daban-daban da za su iya. Wadannan abubuwan za su iya zama ganyayyaki ko itatuwa ko duwatsu ko kuma duk wani abu da za su iya samu.
- A ce su yanke hukunci a kan wanne ne daga cikin wadannan abubuwan yake da nauyi wane ne kuma ba shi da nauyi ta hanyar saka dukkan masu nauyin a cikin da'ira daya, sannan marasa nauyi kuma a cikin daya da'irar.
- Zagaya domin lura da dalibai yayin da suke tsara abubuwan. Yayin da ake zagayawa a rika tambayar dalibai ta yadda suke tsara abubuwan, sannan a tabbatar masu idan suna yi daidai.

Bayyanawa

Auna fahimta da bayyanawa (minti 5)

- A sa dukkan dalibai su sami wani sabon abokin aiki a kusa da su.
- A sa daliban su fada wa juna wanne ne daga cikin da'irorinsu ke dauke da abubuwa marasa nauyi, sannan kuma wadannen ne masu dauke da abubuwa masu nauyi.

Aikin Gida

A sa daliban su zana abubuwa guda biyu masu mabambantan nauyi a cikin litattafan rubutunsu.

Manufofi: Dalibai za su yi kiyasin nauyi da kuma girman mazubin abubuwa da aka saba amfani da su yau da kullum.

Kayan Aiki: Abubuwa masu nauyi daban-daban (duwatsu da ganyayyaki da fensira da kuma litattafan karatu)

Lokaci: Minti 35

Fara Darasi

Duba aikin gida (minti 3)

- Gaggauta duba aikin gida. A fada wa dalibai sakamakonsu a kuma karfafa masu gwiwa.

Waka (minti 2)

- Ku rera wakar tare da dalibai.

Ga girma ga nauyi ga tsayi x2
 Mage doguwa. Kwalba gajera.
 Ga girma ga nauyi ga tsayi x2
 Dutse da nauyi. Takarda 'yar shafal.
 Ga girma ga nauyi ga tsayi (x2)
 Randa da girma. Moda 'yar karama.
 Ga girma ga nauyi ga tsayi (x2)

Learn

Kiyasin nauyi (minti 8)

- **Ka/ki ce:** *Yau za mu yi kiyasin nauyi da kuma girman mazubi. Idan za mu yi kiyasin nauyi, mukan yi hasashe ne a kan wane abu ne ya fi nauyi sannan kuma wane ne mara nauyi.*
- Nuna wa 'yan aji abubuwa guda biyu: guntun alli da kuma littafin karatu. Nuna kalmomin guda biyu "Mai nauyi" da "Mara nauyi" da aka rubuta a kan allo.
- A yi bayanin cewa yayin da muke danganta abubuwa guda biyu, sai mu kara da "Wanda ya fi" a gaban kalmar. Daga kowane daga cikin abubuwan daya bayan daya, daga nan sai a yi bayanin wane ne mai nauyi wane ne mara nauyi.
- Kara "Ma fi" a gaban "Nauyi" ko a gaban "Rashin nauyi" a kan allo. A sa dalibai su maimaita kalmomin bayan ka fada. "Ma fi nauyi" da "Ma fi rashin nauyi".
- A sa dalibai biyu su fito gaban aji. A tambayi daya daga cikinsu ya/ta daga littafin dalibai, sannan daya kuma ya daga itace. A tambayi daliban wane ne a cikinsu ya fi nauyi.

Kiyasin girman mazubi (minti 7)

- **Ka/ki ce:** *Yayin da muka yi kiyasin girman mazubi, muna yin hasashen wane mazubi ne zai fi daukan abubuwa, wane ne kuma zai fi karanci.*
- Nuna wa 'yan aji abubuwa guda biyu: babban kwano da karamin kwano.
- Nuna kalmomin guda biyu "fi" da "gaza" da aka rubuta a kan allo. A sa dalibai su maimaita abin da ka/kika fada.
- **Ka/ki ce:** *Wane kwano a ganinku zai fi daukan shinkafa?*

Gwaji

Aiki a daidaike ko bibiyu: Kiyasin nauyi ko girman mazubi (minti 10)

- A ce daliban su bude Shafi na 69. A karanta wa dalibai umurnin tambayar farko a bayyane. A sa dalibai su zana hotuna a cikin litattafansu na rubutu, sannan su kewaye amsar da ta dace.
- Idan akwai lokaci, a karasa gano amsar tambayar da ke shafin.

Bayyanawa

Auna fahimta cikin gaggawa (minti 5)

- A sa dalibai su daga littafansu domin nuna abin da suka rubuta. A yaba wa dalibai.

Aikin Gida

A sa dalibai karasa samo amsoshin aikin da ke Shafi na 69 cikin littafin dalibai.

Manufofi: Dalibai za su iya jera abubuwa dangane da nauyinsu da kuma yawan abin da za su iya dauka.

Kayan Aiki: Abubuwa masu mabambancin nauyi (duwatsu da ganyayyaki da fensira da kuma litattafan karatu); mazubai guda uku; wake da ruwa da kuma yashi

Lokaci: Minti 35

Fara Darasi

Duba aikin gida (minti 3)

- Gaggauta duba aikin gida. A faɗa wa dalibai sakamakonsu a kuma karfafa masu gwiwa.

Waka (minti 2)

- Ku rera wakar tare da dalibai.

Ga girma ga nauyi ga tsayi x2
 Mage doguwa. Kwalba gajera.
 Ga girma ga nauyi ga tsayi x2
 Dutse da nauyi. Takarda 'yar shafal.
 Ga girma ga nauyi ga tsayi (x2)
 Randa da girma. Moda 'yar karama.
 Ga girma ga nauyi ga tsayi (x2)

Koyo

Jera abubuwa dangane da nauyinsu (minti 5)

- **Ka/ki ce:** *Yau za mu jera abubuwa dangane da nauyinsu da kuma girman mazubi. Yanzu mu fara da jerawa dangane da nauyi.*
- Nuna wa 'yan aji mabambantan abubuwa guda uku: buhun shinkafa da marfin kwalba da ganye.
- Nuna kalmomin nan guda biyu "Nauyi" da "rashin nauyi" da ke kan allo.
- A yi bayanin cewa, yayin da za mu danganta abubuwa fiye da biyu, sai mu kara "ma fi" a gaban kalma. Kara "Ma fi a gaban "Nauyi" da "Rashin nauyi" da suke kan allo. A sa dalibai su maimaita kalmomin "Ma fi nauyi" da "Ma fi rashin nauyi" bayan ka/kin faɗa.
- A sa dalibai uku su fito gaban aji. A sa ɗaya ya/ta dauki guntuwar takarda, ɗaya guntun alli ɗaya kuma ya/ta dauki dutse. A ce su jera abubuwan daga wanda ya fi nauyi zuwa wanda ya fi rashin nauyi.
- Idan akwai lokaci a maimaita da wasu abubuwan da kuma dalibai daban.

Jera abubuwa dangane da girman mazubi (minti 5)

- **Ka/ki ce:** *Yanzu kuma za mu jera abubuwa dangane da yawan abin da za su iya dauka.*
- Zabi mazubi ɗaya a cika shi da wake ko yashi. A kidaya yawan abin awu da ya ci.
- dauko mazubi na biyu. A sa dalibai su yi kiyasi ko mazubi na 2 yafi ko bai fi mazubi na 1 ci ba. A saka yashi a cikin mazubi na 2. A maimaita yanayin da mazubi na 3.
- A sa dalibai su jera mazuban a kan teburi daga wanda ya fi kankanta zuwa wanda ya fi girma.

Gwaji

Aiki a cikin kananan rukunai: Jera abubuwa dangane da nauyinsu (minti 15)

- A sa dukkan dalibai su fita waje su nemo abu guda ɗaya. Sannan sai a ce dukkan dalibai su shiga cikin kananan rukunai bayan sun samo abubuwan su, sannan su saka abubuwan a jere daga ma fi nauyi zuwa ma fi rashin nauyi.
- Zagaya domin lura da dalibai da bayar da tallafi.

Bayyanawa

Bayyana wa abokan aiki (minti 5)

- Dalibai su tattauna da abokan aikinsu abin da suka yi a cikin rukunoninsu.

Aikin Gida

A sa dalibai su zana abubuwa uku a cikin litattafansu na aiki a jere daga wanda ya fi nauyi zuwa wanda ya fi rashin nauyi. Daga nan kuma su zana abubuwa uku daga wanda ya fi kowane cin kaya zuwa wanda ya fi rashin cin kaya.

Manufofi: Dalibai za suyi bita da gwajin aikin da aka gabatar a makon.

Kayan Aiki:

Lokaci: Minti 35

Fara Darasi

Duba aikin gida (minti 3)

- Gaggauta duba aikin gida. A faɗa wa dalibai sakamakonsu a kuma karfafa masu gwiwa.

Waka (minti 2)

- Ku rera wakar tare da dalibai.

Ga girma ga nauyi ga tsayi x2
 Mage doguwa. Kwalba gajera.
 Ga girma ga nauyi ga tsayi x2
 Dutse da nauyi. Takarda 'yar shafal.
 Ga girma ga nauyi ga tsayi (x2)
 Randa da girma. Moda 'yar karama.
 Ga girma ga nauyi ga tsayi (x2)

Koyo

Bitu da maimai (minti 10)

- Zabi wani labari daga ayyukan mako da ake ganin kamar dalibai suna fama da shi. A sake maimaita koyar da shi ko kuma a koyar da shi ta wata hanyar daban.

Gwaji

Aiki a daidaike ko cikin kungiyoyi: Zanawa da rubutawa (minti 15)

- A ba dalibai wani aiki wanda zai taimaka masu gwajin abin da ake bita a kansa (Misali, dangantawa da kiyasin nauyi ko girman mazubi). Dalibai za su iya yin aiki a daidaike kuma cikin rukunai.
- Yayin da dalibai suke mayar da hankalinsu a kan aikinsu, a samar da taimako ga masu bukata.

Bayyanawa

Auna fahimta da bayyanawa (minti 5)

- A sa dalibai su nuna ayyukan da suka kammala a lokacin gwaji.

Aikin Gida

A ba dalibai aikin gida don bita da gwajin abin da suka koya.

Manufofi: Dalibai za su tattara bayanai a gida da makaranta.

Kayan Aiki:

Lokaci: Minti 35

Fara Darasi

Duba aikin gida (minti 3)

- Gaggauta duba aikin gida. A fada wa dalibai sakamakonsu a kuma karfafa masu gwiwa.

Waka (minti 2)

- Ku rera wakar tare da dalibai.

Wakar Kirge

Daya mafarin kirge,
Biyu idanun dabba,
Uku duwatsun murhu,
Huɗu kafafun tebur,
Biyar na yatsun hannu,

Shida kafafun sauro.

Bakwai kwanakin mako.
Takwas goma ba biyu kenan.
Tara daga ke sai goma.
Goma biyar biyu kenan.

Koyo

Gabatarwa ga tsari (minti 5)

- Ka/ki ce:** *Yau za mu tattara bayanai sannan mu shirya shi cikin tsari mai kyau. Tsari mai kyau yana nufin mu saka bayanai cikin layuka a tsaye da kwance. Wannan zai fi sauƙin fahimta, kuma zai taimaka mana wajen koyon abubuwa ko rukunin abubuwa cikin sauƙi. Misali, za mu iya kirga yawan yara maza da mata da ke cikin ajinmu, sannan mu shirya bayanin da muka samu cikin tsari.*
- Umurci dalibai guda goma su fito gaban aji. A ce yara su daga hannayensu sama idan su maza ne, sannan sai a rubuta adadinsu a layi na tsaye a jikin taswira da ke kan allo. A maimaita da yara mata.
- Ka/ki ce:** *Daga nan, sai mu duba waɗannan lambobi don gano tsakanin rukunin yaran da ya fi yawa, kuma wanne ne ya fi karanci.*
- A sa dalibai su fada da karfi ko yara maza ko mata ne suka fi yawa a ajin. Sannan kuma a sa daliban su fadi waɗanda suka fi karanci.

Mata	Maza

Gwaji

Aiki a kananan rukunai: Kirƙirar tsari mai kyau (minti 10)

- A sa dalibai su zauna a cikin rukunoni guda huɗu, a ba kowane rukuni wani harafi: A ko B ko C ko kuma D.
- Dalibai su kidaya adadin yara maza da matan da ake da su a kowane rukuni, sannan su rubuta lambar a cikin litattafansu na rubutu.
- Zagaya domin lura da dalibai. Yayin da ake zagayawa, a rika tambayar dalibai yadda aka yi suka sami amsoshinsu. A tabbatar masu idan sun yi daidai.

Bayyanawa

Tattaunawa ta dukkan ajin (minti 15)

- A sa dalibi ɗaya daga kowane rukuni ya karanta bayanin da suka tattara a rukuninsu a bayyane. A rubuta bayanin a taswirar da ke kan allo na rukunonin A – D.
- A tara adadin yara maza da na mata da ke kowane layi sannan a rubuta jimilla.
- A tambayi dalibai waɗanne ne suka fi yawa, sannan kuma waɗanne ne suka fi karanta. A kewaye lambobin.
- A tambayi dalibai wane rukuni ne yake da mata da yawa. A tambaya wane rukuni ya fi karancin mata. A tambaya wane rukuni ne ya fi yawan yara maza sannan kuma wane ne ya fi karancin yara maza.

	Mata	Maza
Rukunin A		
Rukunin B		
Rukunin C		
Rukunin D		
Jimilla		

Aikin Gida

A sa dalibai su fada wa mutanen gidansu ko abokansu fa'idar shirya bayanai cikin tsari mai kyau.

Manufofi: Dalibai za su shirya bayanai cikin tsari mai kyau.

Kayan Aiki:

Lokaci: Minti 35

Fara Darasi

Duba aikin gida (minti 3)

- Gaggauta duba aikin gida. A fada wa dalibai sakamakonsu a kuma karfafa masu gwiwa.

Waka (minti 2)

- Ku rera wakar tare da dalibai.

Wakar Kirge

Daya mafarin kirge,
Biyu idanun dabba,
Uku duwatsun murhu,
Huɗu kafafun tebur,
Biyar na yatsun hannu,

Shida kafafun sauro.

Bakwai kwanakin mako.
Takwas goma ba biyu kenan.

Tara daga ke sai goma.
Goma biyar biyu kenan.

Koyo

Wasan dukkan aji: Saka yara maza da mata cikin rukuni-rukuni (minti 10)

- Rataya guntayen takardu guda 2, daya an rubuta “Maza” daya kuma an rubuta “Mata” a wurare daban-daban na cikin ajin.
- A sa dalibai su nemi takarda mai dauke da jinsin da suke su tsaya a gabanta.
- **Ka/ki ce:** *Idan dukkan dalibai suka sami jinsin da suke mun sami rukuni biyu kenan a dukkan ajin.*
- **Ka/ki ce:** *Me kuka lura da shi game da yawan kowane rukuni?*
- **Ka/ki ce:** *Wane rukuni ne ya fi girma? Wane ne ya fi karanta?*
- **Ka/ki ce:** *Mene ne dangantakarku da sauran mutanen da suke rukuninku?*

Gwaji

Aiki a dɗidaiku ko cikin bibiyu: Saka yara maza da mata cikin rukuni-rukuni (minti 15)

- A sa dalibai su buɗe littafinsu zuwa Shafi na 70.
- A yi wa dalibai bayanin cewa su kirga adadin yara maza da mata da ke cikin hoton sannan su cike taswirar. Daga nan, sai su amsa tambayoyin da ke kasan shafin a cikin litattafansu na rubutu.
- Zagaya domin lura da dalibai sannan a bayar da tallafi.

Bayyanawa

Auna fahimta cikin gaggawa (minti 5)

- A sa dalibai su daga takardunsu domin nuna abin da suka rubuta. A yaba wa dalibai.

Aikin Gida

A sa dalibai karasa samo amsoshin ayyukan da ke Shafi na 70 cikin littafin dalibai.

Manufofi: Dalibai za su tattara bayani dangane da shekaru a gida da makaranta.

Kayan Aiki:

Lokaci: Minti 35

Fara Darasi

Duba aikin gida (minti 3)

- Gaggauta duba aikin gida. A fada wa dalibai sakamakonsu a kuma karfafa masu gwiwa.

Waka (minti 2)

- Ku rera wakar tare da dalibai.

Wakar Kirge

Daya mafarin kirge,
Biyu idanun dabba,
Uku duwatsun murhu,
Huɗu kafafun tebur,
Biyar na yatsun hannu,

Shida kafafun sauro.

Bakwai kwanakin mako.
Takwas goma ba biyu kenan.
Tara daga ke sai goma.
Goma biyar biyu kenan.

Koyo

Bitu a kan tsari mai kyau (minti 5)

- Ka/ki ce:** A wannan makon mun shirya bayanai zuwa tsari mai kyau. Wa zai ba mu misalin tsari mai kyau?
- Ka/ki ce:** A yau kuma za mu tattara bayani a kan shekarun daliban ajin mu sannan kuma mu shirya bayanai a tsari mai kyau.
- Umurci dalibai guda 10 su fito gaban aji. A ce duk daliban da suka kai shekara 6 su daga hannunsu. Kirga adadin daliban da suka daga hannunsu, sannan a rubuta a layin da ya dace a jikin taswirar da ke kan allo. Maimaita wannan da shekaru 7 da 8 da 9 da kuma 10.
- Ka/ki ce:** Daga nan kuma sai mu duba wadannan lambobi mu gano rukunin da ya fi yawa, sannan kuma wane rukuni ne ya fi karanci.
- A sa dalibai su fada a bayyane wace 'yan wace shekara ne suka fi yawa. Sannan kuma a fada a bayyane 'yan shekarun da suka fi karanta.

Shekara	Shekara	Shekara	Shekara	Shekara
6	7	8	9	10

Gwaji

Aiki a kananan kungiyoyi: Kirkirar tsari mai kyau (minti 10)

- A sa dalibai su zauna a cikin rukunoni guda huɗu, a ba kowane rukuni wani harafi: A ko B ko C ko kuma D.
- Dalibai su kidaya adadin daliban da suke kowace shekara a rukuninsu, sannan su rubuta a lambar a cikin litattafansu na rubutu.
- Zagaya domin lura da dalibai. Yayin da ake zagayawa, a rika tambayar dalibai yadda suka samo amsoshinsu. A tabbatar masu idan sun yi daidai.

Bayyanawa

Tattaunawa ta dukkan aji (minti 15)

- A sa dalibi daya daga kowane rukuni ya karanta bayanai da suka tattara a rukuninsu a bayyane. A rubuta bayanai a taswirar da ke kan allo na rukunonin A – D.
- A tara adadin daliban da ke kowane layi sannan a rubuta jimillarsu.
- A tambayi dalibai wace shekara ce ta fi yawa, sannan kuma wace ce ta fi karanta. A kewaye wadannan lambobin.
- A tambayi dalibai wane rukuni ne yake da 'yan shekara 7 da yawa. A tambaya wane rukuni ya fi karancin 'yan shekara 8.

	Shekaru	Shekaru	Shekaru	Shekaru	Shekaru
	6	7	8	9	10
Rukuni A					
Rukuni B					
Rukuni C					
Rukuni D					
Jimilla					

Aikin Gida

A sa dalibai su tattauna da mutanen gidansu ko abokansu wasu bayanai da za a iya shiryawa cikin tsari mai kyau.

Manufa: Dalibai za su shirya bayanai a kan shekaru a tsari mai kyau.

Kayan Aiki:

Lokaci: Minti 35

Fara Darasi

Duba aikin gida (minti 3)

- Gaggauta duba aikin gida. A faɗa wa dalibai sakamakonsu a kuma karfafa masu gwiwa.

Waka (minti 2)

- Ku rera waƙar tare da dalibai.

Wakar Kirge

Daya mafarin kirge,
Biyu idanun dabba,
Uku duwatsun murhu,
Huɗu kafafun tebur,
Biyar na yatsun hannu,

Shida kafafun sauro.

Bakwai kwanakin mako.
Takwas goma ba biyu kenan.
Tara daga ke sai goma.
Goma biyar biyu kenan.

Koyo

Wasan dukkan aji: Rukunoni dangane da shekaru (minti 10)

- Rataya kanaan takardu 5 kowace an rubuta shekaru daban-daban a jikinta (6 da 7 da 8 da 9 da kuma 10) a kewayen aji.
- A sa dalibai su duba takarda mai ɗauke da shekarunsu sannan su tsaya a gabanta.
- **Ka/ki ce:** *Dukkan dalibai sun samu shekarunsu. Mun samu rukunoni guda biyar dangane da shekarunku. Me kuka lura da shi dangane da girman rukunonin? Wane rukuni ne ya fi girma? Wane ne kuma ya fi karanta? Mene ne alakarka/ki da sauran mutanen da suke rukuninku?*

	Shekara 6	Shekara 7	Shekara 8	Shekara 9	Shekara 10
Rukunin A					
Rukunin B					
Rukunin C					
Rukunin D					
Jimilla					

Me kuka lura da shi dangane da girman rukunonin? Wane rukuni ne ya fi girma? Wane ne kuma ya fi karanta? Mene ne alakarka/ki da sauran mutanen da suke rukuninku?

- A tambayi dalibai waɗanne ne suka fi karancinshekaru ko kuma tsufa.
- Idan akwai lokaci, a sa dalibai su shiga wani dogon layi ya fara daga ma fi yarinta zuwa wanda ya fi kowa tsufa.

Gwaji

Aiki a ɗaiɗaiku ko cikin bibiyu: Kafa rukunoni dangane da shekaru (minti 15)

- A sa dalibai su buɗe littafinsu zuwa Shafi na 71.
- A yi wa dalibai bayanin cewa su kirga adadin mutanen da suke kowace shekara cikin hoton sannan su cike taswirar. Daga nan, sai su amsa tambayoyin da ke kasan shafin a cikin litattafansu na rubutu.
- Zagaya domin lura da dalibai sannan a bayar da tallafi.

Bayyanawa

Auna fahimta cikin gaggawa (minti 5)

- A sa dalibai su ɗaga takardunsu domin nuna abin da suka rubuta. A yaba wa dalibai.

Aikin Gida

A sa dalibai karasa samo amsoshin aikin da ke Shafi na 71 cikin littafin dalibai.

Manufofi: Dalibai za suyi bita da gwajin aikin da aka gabatar a makon.

Kayan Aiki:

Lokaci: Minti 35

Fara Darasi

Duba aikin gida (minti 3)

- Gaggauta duba aikin gida. A faɗa wa dalibai sakamakonsu a kuma karfafa masu gwiwa.

Waka (minti 2)

- Ku rera wakar tare da dalibai.

Wakar Kirge

Daya mafarin kirge,
Biyu idanun dabba,
Uku duwatsun murhu,
Huɗu kafafun tebur,
Biyar na yatsun hannu,

Shida kafafun sauro.

Bakwai kwanakin mako.
Takwas goma ba biyu kenan.
Tara daga ke sai goma.
Goma biyar biyu kenan.

Koyo

Bitu da maimai (minti 10)

- Zaɓi wani labari daga ayyukan mako da ake ganin kamar dalibai suna fama da shi. A sake maimaita koyar da shi ko kuma a koyar da shi ta wata hanyar daban.

Gwaji

Aiki a daidaike ko cikin rukunoni: Zanawa da rubutawa (minti 15)

- A ba dalibai wani aiki wanda zai taimaka musu gwajin abin da ake bita a kansa (Misali, tattara bayanai a kan shekaru da kuma yin tsari mai kyau). Dalibai za su iya yin aiki a daidaike ko kuma cikin kungiyoyi.
- Yayin da dalibai suke mayar da hankalinsu a kan aikinsu, a samar da taimako ga masu bukata.

Bayyanawa

Auna fahimta da bayyanawa (minti 5)

- A sa dalibai su nuna ayyukan da suka kammala a lokacin gwaji.

Aikin Gida

A ba dalibai aikin gida don bita da gwajin abin da suka koya.

Manufofi: Dalibai su iya samo abubuwa masu surori fuska biyu su kuma bayyana wa ajin.

Kayan Aiki: fallen takarda dauke da zanen surori masu fuska biyu da sunayensu **Lokaci:** Minti 35

Fara darasi

Duba aikin gida (minti 2)

- Gaggauta duba aikin gida. A faɗa wa dalibai sakamakonsu a kuma karfafa masu gwiwa.

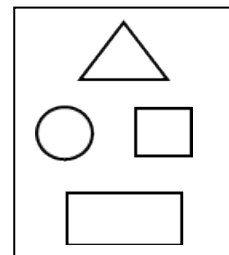
Wasan Ni wace sura ce? (minti 3)

- Wasan Ni wace sura ce? Karanta wa dalibai wadannan bayanai. A sa dalibai amsa tambayoyin ta ambaton sunan surar a bayyane. Idan daliban sun amsa tambaya daidai, sai a nuna masu surar a kan allon.
- **Ka/ki ce:** *Ba ni da bangarori. A kewaye nake. Wace sura ce ni?*
- **Ka/ki ce:** *Ina da bangare uku. Wace sura ce ni?*

Koyo

Gabatar da surori masu fuska 2 (minti 10)

- **Ka/ki ce:** *Yau za mu san abu game da surori masu fuska biyu. Sura mai kusurwa 4 da mai murabba'i da mai kusurwa uku da kuma mai siffar da'ira duka surori ne masu fuska biyu wannan na nufin a shimfiɗe suke.*
- **Ka/ki ce:** *Akwai cikinku wanda yake da wata sura da ya fi so? Me ya sa?*
- Nuna surorin da ke kan allon a kuma ambaci sunayensu ɗaya bayan ɗaya. A ce wa daliban su faɗi sunayen surorin bayan ka ambace su.
- A sa daliban su mika tsaye su ɗaga yatsa sama, sannan su zana surorin nan guda huɗu cikin iska (Sura mai siffar murabba'i, mai kusurwa huɗu, mai kusurwa uku, da mai siffar da'ira) da yatsun nasu.
- A sa daliban su zana surori mabambanta da sassan jikinsu. Misali, su riƙe dantsensu a da'ira su samar da siffar da'ira ko su yi amfani da babban ɗan yatsa da manuniya su samar da sura mai kusurwa huɗu.
- A tambayi dalibai inda suke iya ganin wadannan surori kullum (misali, idanunsu a kewaye suke kuma littafinsu yana da sura mai kusurwa huɗu)



Gwaji

Aiki a karamin rukuni : surori masu fuska biyu (minti 15)

- Dalibai su zauna a kananan rukunoni. A ba kowane rukuni fallen takarda dauke da surori masu fuska 2 (sura mai kusura, mai siffar murabba'i dasauransu.). Sunan kowace sura ya kasance a jikin takardar.
- A ce wa daliban su fita wajen aji su nemo misalan surori da ke harabar makarantar. Da zarar sun samo abun da ya dace da surar da ke rukuninsu, sai su zana hoton abun a cikin littafin rubutunsu.
- A zagaya a duba aikin da dalibai ke yi. A yayin zagayawar, a tambaye su abubuwan da suke zanawa da sunan surorinsu, sai a duba ko sun yi daidai.
- Bayan minti 15, kira dalibai su koma aji.

Bayyanawa

Bayyana kyawawan misalai (minti 5)

- A sa rukunoni dalibai su bayyana wa juna misalan da suka samo.

Aikin gida

A sa dalibai su zana sura mai siffar da'ira da ta murabba'i da mai kusurwa huɗu da kuma mai kusurwa uku a cikin littafin rubutunsu.

Manufofi: Dalibai su iya sanya abubuwa masu fuska biyu rukuni -rukuni dangane da surarsu.

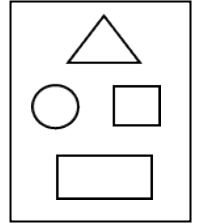
Kayan Aiki: fallen takarda dauke da siffofi mabambanta; kananan siffofi da aka yi su da takarda

Lokaci: Minti 35

Fara Darasi

Duba aikin gida (minti 2)

- Gaggauta duba aikin gida. A fada wa dalibai sakamakonsu a kuma karfafa masu gwiwa.



Labari cikin hotoi (minti 5)

- Karanta wa dalibai labarin cikin hoto na kan allon. Ali ya koyi wani abu game da siffofi a makaranta . A kan hanyarsa ta zuwa gida, ya ga siffofi a ko'ina. Rana tana da siffarda'ira, akwati yana da siffar murabba'i da kuma littafinsa yana da siffar kusurwa huɗu.
- A kira dalibi ɗaya zuwa gaban allo. A yayin sake karanta labarin, dalibi ya rika taba sifa da aka ambata a labarin . Misali, rana tana da siffarda'ira, sai dalibi ya nuna sifar da'ira da ke kan allon.

Koyo

Ware Siffofi (minti 8)

- A jikin kowane bango na ajin, lika fallen takarda dauke da wata siffa. Misali, siffa mai kusurwa uku da mai kusurwa huɗu da mai murabba'i da kuma da'ira.
- Ba kowane dalibi da ke ajin zanen 'yar karamar siffa.
- Ace wa daliban su kewaye cikin aji su je su tsaya a kusa da siffa da ta dace da wadda aka ba kowannen su.
- A ce su tattauna da juna kan sunan siffar da ke hannunsu. A kuma ce su tattauna kan wasu abubuwa da suka sani da suka yi kama da siffofin nasu.
- A kewaye a duba abin da suke yi. A tambayi kowane rukuni sunan siffan nasu.

Gwaji

Wasan aji bai-ɗaya: Neman wasu siffofin (minti 15)

- Fada wa dalibai cewa za su je neman siffa kuma su tabbata sun samo siffofi uku mabambanta don cikas rukuninsu. Misali, idan dalibi ɗaya ya sami siffa mai kusurwa uku, sai a sami wani mai siffar da'ira, wani da siffar murabba'i, da kuma wani siffara kusurwa huɗu sai su haɗu su samar da rukuni.
- Da zarar daliban sun kafa rukunonin, sai a kira kowa ya fada wa juna sunan siffofin da ke rukuninsa.
- A fada masu cewa su tabbata kowane ɗan rukuni zai iya fadar sunan siffofin da ke rukuninsa.
- Idan da lokaci, a sa dalibai su sake kirkiyar wasu rukunoni.

Bayyanawa

Gaggauta auna fahimta (minti 5)

- A ce su ambacin sunan siffa a bayyane. A sa dukan daliban da ke riƙe da siffar ɗagawa sama.
- Ku maimaita da duka siffofin.

Aikin Gida

A ce wa dalibai su zo da wani abu daga gida da ya yi kama da ɗaya daga cikin siffofin nan guda huɗu: siffa mai kusurwa uku ko mai siffar da'ira ko mai siffar murabba'i ko kuma mai kusurwa huɗu.

Manufa: Dalibai su iya haɗa abubuwa masu fuska biyu dangane da siffarsu.

Kayan Aiki: Siffofi da aka kirƙira (siffa mai kusurwa uku da mai murabba'i da kuma mai kusurwa huɗu)

Lokaci: Minti 35

Fara Darasi

Duba aikin gida (minti 2)

- Gaggauta duba aikin gida. A faɗa wa dalibai sakamakonsu a kuma karfafa masu gwiwa.

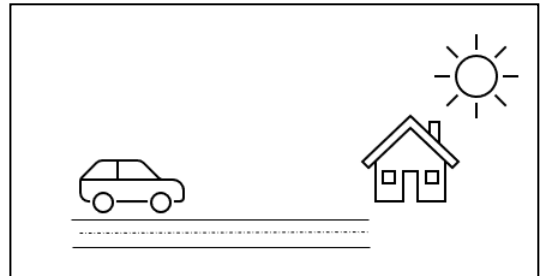
Wasan Ni wace sura ce? (minti 3)

- Karanta wa dalibai waɗannan bayanai. A sa dalibai amsa tambayoyin ta ambaton sunan siffar a bayyane. Idan daliban sun amsa tambaya daidai, sai a nuna masu siffar a kan allon.
- **Ka/ki ce:** *Ina da bangarori biyu da suke dogaye da wasu biyu gajeru. Bangarorin da suke kallon juna tsawonsu ɗaya. Wace sura ce ni?*
- **Ka/ki ce:** *Ina da bangare huɗu tsawonsu ɗaya. Wace sura ce ni?*

Koyo

Gabatar da ware siffofi (minti 10)

- **Ka/ki ce:** *Yau za mu duba abubuwa da suke kama da juna mu bayyana siffofin da suka haɗa su.*
- Zana hoton a kan allon sai a tambayi daliban abin da suka gani.
- Sannan, a tambayi dalibai waɗanne siffofi suka samar da abubuwan da ke hoton. Misali, rana tana da siffa da'ira, sai kuma mota tana da kewayayyun tayu.
- Idan lokaci ya saura, a tambai dalibai abin da za su iya kara wa hoton.
- A kira wasu dalibai su je kan allo su zana wa aji hoton da suke so. A tambayi sauran dalibai siffofin da aka samar da hoton da aka zana.



Gwaji

Aiki a karamar rukuni : Ware siffofi (minti 15)

- A ce wa dalibai su yi aiki a cikin rukuninsu wajen zana hoton abubuwan da ke ajin da aka samar da siffofi mabambanta. A sa dalibai su ƙoƙarta wajen shigar da sura mai kusurwa da da'ira da mai murabba'i da kuma mai kusurwa huɗu cikin zanensu.
- A kewaye a duba abin da suke yi, sannan a taimaka masu.

Bayyanawa

Bayyana kyawawan misalai (minti 5)

- A sa kowane rukuni ya nuna abin da ya zana. A tattauna da aji siffofin da kowane rukuni ya samu a cikin ajin da suke kama da na wani rukuni da kuma waɗanda suka bambanta.

Aikin Gida

A ce wa dalibai su zana hoton abubuwa a gida da ake samar da su da siffofi daban-daban.

Manufa: Dalibai su iya gano adadin bangarori na kowace siffa.


Kayan Aiki:

Lokaci: Minti 35

Fara Darasi

Duba aikin gida (minti 2)

- Gaggauta duba aikin gida. A fada wa dalibai sakamaku a kuma karfafa masu gwiwa.



Labari cikin hoto (minti 3)

- Karanta wa dalibai labarin hoton dake kan allon. Ishak yana kan hanya zuwa gida. Lokacin da ya isa gidan, sai ya fahimci cewa gidansa na dauke da siffofi mabambanta masu yawa.
- **Ka/ki ce:** *Wadanne siffofi kuka iya gani a hoton gidan Ishak?*

Koyo

Gabatar da bangarorin siffofi (minti 10)

- **Ka/ki ce:** *Yau za mu san mabambanta bangarorin siffa mai kusurwa uku da mai kusurwa huɗu da mai siffar murabba'i. Bangarorin siffa su ne layukan da suka hade siffa daga kusurwa ɗaya zuwa waninsa.*
- Zana siffar murabba'i a kan allon. A yayin da ake nuna kowane bangare na siffar, sai ku kirga adadin bangarorin a bayyane tare da dalibai.
- **Ka/ki ce:** *Siffar murabba'i na da bangarori huɗu kuma dukansu tsawonsu ɗaya.*
- A kira dalibai uku zuwa gaban aji a sa su zana siffa mai kusurwahudu da siffa mai kusurwa uku da da'ira a kan allon. A umurci dalibai su kirga a bayyane yawan bangarorin.
- **Ka/ki ce:** *Siffa mai kusurwa huɗu na da bangarori huɗu. bangarorin da suke fuskantar juna tsawon su ɗaya. Mafi yawon lokaci, bangare biyu na da tsawo, sauran bangare biyu kuma gajeru ne.*
- **Ka/ki ce:** *Siffa mai kusurwa uku na da bangarori uku, sai kuma d'irori ba su da wani bangare saboda a kewaye suke!*



Gwaji

Aiki a karamin rukuni: Kirkirar siffofi (minti 15)

- A sa dalibai su samo sanduna da yawa, tsakuwoyi da ganyayyaki a wajen aji da sauri.
- Bayan minti 5, kira dalibai su koma aji da abubuwan da suka samo su kuma zauna a kananan rukunoni.
- A kira kowane rukuni ya yi amfani da abubuwan da ya samo ya yi siffa mai kusurwa huɗu da mai kusurwa uku da siffar murabba'i da kuma da'ira. Su kuma rubuta adadin bangarorin kowace sura da suka yi a takarda sai su ajiye a tsakiyarta.
- A kewaye a duba abin da suke yi, sannan a taimaka masu.

Bayyanawa

Bayyana kyawawan misalai (minti 5)

- A zakulo rukuni ɗaya ko biyu da suka yi zane masu kyau. A sa sauran aji su mika su ga abin da suka yi.

Aikin Gida

A ce wa dalibai su tattauna da wani a gida ko abokinsu kan abin da suka sani game da siffa mai kusurwa huɗu da da'ira da kuma siffa mai kusurwa uku. Daliban su fada masu adadin bangarorin kowace sura da suka bayyana masu.

Manufofi: Dalibai su iya yin bita da gwajin aikin da aka gabatar a makon.

Kayan Aiki:

Lokaci: Minti 35

Fara Darasi

Duba aikin gida (minti 2)

- Gaggauta duba aikin gida. A faɗa wa dalibai sakamakon su a kuma karfafa masu gwiwa.

Wasan Ni wace siffa ce? (minti 5)

- Wasan Ni wace siffa ce? Karanta wa dalibai wadannan bayanai. A sa dalibai amsa tambayoyin ta ambaton sunan siffar a bayyane. Idan daliban sun amsa tambaya daidai, sai a nuna musu siffar a kan allon.
- **Ka/ki ce:** *Ina da bangare huɗu. biyu gajeru biyu kuma dogaye. wace siffa ce ni?*
- **Ka/ki ce:** *Ba ni da bangarori. a kewaye nake. Wace sura ce ni?*

Koyo

Bitar da maimai (minti 8)

- Zabi wani labari daga ayyukan mako da ake ganin kamar dalibai suna fama da shi. A sake maimaita koyar da shi ko kuma a koyar da shi ta wata hanyar daban.

Gwaji

Aiki daidai ko a cikin rukuni: Zane da rubutu (minti 15)

- Ba dalibai jingar da za ta taimaka masu su gwada abin da aka yi masu bita a kai (misali, gano siffafri masu murabba'i da masu kusurwa huɗu da masu kusurwa uku). Dalibai za su iya yin aiki a daidai kansu ko kuma cikin kananan rukunoni.
- Yayin da dalibai suka mayar da hankali kan yin aikin jingar, a taimaka wa daliban da suke bukatar matuƙar taimako.

Bayyanawa

Auna fahimta da bayyanawa (minti 5)

- A ce wa dalibai su nuna aikin da suka kammala yayin gwajii.

Aikin Gida

A ba dalibai aikin gida da za su yi bita da kuma nuna kwarewarsu.

Manufofi: Dalibai su iya samo abubuwa masu fuska uku da tattaunawa a aji.

Kayan Aiki: Fallen takarda dauke da hoton siffofi masu fuska 3 da sunayensu; ire-iren siffofi masu fuska 3, kamar kwallon kafa guda 3, alkalamin rubutu ko tabare, alli, littafi da akwati

Lokaci: Minti 35

Fara darasi

Duba aikin gida (minti 2)

- Gaggauta duba aikin gida. A fada wa dalibai sakamakonsu a kuma karfafa masu gwiwa.

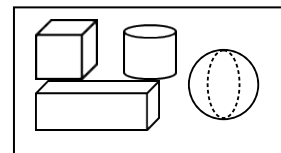
Wasan Ni wace sura ce? (minti 3)

- Karanta wa dalibai wadannan bayanai. A sa dalibai su amsa tambayoyin ta ambaton sunan siffar a bayyane. Idan daliban sun amsa tambaya daidai, sai a nuna masu siffar a kan allon.
- **Ka/ki ce:** *Ina da bangare huɗu. Biyu daga ciki gajeru da kuma biyu dogaye. bangarori masu kallon juna tsawonsu ɗaya. Wace sura ce ni?*
- **Ka/ki ce:** *Ina da bangare huɗu, kuma duka bangarorin daidai suke. Wace sura ce ni?*

Koyo

Gabatar da abubuwa masu fuska 3 (minti 10)

- **Ka/ki ce:** *Yau za mu koyi siffa mai fuska 3. Siffa mai kusurwa huɗu da mai kusurwa uku da kuma da'ira duk siffofi ne masu fuska biyu da ke nuna cewa shimfiɗaɗɗu ne. Abubuwa masu fuska uku ba shimfiɗaɗɗu ba ne. Yau za mu san sunayen abubuwa huɗu masu fuska uku: sura mai siffar dunkulen magi da mai siffar kwalin ashana da silinda da kuma mai alamar kwallo.*
- Nuna wa ajin abubuwan da aka tattaro, a fada musu sunan kowace sura da aka daga su gani (misali, a kwallon kafa a kewaye yake, akwati ko dai ya kasance mai alamar dunkulen magi ko kuma kwalin ashana, alli yana da siffar silinda, littafi yana da surar kwalin ashana). Daliban su maimaita fadin sunan siffofin bayan an furta sunansu.
- Kira wani dalibi zuwa gaban aji ya bayyana kamanci da kuma bambancin da ke tsakanin siffofin (misali, siffar dunkulen magi dasiffar kwalin ashana dukansu na da siffa murabba'i). A maimaita da wasu daliban.
- Ku sake ambatar sunayen siffofin tare da daliban karo na karshe.



Gwaji

Aiki a karamin rukuni: Siffofi masu fuska 3 (minti 15)

- Dalibai su zauna a kananan rukunai. Bakowane rukuni fallen takarda dauke da hoton abubuwa masu fuska 3 (siffar kwai da mai siffar kwalin ashana da silinda da kuma mai siffar dunkulen magi). Ko wace siffa da sunanta a rubuce.
- A ce wa daliban su fita wajen aji su nemo misalan siffofi da ke harabar makarantar. Da zarar sun samo abun da ya dace da siffar da ke rukuninsu, sai su zana hoton abin a cikin littafin rubutunsu.
- A zagaya a duba aikin da dalibai suke yi. A yayin zagayawar, a tambaye su abubuwan da suke zanawa da sunan surorinsu, sai a duba ko sun yi daidai.
- Bayan minti goma, kira dalibai su koma aji.

Bayyanawa

Bayyana kyawawan misalai (minti 5)

- A sa rukunonin dalibai su bayyana wa juna misalan da suka samo.

Aikin Gida

A ce wa dalibai su nemi wani misalin, a gida, na wani abu da za su zana a matsayin gwaji. A ce masu su zana hoton sabon abun nan a cikin littafin rubutunsu a gaban hoton da suka zana a aji. 181

Manufofi: Dalibai za su iya hada abubuwa masu fuska 3 dangane da siffaru.

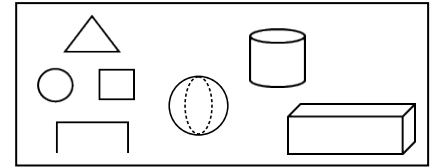
Kayan Aiki: Ire-iren abubuwa masu fuska 3, kamar kwallo 3, alkalami ko teburi, alli, littafi, da akwati

Lokaci: Minti 35

Fara Darasi

Duba aikin gida (minti 2)

- Gaggauta duba aikin gida. A fada wa dalibai sakamaku a kuma karfafa masu gwiwa.



Labari cikin hoto (minti 5)

- Karanta wa dalibai labarin cikin hoto a kan allon. Ali ya koyi wani abu game da siffafi a makaranta. A kan hanyarsa ta zuwa gida, ya ga siffafi a ko'ina. Rana tana da siffar da'ira, gangar jikin bishiya silinda ce, littafinsa kuma sura ce mai kusurwa huɗu.
- A kira dalibi ɗaya zuwa gaban allo. A yayin sake karanta labarin, dalibi ya rika taba surar da aka ambata a labarin. Misali, rana tana da siffar da'ira, sai dalibi ya nuna siffar da'ira da ke kan allon.

Koyo

Ware abubuwa masu fuska 3 (minti 8)

- A sa duka dalibai su zana siffa mai fuska 3 a cikin littafin rubutunsu. Za su iya zana kowace siffar mai fuska 3.
- Yayin da dalibai ke yin zanen, manna hoton abubuwa masu fuska 3 cikin ajinnesa da juna.
- Sa dalibai su dadduba su zakulo hoton da ya yi kama da wanda suka zana.
- Sa dalibai su tattauna da juna kan sunan hoton da suka zana. A kuma ce su tattauna kan wasu abubuwa da suka sani da suka yi kama da siffafin nasu.
- A kewaye a duba abin da suke yi. A tambayi daliban kowane rukuni su ambaci sunan siffarsu.

Gwaji

Wasan aji bai-ɗaya: Neman wasu abubuwan (minti 15)

- A fada wa dalibai cewa za su je neman abu kuma su tabbata sun samo guda uku mabambanta. Don cikar rukuninsu. Misali, idan wani dalibi ya samo siffar dunkulen magi, sai ya duba wanda yake da siffar silinda, da mai siffar kwalin ashana da kuma mai siffar kwallo sai su kafa rukuni.
- Da zarar sun kafa rukunai, sai a sa su fada wa juna sunayen abubuwan nasu.
- A ce masu su tabbata kowa a rukunin zai iya ambaton sunan siffarsu.
- Idan da lokaci, a sa dalibai su sake kirkiyar wasu rukunonin.

Bayyanawa

Gaggauta auna fahimta (minti 5)

- Ambaci sunan wani abu a bayyane. A sa duka daliban da ke da hoton wannan abu su daga sama.
- Yi haka da sauran abubuwan.

Aikin Gida

A ce wa dalibai su nemi wani abu a gida da ya yi kama da ɗaya daga cikin siffa mai fuska 3. Su kuma gwada zana hoton abun a littafin rubutunsu.

Manufofi: Dalibai za su iya gane bambancin da ke tsakanin shimfidaddun surori da dunkulallu.

Kayan Aiki: siffofi masu fuska 3 da masu fuska 2 (murabba'i, da'ira, alli, littafi, akwati, kwallo, dasauransu.)

Lokaci: Minti 35

Fara Darasi

Duba aikin gida (minti 2)

- Gaggauta duba aikin gida. A fada wa dalibai sakamakonsu a kuma karfafa masu gwiwa.

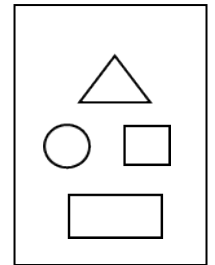
Wasan Ni wace sura ce? (minti 3)

- Wasan Ni wace sura ce? Karanta wa dalibai wadannan bayanai. A sa dalibai su amsa tambayoyin ta ambaton sunan siffar a bayyane. Idan daliban sun amsa tambaya daidai, sai a nuna masu siffar a kan allon.
- **Ka/ki ce:** *Ina da bangare huɗu kuma a shimfide nake. Wadanne sura guda biyu zan kasance?*
- **Ka/ki ce:** Ni a miƙe nake kamar alli. *Wace sura ce ni?*

Koyo

Gabatar da shimfidaddun siffoi da dunkulallu (minti 10)

- **Ka/ki ce:** *Yau za mu koyi shimfidaddun siffoi da dunkulallu.*
- Nuna kowace shimfidaddiyar siffa da ke kan allon sai a sa daliban su fadi sunanta a bayyane.
- Nuna wa dalibai siffa mai kama da dunkulen magi (misali, akwati) sai a sanya ta kusa da siffa murabba'i da ke kan allon.
- A tambayi dalibai su fadi bambancin da suka iya gani tsakanin siffar murabba'i da siffar dunkulen magi.
- **Ka/ki ce:** *Abubuwa, kamar wannan siffa ta dunkulen magi, dunkulallu ne. Siffofi, kamar wannan murabba'i da ke kan allo, shimfidaddu ne.*
- A sa dalibai su maimaita fadin "dunkulalle" da "shimfidadde" bayan an fada.
- Nuna wa a jin cewa siffar dunkulen magi na da siffar murabba'a a kowane bangarenta. Yi bayani cewa dunkulaliyar siffa tana da bngarori da suka kunshi na shimfidaddun surori.



Gwaji

Aiki daidai: Zanen siffr dunkulen magi da ta ashana (minti 15)

- Sa dalibai bude littafinsu Shafi na 72.
- **Ka/ki ce:** *Yau za mu gwada yin zanen siffr dunkulen magi da ta kwalin ashana.*
- Ce wa dalibai su bi matakan da ke shafi na gaba su zana siffar dunkulen magi da ta kwalin ashana a cikin littafin rubutunsu. Za su iya yin aikin tare da abokinsu idan suna bukatar taimako.
- A zagaya a duba abin da suke yi. A yayin kewayawar, a duba a ga idan suna yin abin da ya kamata, a kuma taimaka wa mai bukata.

Bayyanawa

Gaggauta auna fahimta (minti 5)

- A sa dalibai su daga takardarsu su nuna abin da suka yi. A kuma yaba masu.

Aikin Gida

A ce wa dalibai su zana karin hotuna masu siffr dunkulen magi da na kwalin ashana bibbiyu a cikin littafin rubutunsu.

Manufofi: Dalibai za su iya gane siffar kwallo da kuma silinda.

Kayan Aiki: Abubuwa masu fuska 3 (alli, littafi ko akwati, kwallo, dasauransu)

Lokaci: Minti 35

Fara Darasi

Duba aikin gida (minti 2)

- Gaggauta duba aikin gida. A faɗa wa dalibai sakamakonsu a kuma karfafa masu gwiwa.

Wasan Ni wace sura ce? (minti 3)

- Wasan Ni wace sura ce? Karanta wa dalibai wadannan bayanai. A sa dalibai su amsa tambayoyin ta ambaton sunan siffa a bayyane. Idan daliban sun amsa tambaya daidai, sai a nuna masu siffa a kan allon.
- **Ka/ki ce:** *Ni sura ce kamar bal. Wane abu ne ni?*
- **Ka/ki ce:** *Ina da bangare uku kuma a shimfide nake. Wane abu ne ni?*

Koyo

Fasalin siffafi da abubuwa: Bangarori da kusurwa (minti 10)

- **Ka/ki ce:** *Yau za mu koyi bangarori da kusurwan siffafi. Bangarorin siffa ko abu na da tsawo, da shimfidaddun gyaffa. Kusurwa shi ne inda bangare biyu suka haɗu da juna na siffa ko abu.*
- Daga littafi sama aji su gani. A tambayi dalibai ko za su iya faɗin sunan siffaar. A kuma tambaye su siffa ce shimfidaddiya ko kuwa dunkulalliya.
- Ku kirga bangarorin littafin tare da dalibai. Gaba, Ku kirga kusurwan.
- Kira dalibi ɗaya zuwa gaban aji. Ba shi alli ɗaya.
- A sa dalibin ya faɗa wa sauran aji sunan abin kuma dunkulalle ne ko kuwa shimfidadde.
- A sa dalibin ya faɗi adadin bangarori da kusurwan allin.
- **Ka/ki ce:** *Da'ira ba ta da bangarori! A kewaye take, ko'ina da ina. Idan ko ba bangarori, to babu mahada kenan. Don haka silinda, siffar kwallo, da da'ira ba su da bangarori da kuma kusurwa.*
- Idan da lokaci, a sake maimaita da wani abin da kuma wani dalibin na daban.

Gwaji

Aiki daidai: Zanen siffar kwallo da silinda (minti 15)

- A sa dalibai su buɗe littafinsu Shafi na 73.
- **Ka/ki ce:** *Yau za mu gwada zanen siffar kwallo da silinda.*
- A ce wa dalibai su bi matakan da ke shafi na gaba su zana siffar kwallo da ta silinda a cikin littafin rubutunsu. Za su iya yin aikin tare da abokinsu idan suna buƙatar taimako.
- A zagaya a duba abin da suke yi. A yayin kewayawar, a duba a ga idan suna yin abin da ya kamata, a kuma taimaka wa mai bukata.

Bayyanawa

Gaggauta auna fahimta (minti 5)

- A sa dalibai su ɗaga takardarsu su nuna abin da suka yi . A kuma yaba musu.

Aikin Gida

A ce dalibai su zana karin siffar ankwati da ta silinda guda bibbiyu a cikin littafin rubutunsu.

Manufa: Dalibai za su iya yin bita da gwajin aikin da aka gabatar a makon.

Kayan Aiki:

Lokaci: Minti 35

Fara Darasi

Duba aikin gida (minti 2)

- Gaggauta duba aikin gida. A faɗa wa dalibai sakamakonsu a kuma karfafa masu gwiwa.

Wasan Ni wace sura ce? (minti 5)

- Wasan Ni wace siffa ce? Karanta wa dalibai wadannan bayanai. A sa dalibai amsa tambayoyin ta ambaton sunan siffar a bayyane. Idan daliban sun amsa tambaya daidai, sai a nuna musu siffar a kan allon.
- **Ka/ki ce:** *Ina da bangare huɗu. Biyu gajeru biyu kuma dogi. Wace siffa ce ni?*
- **Ka/ki ce:** *Ba ni da bangarori. A kewaye nake. Wace siffa ce ni?*

Koyo

Bitu da maimaitawa (minti 8)

- Zabi wani labari daga ayyukan mako da ake ganin kamar dalibai suna fama da shi. A sake maimaita koyar da shi ko kuma a koyar da shi ta wata hanyar daban.

Gwaji

Aiki daidai ko a cikin rukuni : Zane da rubutu (minti 15)

- Ba dalibai jingar da za ta taimaka masu su gwada abin da aka yi masu bita a kai (misali, gano surori masu siffar silinda da na dunkulen magi da na kwalin ashana da na kallo). Dalibai za su iya yin aiki a daidai kunsu ko kuma cikin kananan kungiyoyi.
- Yayin da dalibai suka mayar da hankali kan yin aikin jingar, a taimaka wa daliban da suke buƙatar matuƙar taimako.

Bayyanawa

Auna fahimta da bayyanawa (minti 5)

- A ce wa dalibai su nuna aikin da suka kammala yayin gwajii.

Aikin Gida

A ba dalibai aikin gida da za su yi bita da kuma nuna kwarewarsu.

Darasin Lissafi Aji 2, Zango na 3, Mako na 12 – Jarrabawar karshen Zango

Wane kwano ne zai fi daukar adadi wani abu mai yawa? (A bayar da maki uku idan an amsa daidai)



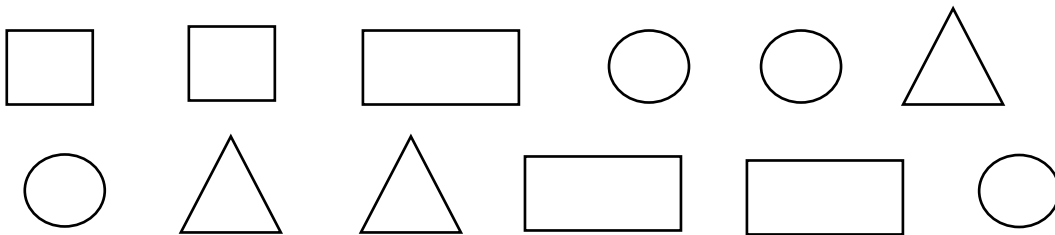
Wanne ne ya fi nauyi daga cikin waɗannan? (A bayar da maki uku idan an amsa daidai)



Wace siffa ce mai dangi 3 daga cikin waɗannan? (A bayar da maki biyu ga kowace amsa)



A lissafa adadin fasulla da suke da ɓangare 4 a cikin waɗannan. (A bayar da maki ɗaya ga kowace amsa)



Manufofi: Dalibai za su iya ware da kuma jera abubuwa gida gida dangane da girma da kuma launinsu.

Kayan Aiki: Abubuwa (tsakuwoyi, sanduna, murafan kwalba, ganyayyaki)

Lokaci: Minti 35

Fara Darasi

Duba aikin gida (minti 3)

- Gaggauta duba aikin gida. A fada wa dalibai sakamankonsu a kuma karfafa masu gwiwa.

Waka (minti 2)

- Sa dalibai ku rera wakar tare.

Zan iya rarrabewa, zan iya rarrabewa.
Lalle zan iya. Lalle zan iya.
Za ku iya rarrabe wake?
Za ku iya rarrabe wake?
Lalle zan iya. Lalle zan iya.

Koyo

Jere dangane da girma (minti 5)

- **Ka/ki ce:** *Yau za mu ware abubuwa gida-gida dangane da girma da kuma launin su.*
- Daga tsakuwa guda uku mabambanta sama aji su gani: karami, matsakaici, da babba. Sa dalibai su ware su dangane da girmansu a jere.
- Ku sake da wasu abubuwa masu kamanni da wafanda suka bambanta.

Jere dangane da launi (minti 5)

- Kira dalibi 1 zuwa gaban aji ya zabi wani abu daya. A sa shi ya bayyana launin abin da ya zaba.
- A kira wani dalibin ya yi da wani abin kamar na farko.

Gwaji

Aiki a karamin rukuni : Jere dangane da girma da launi (minti 15)

- Dalibai su zauna a kananan rukunoni.
- A zabi shugaba da zai taimaka wajen rarraba wa rukunoni abubuwa mabambanta.
- A sa daliban su sanya abubuwan gida uku dangane da girmansu.
- Sannan, a sa su sanya su dangane da launin gida-gida.
- A zagaya a duba abin da suke yi. A yayin zagayawar, a tambaye su dangane da kamanci da bambancin abubuwan da ke gun su, sannan a duba ko sun yi daidai.

Bayyanawa

Nuna wa abokin aiki (minti 5)

- Dalibai su tattauna da abokin aiki abin da suka yi a rukuninsu.

Aikin Gida

A ce wa dalibai su nemo abubuwa uku masu launi iri daya, amma mabambanta girma, a gida. Su zana hotonsu a jere dangane da girma a cikin littafin rubutunsu.

Manufa: Dalibai za su iya tattaro bayanai kan tsayi.

Kayan Aiki:

Lokaci: Minti 35

Fara Darasi

Duba aikin gida (minti 2)

- Gaggauta duba aikin gida. A fada wa dalibai sakamakonsu a kuma karfafa masu gwiwa.

Gajere da dogo (minti 3)

- Umurci dalibai 5 su fito gaban aji su jeru daga mafi gajerta zuwa mafi tsawo.
- **Ka/ki ce:** *Wane dalibine mafi tsawo? Wanene kuma mafi gajerta?*

Koyo

Bitu: awon tsayi (minti 10)

- **Ka/ki ce:** *Yau za mu gwada yin awon tsayin daliban ajinmu ta amfani da jadawali. A makon baya, mun auna tsayin dalibai da hannunmu. Yau, za mu yi amfani da fensir.*
- Kira dalibi 1 ya je ya tsaya a jikin allo yana fuskantar aji. Yi amfani da alli, a zana layi a kan allon daidai inda kansa ya kai.
- Kira wani dalibin ya yi amfani da fensirinsa ya auna tsayin dalibin farko daga kafarsa zuwa daidai layin da aka ja aka allo. Rubuta awon cikin jadawalin karkashin dalibi na 1.
- A auna wani dalibin. Rubuta awon cikin jadawalin karkashin dalibi na 2.
- A tambayi dalibai su fadi wanda ya fi tsayi da gajerta a tsakanin daliban nan biyu.

Tsayi	
Dalibi na 1	Fensuri ____
Dalibi na 2	Fensuri ____

Gwaji

Aiki a karamin rukuni: Awon tsayi (minti 15)

- Dalibai su zauna a kananan rukunoni daga 3 zuwa 5. Sa dalibai su buɗe littafinsu Shafi na 74.
- Yi bayani cewa za su auna juna dangane da tsayi. Dalibi ɗaya ya jingina bayansa a kan allo. Sai wani ya auna tsayinsa da fensir, ya fara daga kasa zuwa inda kansa ya kai. Dalibai su rubuta awon tsayin, da fensir, a cikin littafin rubutunsu.
- A yi ta yi har sai an auna kowane dalibi.
- A kewaye a duba abin da suke yi, sannan a taimaka musu gwargwadon bukata. A tabbata kowane dalibi ya auna wani dalibin kuma shi ma an auna shi.

Bayyanawa

Bayyana kyawawan misalai (minti 5)

- A sa dalibai su nuna wa juna bayanai da suka tattara na rukuninsu.

Aikin Gida

A sa dalibai karasa samo amsoshin aikin da ke Shafi na 74 cikin littafin dalibai. Su auna tsayin mutum 2 a gidansu.

Manufofi: Dalibai za su iya zana da sanya wa siffofi mabambanta sunansu.


Kayan Aiki:

Lokaci: Minti 35

Fara Darasi

Duba aikin gida (minti 2)

- Gaggauta duba aikin gida. A fada wa dalibai sakamakonsu a kuma karfafa masu gwiwa.



Labari cikin hoto (minti 3)

- Karanta wa dalibai labarin cikin hoto a kan allon. Ishak yana kan hanya zuwa gida daga makaranta. Da ya isa gida, sai ya fahimci cewa gidansu yana dauke da siffofi mabambanta.
- **Ka/ki ce:** *Wadanne siffofi kuke iya gani a hoton gidan Ishak?*

Koyo

Samar da siffofi (minti 10)

- A sa duka dalibai su haɗu a wajen aji. Da zarar sun fita, a raba su zuwa gida uku.
- Umurci rukunin nan uku cewa da zarar an ambaci siffa, duka daliban a kowane rukuni za su haɗu su yi wannan siffa. Misali, idan an ce “siffa mai kusurwa uku” kowane rukuni sai su shirya kansu ta yadda za su samar da siffa mai kusurwa uku.
- A yi ta yin haka har sai an ambaci duka surorin.

Gwaji

Aiki a karamin rukuni: Kirkirar siffofi (minti 15)

- A sa duka dalibai nemo sanduna iri-iri da tsakuwoyi da kuma ganyayyaki.
- A ce wa dalibai su koma aji da abubuwan da suka samo su kuma zauna a cikinrukuni.
- A kira kowane rukuni ya yi amfani da abubuwan da ya samo su yi siffa mai kusurwa huɗu da mai kusurwa uku da siffar murabba’i da kuma da’ira.
- A zagaya a duba aikin da dalibai ke yi. A yayin zagayawar, a tambaye su abubuwan da suke zanawa da sunan siffofinsu, sai a duba ko sun yi daidai.
- A tambayi dalibai ko za su iya faɗin wani abu da suka sani game da siffa mai kusurwa uku da da’ir da kuma mai kusurwa huɗu.

Bayyanawa

Bayyana kyawawan misalai (minti 5)

- A nemo rukuni ɗaya ko biyu da suka yi zane masu kyau da waken ko wani abu. A sa sauran aji su mike su ga abin da suka yi.

Aikin Gida

A ce wa dalibai su tattauna da wani a gida ko abokinsu kan abin da suka sani game da siffa mai kusurwa huɗu da da’iara da kuma siffa mai kusurwa uku. Daliban su fada masu adadin bangarorin kowace siffa da suka bayyana masu.

Manufa: Dalibai za su iya gane bambanci tsakanin surori masu fuska 2 da masu fuska 3.

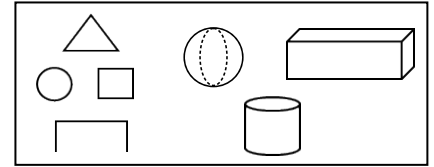
Kayan Aiki:

Lokaci: Minti 35

Fara Darasi

Duba aikin gida (minti 2)

- Gaggauta duba aikin gida. A fada wa dalibai sakamaku kuma karfafa masu gwiwa.



Labari cikin hotoi (minti 5)

- Karanta wa dalibai labarin cikin hoto a kan allon. Ali ya koyi wani abu game da siffofi a makaranta. A kan hanyarsa ta zuwa gida, ya ga siffofi a ko'ina. Rana tana da siffa mai surar da'ira, gangar jikin bishiya siffar ce ta silinda, littafinsa kuma siffa ce mai kusurwa huɗu.
- A kira dalibi ɗaya zuwa gaban allo. A yayin sake karanta labarin, dalibi ya rika taɓa siffar da aka ambata a labarin. Misali, rana tana da siffar da'ira, sai dalibi ya nuna siffar da'ira da ke kan allon.

Koyo

Ware siffofi (minti 8)

- A jikin kowane bango na ajin, lika fallen takarda dauke da wata siffa. Misali, siffa mai kusurwa uku da mai kusurwa huɗu da mai murabba'i da kuma da'ira.
- Ba kowane dalibi da ke ajin zanen 'yar karamar siffar.
- Ce wa daliban su kewaye cikin aji su je su tsaya a kusa da siffar da ta dace da wadda aka bai wa kowannan su.
- A ce su tattauna da juna kan sunan siffar da ke hannunsu. A kuma ce su tattauna kan wasu abubuwa da suka sani da suka yi kama da siffafin nasu.
- A kewaye a duba abin da suke yi. A tambayi kowane rukuni sunan siffar tasu.

Gwaji

Wasan aji bai-ɗaya: Neman wasu siffafin (minti 15)

- Fada wa dalibai cewa za su je neman siffa kuma su tabbata sun samo siffafi uku mabambanta don cikas rukunin su. Misali, idan dalibi ɗaya ya sami siffa mai kusurwa uku, sai a sami wani mai siffar da'ira, wani da siffar murabba'i, da kuma wani siffar huɗu sai su haɗu su samar da rukuni.
- Da zarar daliban sun kafa rukunonin, sai a kira kowa ya fada wa juna sunan siffar da ke rukunin sa.
- A fada musu cewa su tabbata kowane ɗan rukuni zai iya fadar sunan siffafin da ke rukunin sa.
- Idan da lokaci, a sa dalibai su sake kirƙirar wasu rukunonin.

Bayyanawa

Gaggauta auna fahimta (minti 5)

- A ce su ambaci sunan siffar a bayyane. a sa dukan daliban da ke riƙe da siffar su daga sama.
- Ku maimaita da duka siffafin.

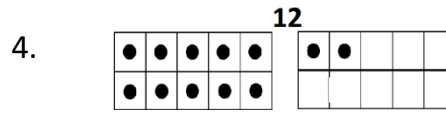
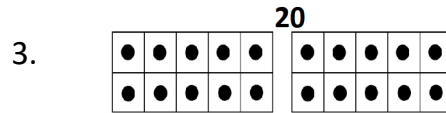
Aikin Gida

A sa dalibai su zana siffar da'ira da ta murabba'i da ma kusurwa huɗu da kuma mai kusurwa uku a cikin littafin rubutunsu.

Littafin Dalibai – Amsoshi

Zango na 1 Mako na 1 Darasi na D

1. 16
2. 62
3. 56
4. 37
5. 7
6. 22
7. 92
8. 78
9. 42
10. 11



5. 14
6. 12
7. 16
8. 18

Zango na 1 Mako na 2 Darasi na B

Aikin Aji
 $8 + 2$

Aikin Gida
 1. $10 + 3$
 2. $2 + 12$

Zango na 1 Mako na 2 Darasi na C

Aikin Aji
 $3 + 10 = 13$

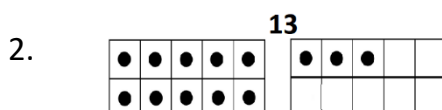
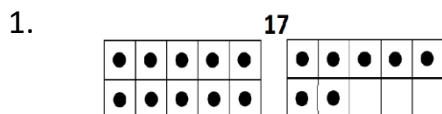
Aikin Gida
 $6 + 6 = 12$

Zango na 1 Mako na 2 Darasi na D

Aikin Aji
 $8 + 2 = 10$

Aikin Gida
 $7 + 6 = 13$

Zango na 1 Mako na 2 Darasi na E



Zango na 1 Mako na 3 Darasi na B

Aikin Aji
 $8 - 2 = 6$

Aikin Gida
 1. $10 - 3 = 7$
 2. $12 - 2 = 10$

Zango na 1 Mako na 3 Darasi na C

Aikin Aji
 $10 - 3 = 7$

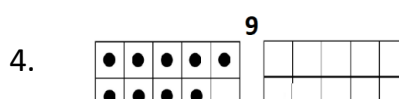
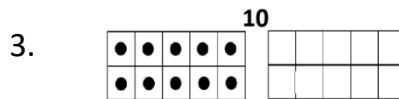
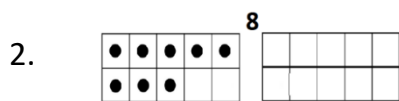
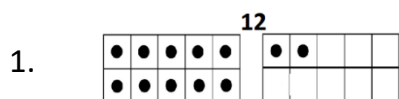
Aikin Gida
 $12 - 6 = 6$

Zango na 1 Mako na 3 Darasi na D

Aikin Aji
 $12 - 2 = 10$

Aikin Gida
 $14 - 3 = 11$

Zango na 1 Mako na 3 Darasi na E



5. 14
6. 10
7. 10
8. 10

Zango na 1 Mako na 4 Darasi na D

Aikin Aji

Cika: 24, 44, 22, 4, 16, 90, 60

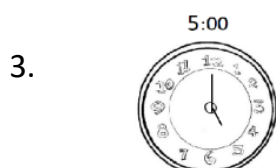
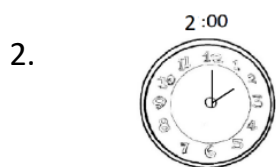
Mara: 17, 11, 3, 15, 77

Aikin Gida

Cika: 28, 12, 84, 12, 6, 10

Mara: 33, 13, 13, 91, 45, 99.

Zango na 1 Mako na 5 Darasi na C



Zango na 1 Mako na 6 Darasi na E

Aikin Aji

Cika: 42, 16, 100, 4, 80, 60, 74

Mara: 81, 15, 23, 93, 1

Aikin Gida

Cika: 64, 62, 78, 54, 96

Mara: 65, 39, 47, 9, 25, 5, 85

Zango na 1 Mako na 7 Darasi na C

1. 40, 50, 60; kirge ta tsallaken 10.
2. 50, 55, 60; kirge ta tsallaken 5.
3. 101, 102, 103; kirge ta tsallaken 1.
4. 198, 199, 200; kirge ta tsallaken 1.
5. 180, 190, 200; kirge ta tsallaken 10.
6. 100, 110, 120; kirge ta tsallaken 10.
7. 140, 145, 150; kirge ta tsallaken 5.
8. 126, 128, 130; kirge ta tsallaken 2.
9. 106, 108, 110; kirge ta tsallaken 2.
10. 184, 185, 186; kirge ta tsallaken 1.

Zango na 1 Mako na 7 Darasi na D

1. 165; kirge ta tsallaken 5.
2. 100; kirge ta tsallaken 2.
3. 100; kirge ta tsallaken 10.
4. 117; kirge ta tsallaken 1.
5. 20; kirge ta tsallaken 10.
6. 80; kirge ta tsallaken 5.
7. 76; kirge ta tsallaken 2.
8. 46; kirge ta tsallaken 1.
9. 34; kirge ta tsallaken 1.
10. 40; kirge ta tsallaken 10.

Zango na 1 Mako na 8 Darasi na C

1. Lambar ita ce 24. Goma 2 da daidaya 4.
2. Lambar ita ce 35. Goma 3 da daidaya 5.
3. Lambar ita ce 60. Goma 6 da daidaya 0.
4. Lambar ita ce 28. Goma 2 da daidaya 8.

Zango na 1 Mako na 8 Darasi na D

- Lambar ita ce 33.
Dari 0
Goma 3
Daidaya 3
- Lambar ita ce 146.
Dari 1
Goma 4
Daidaya 6
- Lambar ita ce 111.
Dari 1
Goma 1
Daidaya 1

Zango na 1 Mako na 9 Darasi na A

545

Zango na 1 Mako na 9 Darasi na C

- | Ɗari | Goma | Dai |
|------|------|-----|
| 4 | 3 | 2 |
- | Ɗari | Goma | Dai |
|------|------|-----|
| 6 | 7 | 1 |
- | Ɗari | Goma | Dai |
|------|------|-----|
| 2 | 0 | 4 |
- | Ɗari | Goma | Dai |
|------|------|-----|
| 9 | 5 | 6 |

Zango na 1 Mako na 9 Darasi na D

- 6; kirge ta tsallaken 2
- 106; kirge ta tsallaken 2
- 80; kirge ta tsallaken 5
- 915; kirge ta tsallaken 5
- 824; kirge ta tsallaken 1
- 600; kirge ta tsallaken 100
- 990; kirge ta tsallaken 10
- 130; kirge ta tsallaken 1
- 440; kirge ta tsallaken 5
- 618; kirge ta tsallaken 2

Zango na 1 Mako na 10 Darasi na B

- | Ɗari | Goma | Dai |
|------|------|-----|
| 1 | 1 | 5 |
- | Ɗari | Goma | Dai |
|------|------|-----|
| 2 | 3 | 5 |
- | Ɗari | Goma | Dai |
|------|------|-----|
| 4 | 5 | 0 |

Zango na 1 Mako na 10 Darasi na D

- | Ɗari | Goma | Dai |
|------|------|-----|
| 2 | 6 | 8 |
- | Ɗari | Goma | Dai |
|------|------|-----|
| 6 | 1 | 7 |
- | Ɗari | Goma | Dai |
|------|------|-----|
| 1 | 0 | 1 |
- | Ɗari | Goma | Dai |
|------|------|-----|
| 3 | 4 | 9 |

Zango na 1 Mako na 11 Darasi na A

- $6 = 6$
- $198 < 298$
- $999 > 997$
- $221 > 88$
- $67 > 32$
- $100 > 90$
- $54 < 540$

Zango na 1 Mako na 11 Darasi na C

- 321, 456, 954
- 0, 236, 936
- 1, 10, 100
- 85, 105, 285
- 97, 799, 977
- 92, 123, 872
- 196, 309, 742

Zango na 1 Mako na 11 Darasi na D

1. 954, 456, 321
2. 86, 45, 34
3. 333, 222, 111
4. 875, 675, 275
5. 900, 90, 9
6. 889, 888, 564
7. 657, 35, 11

Zango na 1 Mako na 12 Darasi na C

1.

Ɗari	Gomayen	Ɗaɗi
1	2	6
2.

Ɗari	Gomayen	Ɗaɗi
8	9	0
3.

Ɗari	Gomayen	Ɗaɗi
5	8	8
4.

Ɗari	Gomayen	Ɗaɗi
7	7	2

Zango na 1 Mako na 12 Darasi na D

1. Lambar ita ce 23.
Ɗari 0
Goma 2
Ɗaɗi 3
2. Lambar ita ce 141.
Ɗari 1
Goma 4
Ɗaɗi 1
3. Lambar ita ce 136.
Ɗari 1
Goma 3
Ɗaɗi 6

Zango na 1 Mako na 12 Darasi na E

1. $12 < 15$
2. $478 > 278$
3. $28 < 36$
4. $185 > 85$
5. $982 = 982$
6. $999 > 200$
7. $593 > 6$

Zango na 2 Mako na 1 Darasi na D

1. $\frac{1}{2}$
2. $\frac{1}{4}$
3. $\frac{3}{4}$
4. $\frac{1}{4}$
5. $\frac{3}{4}$
6. $\frac{1}{2}$

Zango na 2 Mako na 2 Darasi na D

1. $\frac{1}{3}$
2. $\frac{2}{3}$
3. $\frac{1}{2}$
4. $\frac{1}{4}$
5. $\frac{3}{4}$

Zango na 2 Mako na 3 Darasi na D

1. $\frac{1}{5}$
2. $\frac{1}{2}$
3. $\frac{1}{3}$
4. $\frac{1}{6}$
5. $\frac{3}{4}$
6. $\frac{1}{4}$
7. $\frac{2}{3}$

Zango na 2 Mako na 4 Darasi na B

1. 66
2. 28
3. 52
4. 69
5. 58
6. 24
7. 78

Zango na 2 Mako na 4 Darasi na C

1. 59
2. 59
3. 98
4. 38
5. 48
6. 66

Zango na 2 Mako na 5 Darasi na B

1. 663
2. 875
3. 394
4. 783
5. 629
6. 596
7. 581

Zango na 2 Mako na 5 Darasi na C

1. 999
2. 986
3. 517
4. 688
5. 472
6. 846

Zango na 2 Mako na 6 Darasi na D

1. $30 + 6$
2. $400 + 0 + 2$
3. $900 + 90 + 9$
4. $30 + 4$
5. $300 + 50 + 4$
6. $70 + 8$
7. $800 + 70 + 4$
8. $20 + 1$
9. $600 + 70 + 8$
10. $600 + 0 + 2$

Zango na 2 Mako na 6 Darasi na E

1. 54
2. 745
3. 26
4. 369
5. 814
6. 96

Zango na 2 Mako na 7 Darasi na A

1. $300 + 60 + 0$
2. $40 + 2$
3. $500 + 80 + 9$
4. $300 + 40 + 6$
5. $500 + 60 + 7$
6. $800 + 70 + 2$
7. $80 + 7$
8. $30 + 4$
9. $200 + 30 + 1$
10. $100 + 10 + 1$

Zango na 2 Mako na 7 Darasi na C

1. 61
2. 81
3. 86
4. 63
5. 92
6. 40
7. 70

Zango na 2 Mako na 8 Darasi na B

1. 81
2. 96
3. 72
4. 83
5. 90
6. 50
7. 93

Zango na 2 Mako na 8 Darasi na C

1. 99
2. 97
3. 71
4. 71
5. 44

Zango na 2 Mako na 9 Darasi na B

1. 55
2. 5
3. 50
4. 5
5. 50
6. 5
7. 35
8. 40
9. 20
10. 35

Zango na 2 Mako na 9 Darasi na C

1. 11
2. 1
3. 54
4. 40
5. 55
6. 14

Zango na 2 Mako na 10 Darasi na B

1. 19
2. 49
3. 59
4. 19
5. 17
6. 28
7. 59

Zango na 2 Mako na 10 Darasi na C

1. 9
2. 29
3. 47
4. 52
5. 37
6. 3
7. 7

Zango na 2 Mako na 11 Darasi na B

1. 16
2. 59
3. 9
4. 19
5. 8
6. 27
7. 29

Zango na 2 Mako na 11 Darasi na C

1. 37
2. 9
3. 39
4. 69
5. 38
6. 9
7. 34

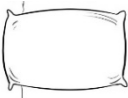


Zango na 3 Mako na 1 Darasi na D

1. ₦5
2. ₦20 + ₦5
3. ₦50

Zango na 3 Mako na 2 Darasi na D

1. $5 \times 6 = 30$
2. $10 \times 3 = 30$
3. $2 \times 8 = 16$
4. $10 \times 5 = 50$
5. $10 \times 2 = 20$
6. $5 \times 5 = 25$
7. $2 \times 2 = 4$
8. $2 \times 12 = 24$

Zango na 3 Mako na 3 Darasi na A

1. 
2. 
3. 

Zango na 3 Mako na 3 Darasi na D

1. Sentimita: 35
2. Sentimita: 17
3. Sentimita: 65

Zango na 3 Mako na 4 Darasi na D

1. Sentimitoci: 75
2. Mitoci: 2

Zango na 3 Mako na 5 Darasi na B

1. Sentimitoci: 45
2. Sentimitoci: 55
3. Sentimitoci: 30

Zango na 3 Mako na 5 Darasi na D

Amina, Nasir, Zahra, Isaac, Abubakar

Zango na 3 Mako na 6 Darasi na B

1. ₦50
2. ₦100
3. ₦170
4. ₦480
5. ₦125
6. ₦610

Zango na 3 Mako na 6 Darasi na C

1. $5 \times 3 = 15$
2. $10 \times 2 = 20$
3. $2 \times 3 = 6$
4. $10 \times 7 = 70$
5. $10 \times 9 = 90$
6. $5 \times 12 = 60$
7. $2 \times 2 = 4$
8. $2 \times 12 = 24$

Zango na 3 Mako na 8 Darasi na C

1. 
2. 
3. 

Zango na 3 Mako na 9 Darasi na B

Yara maza = 10

Yara mata = 8

1. Maza
2. Mata

Zango na 3 Mako na 9 Darasi na D

1. Shekara 7
2. Shekara 9; Shekara 10

